

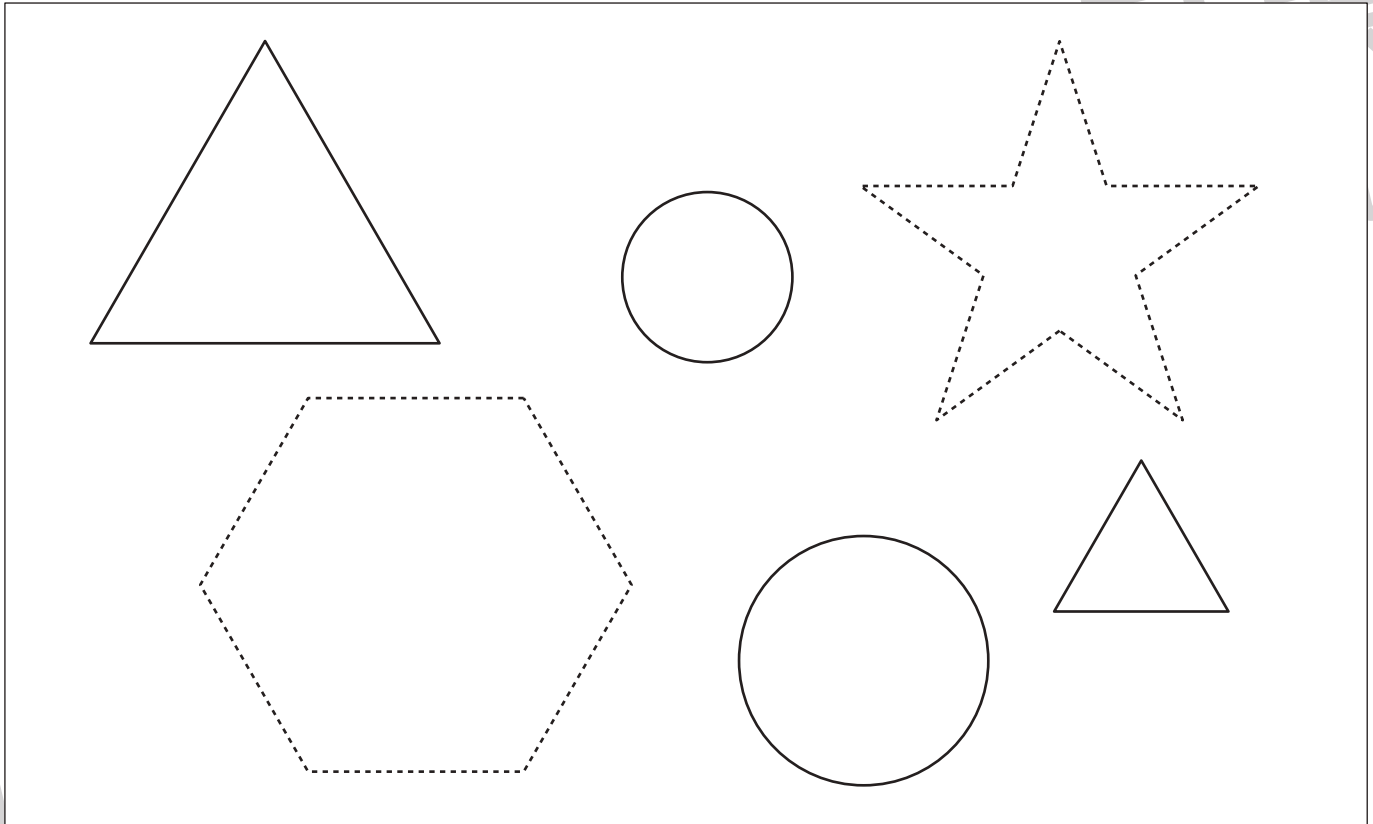


おうちで、やろう。

Study at home. 小学校受験の家庭学習教材

指示の聞き取り 36

- ①点線は黄色のクーピーでなぞります。○は青のクーピーで薄く、△は緑のクーピーで濃く塗ります。
- ②△を左から順番にだんだん大きくなるように5つ鉛筆でかき、真ん中の△は赤で、一番左と一番右の△は青で塗ります。



※1. このプリントは、しながわ・目黒こどもスクールのウェブサイトでダウンロードができます。無断複写・引用はご遠慮ください。
※2. このプリントを活用したオンライン授業のスケジュールは、しながわ・目黒こどもスクールのウェブサイトでご確認ください。





おうちで、やろう。

Study at home. 小学校受験の家庭学習教材

常識：影3

お友だちが外で立っています。

太陽がそれぞれの場所にあるときの影の様子で正しいものには○、間違えているものには×をつけます。



※1. このプリントは、しながわ・目黒こどもスクールのウェブサイトでダウンロードができます。無断複写・引用はご遠慮ください。

※2. このプリントを活用したオンライン授業のスケジュールは、しながわ・目黒こどもスクールのウェブサイトでご確認ください。




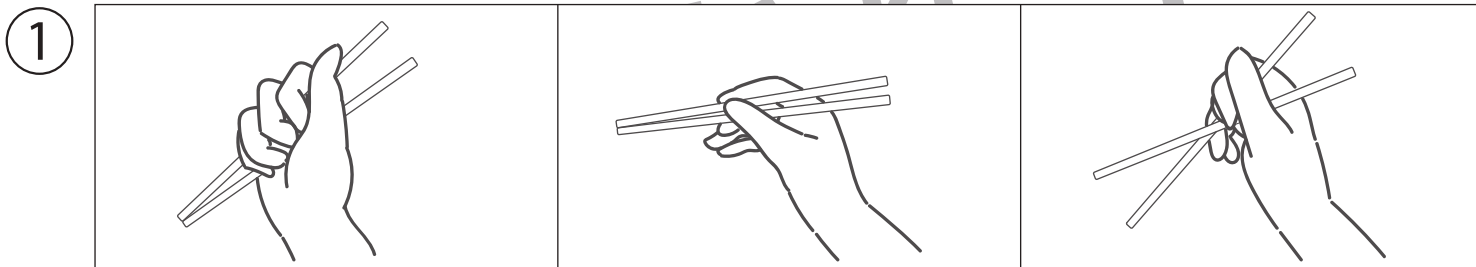


おうちで、やろう。

Study at home. 小学校受験の家庭学習教材

常識：生活3

- ① 箸の持ち方で正しいものに○をつけます。
- ② 配膳の仕方ですべて正しいものに○をつけます。
- ③ 風邪をひいて咳をしているときの様子として正しいものに○をつけます。
- ④ おやつを食べる前の様子として正しいものに○をつけます。
- ⑤ 今日はたくさん雨が降っています。正しい様子に○をつけます。



※1. このプリントは、しながわ・目黒こどもスクールのウェブサイトでダウンロードができます。無断複写・引用はご遠慮ください。
 ※2. このプリントを活用したオンライン授業のスケジュールは、しながわ・目黒こどもスクールのウェブサイトでご確認ください。



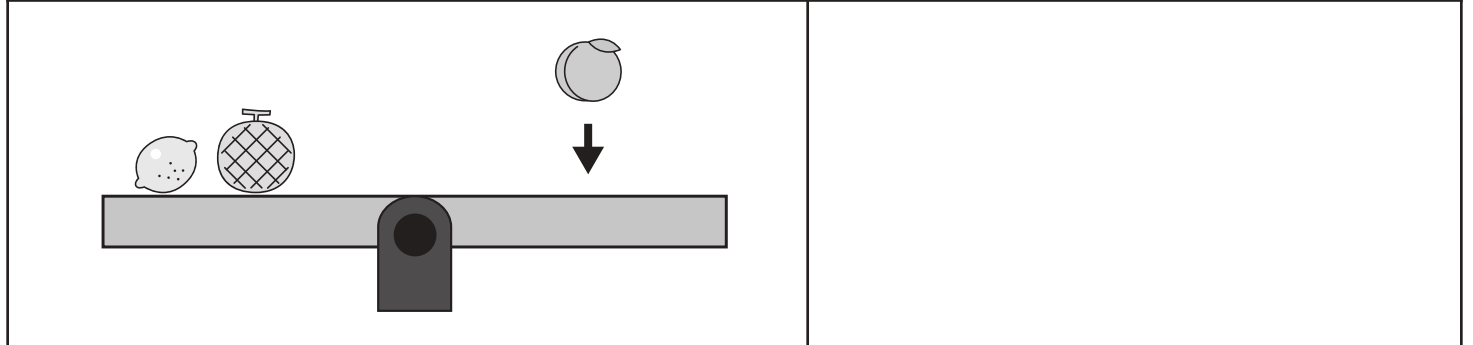
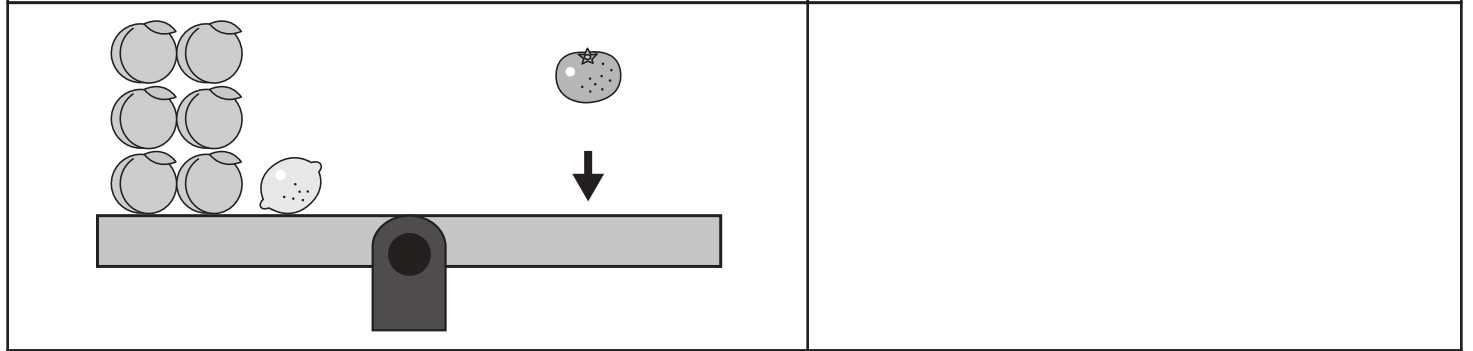
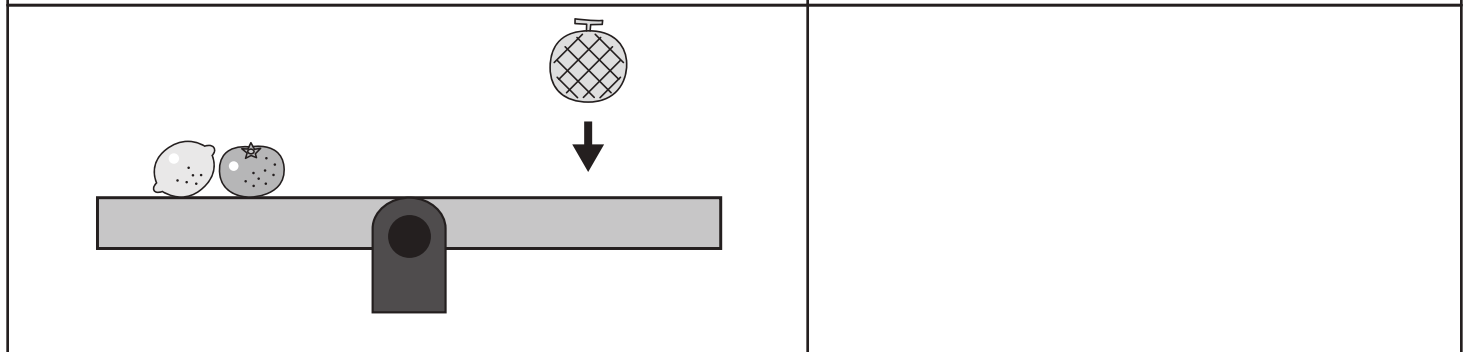
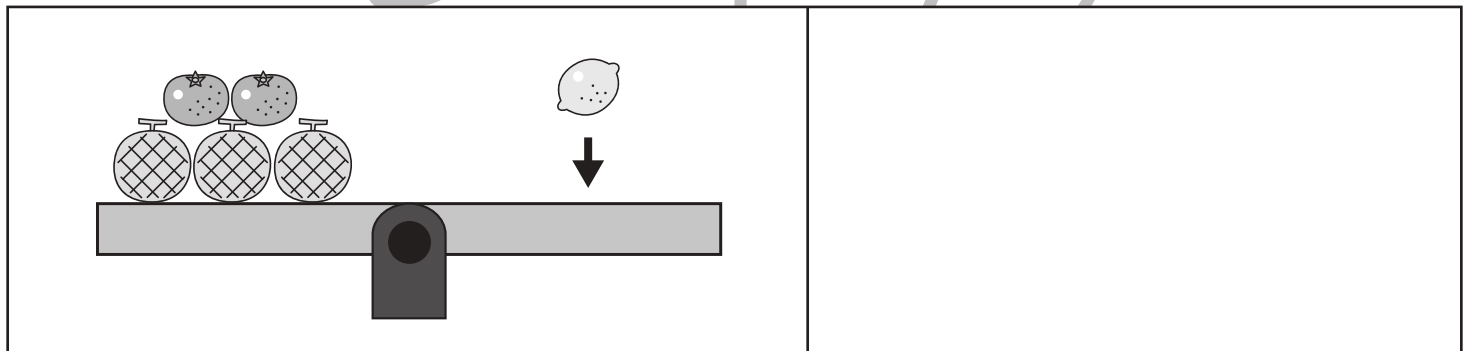
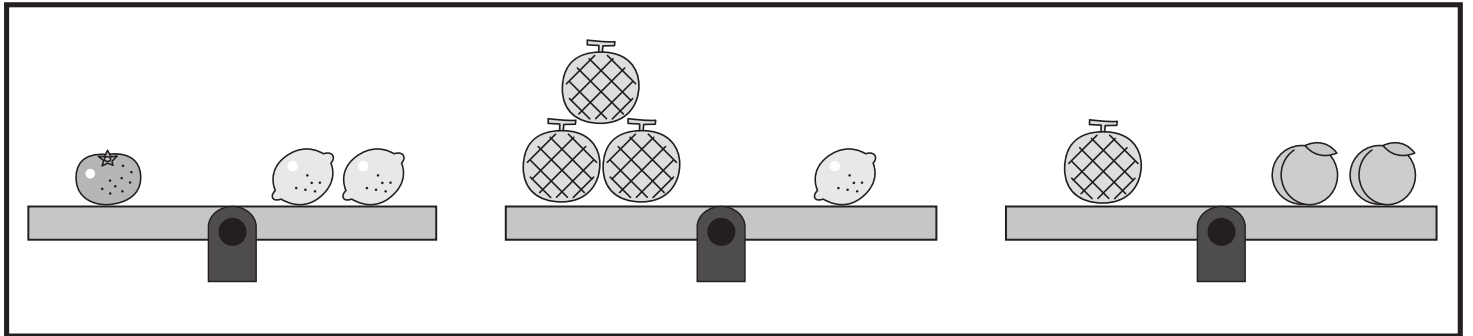
おうちで、やろう。

Study at home. 小学校受験の家庭学習教材

推理：重さの置き換え 16

上の太い四角の中が約束です。

シーソーが釣り合うためには矢印の上の果物をいくつ乗せればよいかを考えて、その数だけ右の四角に○をかきます。



※1. このプリントは、しながわ・目黒こどもスクールのウェブサイトでダウンロードができます。無断複写・引用はご遠慮ください。

※2. このプリントを活用したオンライン授業のスケジュールは、しながわ・目黒こどもスクールのウェブサイトでご確認ください。



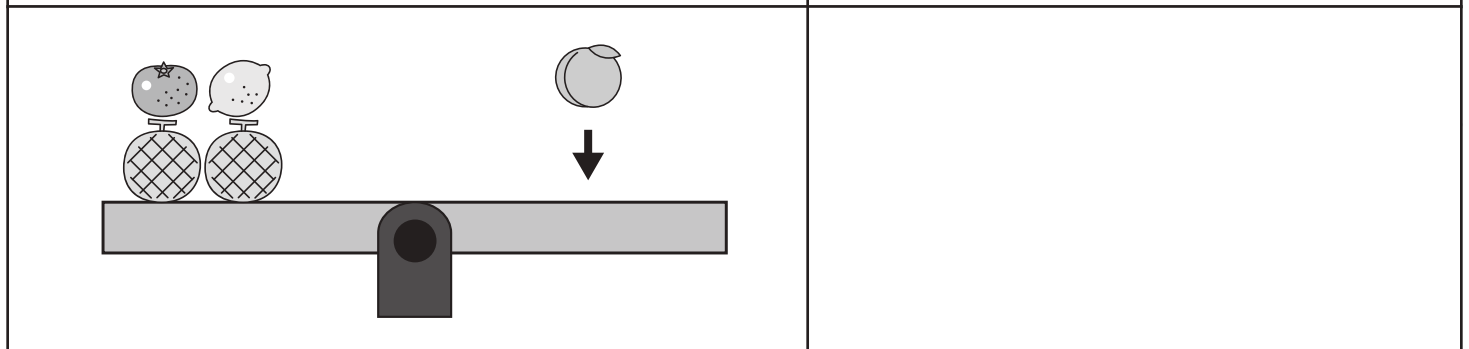
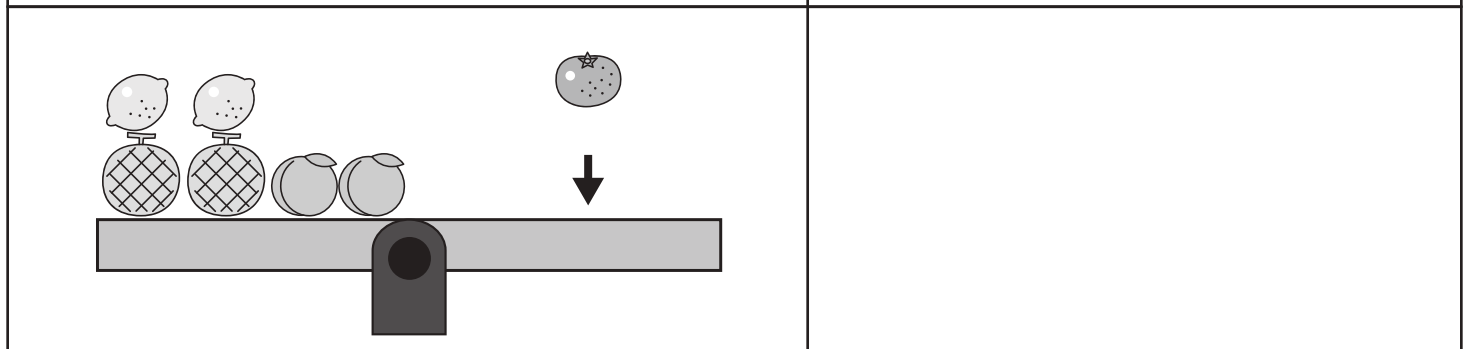
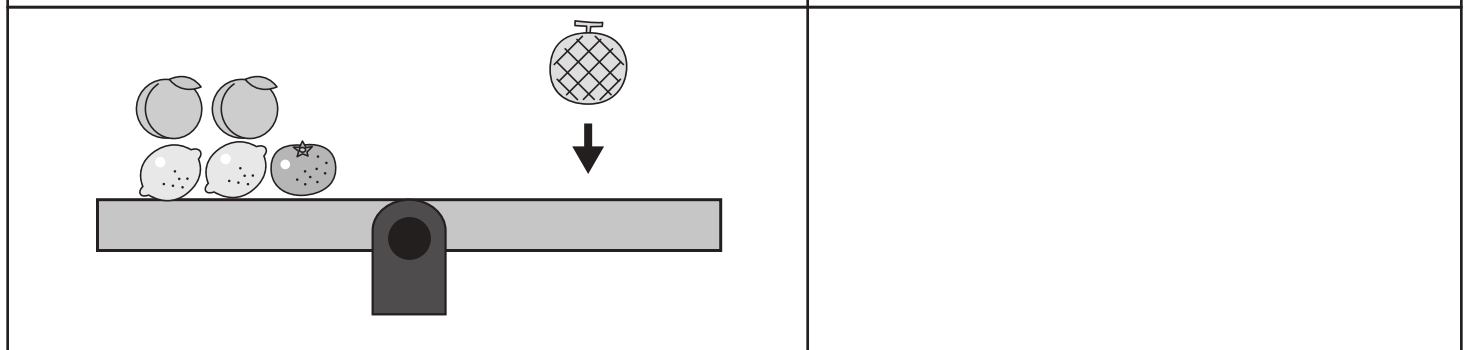
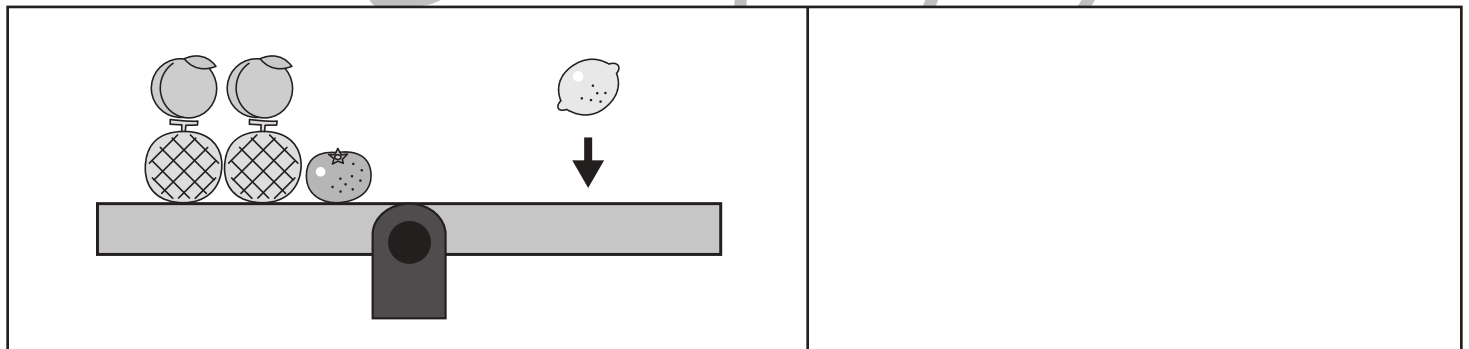
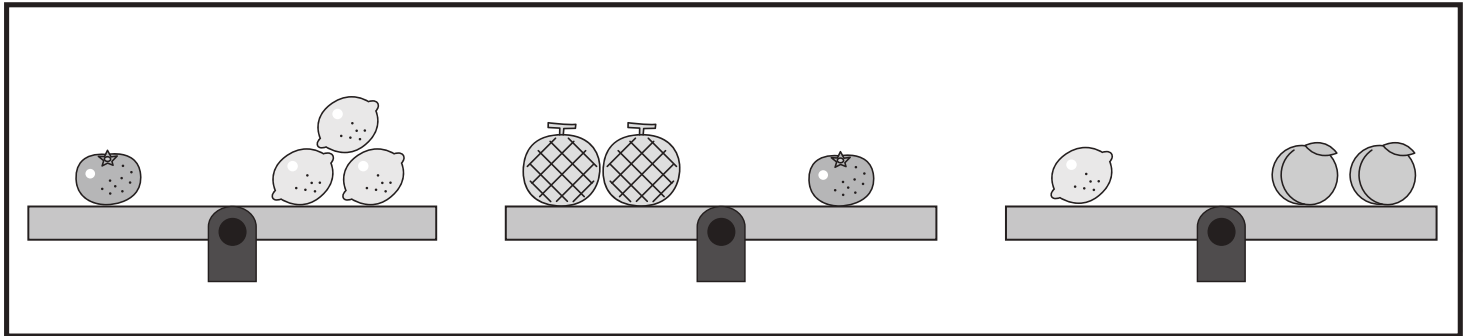
おうちで、やろう。

Study at home. 小学校受験の家庭学習教材

推理：重さの置き換え 16

上の太い四角の中が約束です。

シーソーが釣り合うためには矢印上の果物をいくつ乗せればよいかを考えて、その数だけ右の四角に○をかきます。



※1. このプリントは、しながわ・目黒こどもスクールのウェブサイトでダウンロードができます。無断複写・引用はご遠慮ください。

※2. このプリントを活用したオンライン授業のスケジュールは、しながわ・目黒こどもスクールのウェブサイトでご確認ください。






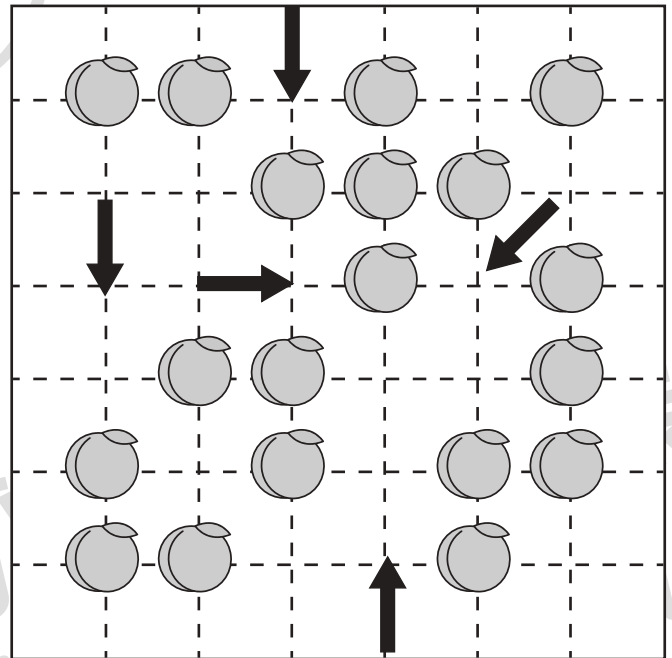

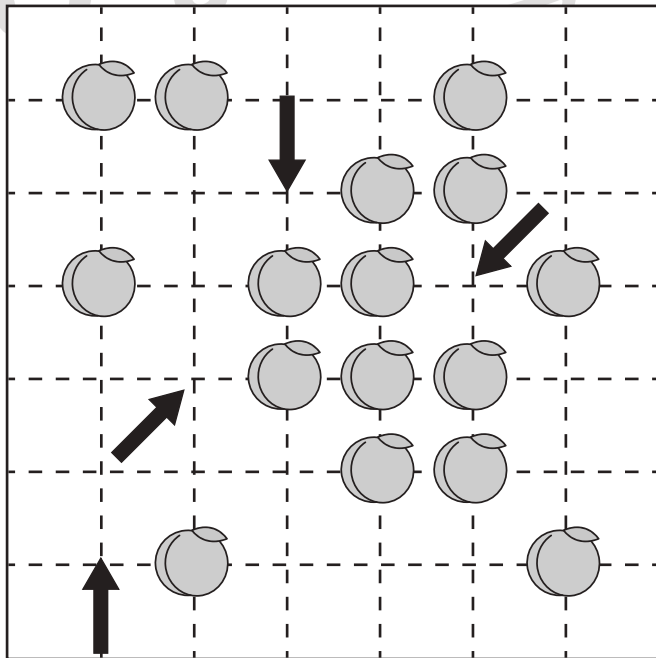

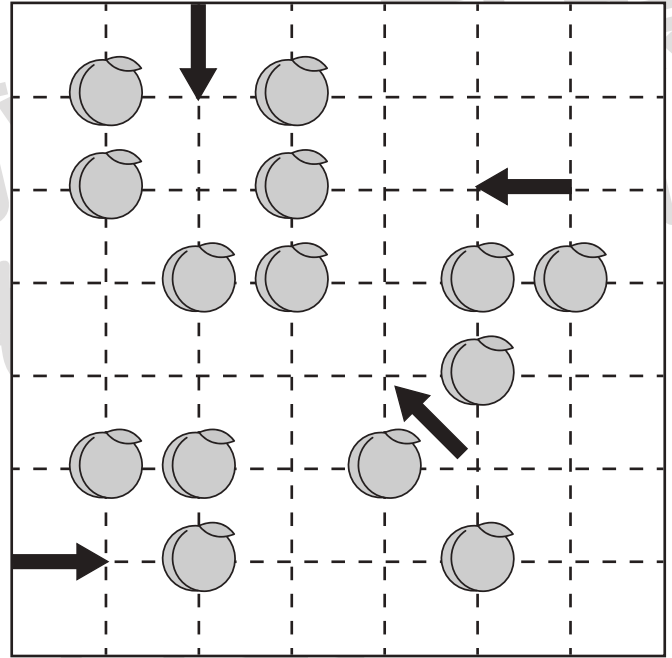

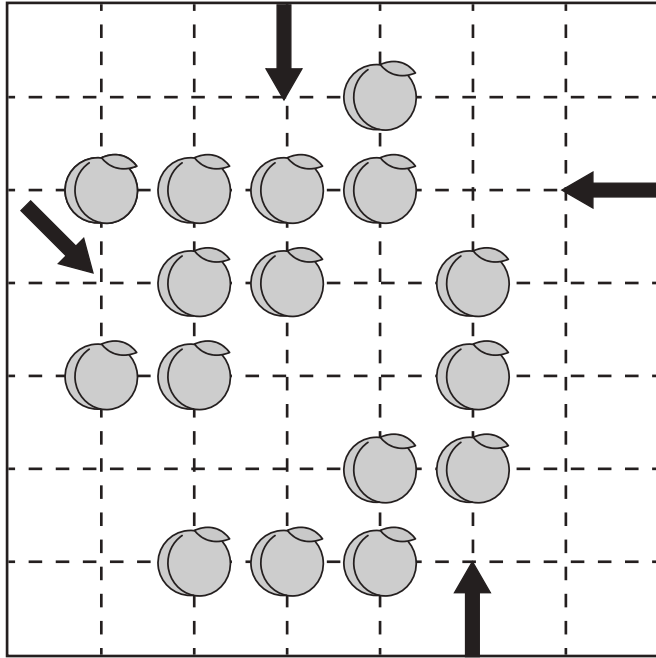
おうちで、やろう。

Study at home. 小学校受験の家庭学習教材

推理：条件推理 19

ルールに沿って果物を拾います。拾わなかった果物の数だけ下の四角に〇をかきましょう。

<ルール>①縦・横・斜めの直線で矢印の方向に進みます。②進む方向は途中で変えられません。③一度拾った果物をもう一度拾うことはできません。



※1. このプリントは、しながわ・目黒こどもスクールのウェブサイトでダウンロードができます。無断複写・引用はご遠慮ください。

※2. このプリントを活用したオンライン授業のスケジュールは、しながわ・目黒こどもスクールのウェブサイトでご確認ください。




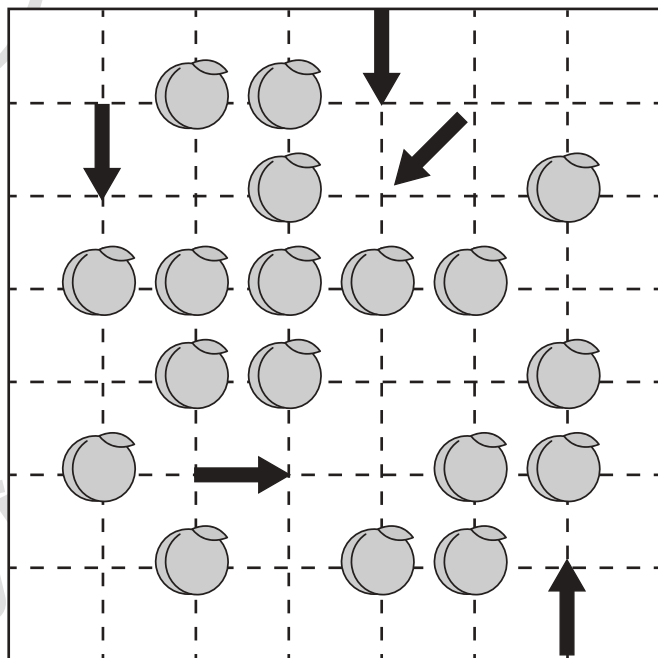

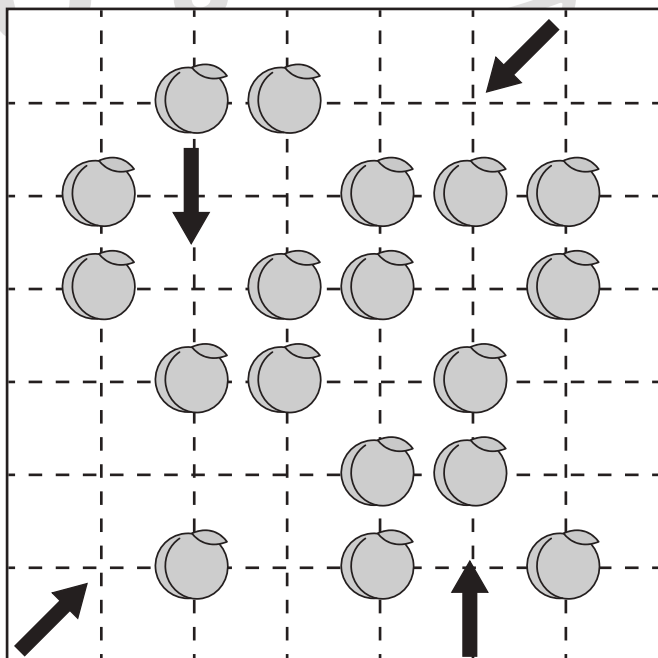
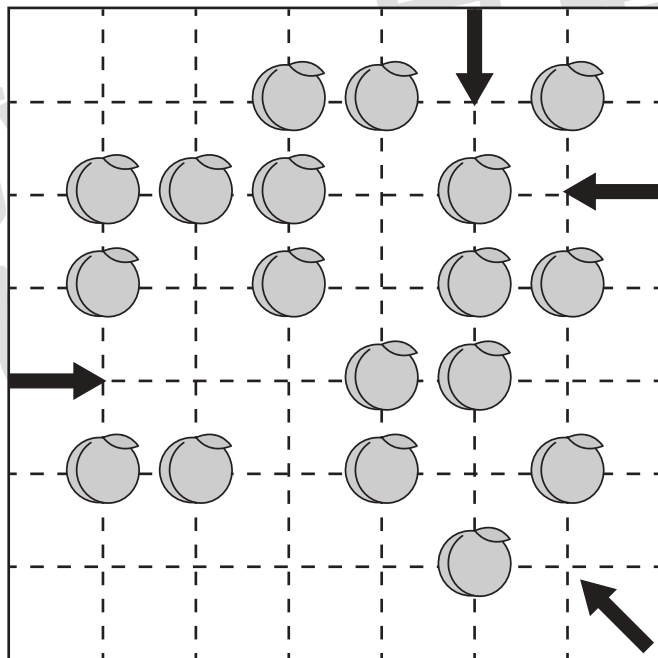

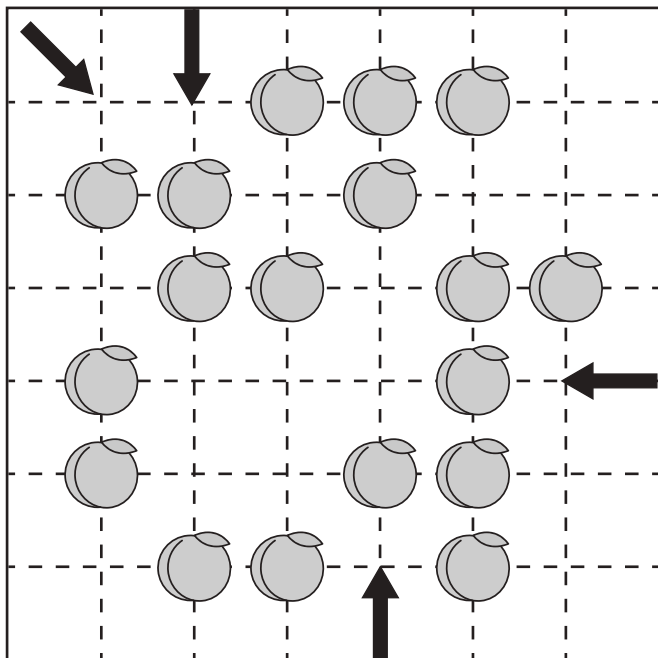
おうちで、やろう。

Study at home. 小学校受験の家庭学習教材

推理：条件推理 20

ルールに沿って果物を拾います。拾った果物の数だけ下の四角に○をかきましょう。

<ルール>①縦・横・斜めの直線で矢印の方向に進みます。②進む方向は途中で変えられません。③一度拾った果物をもう一度拾うことはできません。



※1. このプリントは、しながわ・目黒こどもスクールのウェブサイトでダウンロードができます。無断複写・引用はご遠慮ください。

※2. このプリントを活用したオンライン授業のスケジュールは、しながわ・目黒こどもスクールのウェブサイトでご確認ください。



おうちで、やろう。

Study at home. 小学校受験の家庭学習教材

数量：加減 22

- ① キツネさんはタヌキさんからブドウを6房もらいました。お昼ご飯の後、2房食べました。
キツネさんは何房のブドウを持っていますか。その数だけ四角の中に○をかきます。
- ② ネコさんが3個ミカンを持っています。散歩の途中で八百屋さんで4個ミカンを買って、イヌくんに行って1個あげました。
ネコさんは何個のミカンを持っていますか。その数だけ四角の中に○をかきます。
- ③ ウサギさんは4個リンゴを持っていたので、ネズミさんに2個あげました。その後、ウサギさんのお母さんが3個くれました。
ウサギさんは何個のリンゴを持っていますか。その数だけ四角の中に○をかきます。
- ④ パンダさんはモモを8個買いました。クマちゃんとサルくんに行って2個ずつあげました。
パンダさんは何個のモモを持っていますか。その数だけ四角の中に○をかきます。

①



②



③



④





おうちで、やろう。

Study at home. 小学校受験の家庭学習教材

数量：加減 23

- ① ペンギンさんはお父さんと釣りをしに海に出かけました。ペンギンさんは魚を3匹、お父さんは4匹釣りました。帰り道、クマくんに会ったので、魚を2匹あげました。ペンギンさんとお父さんが家に持ち帰った魚は全部で何匹ですか。その数だけ四角の中に○をかきます。
- ② ヒツジさんは明日遠足に出かけます。おやつを買いに駄菓子屋さんへ行くことにしました。ヒツジさんのお財布の中にコインが10枚入っていましたが、お母さんがお小遣いに5枚コインをくれました。お財布を持って駄菓子屋さんに行き、好きなおやつを4つ買い、駄菓子屋さんのおばあさんにコインを6枚渡しました。ヒツジさんのお財布の中には何枚コインが入っていますか。その数だけ四角の中に○をかきます。
- ③ ソウくんは図書館で絵本を3冊借りています。今日、また図書館に行って絵本を借りたいと思っています。今借りている絵本のうち、1冊返した後、新しい絵本を4冊借りました。ソウくんは絵本を全部で何冊借りていますか。その数だけ四角の中に○をかきます。
- ④ リスさんのお家の庭ではトマトを育てています。実が10個なっています。そのうち4個赤くなっていたので収穫しました。次の日の朝、またトマトを見てみると3個赤くなっていたので収穫すると、収穫していないトマトは残り何個ですか。その数だけ四角の中に○をかきます。

①

②

③

④



おうちで、やろう。

Study at home. 小学校受験の家庭学習教材

絵画：条件画 17

夏に遊びに行きたいところの絵をかきます。自分の絵と一緒に遊びたい人の絵もかきましょう。
描いたあとはどんな絵なのか、お家の人に話してみましょう。(誰がいるのか、何をしているのかなど)
※用紙の向きは縦向きでも横向きでもかまいません。※このプリントに解答はありません。

※1. このプリントは、しながわ・目黒こどもスクールのウェブサイトでダウンロードができます。無断複写・引用はご遠慮ください。
※2. このプリントを活用したオンライン授業のスケジュールは、しながわ・目黒こどもスクールのウェブサイトでご確認ください。