






おうちで、やろう。

Study at home. 小学校受験の家庭学習教材

記憶：絵の記憶 26

別紙『記憶 - 絵の記憶 26 (記憶用紙)』を行う際に使用します。記憶用紙の①～③をそれぞれ 20 秒ずつ記憶してから組みめます。それぞれお手本と同じになるようにかきます。



※1. このプリントは、しながわ・目黒こどもスクールのウェブサイトからダウンロードできます。無断複写・引用はご遠慮ください。

※2. このプリントを活用したオンライン授業のスケジュールは、しながわ・目黒こどもスクールのウェブサイトでご確認ください。

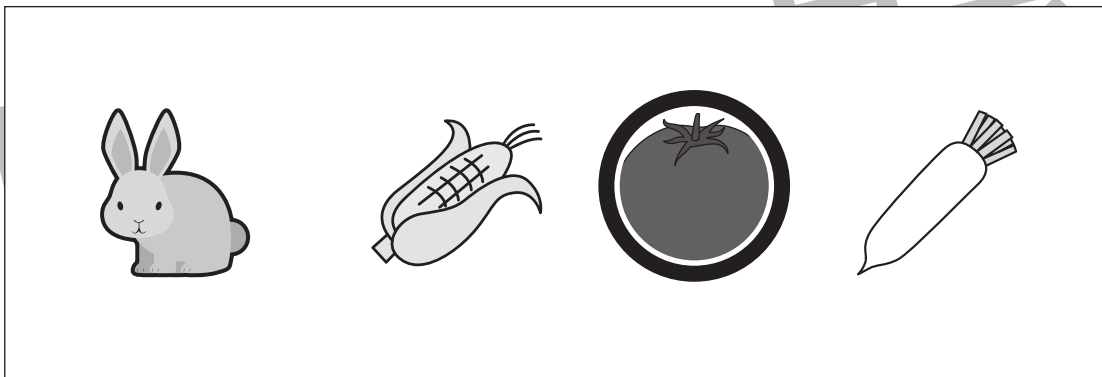
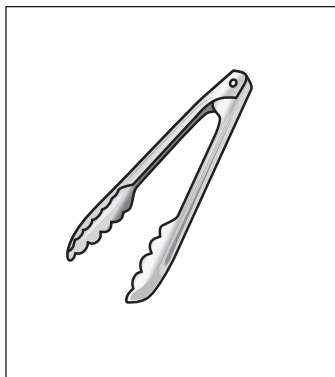



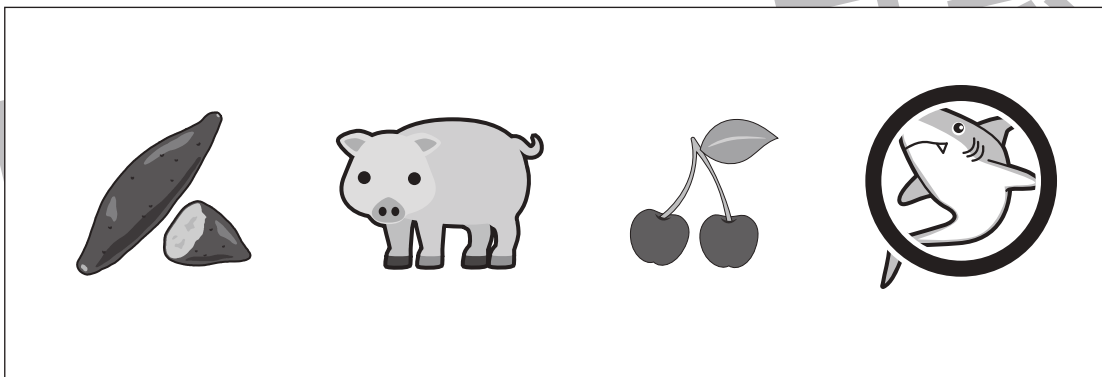



おうちで、やろう。

Study at home. 小学校受験の家庭学習教材

言語：音の理解 36

左の四角の絵がお手本です。このお手本と音の数が同じで、はじめの音も同じものを右に四角から選んで○をつけます。



※1. このプリントは、しながわ・目黒こどもスクールのウェブサイトからダウンロードができます。無断複写・引用はご遠慮ください。

※2. このプリントを活用したオンライン授業のスケジュールは、しながわ・目黒こどもスクールのウェブサイトでご確認ください。





おうちで、やろう。

Study at home. 小学校受験の家庭学習教材

推理：じゃんけん 19

トラとパンダがじゃんけんをします。飴はじゃんけんにつと2つ、あいこは両方に1つずつ、負けはもらうことができません。動物の横に並んだ手の通りに順番にじゃんけんをしていくと、最後に飴を多くもらえるのはどちらですか。多くもらった方の動物の顔に○をつけます。

※1. このプリントは、しながわ・目黒こどもスクールのウェブサイトでダウンロードができます。無断複写・引用はご遠慮ください。
 ※2. このプリントを活用したオンライン授業のスケジュールは、しながわ・目黒こどもスクールのウェブサイトでご確認ください。



おうちで、やろう。

Study at home. 小学校受験の家庭学習教材

推理：じゃんけん 20

トラとパンダがじゃんけんをします。飴はじゃんけんにつと3つ、あいこは両方に2つずつ、負けは1つもらうことができます。動物の横に並んだ手の通りに順番にじゃんけんをしていくと、最後に飴を多くもらえるのはどちらですか。多くもらった方の動物の顔に○をつけます。

※1. このプリントは、しながわ・目黒こどもスクールのウェブサイトでダウンロードができます。無断複写・引用はご遠慮ください。
 ※2. このプリントを活用したオンライン授業のスケジュールは、しながわ・目黒こどもスクールのウェブサイトでご確認ください。



おうちで、やろう。

Study at home. 小学校受験の家庭学習教材

推理：観覧車 4

観覧車に動物が乗っています。左の観覧車が右のように動いた時、記号のついたところにはどの動物がいるかを考えて下の四角にその記号をかきます。

※1. このプリントは、しながわ・目黒こどもスクールのウェブサイトでダウンロードができます。無断複写・引用はご遠慮ください。
 ※2. このプリントを活用したオンライン授業のスケジュールは、しながわ・目黒こどもスクールのウェブサイトでご確認ください。



おうちで、やろう。

Study at home. 小学校受験の家庭学習教材

推理：観覧車 5

観覧車に動物が乗っています。左の観覧車が右のように動いた時、記号のついたところにはどの動物がいるかを考えて下の四角にその記号をかきます。

※1. このプリントは、しながわ・目黒こどもスクールのウェブサイトでダウンロードができます。無断複写・引用はご遠慮ください。

※2. このプリントを活用したオンライン授業のスケジュールは、しながわ・目黒こどもスクールのウェブサイトでご確認ください。



おうちで、やろう。

Study at home. 小学校受験の家庭学習教材

推理：観覧車 6

観覧車に動物が乗っています。左の観覧車が右のように動いた時、記号のついたところにはどの動物がいるかを考えて下の四角にその記号をかきます。

※1. このプリントは、しながわ・目黒こどもスクールのウェブサイトからダウンロードができます。無断複写・引用はご遠慮ください。
 ※2. このプリントを活用したオンライン授業のスケジュールは、しながわ・目黒こどもスクールのウェブサイトでご確認ください。



おうちで、やろう。

Study at home. 小学校受験の家庭学習教材

数量：複合2

横に並んだ4つの四角の中の野菜のうち、数が一番多いものと一番少ないものの数を合わせるといくつになりますか。合わせた数だけ、右の四角の中に○をかきます。

				$\bigcirc \times 6$
--	--	--	--	---------------------

				$\bigcirc \times 8$
--	--	--	--	---------------------

				$\bigcirc \times 11$
--	--	--	--	----------------------

				$\bigcirc \times 11$
--	--	--	--	----------------------

※1. このプリントは、しながわ・目黒こどもスクールのウェブサイトでダウンロードができます。無断複写・引用はご遠慮ください。
 ※2. このプリントを活用したオンライン授業のスケジュールは、しながわ・目黒こどもスクールのウェブサイトでご確認ください。



おうちで、やろう。

Study at home. 小学校受験の家庭学習教材

数量：複合 3

横に並んだ4つの四角の中の野菜のうち、数が1番目に多いものと2番目に少ないものの数を合わせるといくつになりますか。合わせた数だけ、右の四角の中に○をかきます。

				$\bigcirc \times 13$
--	--	--	--	----------------------

				$\bigcirc \times 12$
--	--	--	--	----------------------

				$\bigcirc \times 15$
--	--	--	--	----------------------

				$\bigcirc \times 17$
--	--	--	--	----------------------

※1. このプリントは、しながわ・目黒こどもスクールのウェブサイトでダウンロードができます。無断複写・引用はご遠慮ください。
 ※2. このプリントを活用したオンライン授業のスケジュールは、しながわ・目黒こどもスクールのウェブサイトでご確認ください。