



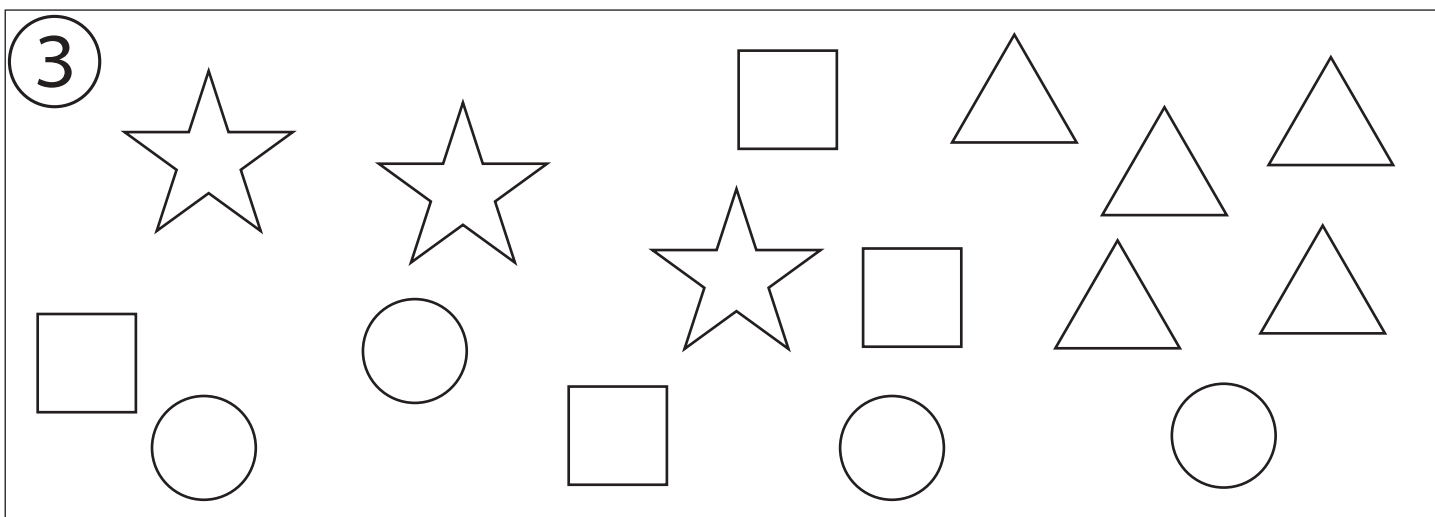
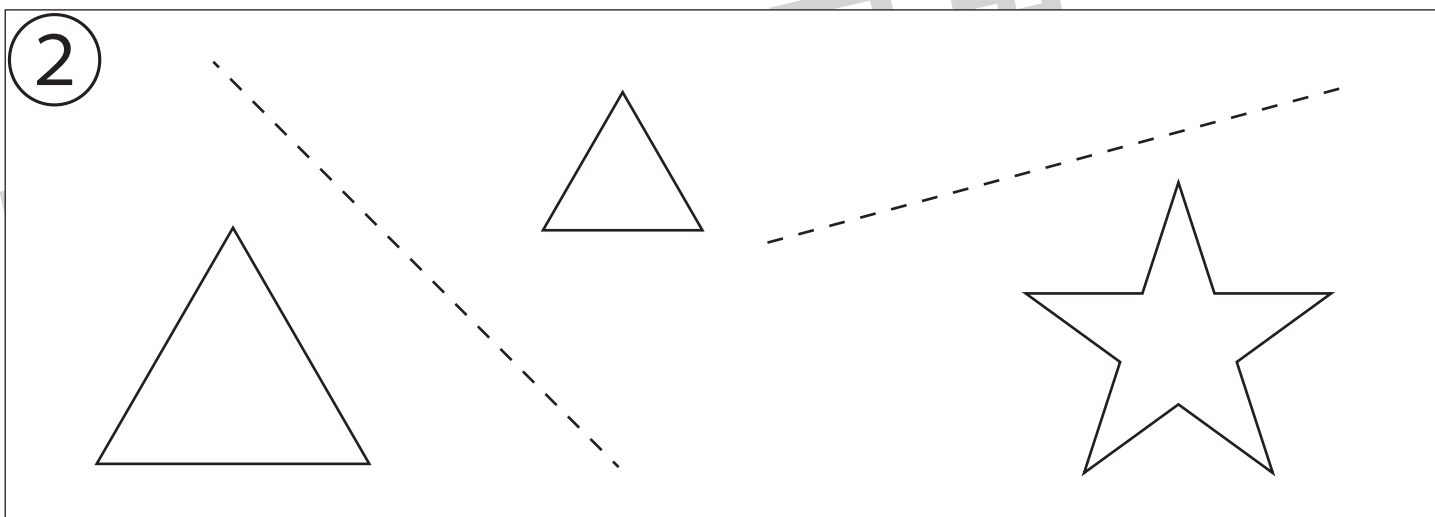

# おうちで、やろう。

Study at home. 小学校受験の家庭学習教材

## 指示の聞き取り 38

お話を聞いて線をかいたり記号をかいたりします。

- ①太い四角の中に青色のクーピーで○を3つ横に並べてかきます。
- ②点線を鉛筆でなぞり、☆は赤色のクーピーで薄く、△も緑色のクーピーで薄く塗ります。
- ③色々の形の中で△を5つまとめて紫色のクーピーで囲み、○を黄色のクーピーで塗ります。



※1. このプリントは、しながわ・目黒こどもスクールのウェブサイトでダウンロードができます。無断複写・引用はご遠慮ください。  
※2. このプリントを活用したオンライン授業のスケジュールは、しながわ・目黒こどもスクールのウェブサイトでご確認ください。




# おうちで、やろう。

Study at home. 小学校受験の家庭学習教材

## 常識：昔話 3

左の四角と右の四角の中の絵で、それぞれ同じ昔話同士の絵の点と点を線で結びます。



ながわ  
どもス  
わ・目黒  
スクー  
ながわ  
どもス

※1. このプリントは、しながわ・目黒こどもスクールのウェブサイトからダウンロードできます。無断複写・引用はご遠慮ください。  
 ※2. このプリントを活用したオンライン授業のスケジュールは、しながわ・目黒こどもスクールのウェブサイトでご確認ください。







# おうちで、やろう。

Study at home. 小学校受験の家庭学習教材

## 図形：パズル 1

左のパズルを完成させるために、必要なパズルピースを右の四角の中から選びます。答えは左のパズルの記号を、パズルピースにかきましょう。



※1. このプリントは、しながわ・目黒こどもスクールのウェブサイトでダウンロードができます。無断複写・引用はご遠慮ください。  
※2. このプリントを活用したオンライン授業のスケジュールは、しながわ・目黒こどもスクールのウェブサイトでご確認ください。









# おうちで、やろう。

Study at home. 小学校受験の家庭学習教材

## 図形：パズル 2

左のパズルを完成させるために、必要なパズルピースを右の四角の中から選びます。答えは左のパズルの記号を、パズルピースにかきましょう。



※1. このプリントは、しながわ・目黒こどもスクールのウェブサイトでダウンロードができます。無断複写・引用はご遠慮ください。  
※2. このプリントを活用したオンライン授業のスケジュールは、しながわ・目黒こどもスクールのウェブサイトでご確認ください。







# おうちで、やろう。



Study at home. 小学校受験の家庭学習教材

推理：観覧車7

左の太い四角が約束です。観覧車に動物が乗っています。お手本の観覧車が真ん中のように動いた時、記号のついたところにはどの動物がいるかを考えて一番左の四角にその記号をかきます。




※1. このプリントは、しながわ・目黒こどもスクールのウェブサイトでダウンロードができます。無断複写・引用はご遠慮ください。  
※2. このプリントを活用したオンライン授業のスケジュールは、しながわ・目黒こどもスクールのウェブサイトでご確認ください。






# おうちで、やろう。



Study at home. 小学校受験の家庭学習教材

## 推理：観覧車8

左の太い四角が約束です。観覧車に動物が乗っています。お手本の観覧車が真ん中のように動いた時、記号のついたところにはどの動物がいるかを考えて一番左の四角にその記号をかきます。




※1. このプリントは、しながわ・目黒こどもスクールのウェブサイトでダウンロードができます。無断複写・引用はご遠慮ください。  
 ※2. このプリントを活用したオンライン授業のスケジュールは、しながわ・目黒こどもスクールのウェブサイトでご確認ください。



# おうちで、やろう。

Study at home. 小学校受験の家庭学習教材

数量：複合4

横に並んだ4つの四角の中の絵のうち、数が2番目に多いものと2番目に少ないものの数を合わせるといくつになりますか。合わせた数だけ、右の四角の中に○をかきます。

--	--	--	--	--

--	--	--	--	--

--	--	--	--	--

--	--	--	--	--

※1. このプリントは、しながわ・目黒こどもスクールのウェブサイトでダウンロードができます。無断複写・引用はご遠慮ください。  
 ※2. このプリントを活用したオンライン授業のスケジュールは、しながわ・目黒こどもスクールのウェブサイトでご確認ください。



# おうちで、やろう。

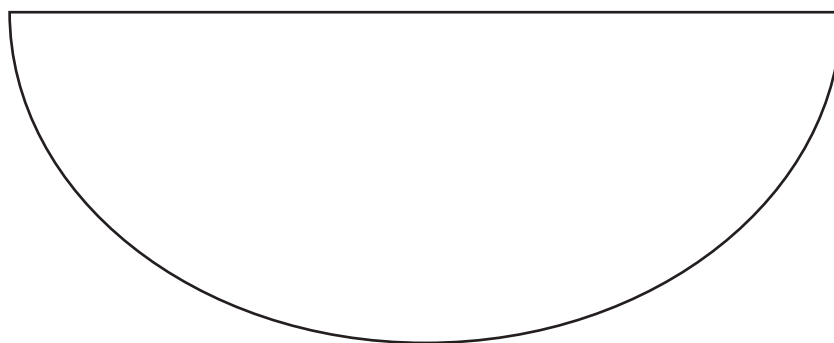
Study at home. 小学校受験の家庭学習教材

絵画：条件画 18

半円を変身させてクーピーで絵をかきましょう。

描いたあとはどんな絵なのか、お家の人に話してみましょう。(何の絵をかいたのか、何をしているのかなど)

※用紙の向きは縦向きでも横向きでもかまいません。※このプリントに解答はありません。



※1. このプリントは、しながわ・目黒こどもスクールのウェブサイトからダウンロードできます。無断複写・引用はご遠慮ください。

※2. このプリントを活用したオンライン授業のスケジュールは、しながわ・目黒こどもスクールのウェブサイトでご確認ください。



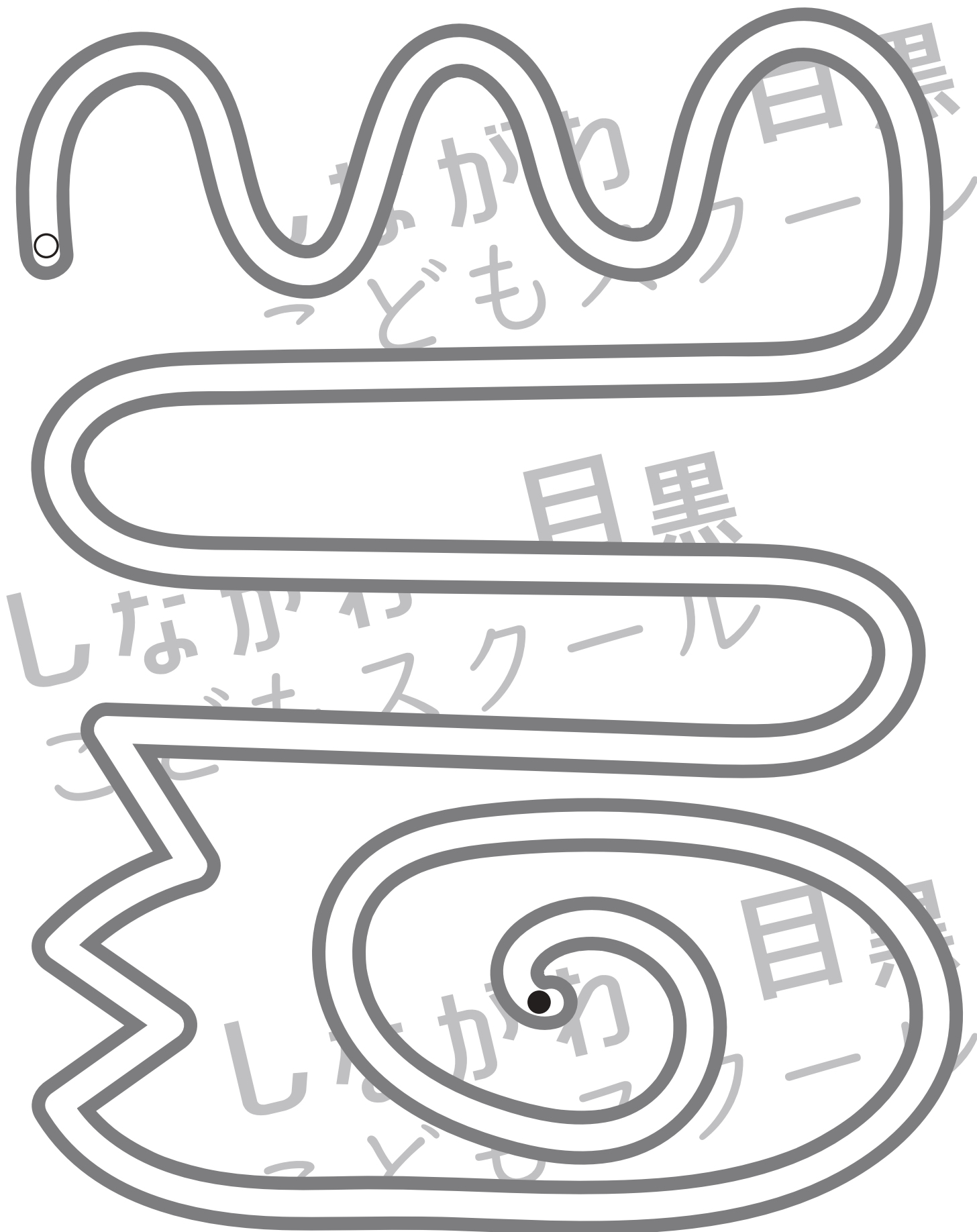


# おうちで、やろう。

Study at home. 小学校受験の家庭学習教材

処理：運筆 17

●から○まで一本の線をかきます。この時、壁にぶつからないようにきれいに素早く線をかきます。(1分～1分30秒)  
※この問題に解答はありません。



※1. このプリントは、しながわ・目黒こどもスクールのウェブサイトでダウンロードができます。無断複写・引用はご遠慮ください。  
※2. このプリントを活用したオンライン授業のスケジュールは、しながわ・目黒こどもスクールのウェブサイトでご確認ください。



# おうちで、やろう。

Study at home. 小学校受験の家庭学習教材

## □頭試問7


左の四角の中の絵を見て右の質問に答えましょう。お子さまが答えたことは保護者の方が記入してください。  
※この問題に解答はありません。



①背の高いお友だちが小さいお友だちのおもちゃを取ってしまいました。あなたがその場所にいたらどんな言葉をかけますか。



②園庭の隅で一人で遊んでいるお友だちがいました。少し寂しそうです。あなたがその場所にいたらどんな言葉をかけますか。



①ヒーローの恰好をした男の子が棒で他のお友だちを叩いています。あなたがその場所にいたらどんな言葉をかけますか。

※1. このプリントは、しながわ・目黒こどもスクールのウェブサイトでダウンロードができます。無断複写・引用はご遠慮ください。

※2. このプリントを活用したオンライン授業のスケジュールは、しながわ・目黒こどもスクールのウェブサイトでご確認ください。