



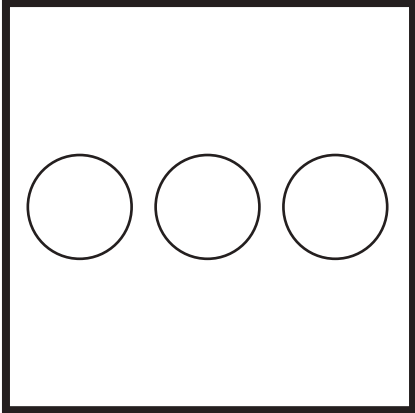
おうちで、やろう。

Study at home. 小学校受験の家庭学習教材

お話を聞いて線をかいたり記号をかいたりします。

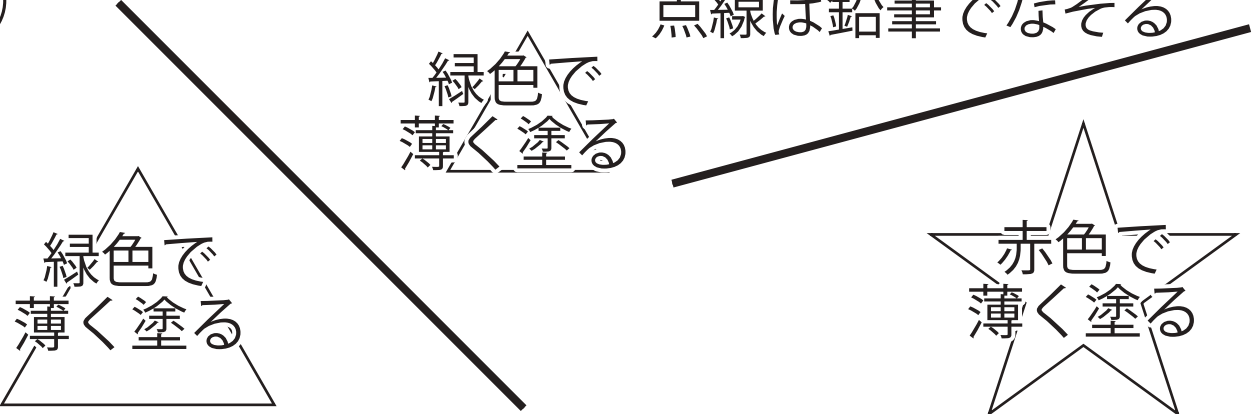
- ①太い四角の中に青色のクーピーで○を3つ横に並べてかきます。
- ②点線を鉛筆でなぞり、☆は赤色のクーピーで薄く、△も緑色のクーピーで薄く塗ります。
- ③色々の形の中で△を5つまとめて紫色のクーピーで囲み、○を黄色のクーピーで塗ります。

①



青色で○をかく

②

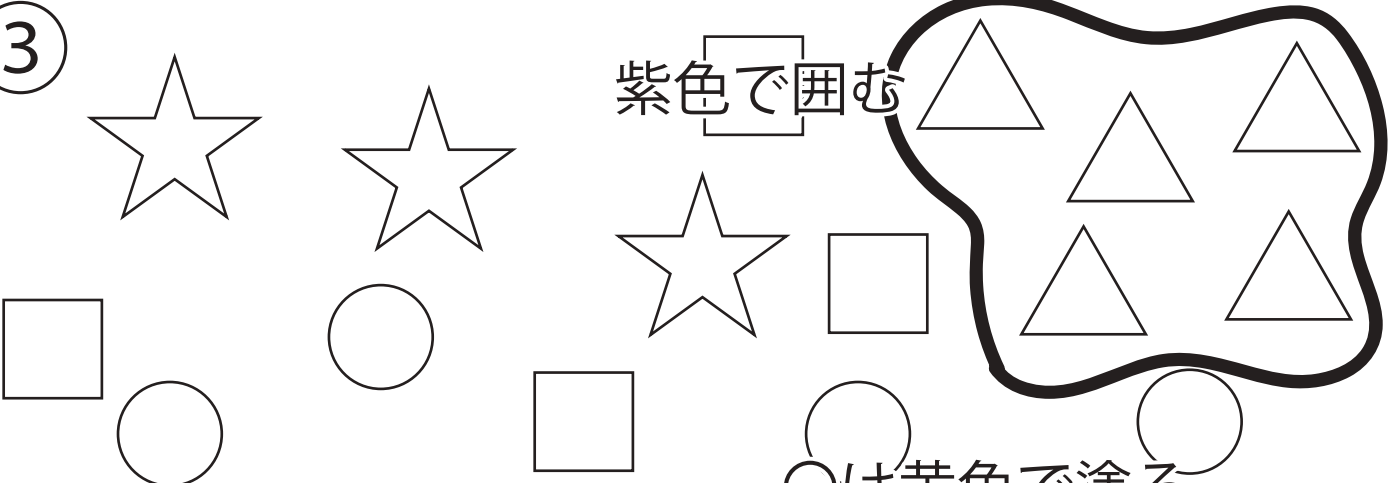


点線は鉛筆でなぞる

緑色で薄く塗る

赤色で薄く塗る

③



紫色で囲む

○は黄色で塗る

※1. このプリントは、しながわ・目黒こどもスクールのウェブサイトでダウンロードができます。無断複写・引用はご遠慮ください。
 ※2. このプリントを活用したオンライン授業のスケジュールは、しながわ・目黒こどもスクールのウェブサイトでご確認ください。



おうちで、やろう。

Study at home. 小学校受験の家庭学習教材

常識：昔話 3

左の四角と右の四角の中の絵で、それぞれ同じ昔話同士の絵の点と点を線で結びます。

※1. このプリントは、しながわ・目黒こどもスクールのウェブサイトからダウンロードできます。無断複写・引用はご遠慮ください。

※2. このプリントを活用したオンライン授業のスケジュールは、しながわ・目黒こどもスクールのウェブサイトでご確認ください。







おうちで、やろう。

Study at home. 小学校受験の家庭学習教材

図形：パズル 1

左のパズルを完成させるために、必要なパズルピースを右の四角の中から選びます。答えは左のパズルの記号を、パズルピースにかきましょう。



※1. このプリントは、しながわ・目黒こどもスクールのウェブサイトでダウンロードができます。無断複写・引用はご遠慮ください。
※2. このプリントを活用したオンライン授業のスケジュールは、しながわ・目黒こどもスクールのウェブサイトでご確認ください。







おうちで、やろう。

Study at home. 小学校受験の家庭学習教材

図形：パズル 2

左のパズルを完成させるために、必要なパズルピースを右の四角の中から選びます。答えは左のパズルの記号を、パズルピースにかきましょう。



※1. このプリントは、しながわ・目黒こどもスクールのウェブサイトでダウンロードができます。無断複写・引用はご遠慮ください。
※2. このプリントを活用したオンライン授業のスケジュールは、しながわ・目黒こどもスクールのウェブサイトでご確認ください。







おうちで、やろう。



Study at home. 小学校受験の家庭学習教材

推理：観覧車7

左の太い四角が約束です。観覧車に動物が乗っています。お手本の観覧車が真ん中のように動いた時、記号のついたところにはどの動物がいるかを考えて一番左の四角にその記号をかきます。







※1. このプリントは、しながわ・目黒こどもスクールのウェブサイトでダウンロードができます。無断複写・引用はご遠慮ください。
※2. このプリントを活用したオンライン授業のスケジュールは、しながわ・目黒こどもスクールのウェブサイトでご確認ください。








おうちで、やろう。



Study at home. 小学校受験の家庭学習教材

推理：観覧車8

左の太い四角が約束です。観覧車に動物が乗っています。お手本の観覧車が真ん中のように動いた時、記号のついたところにはどの動物がいるかを考えて一番左の四角にその記号をかきます。







※1. このプリントは、しながわ・目黒こどもスクールのウェブサイトでダウンロードができます。無断複写・引用はご遠慮ください。
 ※2. このプリントを活用したオンライン授業のスケジュールは、しながわ・目黒こどもスクールのウェブサイトでご確認ください。



おうちで、やろう。

Study at home. 小学校受験の家庭学習教材

数量：複合4

横に並んだ4つの四角の中の絵のうち、数が2番目に多いものと2番目に少ないものの数を合わせるといくつになりますか。合わせた数だけ、右の四角の中に○をかきます。

				$\bigcirc \times 15$
--	--	--	--	----------------------

				$\bigcirc \times 16$
--	--	--	--	----------------------

				$\bigcirc \times 15$
--	--	--	--	----------------------

				$\bigcirc \times 17$
--	--	--	--	----------------------

※1. このプリントは、しながわ・目黒こどもスクールのウェブサイトでダウンロードができます。無断複写・引用はご遠慮ください。
 ※2. このプリントを活用したオンライン授業のスケジュールは、しながわ・目黒こどもスクールのウェブサイトでご確認ください。