




おうちで、やろう。

Study at home. 小学校受験の家庭学習教材

言語：数え方9

左上の太い四角と同じ数え方をするものの絵を四角の中から選んで○をつけます。



※1. このプリントは、しながわ・目黒こどもスクールのウェブサイトからダウンロードできます。無断複写・引用はご遠慮ください。
※2. このプリントを活用したオンライン授業のスケジュールは、しながわ・目黒こどもスクールのウェブサイトでご確認ください。





おうちで、やろう。

Study at home. 小学校受験の家庭学習教材

常識：仲間外れ2

四角の中の絵で仲間ではないものを右の四角の中から見つけて○をつけます。
どうして仲間ではないと思ったか理由もお話しましょう。

理由：

理由：

理由：

理由：

理由：

※1. このプリントは、しながわ・目黒こどもスクールのウェブサイトからダウンロードできます。無断複写・引用はご遠慮ください。
 ※2. このプリントを活用したオンライン授業のスケジュールは、しながわ・目黒こどもスクールのウェブサイトでご確認ください。



おうちで、やろう。

Study at home. 小学校受験の家庭学習教材

推理：歯車1

左の四角の絵で黒い歯車や灰色の歯車が矢印の方向に回転するとき、白い歯車はどのように回転するか考えて右から選んで○をつけます。

※1. このプリントは、しながわ・目黒こどもスクールのウェブサイトからダウンロードできます。無断複写・引用はご遠慮ください。

※2. このプリントを活用したオンライン授業のスケジュールは、しながわ・目黒こどもスクールのウェブサイトでご確認ください。



おうちで、やろう。

Study at home. 小学校受験の家庭学習教材

推理：条件推理 23

上の四角の中の形が矢印の方向へ落ち、下のマスに順番に入ります。ただし、太い二本線を通ると丸い形は消えてしまいます。この約束ですべての形を落とした後の様子を下の四角にかきます。

△	▶	○
■	○	●
○	▼	□

↓ ↓ ↓

□	△	●
●	▼	□
◀	■	▶

↓ ↓ ↓

●	□	▲
△	●	○
□	●	▶

↓ ↓ ↓

●	▲	▽
○	□	▶
■	●	■

↓ ↓ ↓

○	●	▽
▼	■	▶
□	▼	○

↓ ↓ ↓

▼	□	△
◀	▲	▶
●	○	■

↓ ↓ ↓

□	●	▶
●	◀	○
▶	▲	■

↓ ↓ ↓

◀	▼	●
○	■	□
■	△	●

↓ ↓ ↓

※1. このプリントは、しながわ・目黒こどもスクールのウェブサイトでダウンロードができます。無断複写・引用はご遠慮ください。
※2. このプリントを活用したオンライン授業のスケジュールは、しながわ・目黒こどもスクールのウェブサイトでご確認ください。



おうちで、やろう。

Study at home. 小学校受験の家庭学習教材

推理：条件推理 24

上の四角の中の形が矢印の方向へ落ち、下のマスに順番に入ります。ただし、太い二本線を通ると星と三角は消えてしまいます。この約束ですべての形を落とした後の様子を下の四角にかきます。

●	○	☆
△	▽	■
★	▶	○

○	★	■
☆	△	◀
▽	●	□

□	★	▶
●	○	◀
☆	△	□

●	▶	○
☆	▲	□
△	●	★

●	★	■
▶	○	▲
●	□	▽

★	▽	□
○	●	▽
▶	○	☆

□	○	◀
▽	☆	■
■	●	★

▽	☆	△
□	▶	■
★	●	▲

※1. このプリントは、しながわ・目黒こどもスクールのウェブサイトでダウンロードができます。無断複写・引用はご遠慮ください。
※2. このプリントを活用したオンライン授業のスケジュールは、しながわ・目黒こどもスクールのウェブサイトでご確認ください。















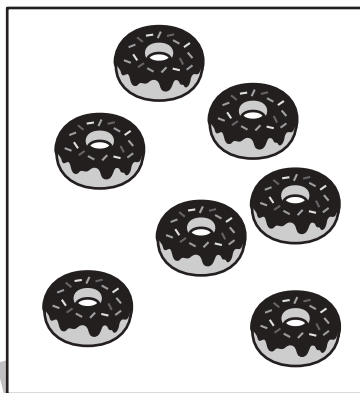







おうちで、やろう。

Study at home. 小学校受験の家庭学習教材

数量：合わせた数 18

左の四角がお手本です。お手本と同じ数にするにはどの四角を選ばよいか考えて2つ〇をつけます。



※1. このプリントは、しながわ・目黒こどもスクールのウェブサイトでダウンロードができます。無断複写・引用はご遠慮ください。
※2. このプリントを活用したオンライン授業のスケジュールは、しながわ・目黒こどもスクールのウェブサイトでご確認ください。



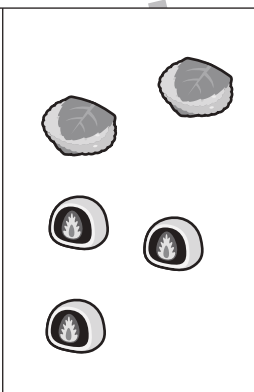

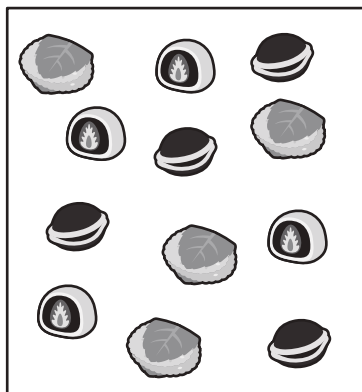








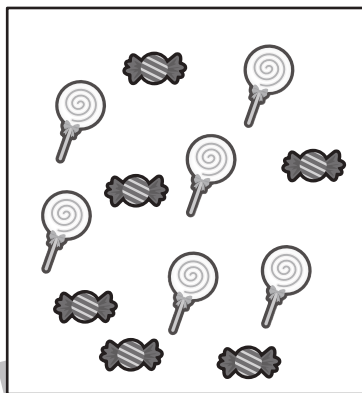
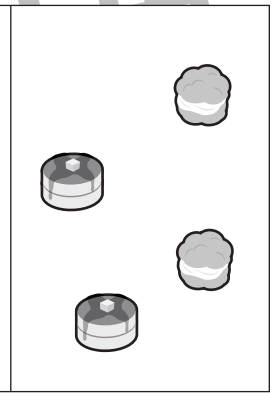
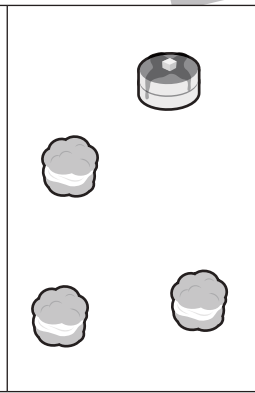
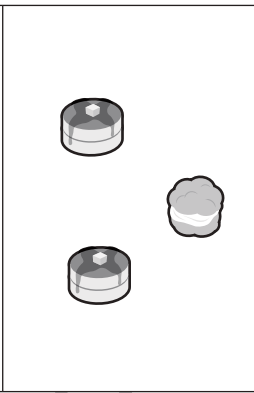
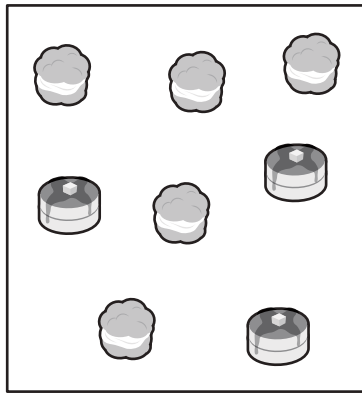


おうちで、やろう。

Study at home. 小学校受験の家庭学習教材

数量：合わせた数 19

左の四角がお手本です。お手本と同じ数にするにはどの四角を選ばよいか考えて2つ〇をつけます。



※1. このプリントは、しながわ・目黒こどもスクールのウェブサイトからダウンロードできます。無断複写・引用はご遠慮ください。

※2. このプリントを活用したオンライン授業のスケジュールは、しながわ・目黒こどもスクールのウェブサイトでご確認ください。






おうちで、やろう。

Study at home. 小学校受験の家庭学習教材

処理：運筆 18

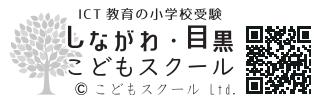
●から○まで一本の線をかきます。この時、壁にぶつからないようにきれいに素早く線をかきます。(1分～1分30秒)

※この問題に解答はありません。



※1. このプリントは、しながわ・目黒こどもスクールのウェブサイトでダウンロードができます。無断複写・引用はご遠慮ください。

※2. このプリントを活用したオンライン授業のスケジュールは、しながわ・目黒こどもスクールのウェブサイトでご確認ください。






おうちで、やろう。

Study at home. 小学校受験の家庭学習教材

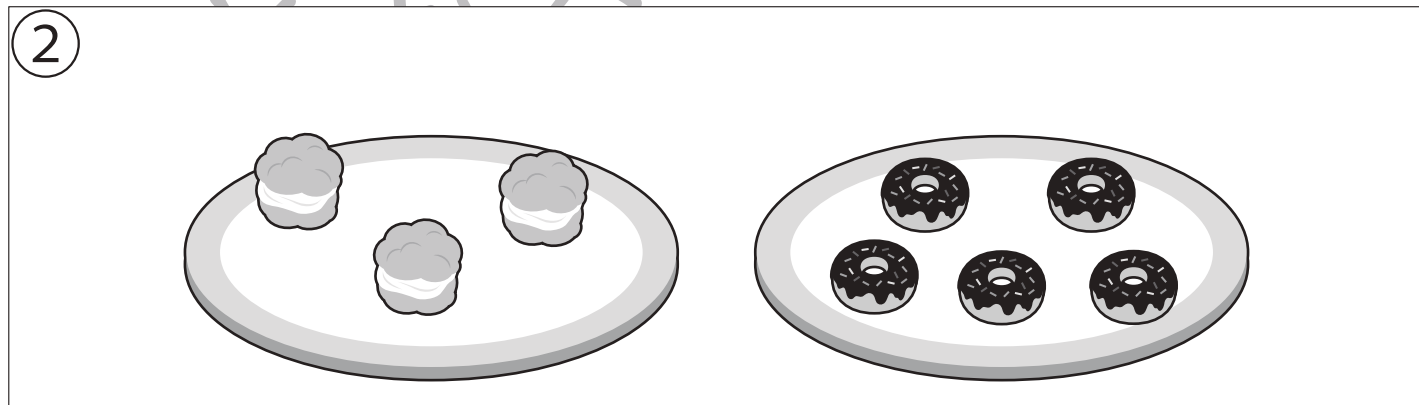
□頭試問8

上の四角の中の絵を見て下の質問に答えましょう。お子さまが答えたことは保護者の方が記入してください。
※この問題に解答はありません。



上の絵の中でルールを守っているお友だちは誰ですか。一人教えてください。→どうしてそう思いましたか。

上の絵の中でルールを守っていないお友だちは誰ですか。一人教えてください。→どうしてそう思いましたか。



どちらが多いですか。どうしてそう思いましたか。

シュークリームとドーナツを3人のお友だちで仲良く分けたいと思います。どのように分けますか。→理由

※1. このプリントは、しながわ・目黒こどもスクールのウェブサイトでダウンロードができます。無断複写・引用はご遠慮ください。

※2. このプリントを活用したオンライン授業のスケジュールは、しながわ・目黒こどもスクールのウェブサイトでご確認ください。



おうちで、やろう。

Study at home. 小学校受験の家庭学習教材

巧緻性：はさみ6

- ①マスの中に夏の絵を1つずつクーピーでかきます。 ②黒い線をはさみで切ります。
 - ③組み立て方を考えてサイコロの形を作ります。セロハンテープで貼り合わせましょう。
- ※この問題に解答はありません。



※1. このプリントは、しながわ・目黒こどもスクールのウェブサイトでダウンロードができます。無断複写・引用はご遠慮ください。
 ※2. このプリントを活用したオンライン授業のスケジュールは、しながわ・目黒こどもスクールのウェブサイトでご確認ください。