

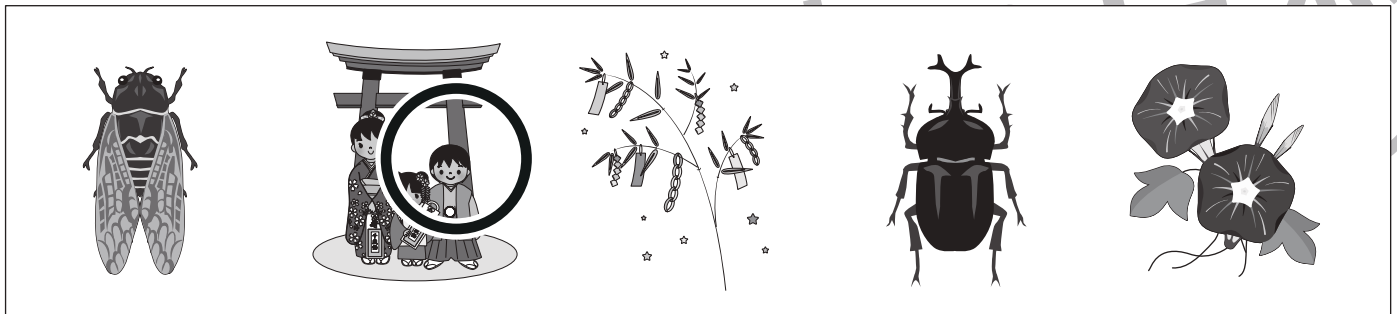



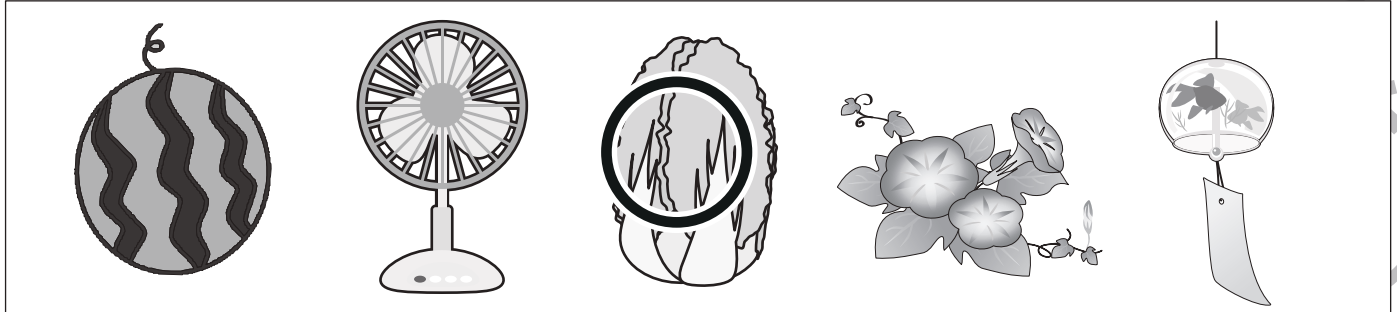


おうちで、やろう。

Study at home. 小学校受験の家庭学習教材

常識：季節 18

四角の絵の中で、違う季節のものを見つけて○をつけます。



※1. このプリントは、しながわ・目黒こどもスクールのウェブサイトでダウンロードができます。無断複写・引用はご遠慮ください。
 ※2. このプリントを活用したオンライン授業のスケジュールは、しながわ・目黒こどもスクールのウェブサイトでご確認ください。



おうちで、やろう。

Study at home. 小学校受験の家庭学習教材

図形：回転 43

左の蝶々を右の蝶々の向きに回転させた時の見え方を考えて、右の蝶々の模様を塗ります。

※1. このプリントは、しながわ・目黒こどもスクールのウェブサイトでダウンロードができます。無断複写・引用はご遠慮ください。
 ※2. このプリントを活用したオンライン授業のスケジュールは、しながわ・目黒こどもスクールのウェブサイトでご確認ください。



おうちで、やろう。

Study at home. 小学校受験の家庭学習教材

図形：回転 44

左の蝶々を右の蝶々の向きに回転させた時の見え方を考えて、右の蝶々の模様を塗ります。

※1. このプリントは、しながわ・目黒こどもスクールのウェブサイトでダウンロードができます。無断複写・引用はご遠慮ください。
 ※2. このプリントを活用したオンライン授業のスケジュールは、しながわ・目黒こどもスクールのウェブサイトでご確認ください。

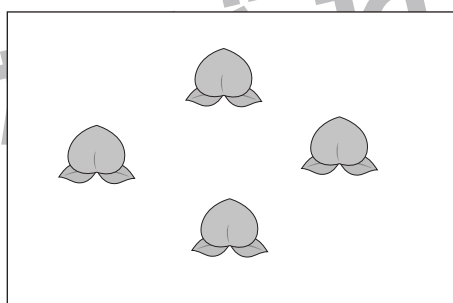
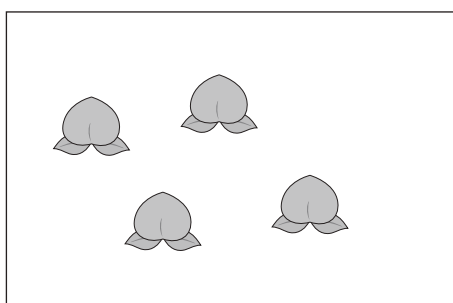
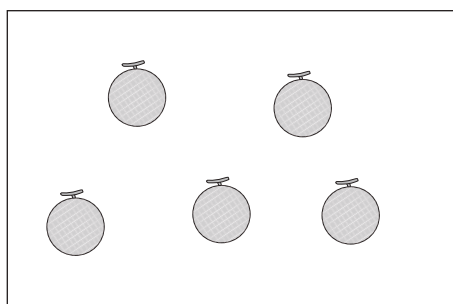
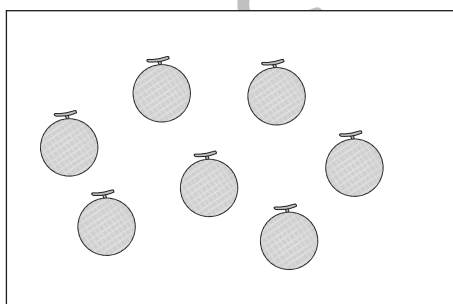










おうちで、やろう。

Study at home. 小学校受験の家庭学習教材

数量：足りない数 10

左の四角と真ん中の四角の果物を合わせて 15 になるにはいくつ足りないですか。その数だけ右の四角に○をかきます。



※1. このプリントは、しながわ・目黒こどもスクールのウェブサイトでダウンロードができます。無断複写・引用はご遠慮ください。
※2. このプリントを活用したオンライン授業のスケジュールは、しながわ・目黒こどもスクールのウェブサイトでご確認ください。


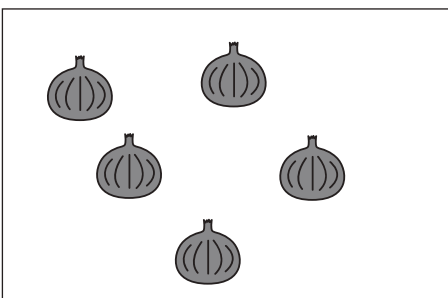
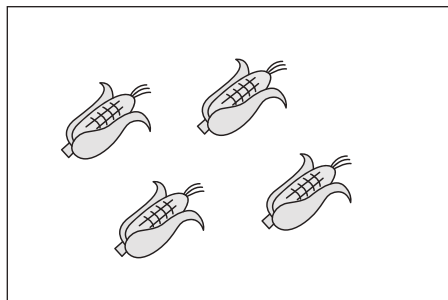
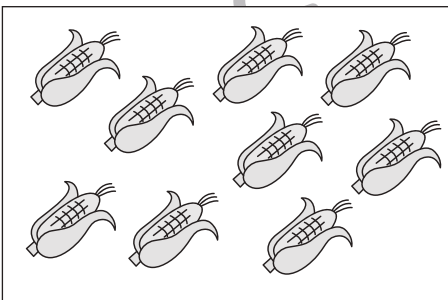



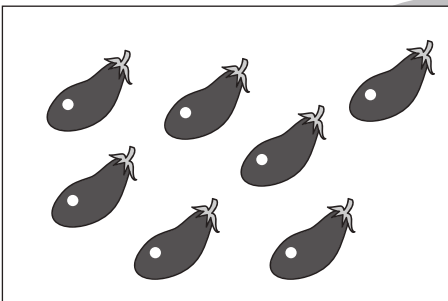




おうちで、やろう。

Study at home. 小学校受験の家庭学習教材

数量：足りない数 11

左の四角と真ん中の四角の野菜を合わせて 20 になるにはいくつ足りないですか。その数だけ右の四角に○をかきます。



※ 1. このプリントは、しながわ・目黒こどもスクールのウェブサイトでダウンロードができます。無断複写・引用はご遠慮ください。
※ 2. このプリントを活用したオンライン授業のスケジュールは、しながわ・目黒こどもスクールのウェブサイトでご確認ください。








おうちで、やろう。


Study at home. 小学校受験の家庭学習教材

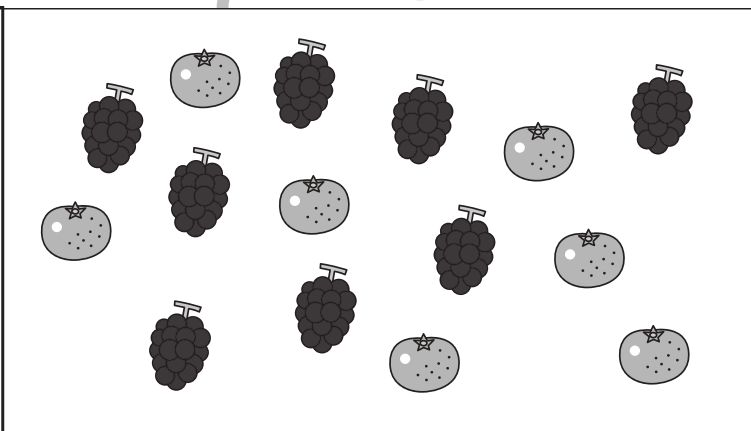

数量：余る数 13


左の四角の中の袋がお手本です。真ん中の大きな四角の中の果物でお手本の袋をできるだけ作ります。
このとき、余る果物はそれぞれいくつですか。その数だけ一番右の四角に○をかきます。余らない場合は何もかきません。





 ○ × 2


 ○ × 1




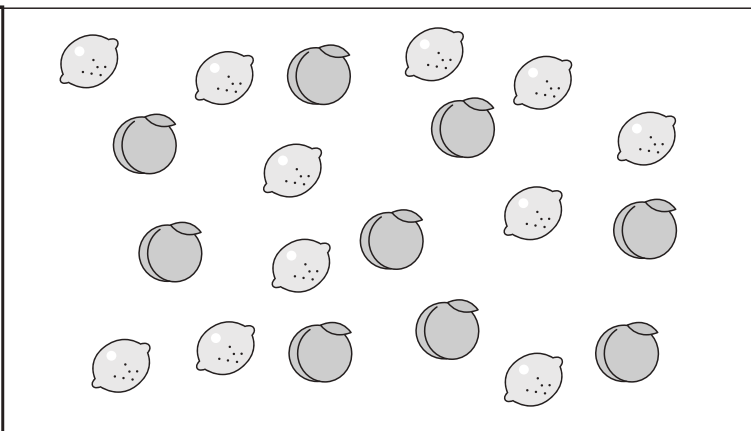
 ○ × 1


 ○ × 2




 ○ × 3

 ○ × 3



 ○ × 2

 ○ × 3

※1. このプリントは、しながわ・目黒こどもスクールのウェブサイトでダウンロードができます。無断複写・引用はご遠慮ください。
※2. このプリントを活用したオンライン授業のスケジュールは、しながわ・目黒こどもスクールのウェブサイトでご確認ください。





おうちで、やろう。

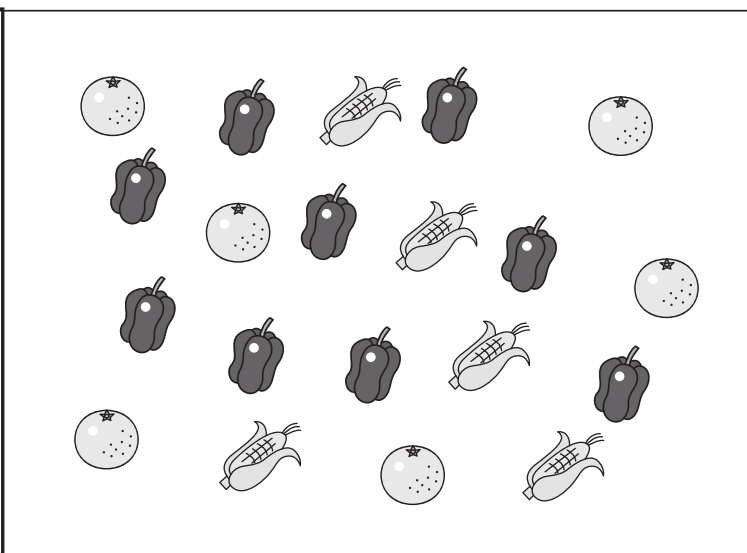

Study at home. 小学校受験の家庭学習教材

数量：余る数 14



左の四角の中の袋がお手本です。真ん中の大きな四角の中の果物や野菜でお手本の袋をできるだけ作ります。
このとき、余る果物や野菜はそれぞれいくつですか。その数だけ一番右の四角に○をかきます。余らない場合は何もかきません。



	○ × 2
	○ × 1
	○ × 1



	○ × 2
	○ × 3



	○ × 2
	○ × 3

※1. このプリントは、しながわ・目黒こどもスクールのウェブサイトでダウンロードができます。無断複写・引用はご遠慮ください。
※2. このプリントを活用したオンライン授業のスケジュールは、しながわ・目黒こどもスクールのウェブサイトでご確認ください。

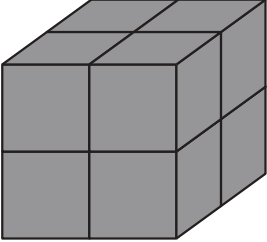
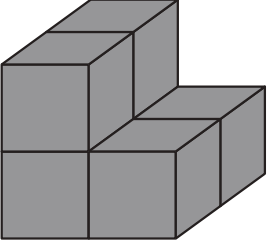
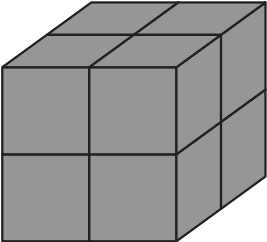
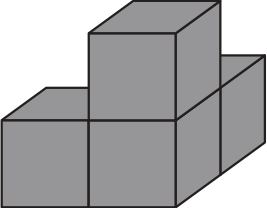
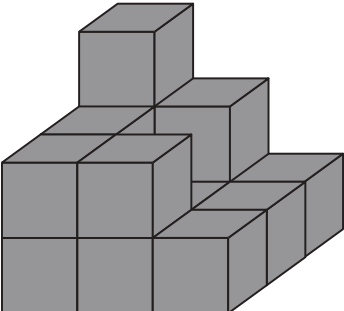
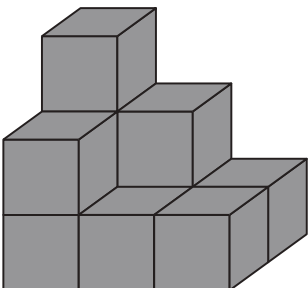
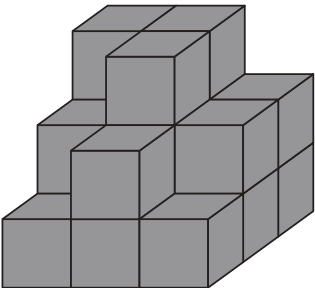
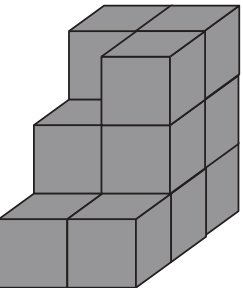


おうちで、やろう。

Study at home. 小学校受験の家庭学習教材

推理：積み木 24

左の積み木から、右の積み木を取ると、残った積み木はいくつになりますか。その数だけ右の四角に○をかきます。

		$\bigcirc \times 2$
		$\bigcirc \times 4$
		$\bigcirc \times 5$
		$\bigcirc \times 6$

※1. このプリントは、しながわ・目黒こどもスクールのウェブサイトでダウンロードができます。無断複写・引用はご遠慮ください。

※2. このプリントを活用したオンライン授業のスケジュールは、しながわ・目黒こどもスクールのウェブサイトでご確認ください。