







おうちで、やろう。

Study at home. 小学校受験の家庭学習教材

指示の聞き取り 41

お話を聞いてその動物が移動した場所に○をかきます。

- ①サルが下に3マス、右に2マス進んだところに黄色のクーピーで○をかきます。
- ②キリンが左に5マス、下に2マス、右に3マス進んだところに紫のクーピーで○をかきます。
- ③ライオンが右に1マス、左に4マス、上に5マス進んだところに橙色のクーピーで○をかきます。
- ④リスが下に2マス、右に1マス、上に4マス、右に2マス進んだところに水色のクーピーで○をかきます。

○ 橙色					
				○ 水色	
			○ 紫	○ 黄色	
					

※1. このプリントは、しながわ・目黒こどもスクールのウェブサイトでダウンロードができます。無断複写・引用はご遠慮ください。
 ※2. このプリントを活用したオンライン授業のスケジュールは、しながわ・目黒こどもスクールのウェブサイトでご確認ください。



おうちで、やろう。

Study at home. 小学校受験の家庭学習教材

常識：風向き 1

それぞれの絵は風に吹かれている様子の絵です。どちらからどちらへ風が吹いていますか。
左から右へ風が吹いているときは白い矢印に、右から左へ風が吹いているときは黒い矢印に○をつけます。

がも

がも

※1. このプリントは、しながわ・目黒こどもスクールのウェブサイトからダウンロードができます。無断複写・引用はご遠慮ください。
 ※2. このプリントを活用したオンライン授業のスケジュールは、しながわ・目黒こどもスクールのウェブサイトでご確認ください。

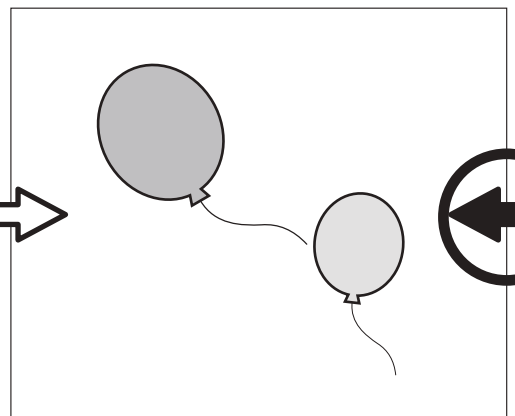

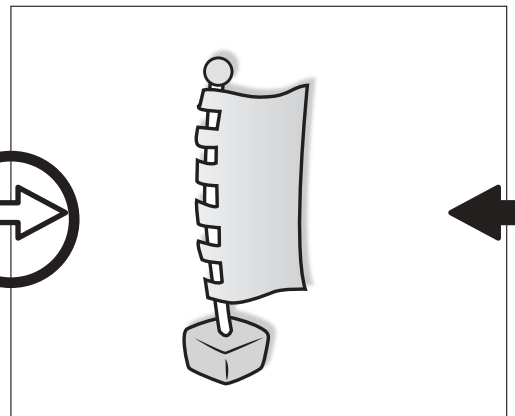
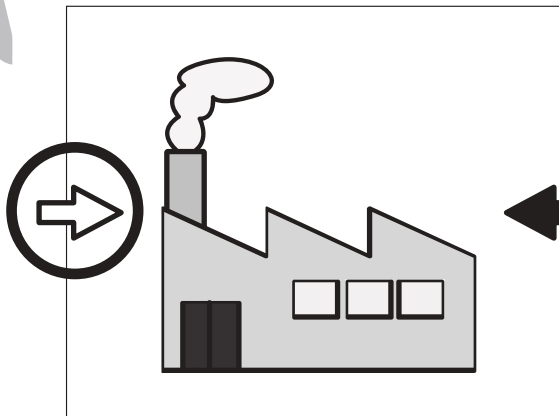
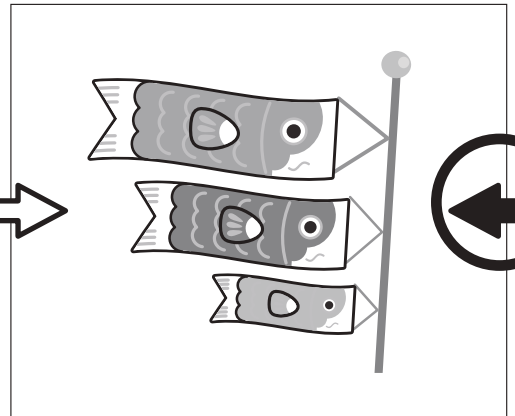





おうちで、やろう。

Study at home. 小学校受験の家庭学習教材

常識：風向き2

それぞれの絵は風に吹かれている様子絵です。どちらからどちらへ風が吹いていますか。
左から右へ風が吹いているときは白い矢印に、右から左へ風が吹いているときは黒い矢印に○をつけます。



※1. このプリントは、しながわ・目黒こどもスクールのウェブサイトからダウンロードができます。無断複製・引用はご遠慮ください。
※2. このプリントを活用したオンライン授業のスケジュールは、しながわ・目黒こどもスクールのウェブサイトでご確認ください。





おうちで、やろう。

Study at home. 小学校受験の家庭学習教材

図形：回転鏡 1

左の四角のマスで矢印の方向へ 1 回倒した時の見え方を矢印の右のマスにかきます。その後、その四角を鏡で映したときの見え方を考えて一番右のマスにかきます。

--	--	--	--	--

--	--	--	--	--

--	--	--	--	--

--	--	--	--	--

--	--	--	--	--

※ 1. このプリントは、しながわ・目黒こどもスクールのウェブサイトからダウンロードができます。無断複写・引用はご遠慮ください。

※ 2. このプリントを活用したオンライン授業のスケジュールは、しながわ・目黒こどもスクールのウェブサイトでご確認ください。



おうちで、やろう。

Study at home. 小学校受験の家庭学習教材

図形：回転鏡2

左の四角のマス目を矢印の方向へ1回倒した時の見え方を矢印の右のマスにかきます。その後、その四角を鏡で映したときの見え方を考えて一番右のマスにかきます。

--	--	--	--

--	--	--	--

--	--	--	--

--	--	--	--

--	--	--	--

※1. このプリントは、しながわ・目黒こどもスクールのウェブサイトからダウンロードができます。無断複写・引用はご遠慮ください。
 ※2. このプリントを活用したオンライン授業のスケジュールは、しながわ・目黒こどもスクールのウェブサイトでご確認ください。





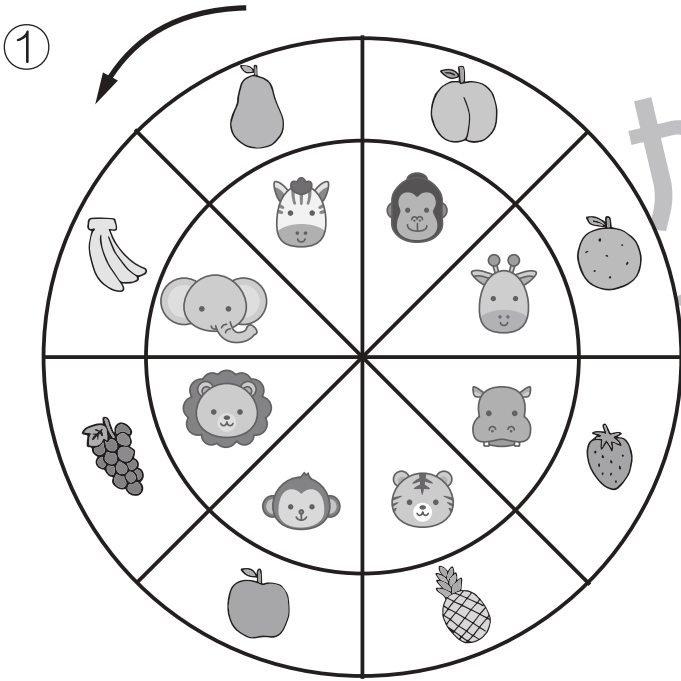
おうちで、やろう。

Study at home. 小学校受験の家庭学習教材

推理：ルーレット1

矢印の方向に、動物ルーレットが回ります。

- ①ゾウがイチゴの場所に着いたとき、サルが着いた場所の果物に○、キリンが着いた場所の果物に△を右の四角の中の絵につけます。
- ②ネズミがネコの場所に着いたとき、パンダが着いた場所の野菜に○、ウサギが着いた場所の野菜に△を右の四角の中の絵につけます。



※1. このプリントは、しながわ・目黒こどもスクールのウェブサイトでダウンロードができます。無断複写・引用はご遠慮ください。
 ※2. このプリントを活用したオンライン授業のスケジュールは、しながわ・目黒こどもスクールのウェブサイトでご確認ください。



おうちで、やろう。


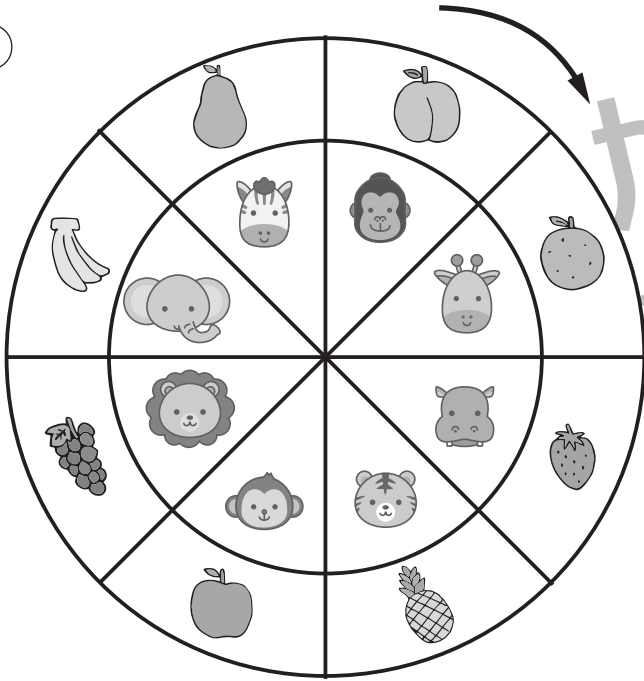
Study at home. 小学校受験の家庭学習教材

推理：ルーレット2


矢印の方向に、動物ルーレットが回ります。

- ①ライオンがキリンの場所に着いたとき、トラが着いた場所の果物に○、ゴリラが着いた場所の果物に△を右の四角の中の絵につけます。
- ②ウサギがパンダの場所に着いたとき、カエルが着いた場所の野菜に○、タヌキが着いた場所の野菜に△を右の四角の中の絵につけます。

①



②



※1. このプリントは、しながわ・目黒こどもスクールのウェブサイトでダウンロードができます。無断複写・引用はご遠慮ください。
 ※2. このプリントを活用したオンライン授業のスケジュールは、しながわ・目黒こどもスクールのウェブサイトでご確認ください。



おうちで、やろう。

Study at home. 小学校受験の家庭学習教材

数量：加減 26

別紙「数量：加減 26・27（問題文）」を使用して①～④の問題に答えましょう。

①

$$\bigcirc \times 3$$

②

$$\bigcirc \times 2$$

③

$$\bigcirc \times 6$$

④

$$\bigcirc \times 9$$



おうちで、やろう。

Study at home. 小学校受験の家庭学習教材

数量：加減 27

別紙「数量：加減 26・27（問題文）」を使用して①～④の問題に答えましょう。

①

$$\bigcirc \times 5$$

②

$$\bigcirc \times 5$$

③

$$\bigcirc \times 8$$

④

$$\bigcirc \times 5$$