







# おうちで、やろう。

Study at home. 小学校受験の家庭学習教材

## 指示の聞き取り 41

お話を聞いてその動物が移動した場所に○をかきます。

- ①サルが下に3マス、右に2マス進んだところに黄色のクーピーで○をかきます。
- ②キリンが左に5マス、下に2マス、右に3マス進んだところに紫のクーピーで○をかきます。
- ③ライオンが右に1マス、左に4マス、上に5マス進んだところにオレンジ色のクーピーで○をかきます。
- ④リスが下に2マス、右に1マス、上に4マス、右に2マス進んだところに水色のクーピーで○をかきます。

※1. このプリントは、しながわ・目黒こどもスクールのウェブサイトでダウンロードができます。無断複写・引用はご遠慮ください。  
 ※2. このプリントを活用したオンライン授業のスケジュールは、しながわ・目黒こどもスクールのウェブサイトでご確認ください。

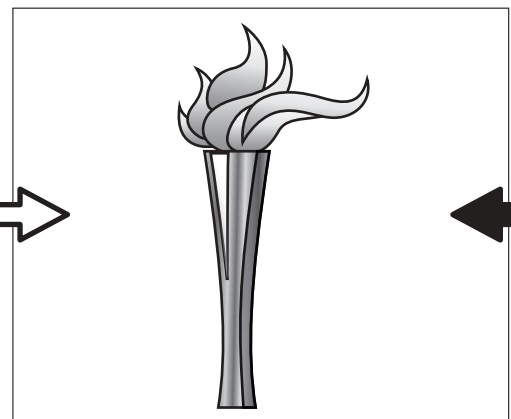

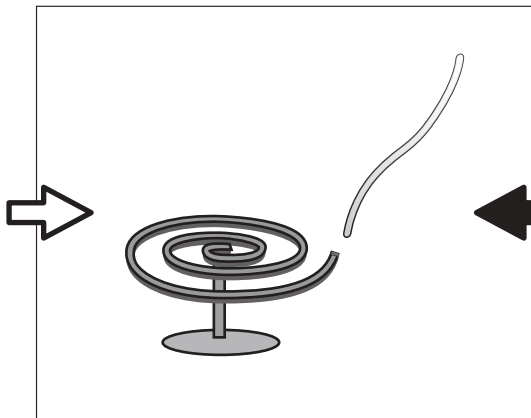

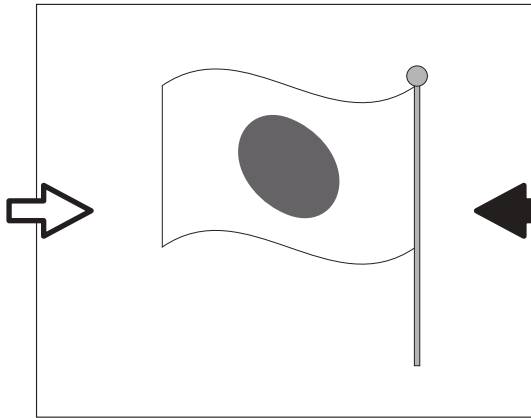

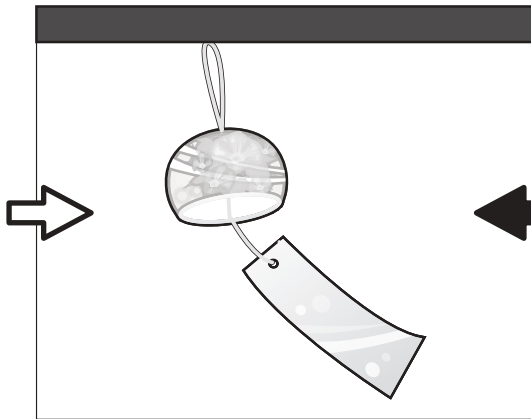


# おうちで、やろう。

Study at home. 小学校受験の家庭学習教材

## 常識：風向き 1

それぞれの絵は風に吹かれている様子の絵です。どちらからどちらへ風が吹いていますか。  
左から右へ風が吹いているときは白い矢印に、右から左へ風が吹いているときは黒い矢印に○をつけます。



が  
も

ク

が  
も

※1. このプリントは、しながわ・目黒こどもスクールのウェブサイトからダウンロードができます。無断複製・引用はご遠慮ください。  
※2. このプリントを活用したオンライン授業のスケジュールは、しながわ・目黒こどもスクールのウェブサイトでご確認ください。

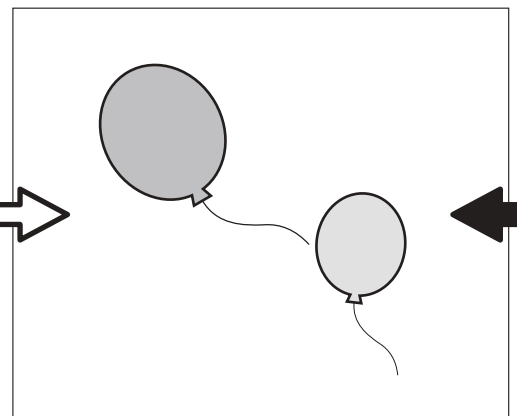

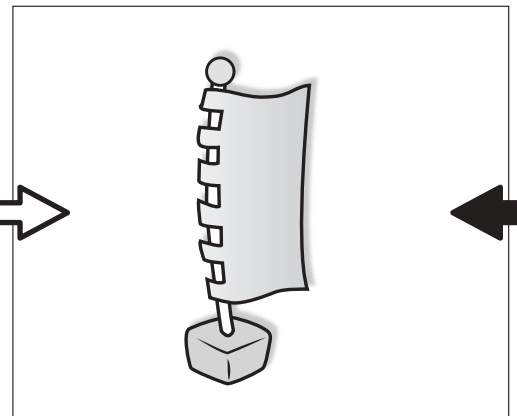

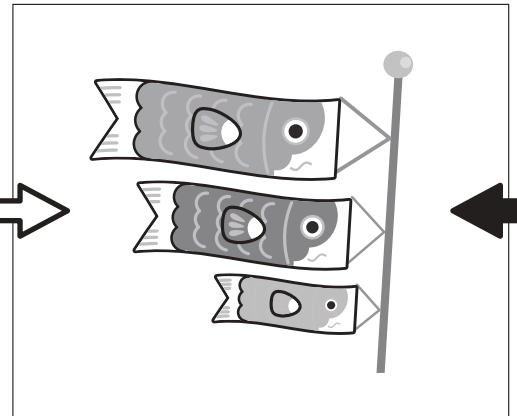
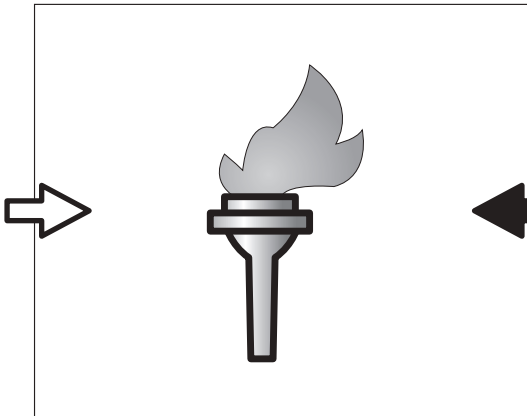




# おうちで、やろう。

Study at home. 小学校受験の家庭学習教材

## 常識：風向き2

それぞれの絵は風に吹かれている様子絵です。どちらからどちらへ風が吹いていますか。  
左から右へ風が吹いているときは白い矢印に、右から左へ風が吹いているときは黒い矢印に○をつけます。



が  
も

ク

が  
も

※1. このプリントは、しながわ・目黒こどもスクールのウェブサイトからダウンロードができます。無断複製・引用はご遠慮ください。  
※2. このプリントを活用したオンライン授業のスケジュールは、しながわ・目黒こどもスクールのウェブサイトでご確認ください。





# おうちで、やろう。

Study at home. 小学校受験の家庭学習教材

## 図形：回転鏡 1

左の四角のマスで矢印の方向へ 1 回倒した時の見え方を矢印の右のマスにかきます。その後、その四角を鏡で映したときの見え方を考えて一番右のマスにかきます。

--	--	--	--	--

--	--	--	--	--

--	--	--	--	--

--	--	--	--	--

--	--	--	--	--

※ 1. このプリントは、しながわ・目黒こどもスクールのウェブサイトからダウンロードができます。無断複製・引用はご遠慮ください。

※ 2. このプリントを活用したオンライン授業のスケジュールは、しながわ・目黒こどもスクールのウェブサイトでご確認ください。



# おうちで、やろう。

Study at home. 小学校受験の家庭学習教材

## 図形：回転鏡2

左の四角のマスで矢印の方向へ1回倒した時の見え方を矢印の右のマスにかきます。その後、その四角を鏡で映したときの見え方を考えて一番右のマスにかきます。

--	--	--	--

--	--	--	--

--	--	--	--

--	--	--	--

--	--	--	--

※1. このプリントは、しながわ・目黒こどもスクールのウェブサイトからダウンロードができます。無断複製・引用はご遠慮ください。  
 ※2. このプリントを活用したオンライン授業のスケジュールは、しながわ・目黒こどもスクールのウェブサイトでご確認ください。



# おうちで、やろう。



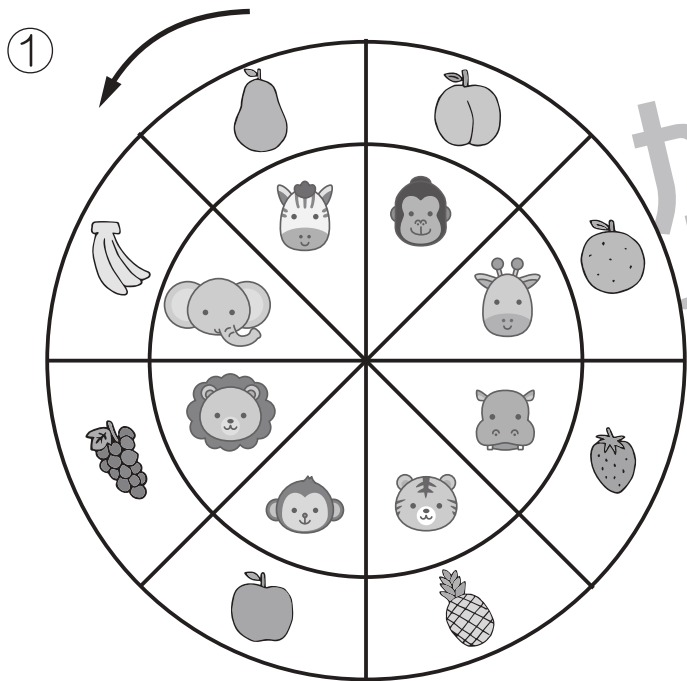
Study at home. 小学校受験の家庭学習教材

## 推理：ルーレット1

矢印の方向に、動物ルーレットが回ります。

①ゾウがイチゴの場所に着いたとき、サルが着いた場所の果物に○、キリンが着いた場所の果物に△を右の四角の中の絵につけます。

②ネズミがネコの場所に着いたとき、パンダが着いた場所の野菜に○、ウサギが着いた場所の野菜に△を右の四角の中の絵につけます。



※1. このプリントは、しながわ・目黒こどもスクールのウェブサイトでダウンロードができます。無断複写・引用はご遠慮ください。

※2. このプリントを活用したオンライン授業のスケジュールは、しながわ・目黒こどもスクールのウェブサイトでご確認ください。



# おうちで、やろう。

Study at home. 小学校受験の家庭学習教材


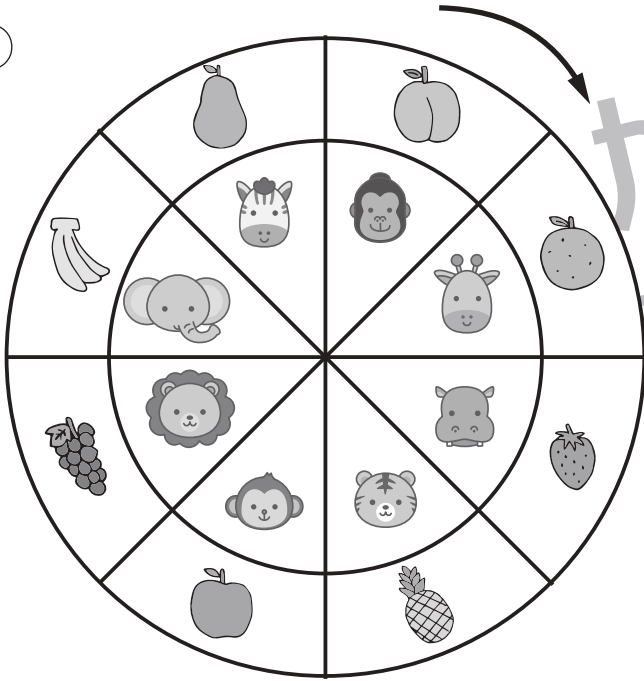
## 推理：ルーレット2

矢印の方向に、動物ルーレットが回ります。


①ライオンがキリンの場所に着いたとき、トラが着いた場所の果物に○、ゴリラが着いた場所の果物に△を右の四角の中の絵につけます。

②ウサギがパンダの場所に着いたとき、カエルが着いた場所の野菜に○、タヌキが着いた場所の野菜に△を右の四角の中の絵につけます。

①



②



※1. このプリントは、しながわ・目黒こどもスクールのウェブサイトでダウンロードができます。無断複写・引用はご遠慮ください。

※2. このプリントを活用したオンライン授業のスケジュールは、しながわ・目黒こどもスクールのウェブサイトでご確認ください。





※別紙問題プリントを用意し、1問ずつとりくみましょう。

### 26-①

クマくんはクッキーを6枚持っていました。お友だちのキツネくんに3枚あげました。残ったクッキーは何枚ですか。その数だけ○をかきます。

### 26-②

ウサギさんはドーナツを5個持っていました。お友だちのクマくんに2個、キツネくんに1個あげました。残ったドーナツの数だけ○をかきます。

### 26-③

イヌくんはアメを2個持っていました。お母さんが4個くれました。イヌくんが持っているアメの数だけ○をかきます。

### 26-④

パンダくんはチョコレートを5枚持っていました。お父さんが3枚、おばあちゃんが1枚くれました。パンダくんが持っているチョコレートの枚数だけ○をかきます。

### 27-①

あきさんはクッキーを10枚作りました。お友だちのともきくんに3枚、みきさんに2枚あげました。あきさんが持っているクッキーは何枚になりましたか。その数だけ○をかきます。

### 27-②

幼稚園の園庭でお友だちが6人遊んでいます。あとから2人やってきましたが、3人がお部屋の中に戻ってしまいました。今、園庭で遊んでいる人は何人ですか。その数だけ○をかきます。

### 27-③

白鳥が池で8羽泳いでいます。しばらくすると3羽どこかへ飛んでいってしまいましたが、別の白鳥が3羽池に戻ってきました。今、池で泳いでいる白鳥は何羽ですか。その数だけ○をかきます。

### 27-④

花壇のチューリップが3本咲きました。次の日になると新しいチューリップが4本咲きました。でも、咲いていたチューリップが2本枯れてしまいました。今、咲いているチューリップは何本ですか。その数だけ○をかきます。





# おうちで、やろう。

Study at home. 小学校受験の家庭学習教材

数量：加減 26

別紙「数量：加減 26・27（問題文）」を使用して①～④の問題に答えましょう。

①

②

③

④



# おうちで、やろう。

Study at home. 小学校受験の家庭学習教材

数量：加減 27

別紙「数量：加減 26・27（問題文）」を使用して①～④の問題に答えましょう。

①

②

③

④


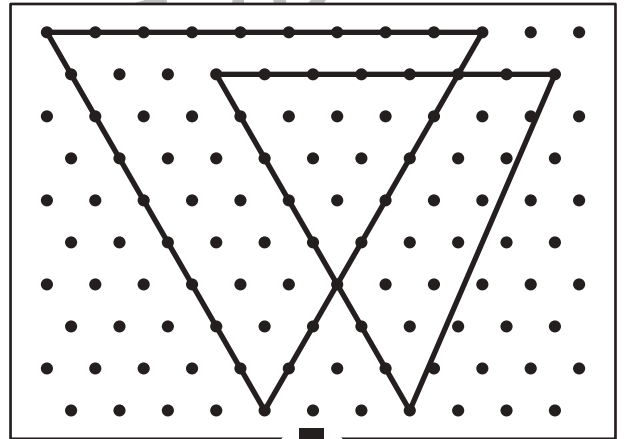

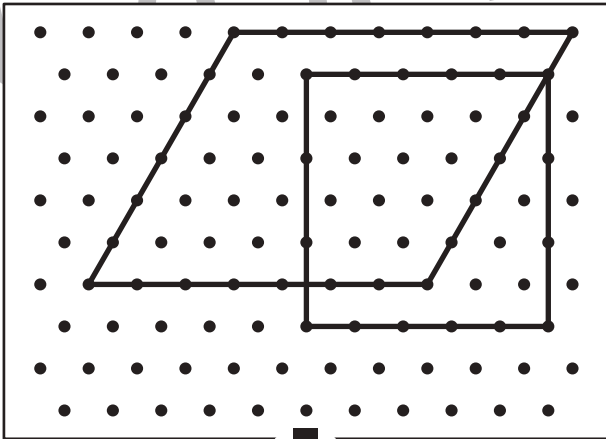

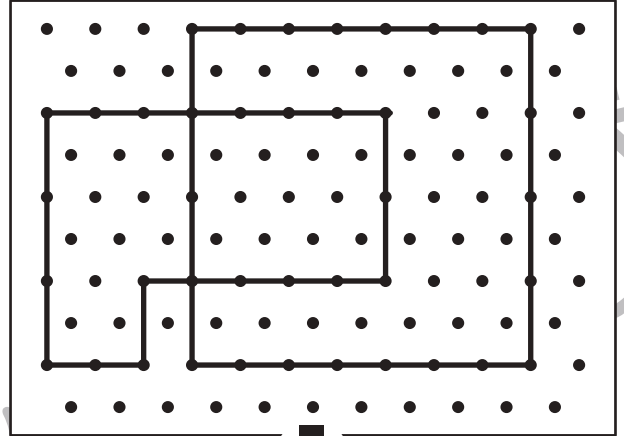

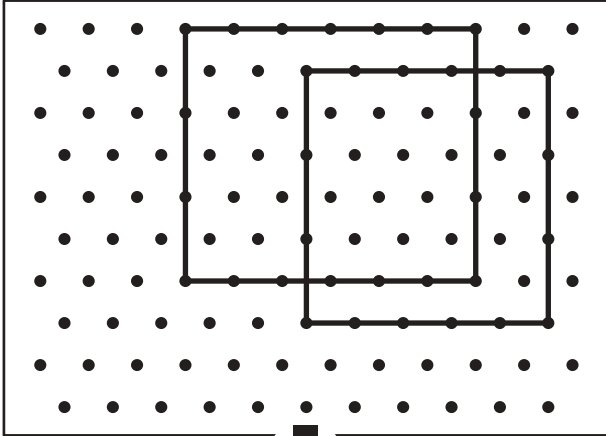


# おうちで、やろう。

Study at home. 小学校受験の家庭学習教材

## 図形：点図形 29

上のお手本と同じになるように下の四角の点と点を結びます。※このプリントに解答はありません。



※1. このプリントは、しながわ・目黒こどもスクールのウェブサイトからダウンロードができます。無断複写・引用はご遠慮ください。  
※2. このプリントを活用したオンライン授業のスケジュールは、しながわ・目黒こどもスクールのウェブサイトでご確認ください。