










# おうちで、やろう。

Study at home. 小学校受験の家庭学習教材

## 言語：音の理解 37

左の太い四角の中の絵のはじめの音をつなぎ合わせたときにできるものを右の四角から選んで○をつけます。



※1. このプリントは、しながわ・目黒こどもスクールのウェブサイトでダウンロードができます。無断複写・引用はご遠慮ください。  
※2. このプリントを活用したオンライン授業のスケジュールは、しながわ・目黒こどもスクールのウェブサイトでご確認ください。



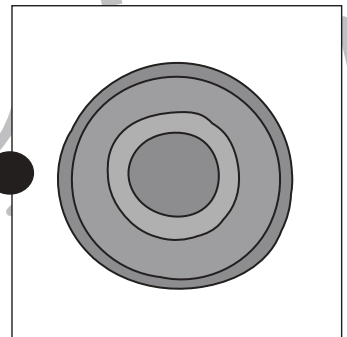

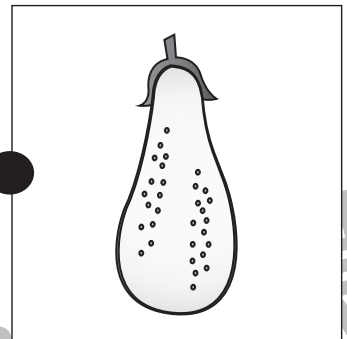

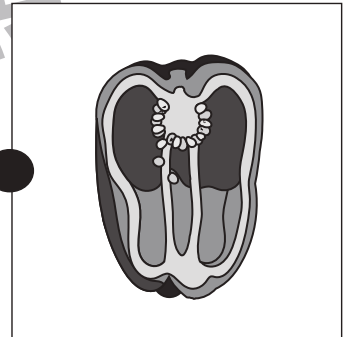
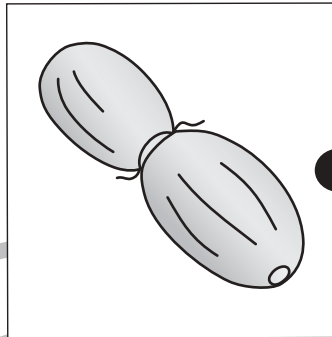
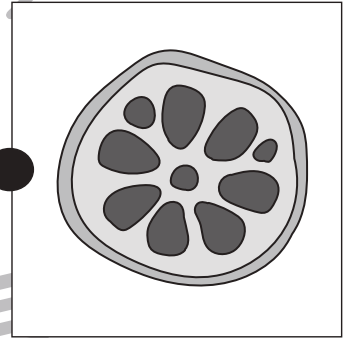
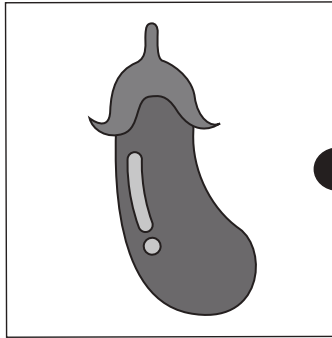
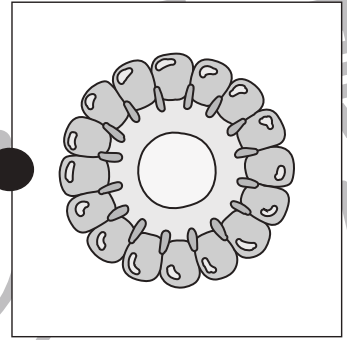
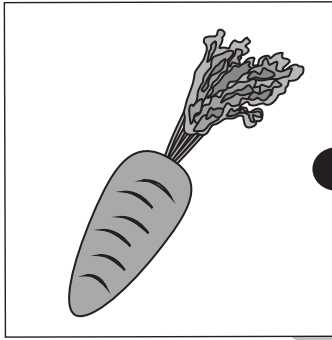


# おうちで、やろう。

Study at home. 小学校受験の家庭学習教材

## 常識：野菜 4

左の四角の中の野菜を半分にしたときの見え方を考えて点と点を線で結びます。



※1. このプリントは、しながわ・目黒こどもスクールのウェブサイトでダウンロードができます。無断複写・引用はご遠慮ください。

※2. このプリントを活用したオンライン授業のスケジュールは、しながわ・目黒こどもスクールのウェブサイトでご確認ください。





# おうちで、やろう。



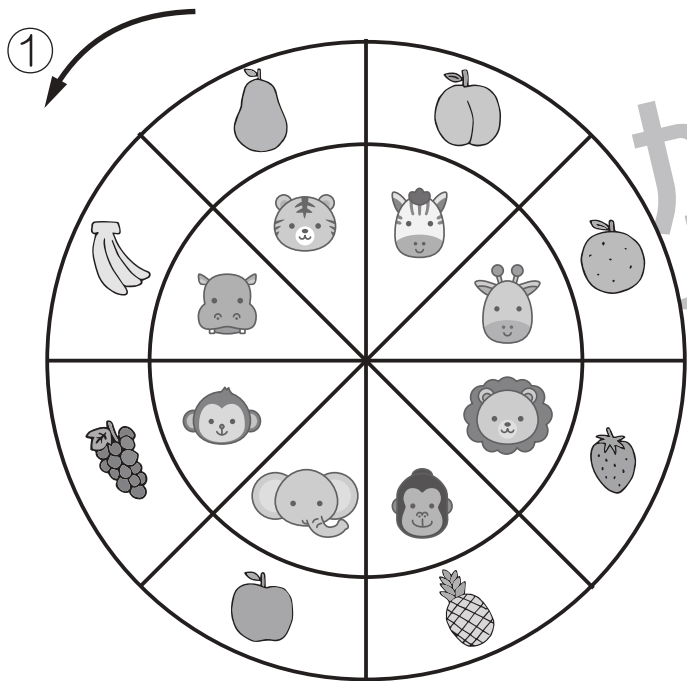
Study at home. 小学校受験の家庭学習教材

## 推理：ルーレット 3

矢印の方向に、動物ルーレットが回ります。

①ゾウがシマウマの場所に着いたとき、ライオンが着いた場所の果物に○、サルが着いた場所の果物に△を右の四角の中の絵につけます。

②タヌキがカエルの場所に着いたとき、ウサギが着いた場所の野菜に○、ネコが着いた場所の野菜に△を右の四角の中の絵につけます。



※1. このプリントは、しながわ・目黒こどもスクールのウェブサイトからダウンロードできます。無断複写・引用はご遠慮ください。

※2. このプリントを活用したオンライン授業のスケジュールは、しながわ・目黒こどもスクールのウェブサイトでご確認ください。



# おうちで、やろう。



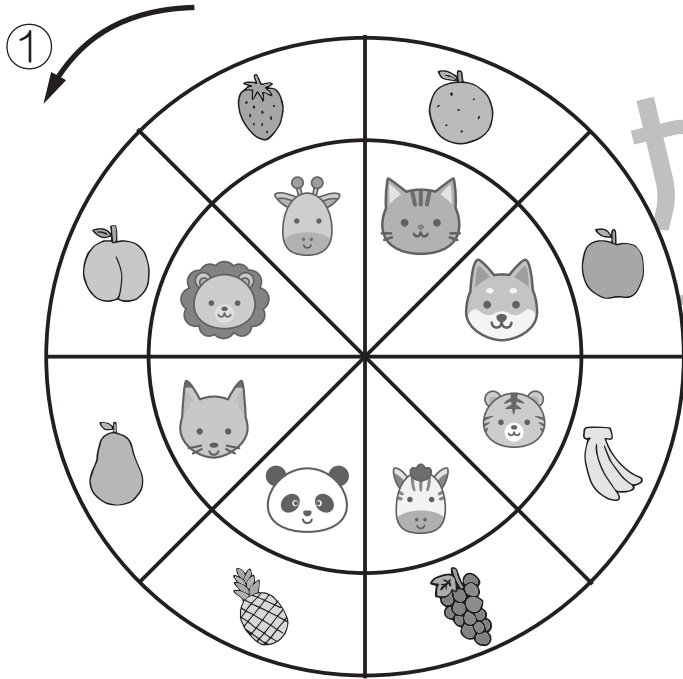
Study at home. 小学校受験の家庭学習教材

## 推理：ルーレット4

矢印の方向に、動物ルーレットが回ります。

① イヌがライオンの場所に着いたとき、キリンが着いた場所の果物に○、パンダが着いた場所の果物に△を右の四角の中の絵につけます。

② ウサギがタヌキの場所に着いたとき、ゴリラが着いた場所の野菜に○、ゾウが着いた場所の野菜に△を右の四角の中の絵につけます。



※1. このプリントは、しながわ・目黒こどもスクールのウェブサイトでダウンロードができます。無断複写・引用はご遠慮ください。

※2. このプリントを活用したオンライン授業のスケジュールは、しながわ・目黒こどもスクールウェブサイトでご確認ください。






# おうちで、やろう。

Study at home. 小学校受験の家庭学習教材

推理：濃度5

- ①コップの上のスプーンに分だけ砂糖を入れた時、一番甘くなるコップに○をつけます。
- ②コップの上のスプーンに分だけ砂糖を入れた時、二番目に甘くなるコップに○、一番甘くないコップに×をつけます。
- ③コップの上のスプーンに分だけ砂糖を入れた時、一番甘くなるコップに○をつけます。



※1. このプリントは、しながわ・目黒こどもスクールのウェブサイトからダウンロードできます。無断複写・引用はご遠慮ください。  
※2. このプリントを活用したオンライン授業のスケジュールは、しながわ・目黒こどもスクールのウェブサイトでご確認ください。




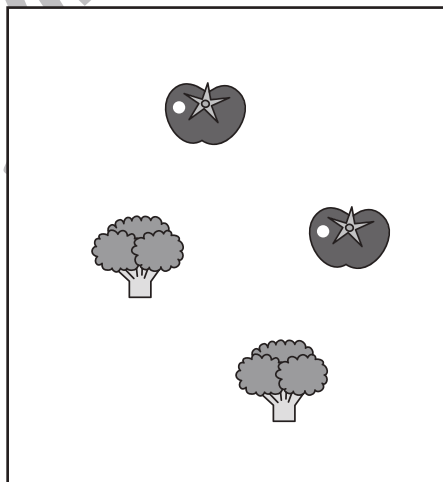





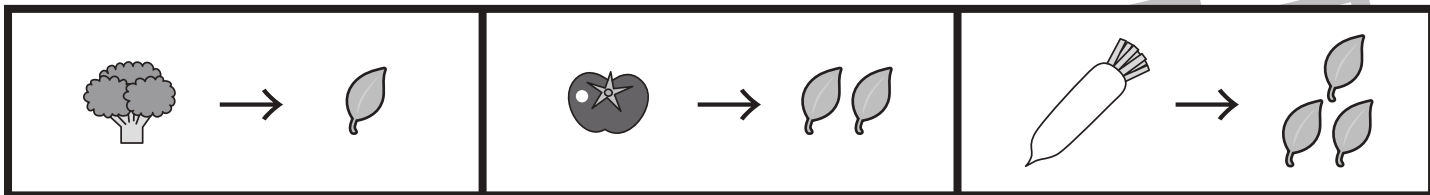


# おうちで、やろう。

Study at home. 小学校受験の家庭学習教材

## 数量：置き換え 23

上の太い四角の中が約束です。それぞれの野菜は矢印の右の数の葉っぱに変身させます。この時、葉っぱの数が7枚になる四角を全て見つけて○をつけます。



※1. このプリントは、しながわ・目黒こどもスクールのウェブサイトでダウンロードができます。無断複写・引用はご遠慮ください。  
※2. このプリントを活用したオンライン授業のスケジュールは、しながわ・目黒こどもスクールのウェブサイトでご確認ください。




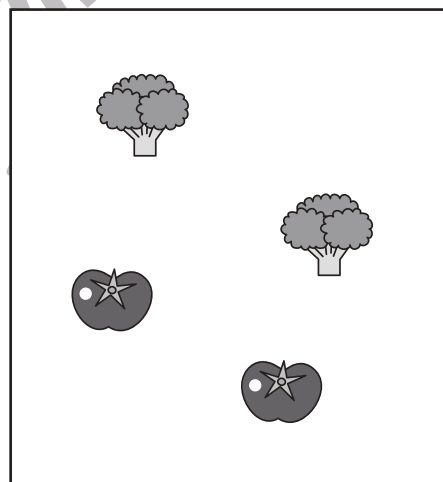





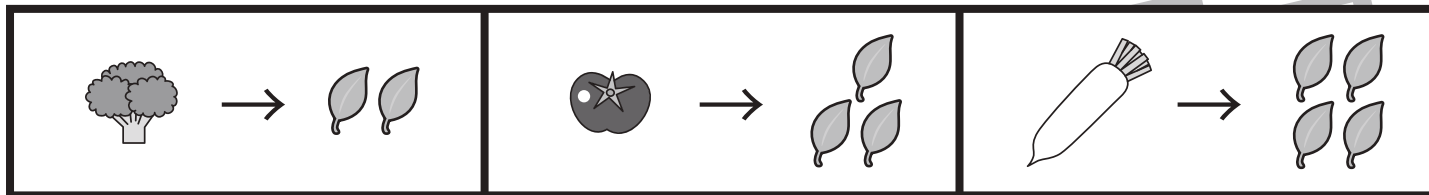


# おうちで、やろう。

Study at home. 小学校受験の家庭学習教材

## 数量：置き換え 24

上の太い四角の中が約束です。それぞれの野菜は矢印の右の数の葉っぱに変身させます。この時、葉っぱの数が10枚になる四角を全て見つけて○をつけます。



※1. このプリントは、しながわ・目黒こどもスクールのウェブサイトでダウンロードができます。無断複写・引用はご遠慮ください。  
※2. このプリントを活用したオンライン授業のスケジュールは、しながわ・目黒こどもスクールのウェブサイトでご確認ください。





# おうちで、やろう。

Study at home. 小学校受験の家庭学習教材

処理：計数 20

真ん中の四角の中に周りの四角の中の形がそれぞれいくつあるのかをかぞえて、その数だけそれぞれの四角に○をかきます。  
この問題はスピードを意識して取り組む練習をしてみましょう。(1分～1分30秒)

|  |  |  |  |  |  |  |
|--|--|--|--|--|--|--|
|  |  |  |  |  |  |  |
|  |  |  |  |  |  |  |
|  |  |  |  |  |  |  |
|  |  |  |  |  |  |  |
|  |  |  |  |  |  |  |
|  |  |  |  |  |  |  |
|  |  |  |  |  |  |  |
|  |  |  |  |  |  |  |
|  |  |  |  |  |  |  |

※1. このプリントは、しながわ・目黒こどもスクールのウェブサイトでダウンロードができます。無断複写・引用はご遠慮ください。  
 ※2. このプリントを活用したオンライン授業のスケジュールは、しながわ・目黒こどもスクールのウェブサイトでご確認ください。






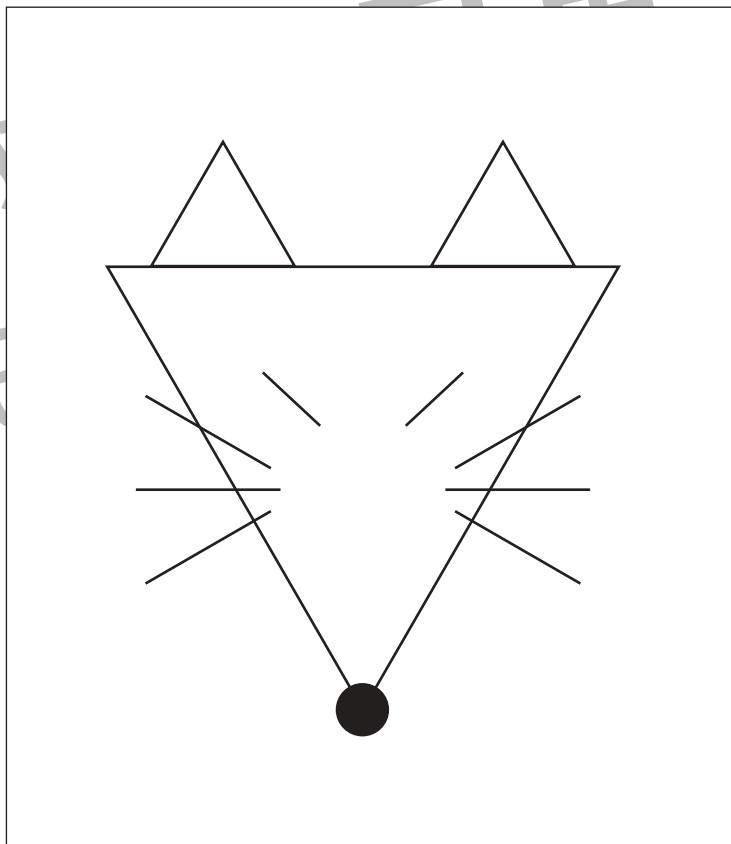

# おうちで、やろう。

Study at home. 小学校受験の家庭学習教材

巧緻性：模写4

上の四角のお手本と全く同じになるように線をかいたり、色を塗ったりします。

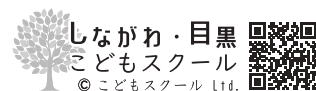
※この問題に解答はありません。



ICT 教育の小学校受験

※1. このプリントは、しながわ・目黒こどもスクールのウェブサイトでダウンロードができます。無断複写・引用はご遠慮ください。

※2. このプリントを活用したオンライン授業のスケジュールは、しながわ・目黒こどもスクールのウェブサイトでご確認ください。





# おうちで、やろう。

Study at home. 小学校受験の家庭学習教材

絵画：条件画 19

短いお話を聞いて、そのお話に合う絵をクーピーでかきましょう。

描いたあとはどんな絵なのか、お家の人に話してみましょう。(何の絵をかいたのか、何をしているのかなど)

【お話】

今日はよく晴れていてとても良い天気です。たくまくんとお父さん、お母さんはお山の公園へピクニックに出かけました。公園に到着すると色とりどりのお花がたくさん咲いています。お山のとっぺんでオレンジ色のレジャーシートをひいて、お母さんが作ってくれた大きなおにぎりを食べました。とても美味しくてみんな笑顔になりました。

※用紙の向きは縦向きでも横向きでもかまいません。※このプリントに解答はありません。

※1. このプリントは、しながわ・目黒こどもスクールのウェブサイトからダウンロードできます。無断複写・引用はご遠慮ください。

※2. このプリントを活用したオンライン授業のスケジュールは、しながわ・目黒こどもスクールのウェブサイトでご確認ください。