



おうちで、やろう。


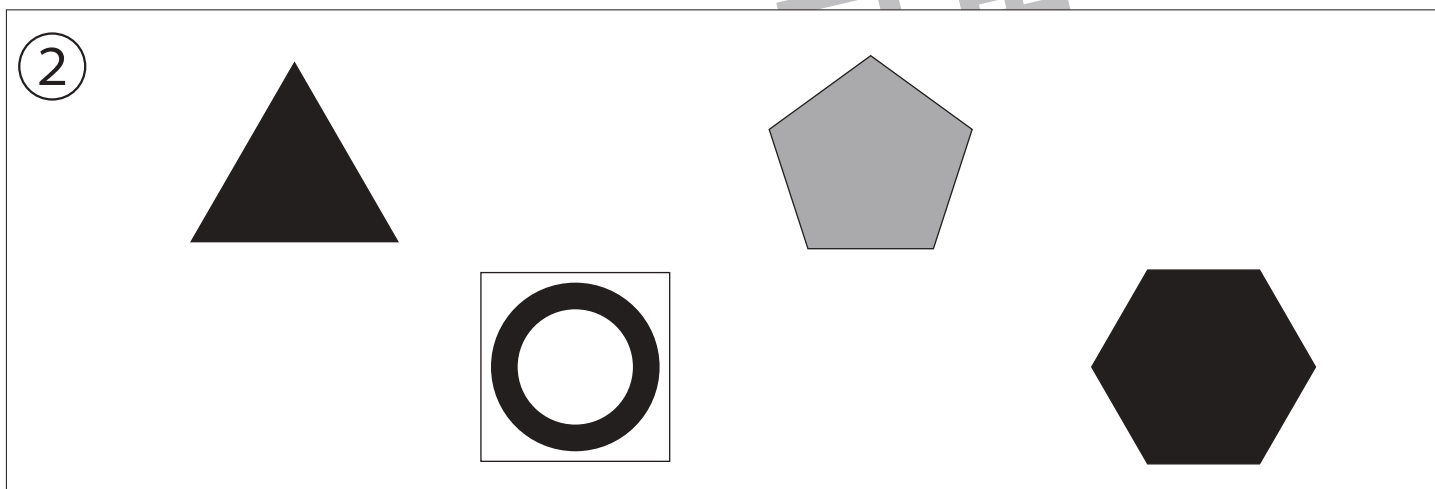
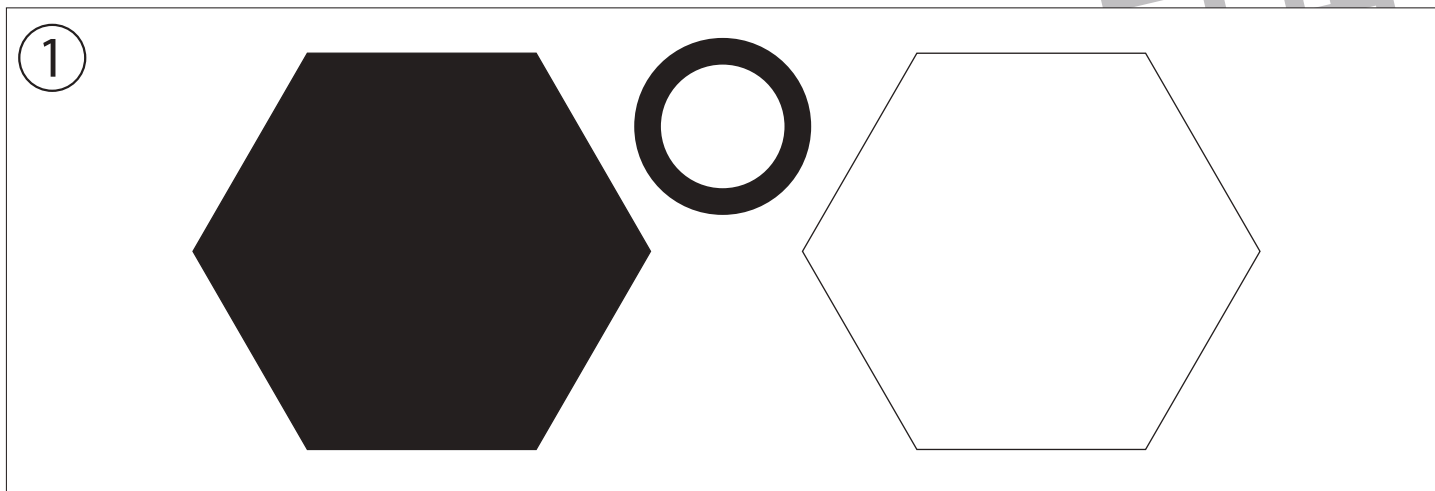
Study at home. 小学校受験の家庭学習教材

記憶：絵の記憶 28 記憶用紙

別紙『記憶 - 絵の記憶 28』を行う際に使用します。記憶用紙は点線で折って(切って)、①、②、③の問題の際にそれぞれ 20 秒間ずつ記憶させてください。記憶する際は問題用紙は裏返しにします。記憶後①、②、③それぞれの問題に答えましょう。

①～③覚えた形と同じになるように、形を塗ったりかいたりします。

※2024年7月22日(月)のオンライン授業では実施中に記憶する形を画面で表示します。



※1. このプリントは、しながわ・目黒こどもスクールのウェブサイトでダウンロードができます。無断複写・引用はご遠慮ください。

※2. このプリントを活用したオンライン授業のスケジュールは、しながわ・目黒こどもスクールのウェブサイトでご確認ください。



おうちで、やろう。

Study at home. 小学校受験の家庭学習教材

記憶：絵の記憶 28

別紙『記憶 - 絵の記憶 28 記憶用紙』で①～③を記憶してから取り組みます。

①～③覚えた形と同じになるように形を塗ったりかいたりします。

※2024年7月22日(月)のオンライン授業では実施中に記憶する形を画面で表示します。

※このプリントの解答は記憶用紙で確認してください。

①

②

③

※1. このプリントは、しながわ・目黒こどもスクールのウェブサイトでダウンロードができます。無断複写・引用はご遠慮ください。

※2. このプリントを活用したオンライン授業のスケジュールは、しながわ・目黒こどもスクールのウェブサイトでご確認ください。






おうちで、やろう。

Study at home. 小学校受験の家庭学習教材

言語：しりとり 24

四角の中の絵をすべて使ってしりとりをする時、最初の絵を見つけて○をつけます。



※1. このプリントは、しながわ・目黒こどもスクールのウェブサイトでダウンロードができます。無断複写・引用はご遠慮ください。
※2. このプリントを活用したオンライン授業のスケジュールは、しながわ・目黒こどもスクールのウェブサイトでご確認ください。





おうちで、やろう。

Study at home. 小学校受験の家庭学習教材

図形：重ね 29

左の四角のマスと真ん中の四角のマスを重ねた時に同じ形同士が重なるマスを右の四角のマスに塗ります。

※1. このプリントは、しながわ・目黒こどもスクールのウェブサイトでダウンロードができます。無断複写・引用はご遠慮ください。
 ※2. このプリントを活用したオンライン授業のスケジュールは、しながわ・目黒こどもスクールのウェブサイトでご確認ください。



おうちで、やろう。

Study at home. 小学校受験の家庭学習教材

図形：重ね 30

左の四角のマスと真ん中の四角のマスを重ねた時に同じ形同士が重なるマスを右の四角のマ스에塗ります。

※1. このプリントは、しながわ・目黒こどもスクールのウェブサイトでダウンロードができます。無断複写・引用はご遠慮ください。
 ※2. このプリントを活用したオンライン授業のスケジュールは、しながわ・目黒こどもスクールのウェブサイトでご確認ください。



おうちで、やろう。

Study at home. 小学校受験の家庭学習教材

図形：重ね 31

左の四角のマスと真ん中の四角のマスを重ねた時に同じ形同士が重なるマスを右の四角のマ스에塗ります。

○ □ ○	○ □ △	□ □ □
□ △ □	□ ○ □	□ □ □
△ ○ △	□ □ △	□ □ □

□ △ □	□ ○ ○	□ □ □
○ □ ○	△ □ △	□ □ □
○ △ □	○ △ □	□ □ □

□ □ ○	□ △ △	□ □ □
□ □ △ △	□ □ □	□ □ □
○ □ △	○ □ ○	□ □ □

△ □ △	△ □ □	□ □ □
○ □ ○	□ ○ ○	□ □ □
△ □ □	□ △ △	□ □ □

○ ○ □	△ △ □	□ □ □
□ □ △	□ ○ △	□ □ □
△ △ ○	□ ○ ○	□ □ □

※1. このプリントは、しながわ・目黒こどもスクールのウェブサイトでダウンロードができます。無断複写・引用はご遠慮ください。
 ※2. このプリントを活用したオンライン授業のスケジュールは、しながわ・目黒こどもスクールのウェブサイトでご確認ください。

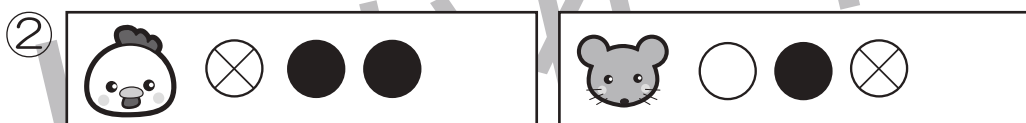

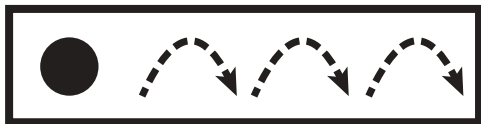


おうちで、やろう。

Study at home. 小学校受験の家庭学習教材

推理：条件推理 25

ニワトリとネズミが競争をします。2匹は箱からボールを取り、出たボールによって進めるマスが決まります。その約束が上の太い四角です。それぞれのボールの右にある矢印の数だけマスを進めます。ニワトリとネズミがそれぞれ絵の右に並んでいるボールが出た時、最後に着いた場所を塗ります。また、たくさん進んだ方に○をつけます。○はスタートの絵につけましょう。



※1. このプリントは、しながわ・目黒こどもスクールのウェブサイトでダウンロードができます。無断複写・引用はご遠慮ください。
※2. このプリントを活用したオンライン授業のスケジュールは、しながわ・目黒こどもスクールのウェブサイトでご確認ください。


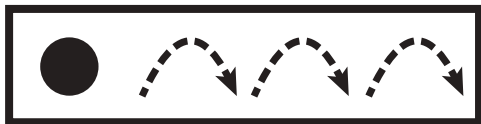


おうちで、やろう。

Study at home. 小学校受験の家庭学習教材

推理：条件推理 26

ニワトリとネズミが競争をします。2匹は箱からボールを取り、出たボールによって進めるマスが決まります。その約束が上の太い四角です。それぞれのボールの右にある矢印の数だけマスを進めます。ニワトリとネズミがそれぞれ絵の右に並んでいるボールが出た時、最後に着いた場所を塗ります。また、たくさん進んだ方に○をつけます。○はスタートの絵につけましょう。



※1. このプリントは、しながわ・目黒こどもスクールのウェブサイトでダウンロードができます。無断複写・引用はご遠慮ください。

※2. このプリントを活用したオンライン授業のスケジュールは、しながわ・目黒こどもスクールのウェブサイトでご確認ください。







おうちで、やろう。

Study at home. 小学校受験の家庭学習教材

数量：置き換え 25

太い四角の中の食べ物は右のお財布の中のコインで買うことができます。このとき、左の四角の中の食べ物を買うにはコインが何枚必要かを考えて、右の四角の中に〇をかきます。



※1. このプリントは、しながわ・目黒こどもスクールのウェブサイトでダウンロードができます。無断複写・引用はご遠慮ください。

※2. このプリントを活用したオンライン授業のスケジュールは、しながわ・目黒こどもスクールのウェブサイトでご確認ください。






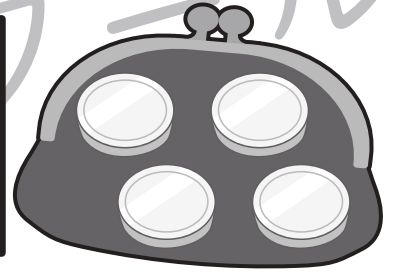

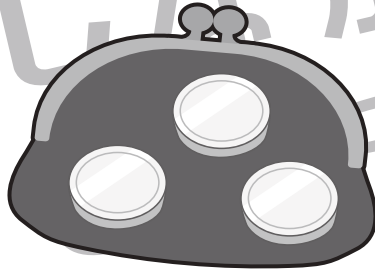


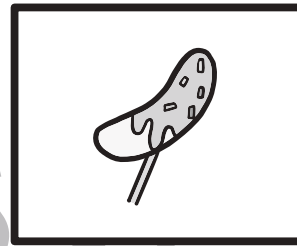



おうちで、やろう。

Study at home. 小学校受験の家庭学習教材

数量：置き換え 26

太い四角の中の食べ物は右のお財布の中のコインで買うことができます。このとき、左の四角の中の食べ物を買うにはコインが何枚必要かを考えて、右の四角の中に○をかきます。



※1. このプリントは、しながわ・目黒こどもスクールのウェブサイトでダウンロードができます。無断複写・引用はご遠慮ください。

※2. このプリントを活用したオンライン授業のスケジュールは、しながわ・目黒こどもスクールのウェブサイトでご確認ください。






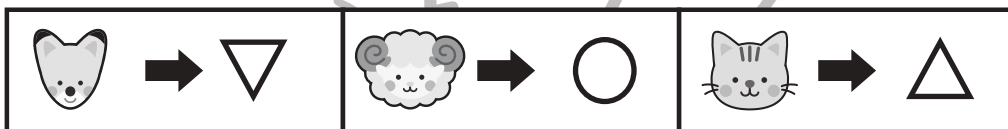
おうちで、やろう。

Study at home. 小学校受験の家庭学習教材

処理能力：置き換え 8

上の太い四角の中が約束です。この約束通りに上のマスの果物を形に変えて下のマスに描きます。
※このプリントに解答はありません。





※1. このプリントは、しながわ・目黒こどもスクールのウェブサイトでダウンロードができます。無断複写・引用はご遠慮ください。
※2. このプリントを活用したオンライン授業のスケジュールは、しながわ・目黒こどもスクールのウェブサイトでご確認ください。

