






おうちで、やろう。

Study at home. 小学校受験の家庭学習教材

言語：しりとり 24

四角の中の絵をすべて使ってしりとりをする時、最初の絵を見つけて○をつけます。



※1. このプリントは、しながわ・目黒こどもスクールのウェブサイトからダウンロードができます。無断複写・引用はご遠慮ください。
※2. このプリントを活用したオンライン授業のスケジュールは、しながわ・目黒こどもスクールのウェブサイトでご確認ください。





おうちで、やろう。

Study at home. 小学校受験の家庭学習教材

図形：重ね 29

左の四角のマスと真ん中の四角のマスを重ねた時に同じ形同士が重なるマスを右の四角のマ스에塗ります。

※1. このプリントは、しながわ・目黒こどもスクールのウェブサイトでダウンロードができます。無断複写・引用はご遠慮ください。
 ※2. このプリントを活用したオンライン授業のスケジュールは、しながわ・目黒こどもスクールのウェブサイトでご確認ください。



おうちで、やろう。

Study at home. 小学校受験の家庭学習教材

図形：重ね 30

左の四角のマスと真ん中の四角のマスを重ねた時に同じ形同士が重なるマスを右の四角のマ스에塗ります。

※1. このプリントは、しながわ・目黒こどもスクールのウェブサイトでダウンロードができます。無断複写・引用はご遠慮ください。
 ※2. このプリントを活用したオンライン授業のスケジュールは、しながわ・目黒こどもスクールのウェブサイトでご確認ください。



おうちで、やろう。

Study at home. 小学校受験の家庭学習教材

図形：重ね 31

左の四角のマスと真ん中の四角のマスを重ねた時に同じ形同士が重なるマスを右の四角のマ스에塗ります。

<table border="1"> <tr><td>○</td><td></td><td>○</td></tr> <tr><td></td><td>△</td><td></td></tr> <tr><td>△</td><td>○</td><td>△</td></tr> </table>	○		○		△		△	○	△	<table border="1"> <tr><td>○</td><td></td><td>△</td></tr> <tr><td></td><td>○</td><td></td></tr> <tr><td></td><td></td><td>△</td></tr> </table>	○		△		○				△	<table border="1"> <tr><td>■</td><td></td><td></td></tr> <tr><td></td><td></td><td></td></tr> <tr><td></td><td></td><td>■</td></tr> </table>	■								■
○		○																											
	△																												
△	○	△																											
○		△																											
	○																												
		△																											
■																													
		■																											
<table border="1"> <tr><td></td><td>△</td><td></td></tr> <tr><td>○</td><td></td><td>○</td></tr> <tr><td>○</td><td>△</td><td></td></tr> </table>		△		○		○	○	△		<table border="1"> <tr><td></td><td>○</td><td>○</td></tr> <tr><td>△</td><td></td><td>△</td></tr> <tr><td>○</td><td>△</td><td></td></tr> </table>		○	○	△		△	○	△		<table border="1"> <tr><td></td><td></td><td></td></tr> <tr><td></td><td></td><td></td></tr> <tr><td>■</td><td>■</td><td></td></tr> </table>							■	■	
	△																												
○		○																											
○	△																												
	○	○																											
△		△																											
○	△																												
■	■																												
<table border="1"> <tr><td></td><td></td><td>○</td></tr> <tr><td>□</td><td>△</td><td>△</td></tr> <tr><td>○</td><td></td><td>△</td></tr> </table>			○	□	△	△	○		△	<table border="1"> <tr><td></td><td>△</td><td>△</td></tr> <tr><td>□</td><td></td><td>□</td></tr> <tr><td>○</td><td></td><td>○</td></tr> </table>		△	△	□		□	○		○	<table border="1"> <tr><td></td><td></td><td></td></tr> <tr><td>■</td><td></td><td></td></tr> <tr><td></td><td></td><td></td></tr> </table>				■					
		○																											
□	△	△																											
○		△																											
	△	△																											
□		□																											
○		○																											
■																													
<table border="1"> <tr><td>△</td><td>□</td><td>△</td></tr> <tr><td>○</td><td></td><td>○</td></tr> <tr><td>△</td><td></td><td>□</td></tr> </table>	△	□	△	○		○	△		□	<table border="1"> <tr><td>△</td><td>□</td><td>□</td></tr> <tr><td>□</td><td>○</td><td>○</td></tr> <tr><td></td><td>△</td><td>△</td></tr> </table>	△	□	□	□	○	○		△	△	<table border="1"> <tr><td>■</td><td>■</td><td></td></tr> <tr><td></td><td></td><td>■</td></tr> <tr><td></td><td></td><td></td></tr> </table>	■	■				■			
△	□	△																											
○		○																											
△		□																											
△	□	□																											
□	○	○																											
	△	△																											
■	■																												
		■																											
<table border="1"> <tr><td>○</td><td>○</td><td>□</td></tr> <tr><td>□</td><td>□</td><td>△</td></tr> <tr><td>△</td><td>△</td><td>○</td></tr> </table>	○	○	□	□	□	△	△	△	○	<table border="1"> <tr><td>△</td><td>△</td><td>□</td></tr> <tr><td>□</td><td>○</td><td>△</td></tr> <tr><td>□</td><td>○</td><td>○</td></tr> </table>	△	△	□	□	○	△	□	○	○	<table border="1"> <tr><td></td><td></td><td>■</td></tr> <tr><td>■</td><td></td><td></td></tr> <tr><td></td><td></td><td>■</td></tr> </table>			■	■					■
○	○	□																											
□	□	△																											
△	△	○																											
△	△	□																											
□	○	△																											
□	○	○																											
		■																											
■																													
		■																											

※1. このプリントは、しながわ・目黒こどもスクールのウェブサイトでダウンロードができます。無断複写・引用はご遠慮ください。

※2. このプリントを活用したオンライン授業のスケジュールは、しながわ・目黒こどもスクールのウェブサイトでご確認ください。


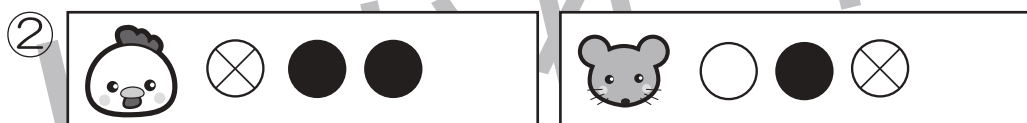



おうちで、やろう。

Study at home. 小学校受験の家庭学習教材

推理：条件推理 25

ニワトリとネズミが競争をします。2匹は箱からボールを取り、出たボールによって進めるマスが決まります。その約束が上の太い四角です。それぞれのボールの右にある矢印の数だけマスを進めます。ニワトリとネズミがそれぞれ絵の右に並んでいるボールが出た時、最後に着いた場所を塗ります。また、たくさん進んだ方に○をつけます。○はスタートの絵につけましょう。



※1. このプリントは、しながわ・目黒こどもスクールのウェブサイトでダウンロードができます。無断複写・引用はご遠慮ください。
※2. このプリントを活用したオンライン授業のスケジュールは、しながわ・目黒こどもスクールのウェブサイトでご確認ください。





おうちで、やろう。

Study at home. 小学校受験の家庭学習教材

推理：条件推理 26

ニワトリとネズミが競争をします。2匹は箱からボールを取り、出たボールによって進めるマスが決まります。その約束が上の太い四角です。それぞれのボールの右にある矢印の数だけマスを進めます。ニワトリとネズミがそれぞれ絵の右に並んでいるボールが出た時、最後に着いた場所を塗ります。また、たくさん進んだ方に○をつけます。○はスタートの絵につけましょう。



※1. このプリントは、しながわ・目黒こどもスクールのウェブサイトでダウンロードができます。無断複写・引用はご遠慮ください。
※2. このプリントを活用したオンライン授業のスケジュールは、しながわ・目黒こどもスクールのウェブサイトでご確認ください。






おうちで、やろう。

Study at home. 小学校受験の家庭学習教材

数量：置き換え 25

太い四角の中の食べ物は右のお財布の中のコインで買うことができます。このとき、左の四角の中の食べ物を買うにはコインが何枚必要かを考えて、右の四角の中に○をかきます。



$$\bigcirc \times 5$$



$$\bigcirc \times 6$$



$$\bigcirc \times 8$$



$$\bigcirc \times 7$$

※1. このプリントは、しながわ・目黒こどもスクールのウェブサイトでダウンロードができます。無断複写・引用はご遠慮ください。

※2. このプリントを活用したオンライン授業のスケジュールは、しながわ・目黒こどもスクールのウェブサイトでご確認ください。




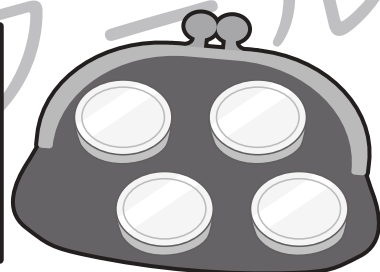

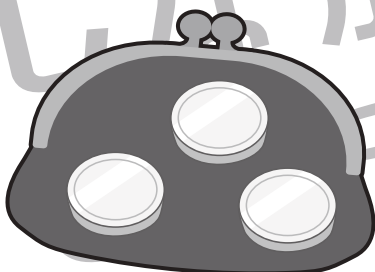


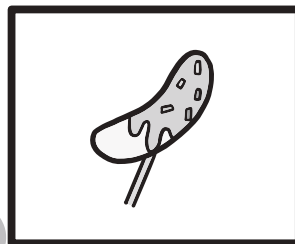



おうちで、やろう。


Study at home. 小学校受験の家庭学習教材

数量：置き換え 26


太い四角の中の食べ物は右のお財布の中のコインで買うことができます。このとき、左の四角の中の食べ物を買うにはコインが何枚必要かを考えて、右の四角の中に○をかきます。




$$\bigcirc \times 6$$



$$\bigcirc \times 6$$



$$\bigcirc \times 8$$



$$\bigcirc \times 11$$

※1. このプリントは、しながわ・目黒こどもスクールのウェブサイトでダウンロードができます。無断複写・引用はご遠慮ください。

※2. このプリントを活用したオンライン授業のスケジュールは、しながわ・目黒こどもスクールのウェブサイトでご確認ください。

