

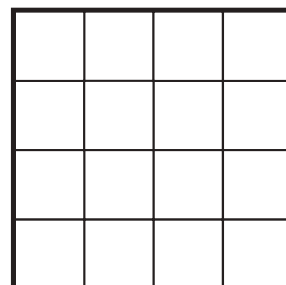

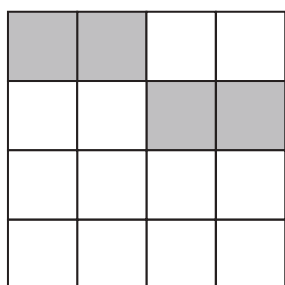
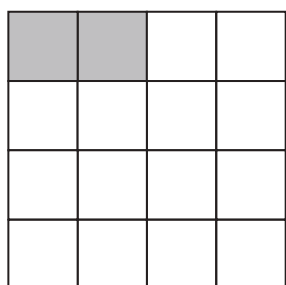
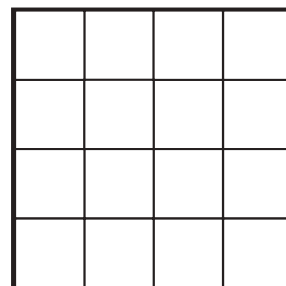

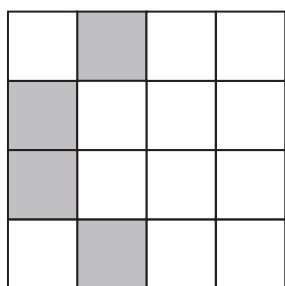
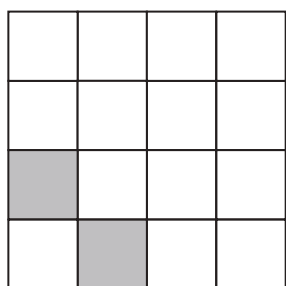
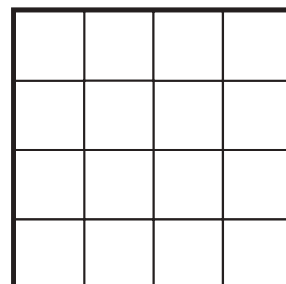

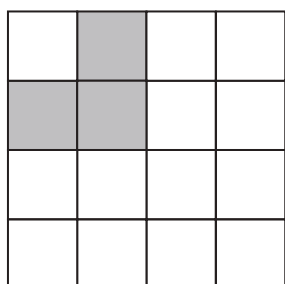
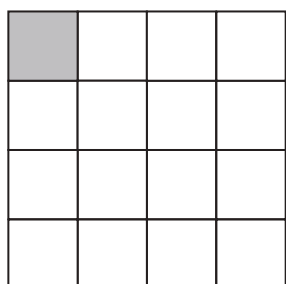

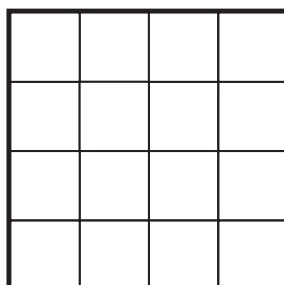


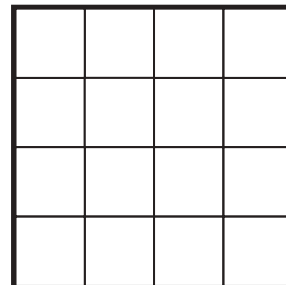
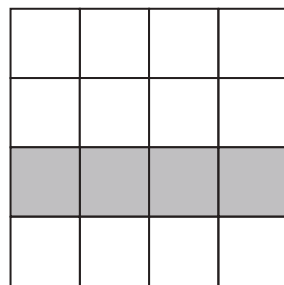
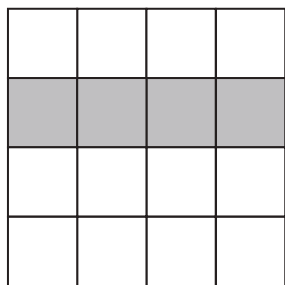
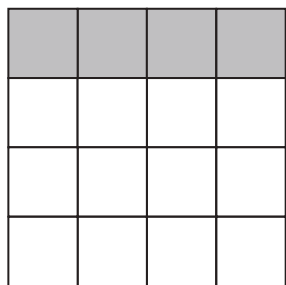


おうちで、やろう。

Study at home. 小学校受験の家庭学習教材

推理：系列完成 21

下の四角の中には白いマスと灰色のマスがあります。灰色のマスがある約束通りに動いたり、増えたりします。どんな約束なのかを考えて、太い四角の模様を塗ります。



※1. このプリントは、しながわ・目黒こどもスクールのウェブサイトでダウンロードができます。無断複写・引用はご遠慮ください。

※2. このプリントを活用したオンライン授業のスケジュールは、しながわ・目黒こどもスクールのウェブサイトでご確認ください。



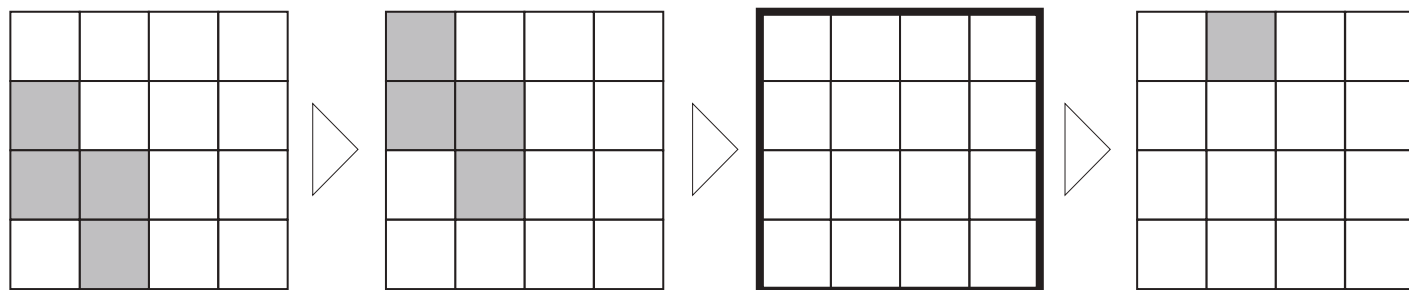
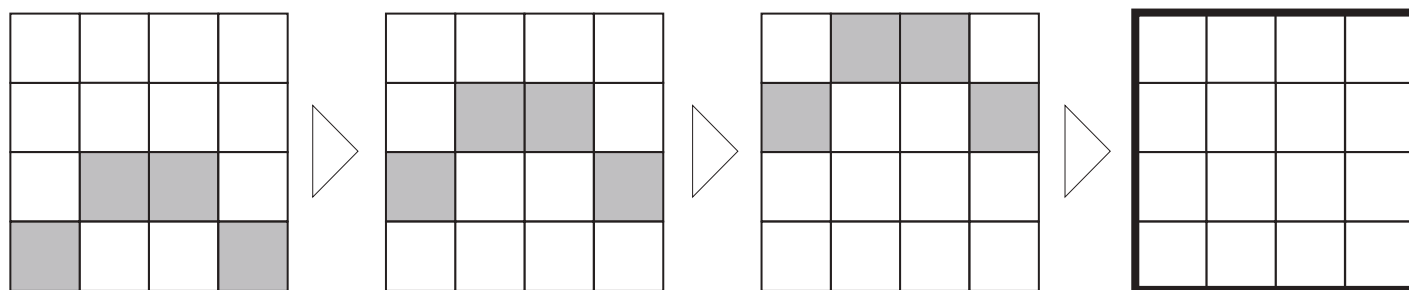
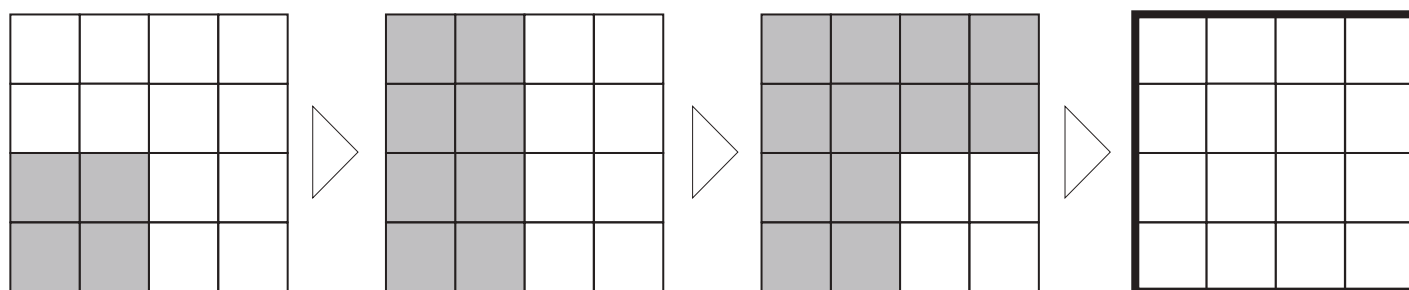
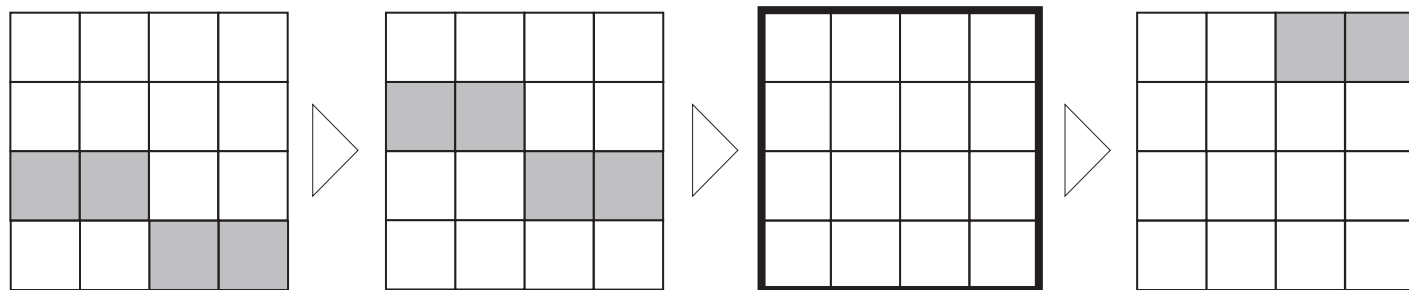
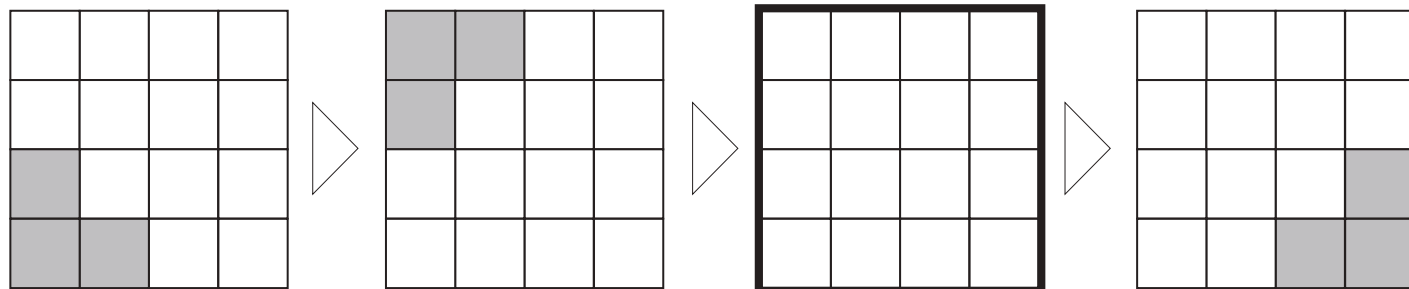


おうちで、やろう。

Study at home. 小学校受験の家庭学習教材

推理：系列完成 22

下の四角の中には白いマスと灰色のマスがあります。灰色のマスがある約束通りに動いたり、増えたりします。どんな約束なのかを考えて、太い四角の模様を塗ります。



※1. このプリントは、しながわ・目黒こどもスクールのウェブサイトからダウンロードできます。無断複写・引用はご遠慮ください。

※2. このプリントを活用したオンライン授業のスケジュールは、しながわ・目黒こどもスクールのウェブサイトでご確認ください。







おうちで、よろう。

Study at home. 小学校受験の家庭学習教材

図形：オセロ9

四角の中の白マスに1つだけ塗ると全てのマスが黒くなります。そのマスがどこかを考えて○を塗ります。



※1. このプリントは、しながわ・目黒こどもスクールのウェブサイトからダウンロードできます。無断複写・引用はご遠慮ください。
 ※2. このプリントを活用したオンライン授業のスケジュールは、しながわ・目黒こどもスクールのウェブサイトでご確認ください。







おうちで、やろう。

Study at home. 小学校受験の家庭学習教材

図形：オセロ 10

四角の中の白マスに 1 つだけ塗ると全てのマスが黒くなります。そのマスがどこかを考えて○を塗ります。



※1. このプリントは、しながわ・目黒こどもスクールのウェブサイトでダウンロードができます。無断複写・引用はご遠慮ください。
 ※2. このプリントを活用したオンライン授業のスケジュールは、しながわ・目黒こどもスクールのウェブサイトでご確認ください。



おうちで、やろう。

Study at home. 小学校受験の家庭学習教材





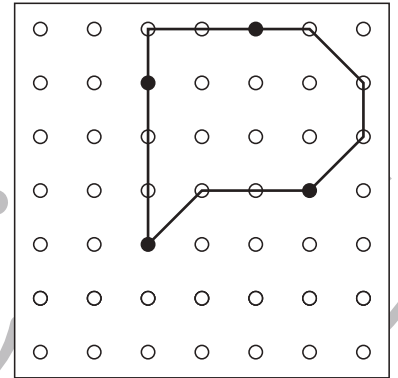
図形：島作り8

黒丸と白丸を通して1本の線をつなぎ、島を作ります。

ルール

- ①黒丸は全て通り、白丸は6つ通るようにつなぎます。
- ②線は縦、横、斜めに引くことができますが丸と丸とつなぐときは、よるよる線にならないように、真っ直ぐな線をかきましょう。

お手本



※1. このプリントは、しながわ・目黒こどもスクールのウェブサイトでダウンロードができます。無断複写・引用はご遠慮ください。
 ※2. このプリントを活用したオンライン授業のスケジュールは、しながわ・目黒こどもスクールのウェブサイトでご確認ください。



おうちで、やろう。

Study at home. 小学校受験の家庭学習教材





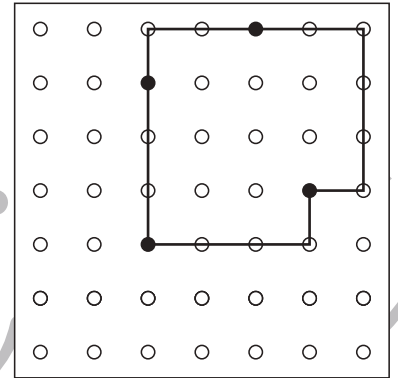
図形：島作り 9

黒丸と白丸を通して1本の線をつなぎ、島を作ります。

ルール

- ①黒丸は全て通り、白丸は8つ通るようにつなぎます。
- ②線は縦、横、斜めに引くことができますが丸と丸とつなぐときは
 によりよ線にならないように、真っ直ぐな線をかきましょう。

お手本



※1. このプリントは、しながわ・目黒こどもスクールのウェブサイトでダウンロードができます。無断複写・引用はご遠慮ください。
 ※2. このプリントを活用したオンライン授業のスケジュールは、しながわ・目黒こどもスクールのウェブサイトでご確認ください。
















おうちで、やろう。

Study at home. 小学校受験の家庭学習教材

数量：分割 14

太い四角が一人分です。真ん中の食べ物は何人分ありますか。その数だけ右の四角に○をかきます。



※1. このプリントは、しながわ・目黒こどもスクールのウェブサイトでダウンロードができます。無断複写・引用はご遠慮ください。
※2. このプリントを活用したオンライン授業のスケジュールは、しながわ・目黒こどもスクールのウェブサイトでご確認ください。
















おうちで、やろう。

Study at home. 小学校受験の家庭学習教材

数量：分割 15

太い四角が一人分です。真ん中の食べ物は何人分ありますか。その数だけ右の四角に○をかきます。



※1. このプリントは、しながわ・目黒こどもスクールのウェブサイトでダウンロードができます。無断複写・引用はご遠慮ください。
※2. このプリントを活用したオンライン授業のスケジュールは、しながわ・目黒こどもスクールのウェブサイトでご確認ください。




おうちで、やろう。

Study at home. 小学校受験の家庭学習教材

巧緻性：はさみ7

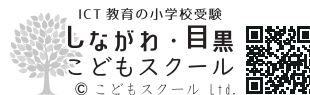
- ①太い線の中に蝶をクーピーでかきます。 ②かいた蝶の外側の太い線をはさみで切ります。
※この問題に解答はありません。

しながわ・目黒
こどもスクール



しながわ・目黒
こどもスクール

※1. このプリントは、しながわ・目黒こどもスクールのウェブサイトでダウンロードができます。無断複写・引用はご遠慮ください。
※2. このプリントを活用したオンライン授業のスケジュールは、しながわ・目黒こどもスクールのウェブサイトでご確認ください。





おうちで、やろう。

Study at home. 小学校受験の家庭学習教材

巧緻性：はさみ 8

- ①洋服に好きな絵をクーピーでかきます。 ②かいた洋風の外側の太い線をはさみで切ります。
※この問題に解答はありません。



しながわ・目黒
こどもスクール

※1. このプリントは、しながわ・目黒こどもスクールのウェブサイトでダウンロードができます。無断複写・引用はご遠慮ください。
※2. このプリントを活用したオンライン授業のスケジュールは、しながわ・目黒こどもスクールのウェブサイトでご確認ください。

