



おうちで、やろう。

Study at home. 小学校受験の家庭学習教材

推理：系列完成 22

下の四角の中には白いマスと灰色のマスがあります。灰色のマスがある約束通りに動いたり、増えたりします。どんな約束なのかを考えて、太い四角の模様を塗ります。

	▶		▶		▶	
	▶		▶		▶	
	▶		▶		▶	
	▶		▶		▶	
	▶		▶		▶	
	▶		▶		▶	
	▶		▶		▶	

※1. このプリントは、しながわ・目黒こどもスクールのウェブサイトからダウンロードできます。無断複製・引用はご遠慮ください。

※2. このプリントを活用したオンライン授業のスケジュールは、しながわ・目黒こどもスクールのウェブサイトでご確認ください。


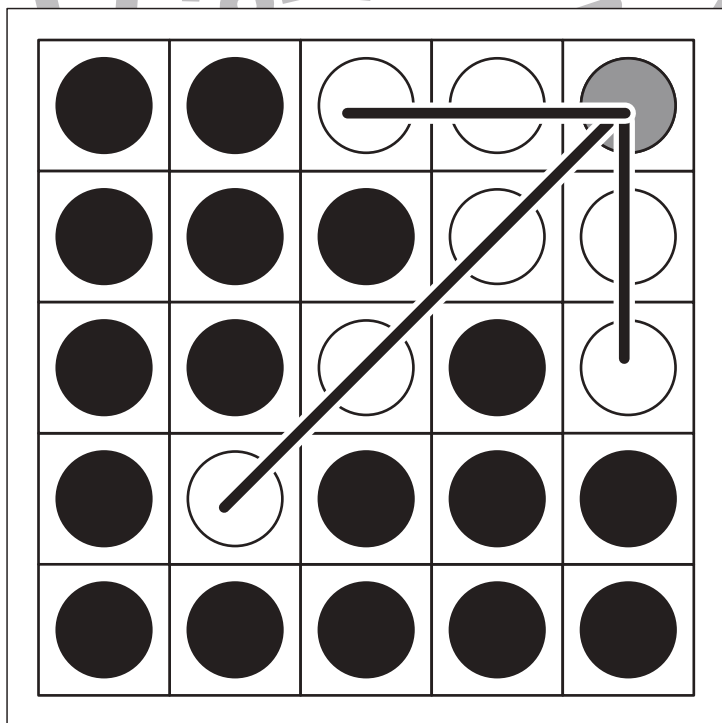
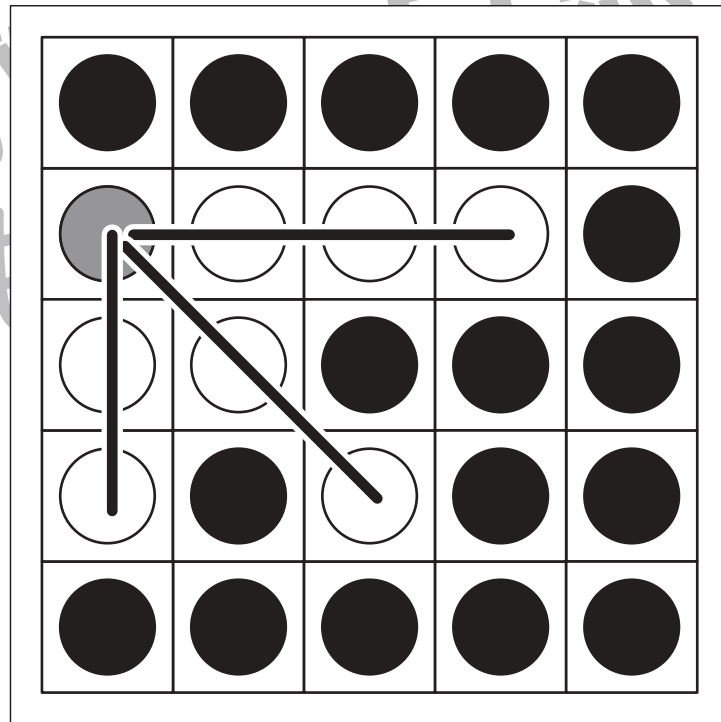
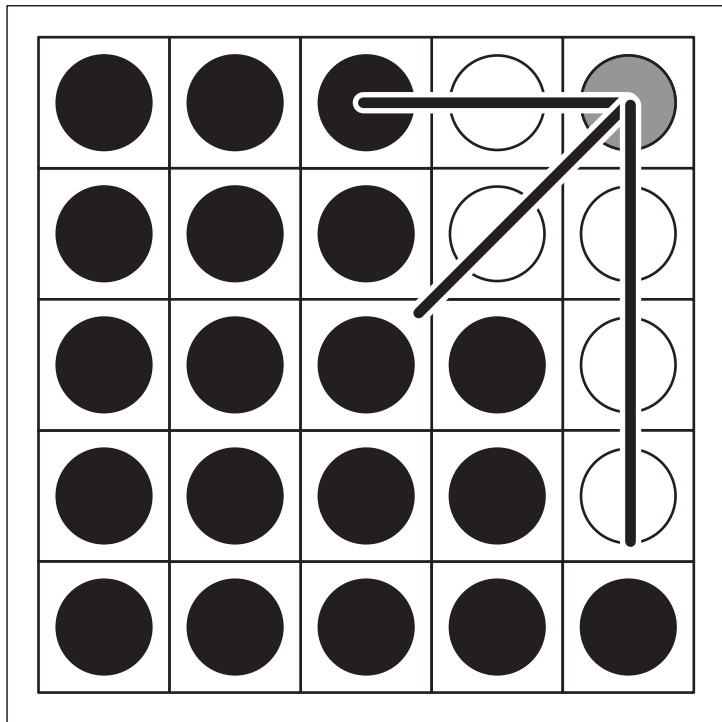


おうちで、やろう。

Study at home. 小学校受験の家庭学習教材

図形：オセロ9

四角の中の白マスに1つだけ塗ると全てのマスが黒くなります。そのマスがどこかを考えて○を塗ります。



※1. このプリントは、しながわ・目黒こどもスクールのウェブサイトでダウンロードができます。無断複写・引用はご遠慮ください。
 ※2. このプリントを活用したオンライン授業のスケジュールは、しながわ・目黒こどもスクールのウェブサイトでご確認ください。

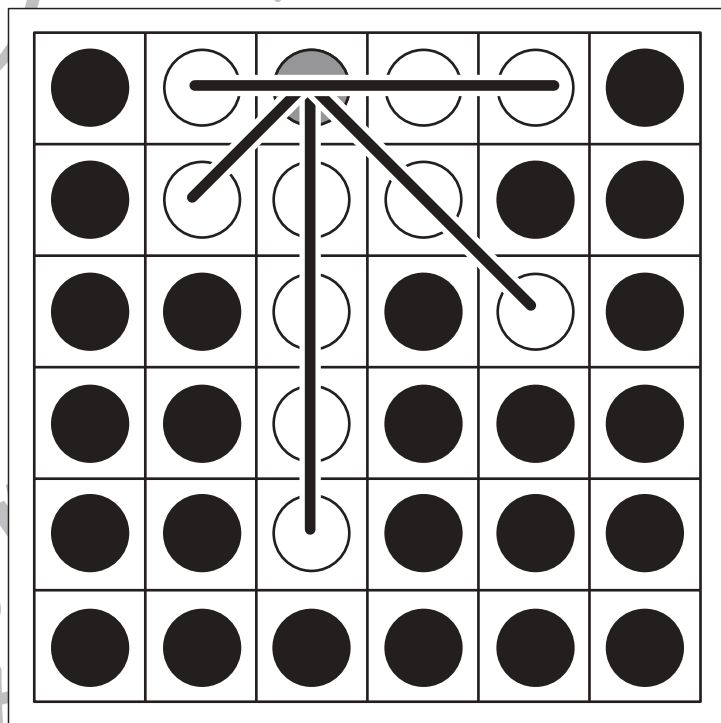
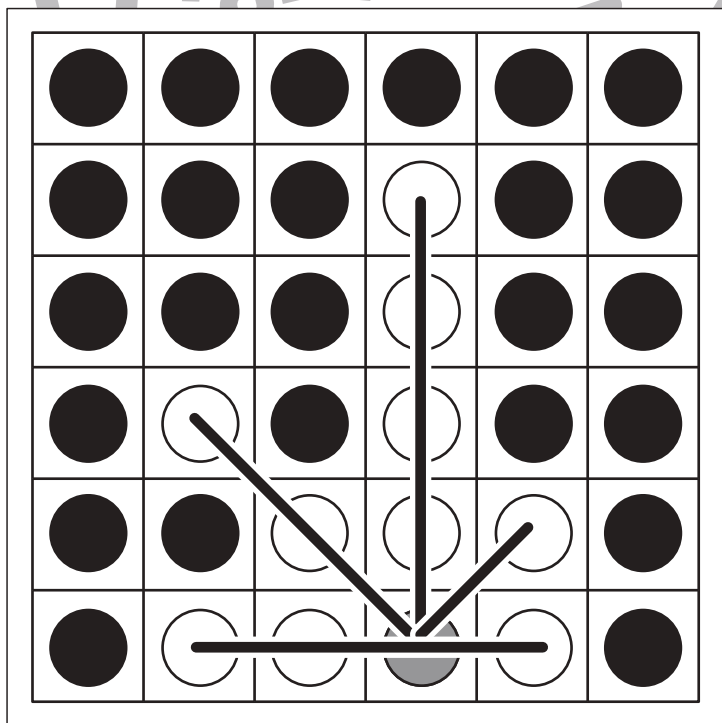
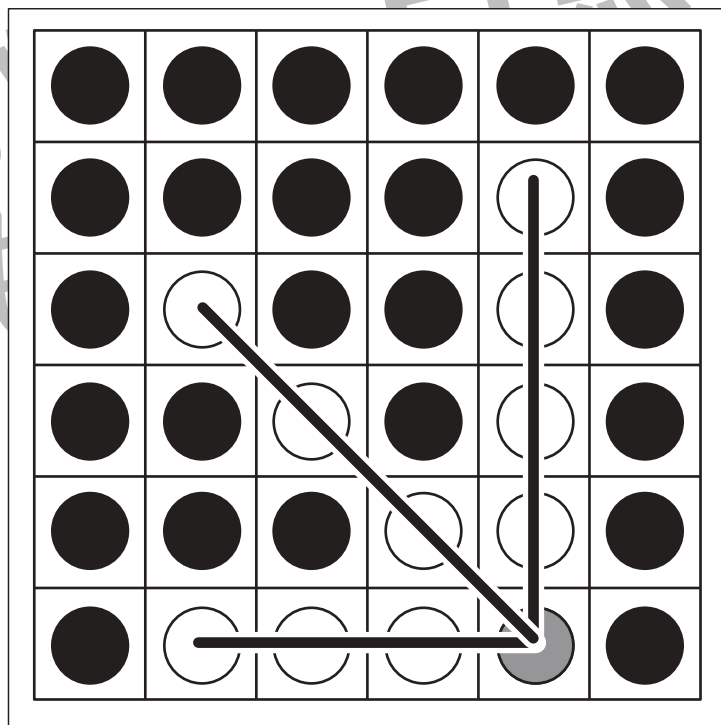
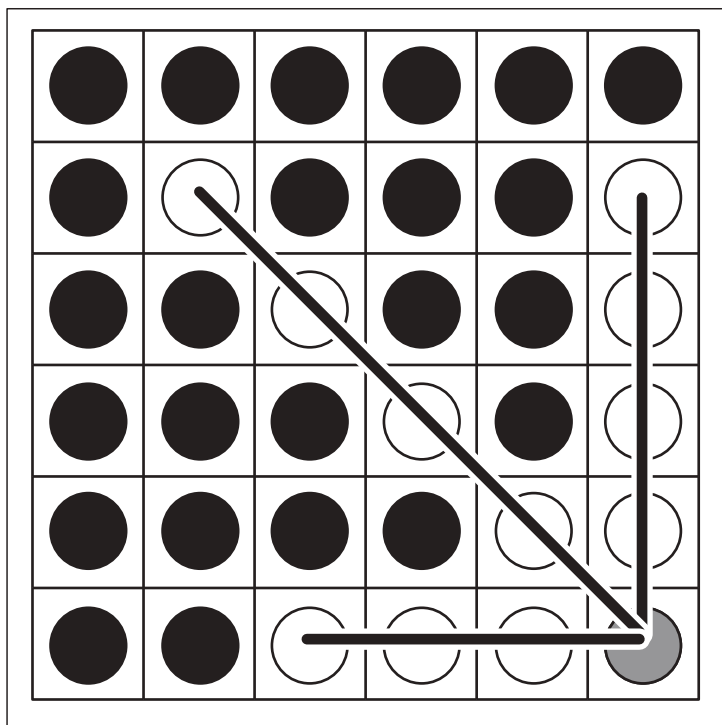


おうちで、やろう。

Study at home. 小学校受験の家庭学習教材

図形：オセロ 10

四角の中の白マスに 1 つだけ塗ると全てのマスが黒くなります。そのマスがどこかを考えて○を塗ります。



※1. このプリントは、しながわ・目黒こどもスクールのウェブサイトでダウンロードができます。無断複写・引用はご遠慮ください。
※2. このプリントを活用したオンライン授業のスケジュールは、しながわ・目黒こどもスクールのウェブサイトでご確認ください。



おうちで、やろう。

Study at home. 小学校受験の家庭学習教材

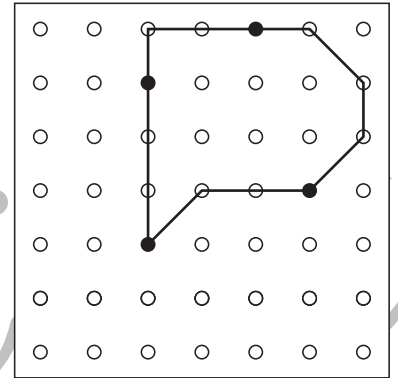
図形：島作り 8

黒丸と白丸を通して1本の線をつなぎ、島を作ります。

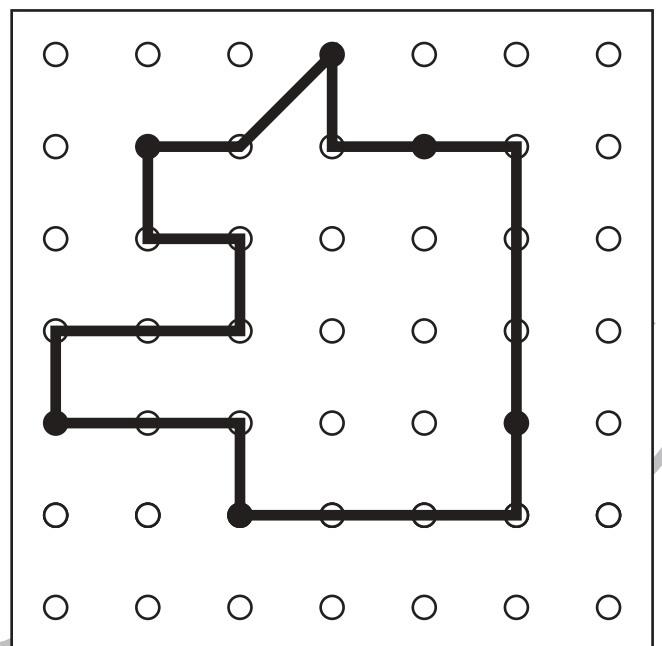
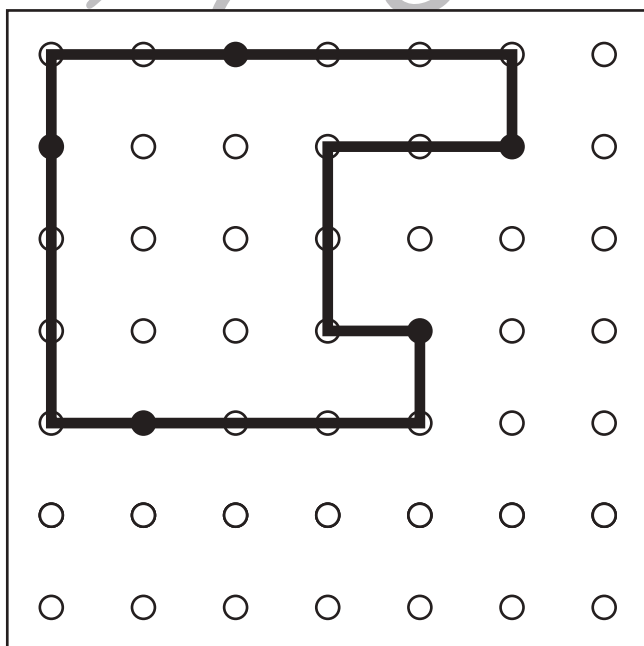
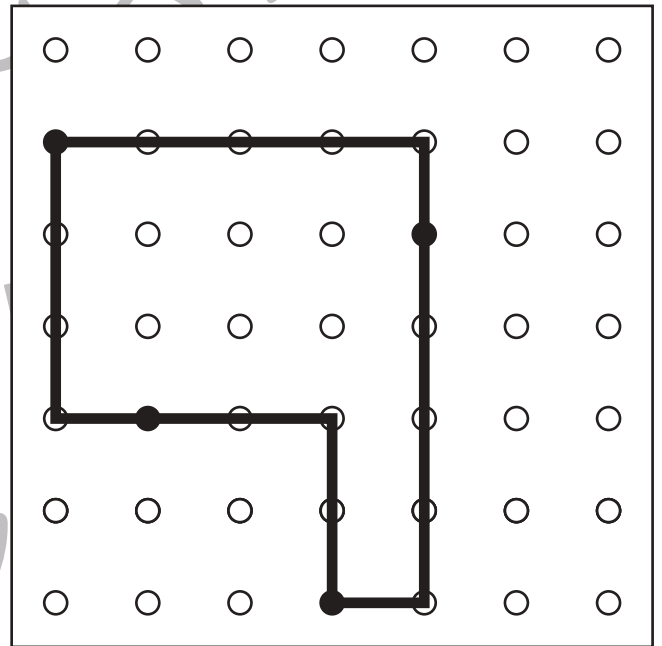
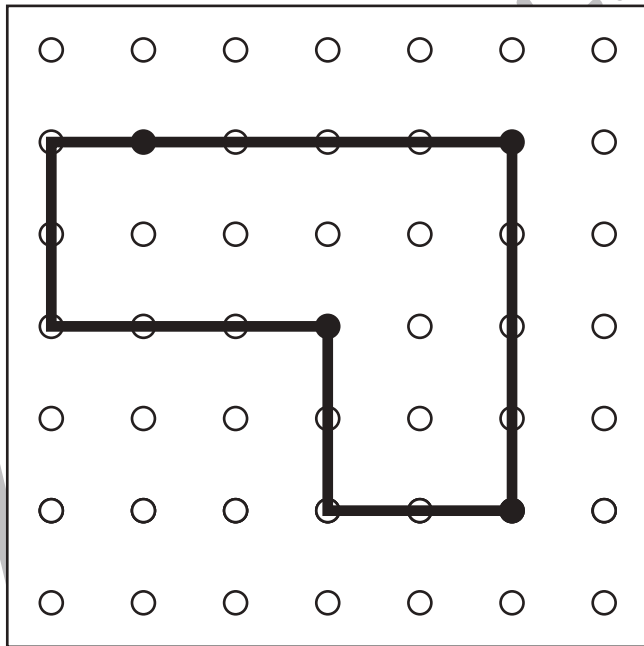
ルール

- ①黒丸は全て通り、白丸は6つ通るようにつなぎます。
- ②線は縦、横、斜めに引くことができますが丸と丸とつなぐときは、よるよる線にならないように、真っ直ぐな線をかきましょう。

お手本



※解答は一例です。約束通りに丸を通していた場合は正解としてください。





おうちで、やろう。

Study at home. 小学校受験の家庭学習教材

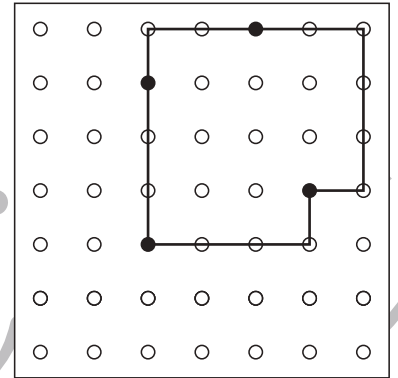
図形：島作り9

黒丸と白丸を通して1本の線をつなぎ、島を作ります。

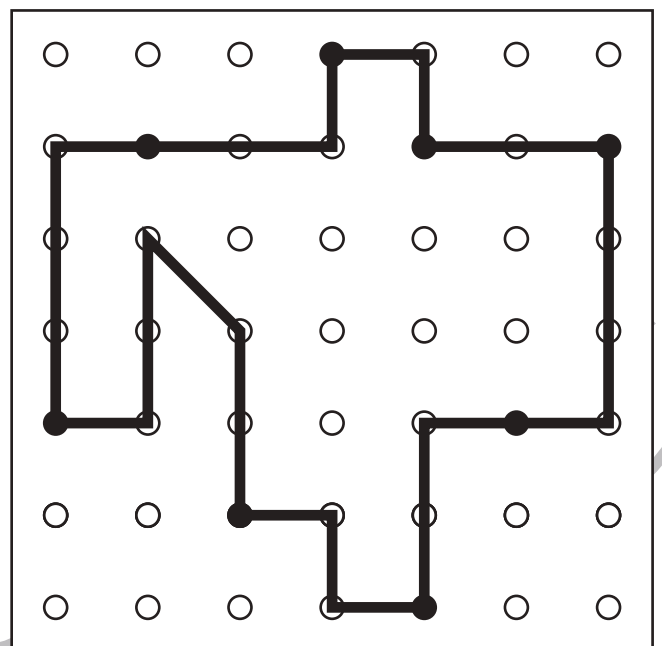
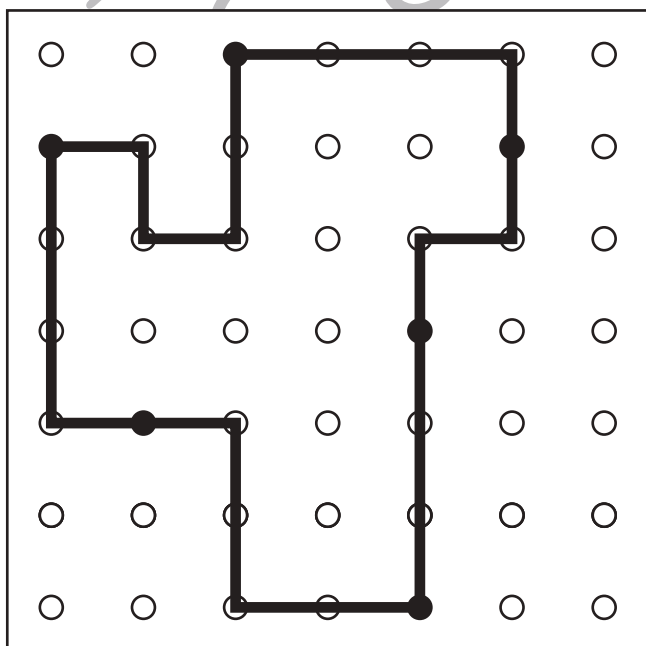
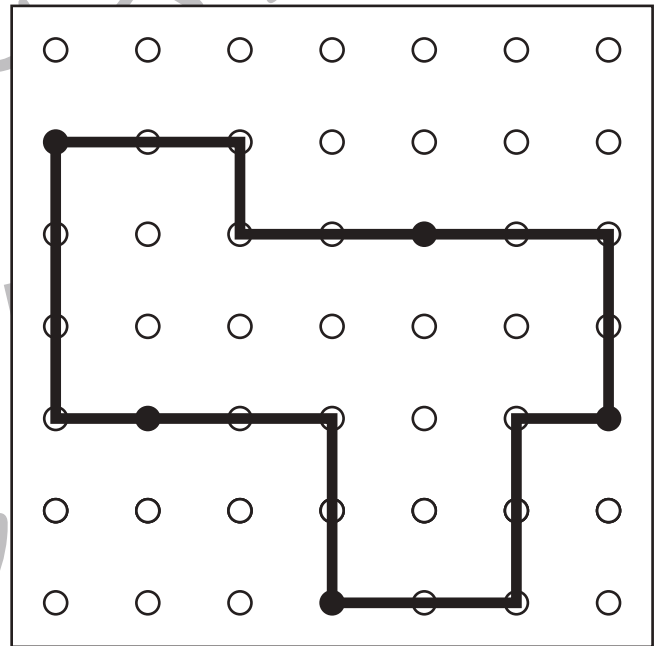
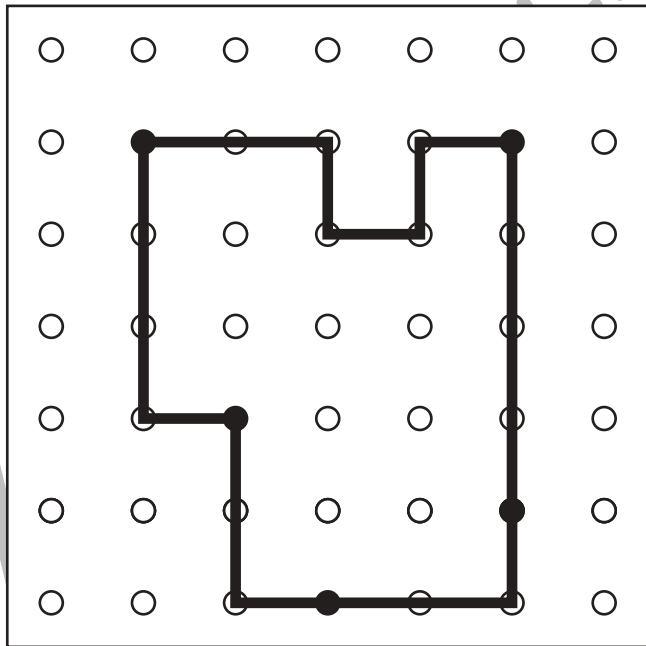
ルール

- ①黒丸は全て通り、白丸は8つ通るようにつなぎます。
- ②線は縦、横、斜めに引くことができますが丸と丸とつなぐときは、よろよろ線にならないように、真っ直ぐな線をかきましょう。

お手本



※解答は一例です。約束通りに丸を通していた場合は正解としてください。





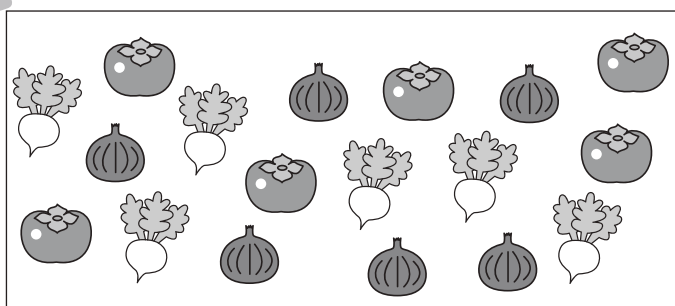









おうちで、やろう。

Study at home. 小学校受験の家庭学習教材

数量：分割 14

太い四角が一人分です。真ん中の食べ物は何人分ありますか。その数だけ右の四角に○をかきます。



※1. このプリントは、しながわ・目黒こどもスクールのウェブサイトでダウンロードができます。無断複写・引用はご遠慮ください。
※2. このプリントを活用したオンライン授業のスケジュールは、しながわ・目黒こどもスクールのウェブサイトでご確認ください。













おうちで、やろう。

Study at home. 小学校受験の家庭学習教材

数量：分割 15

太い四角が一人分です。真ん中の食べ物は何人分ありますか。その数だけ右の四角に○をかきます。



※1. このプリントは、しながわ・目黒こどもスクールのウェブサイトでダウンロードができます。無断複写・引用はご遠慮ください。
※2. このプリントを活用したオンライン授業のスケジュールは、しながわ・目黒こどもスクールのウェブサイトでご確認ください。