



おうちで、やろう。

Study at home. 小学校受験の家庭学習教材

記憶：絵の記憶 29

別紙『記憶 - 絵の記憶 29 記憶用紙』で①～③を記憶してから取り組みます。

① 飴があった場所に○をかきます。

② ハンバーガーがあった場所に○、ポテトがあった場所に△をかきます。

③ 団子があった場所に○、どら焼きがあった場所に△をかきます。

※2024年7月26日(金)のオンライン授業では実施中に記憶する形を画面で表示します。

①

			○
		○	
	○		

②

○		△	
			△

③

○			△
	○		
△		○	

※1. このプリントは、しながわ・目黒こどもスクールのウェブサイトでダウンロードができます。無断複写・引用はご遠慮ください。

※2. このプリントを活用したオンライン授業のスケジュールは、しながわ・目黒こどもスクールのウェブサイトでご確認ください。

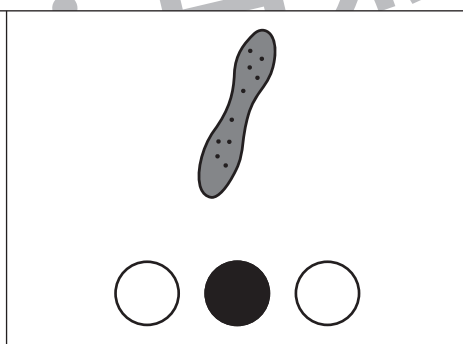
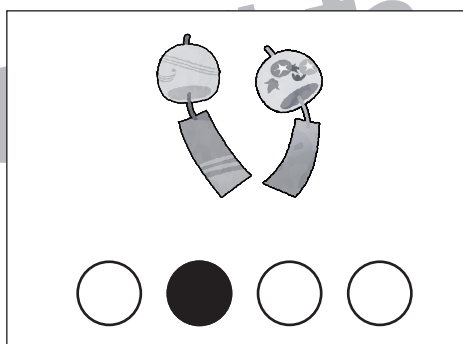
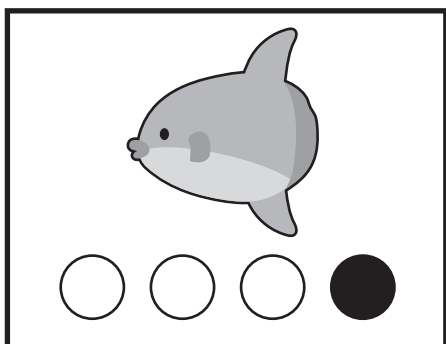
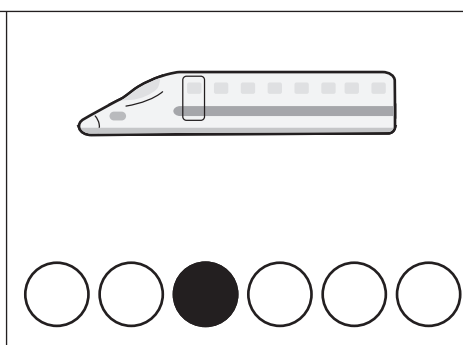


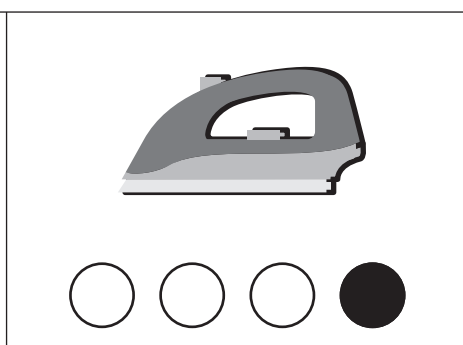
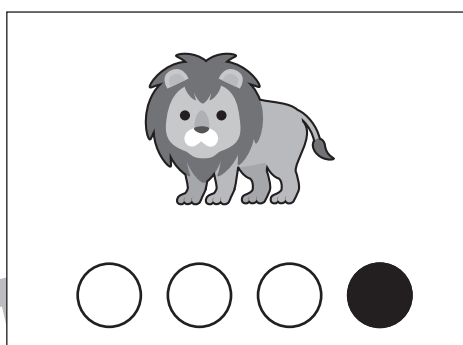

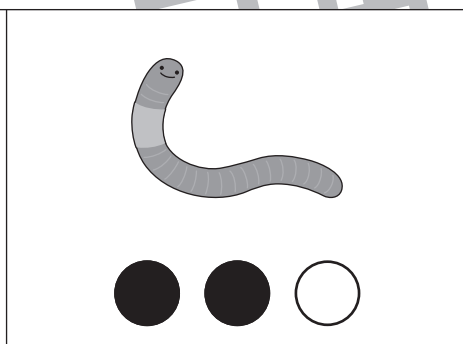
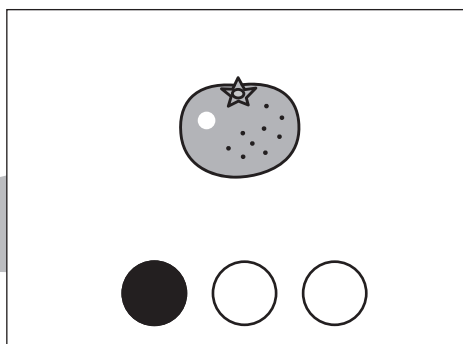
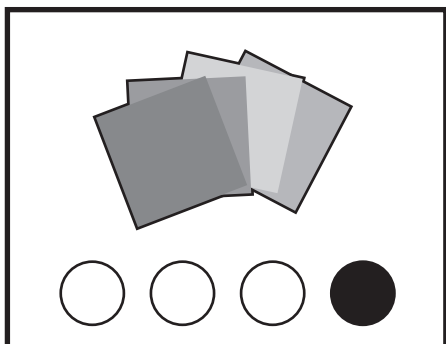


おうちで、やろう。

Study at home. 小学校受験の家庭学習教材

言語：音の理解 38

左の四角がお手本です。絵の下の○は音の数を表しています。●の場所と同じ音の場所を見つけて○を塗ります。



※1. このプリントは、しながわ・目黒こどもスクールのウェブサイトでダウンロードができます。無断複写・引用はご遠慮ください。
※2. このプリントを活用したオンライン授業のスケジュールは、しながわ・目黒こどもスクールのウェブサイトでご確認ください。






おうちで、やろう。

Study at home. 小学校受験の家庭学習教材


推理：条件推理 27

上の四角が約束です。カエルは 1 マス、ウサギは 2 マス、カンガルーは 3 マスずつ進むことができます。


- ①カエルとウサギが同時に矢印の方向に進むとき、出会う場所のマス塗ります。
- ②ウサギとカンガルーが同時に矢印の方向に進むとき、出会う場所のマス塗ります。
- ③カエルとカンガルーが同時に矢印の方向に進むとき、カンガルーがカエルを追いつくマス塗ります。
- ④カエルとウサギが同時に矢印の方向に進むとき、ウサギがカエルを追いつくマス塗ります。



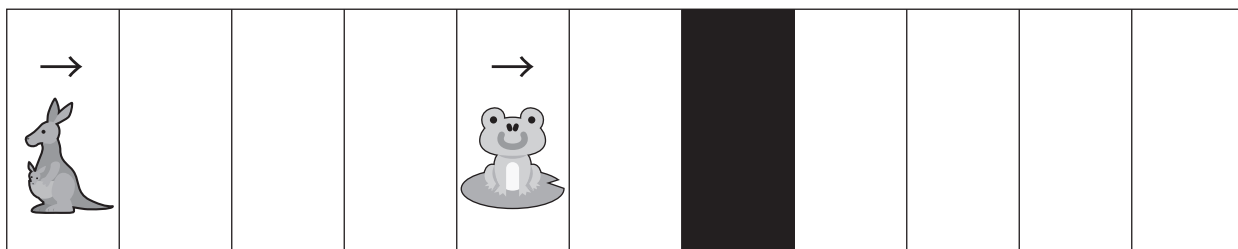
①




②



③



④



※1. このプリントは、しながわ・目黒こどもスクールのウェブサイトでダウンロードができます。無断複写・引用はご遠慮ください。
 ※2. このプリントを活用したオンライン授業のスケジュールは、しながわ・目黒こどもスクールのウェブサイトでご確認ください。



おうちで、やろう。

Study at home. 小学校受験の家庭学習教材


推理：条件推理 28

上の四角が約束です。カエルは 1 マス、ウサギは 2 マス、カンガルーは 3 マスずつ進むことができます。



①カエルとウサギが同時に矢印の方向に進むとき、出会う場所のマス塗ります。

②カンガルーとカエルが同時に矢印の方向に進むとき、出会う場所のマス塗ります。



③カンガルーとウサギが同時に矢印の方向に進むとき、カンガルーがウサギを追いつくマス塗ります。



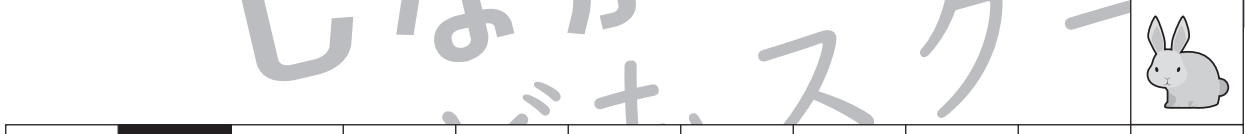

①



②



③



※1. このプリントは、しながわ・目黒こどもスクールのウェブサイトでダウンロードができます。無断複写・引用はご遠慮ください。

※2. このプリントを活用したオンライン授業のスケジュールは、しながわ・目黒こどもスクールのウェブサイトでご確認ください。



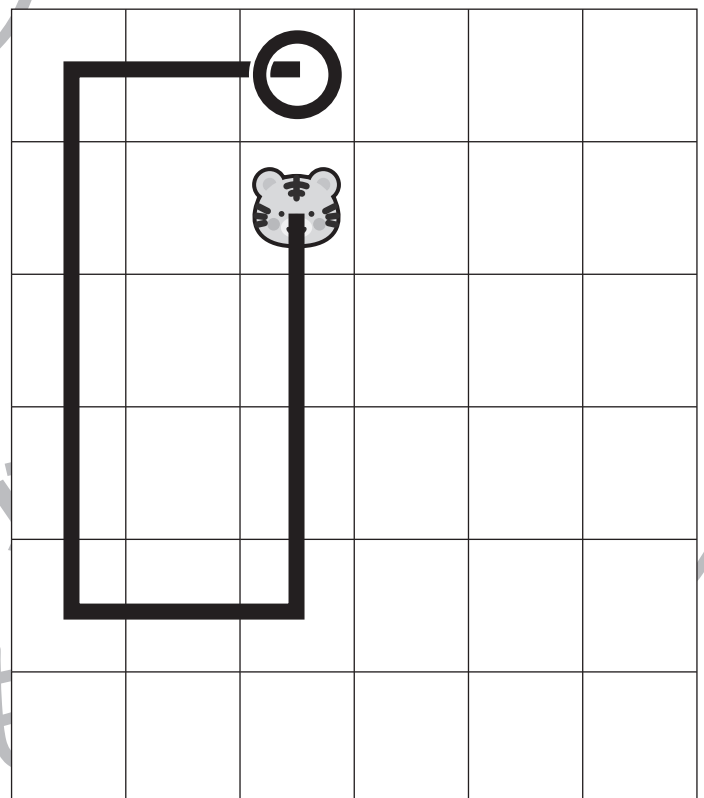
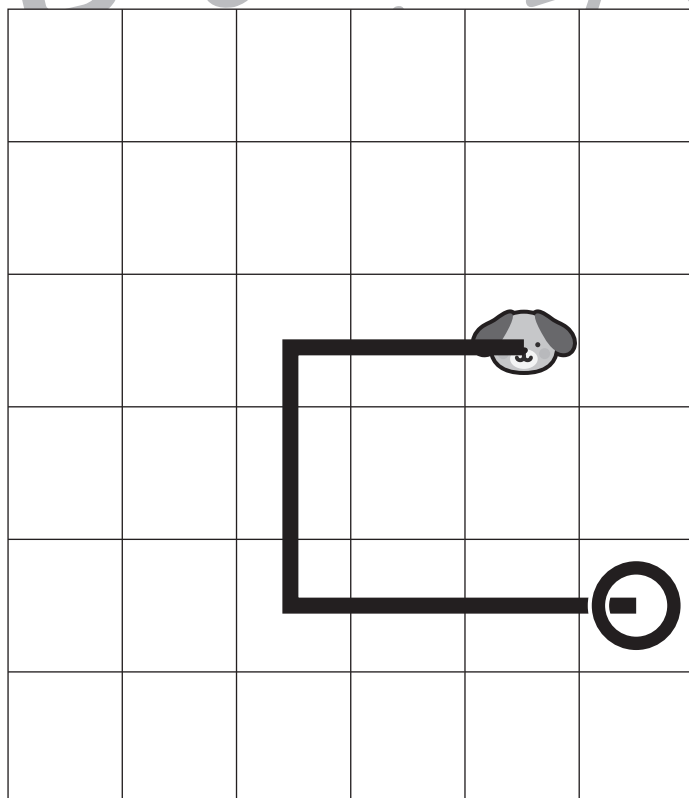
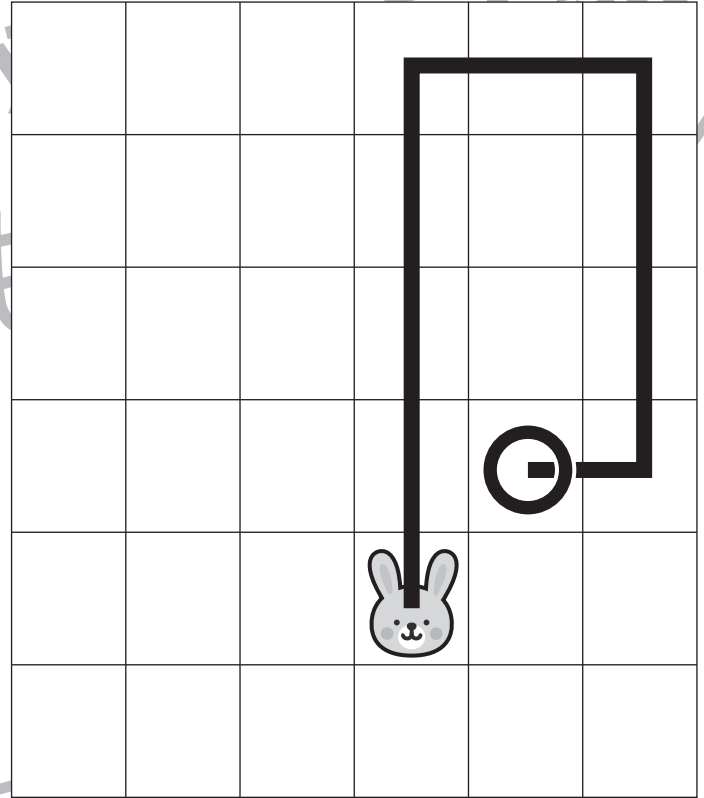
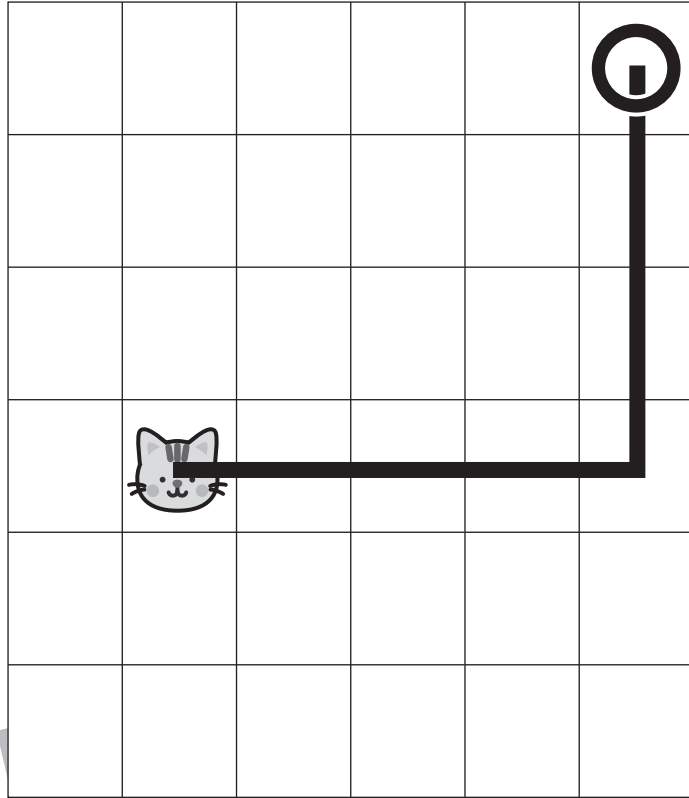
おうちで、やろう。

Study at home. 小学校受験の家庭学習教材

図形：移動 36

動物が移動した後の場所を考えて、着いたマスに○をかきます。

- ①ネコが右に4つ、上に3つ移動します。着いたマスに○をかきます。
- ②イヌが左に2つ、下に2つ、右に3つ移動します。着いたマスに○をかきます。
- ③ウサギが上に4つ、右に2つ、下に3つ、左に1つ移動します。着いたマスに○をかきます。
- ④トラが下に3つ、左に2つ、上に4つ、右に2つ移動します。着いたマスに○をかきます。



※1. このプリントは、しながわ・目黒こどもスクールのウェブサイトでダウンロードができます。無断複写・引用はご遠慮ください。
 ※2. このプリントを活用したオンライン授業のスケジュールは、しながわ・目黒こどもスクールのウェブサイトでご確認ください。



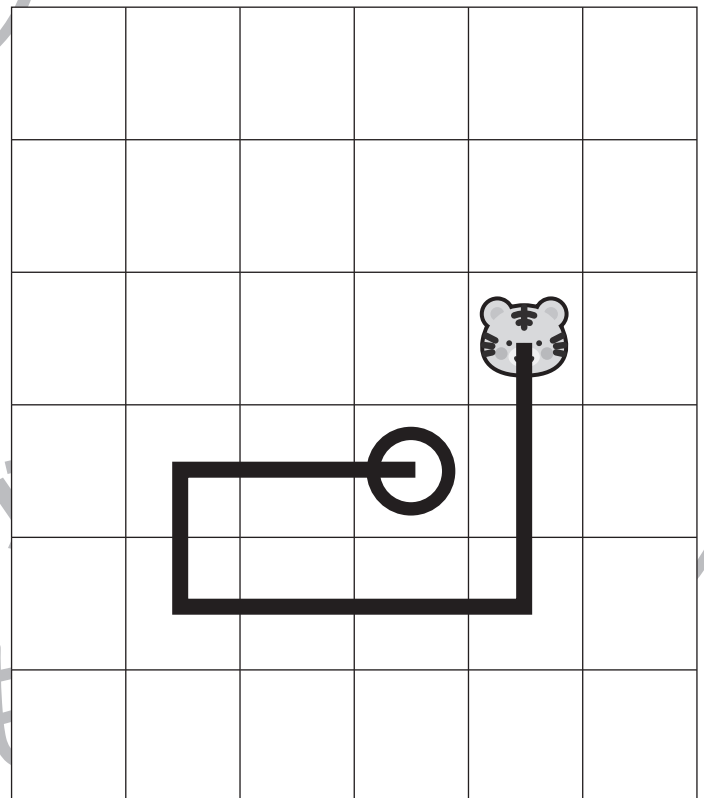
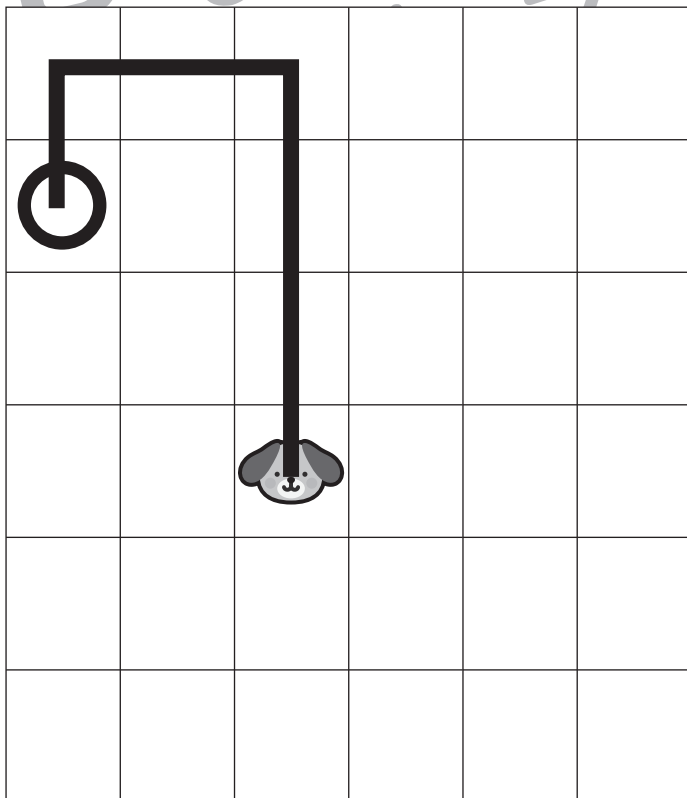
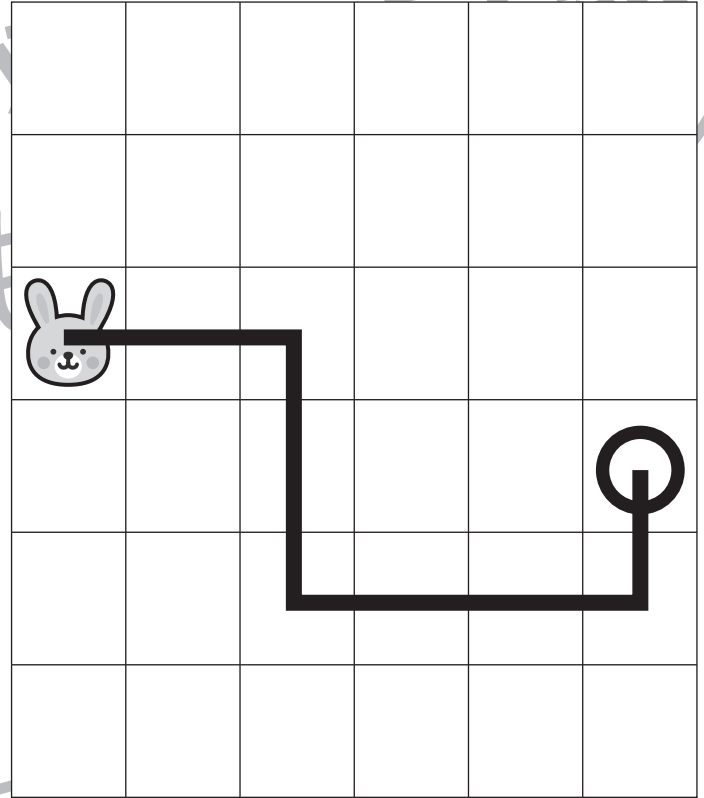
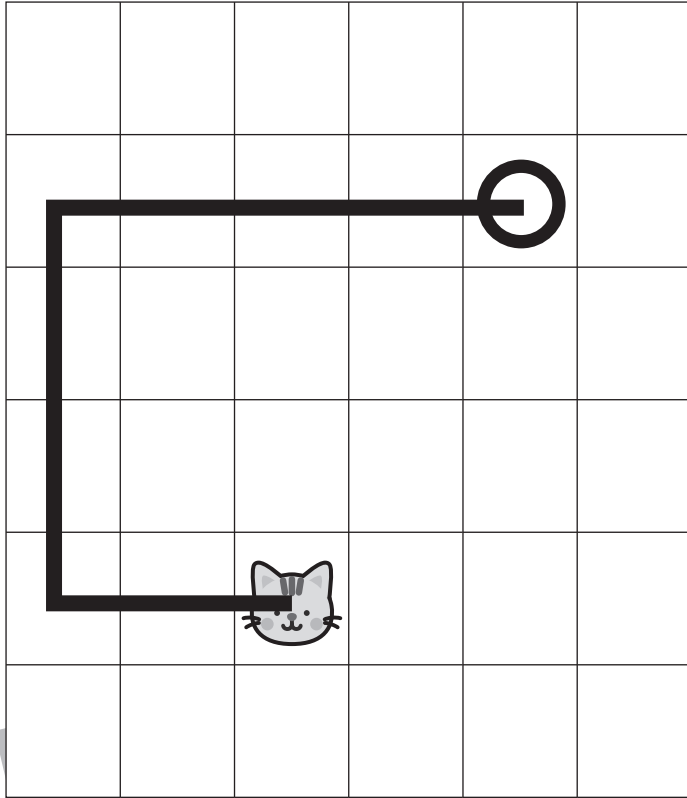
おうちで、やろう。

Study at home. 小学校受験の家庭学習教材

図形：移動 37

動物が移動した後の場所を考えて、着いたマスに○をかきます。

- ①ネコが左に2つ、上に3つ、右に4つ移動します。着いたマスに○をかきます。
- ②イヌが上に3つ、左に2つ、下に1つ移動します。着いたマスに○をかきます。
- ③ウサギが右に2つ、下に2つ、右に3つ、上に1つ移動します。着いたマスに○をかきます。
- ④トラが下に2つ、左に3つ、上に1つ、右に2つ移動します。着いたマスに○をかきます。



※1. このプリントは、しながわ・目黒こどもスクールのウェブサイトでダウンロードができます。無断複写・引用はご遠慮ください。
 ※2. このプリントを活用したオンライン授業のスケジュールは、しながわ・目黒こどもスクールのウェブサイトでご確認ください。



おうちで、やろう。

Study at home. 小学校受験の家庭学習教材

図形：重ね回転 1

左の2枚の四角は透明な板です。この2枚の板をぴったり重ねたあと、右に1度倒したときの見え方を考えて、右の四角にかきます。

※1. このプリントは、しながわ・目黒こどもスクールのウェブサイトでダウンロードができます。無断複写・引用はご遠慮ください。
 ※2. このプリントを活用したオンライン授業のスケジュールは、しながわ・目黒こどもスクールのウェブサイトでご確認ください。



おうちで、やろう。

Study at home. 小学校受験の家庭学習教材

図形：重ね回転2

左の2枚の四角は透明な板です。この2枚の板をぴったり重ねたあと、右に1度倒したときの見え方を考えて、右の四角にかきます。

Diagram illustrating a spatial reasoning exercise. It consists of a grid of 6 rows and 4 columns of squares. Each square is divided into four quadrants. The first two columns are solid lines, and the last two are dashed lines. The circles are placed in the quadrants as follows:

□	□	○	□	○	○	□	○	□	○	□	
○	○	□	□	○	□	○	○	○	○	○	○
□	○	□	□	○	□	□	○	○	□	○	○
○	○	□	○	□	○	○	○	○	○	○	○
□	□	○	□	○	○	○	○	○	○	○	○
○	□	○	□	□	○	○	○	○	○	○	○

※1. このプリントは、しながわ・目黒こどもスクールのウェブサイトからダウンロードができます。無断複写・引用はご遠慮ください。
 ※2. このプリントを活用したオンライン授業のスケジュールは、しながわ・目黒こどもスクールのウェブサイトでご確認ください。



おうちで、やろう。

Study at home. 小学校受験の家庭学習教材

図形：重ね回転 3

左の2枚の四角は透明な板です。この2枚の板をぴったり重ねたあと、右に1度倒したときの見え方を考えて、右の四角にかきます。

※1. このプリントは、しながわ・目黒こどもスクールのウェブサイトでダウンロードができます。無断複写・引用はご遠慮ください。
 ※2. このプリントを活用したオンライン授業のスケジュールは、しながわ・目黒こどもスクールのウェブサイトでご確認ください。