

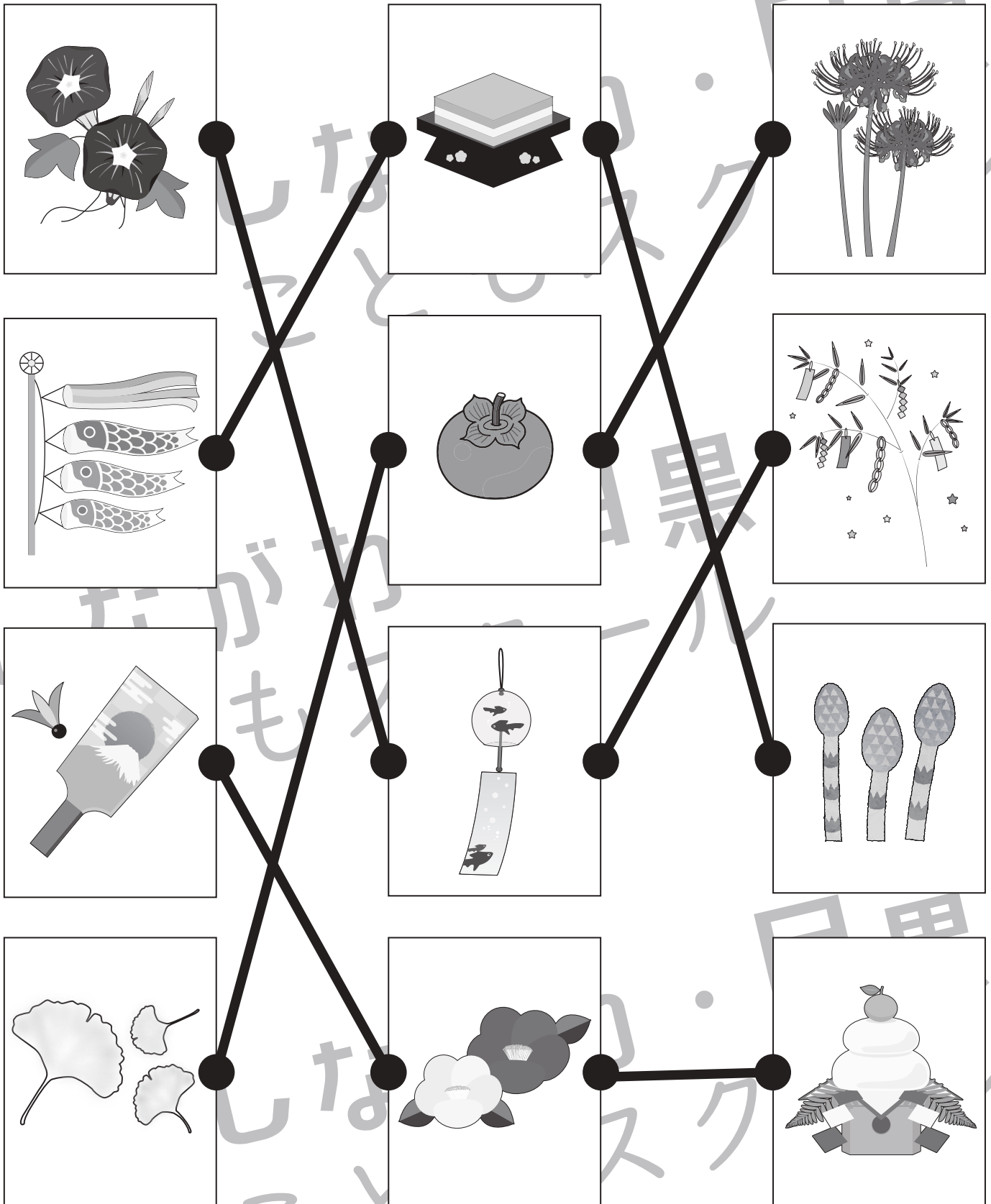


# おうちで、やろう。

Study at home. 小学校受験の家庭学習教材

常識：季節 17

左の四角の中の絵と同じ季節の絵を真ん中、右の四角の中から選んで点と点を線で結びましょう。



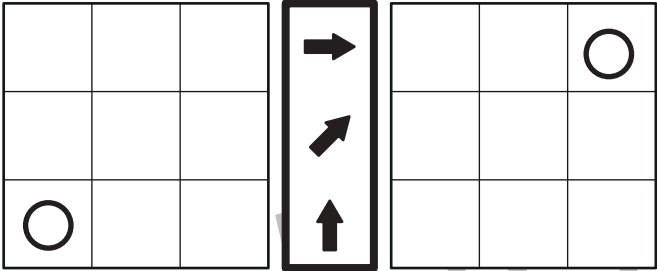
※1. このプリントは、しながわ・目黒こどもスクールのウェブサイトからダウンロードができます。無断複写・引用はご遠慮ください。  
 ※2. このプリントを活用したオンライン授業のスケジュールは、しながわ・目黒こどもスクールのウェブサイトでご確認ください。

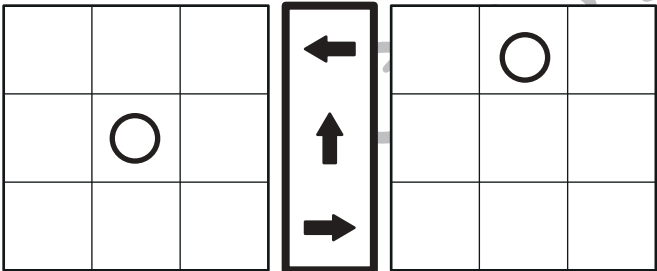


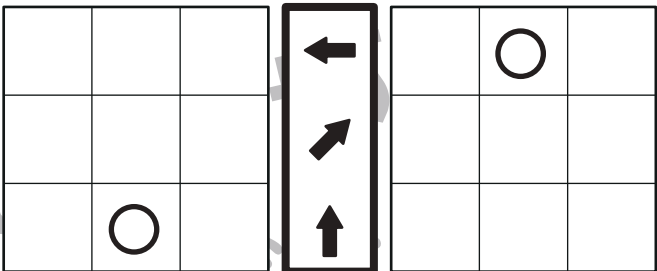
# おうちで、やろう。

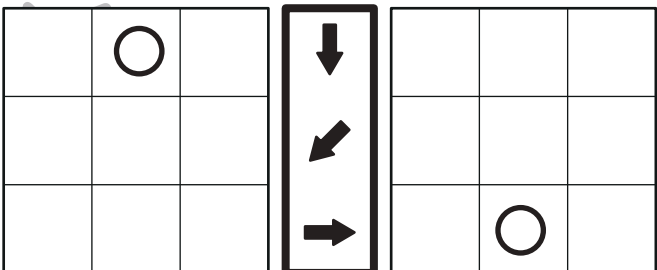
Study at home. 小学校受験の家庭学習教材

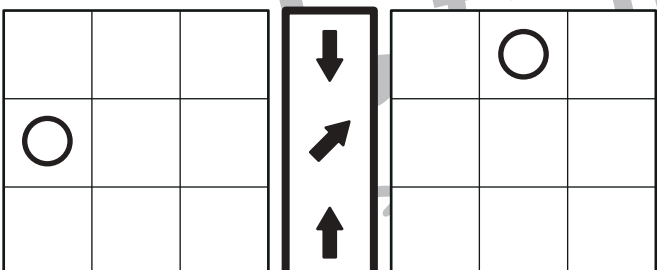
左の四角がお手本です。このお手本の○を真ん中の太い四角の中の矢印の方向へ1マスずつ動かします。移動した後の場所を考えて、右の四角の中に○をかきます。

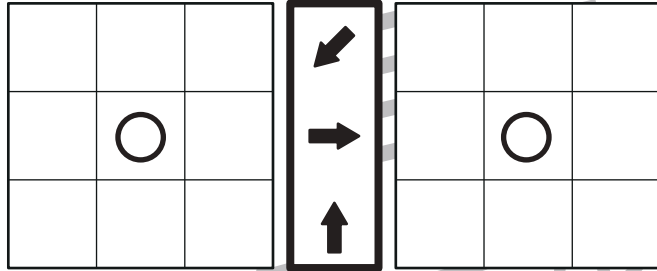
① 

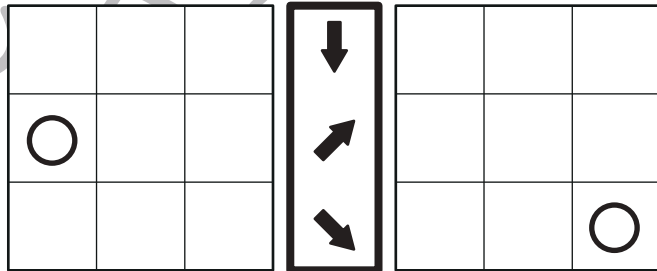
② 

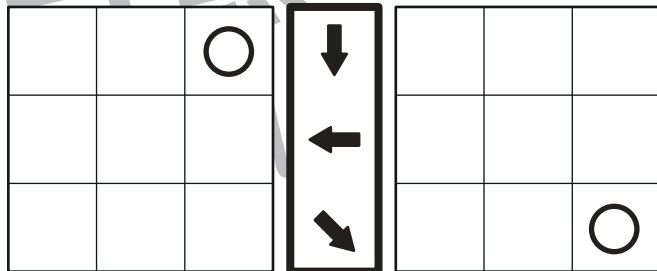
③ 

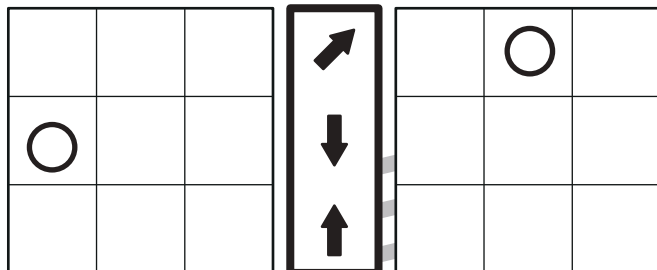
④ 

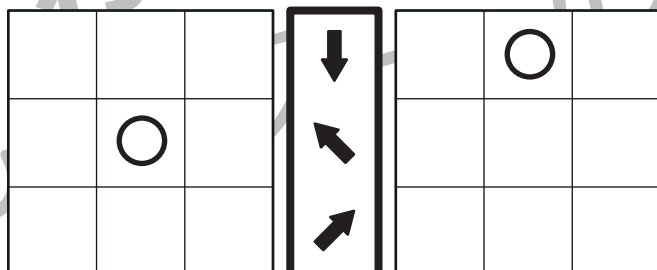
⑤ 

⑥ 

⑦ 

⑧ 

⑨ 

⑩ 

※1. このプリントは、しながわ・目黒こどもスクールのウェブサイトからダウンロードができます。無断複製・引用はご遠慮ください。  
※2. このプリントを活用したオンライン授業のスケジュールは、しながわ・目黒こどもスクールのウェブサイトでご確認ください。



# おうちで、よろう。

Study at home. 小学校受験の家庭学習教材

左の四角がお手本です。このお手本の○を真ん中の太い四角の中の矢印の方向へ1マスずつ動かします。移動した後の場所を考えて、右の四角の中に○をかきます。

①

	○	○

←
→
↑

	○	○

②

○		
○		

→
→
←

	○	
	○	

③

○		
○		

→
↙
→

	○	
	○	

④

		○
	○	

↙
→
↖

	○	
○		

⑤

	○	○

←
↗
↑

	○	○

⑥

	○	
	○	

←
↗
→

		○
		○

⑦

	○	
		○

↙
↑
↘

	○	
		○

⑧

○		
	○	

↘
←
→

	○	
		○

⑨

	○	
	○	

↘
←
↖

○		
○		

⑩

○		
	○	

→
↙
↑

○		
	○	

※1. このプリントは、しながわ・目黒こどもスクールのウェブサイトでダウンロードができます。無断複写・引用はご遠慮ください。  
 ※2. このプリントを活用したオンライン授業のスケジュールは、しながわ・目黒こどもスクールのウェブサイトでご確認ください。



# おうちで、やろう。

Study at home. 小学校受験の家庭学習教材

## 推理：四方観察 16

左の四角の中の積み木を男の子の方（右側）から見ると、下のマスの太い四角の形に見えます。このとき、灰色に見える場所を見つけ塗ります。

※1. このプリントは、しながわ・目黒こどもスクールのウェブサイトでダウンロードができます。無断複写・引用はご遠慮ください。

※2. このプリントを活用したオンライン授業のスケジュールは、しながわ・目黒こどもスクールのウェブサイトでご確認ください。



# おうちで、やろう。

Study at home. 小学校受験の家庭学習教材

## 推理：四方観察 17

左の四角の中の積み木を女の子の方（左側）から見ると、下のマスの太い四角の形に見えます。このとき、灰色に見える場所を境つけて塗ります。







※1. このプリントは、しながわ・目黒こどもスクールのウェブサイトからダウンロードできます。無断複写・引用はご遠慮ください。

※2. このプリントを活用したオンライン授業のスケジュールは、しながわ・目黒こどもスクールのウェブサイトでご確認ください。












# おうちで、やろう。

Study at home. 小学校受験の家庭学習教材




数量：置き換え 21

上の太い四角の中が約束です。それぞれのカバンの中には矢印の右の数だけクッキーが入っています。四角の中のカバンの中に入っているクッキーは合わせていくつになりますか。その数だけ右の四角に○をかきます。

 → 	 → 	 → 
---	--	---

		
---	---	---





$$\bigcirc \times 8$$

		
--	--	--





$$\bigcirc \times 9$$

		
---	---	---

$$\bigcirc \times 10$$

			
---	---	---	---

$$\bigcirc \times 12$$

			
---	---	---	---

$$\bigcirc \times 12$$

※1. このプリントは、しながわ・目黒こどもスクールのウェブサイトでダウンロードができます。無断複写・引用はご遠慮ください。  
 ※2. このプリントを活用したオンライン授業のスケジュールは、しながわ・目黒こどもスクールのウェブサイトでご確認ください。

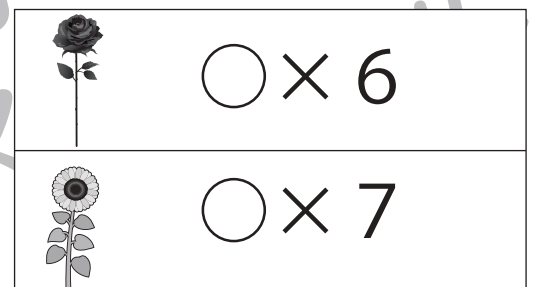
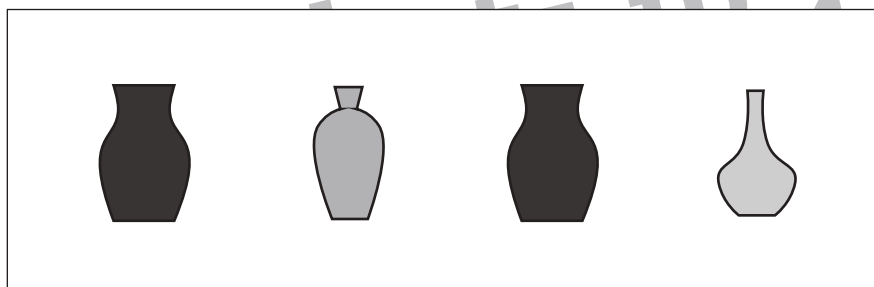
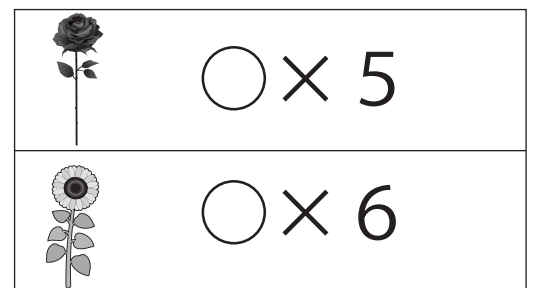
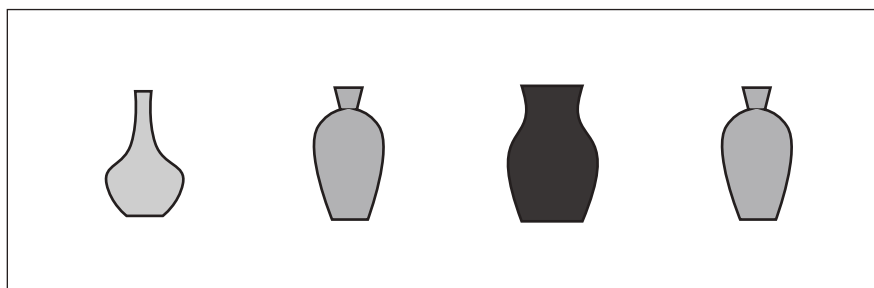
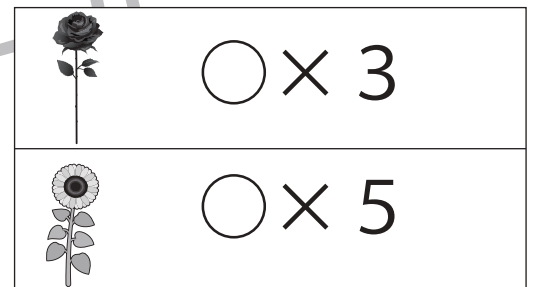
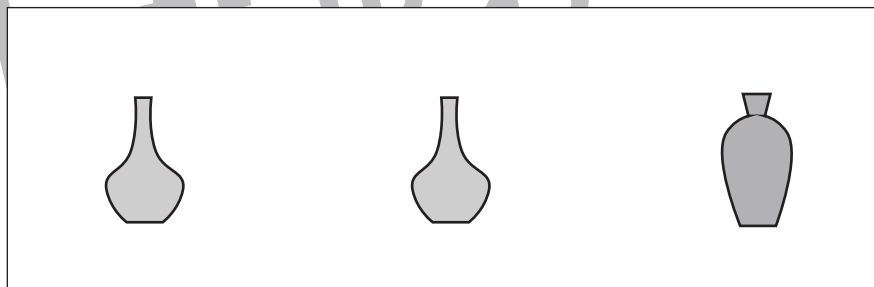
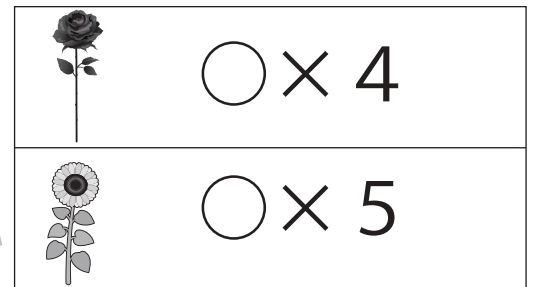
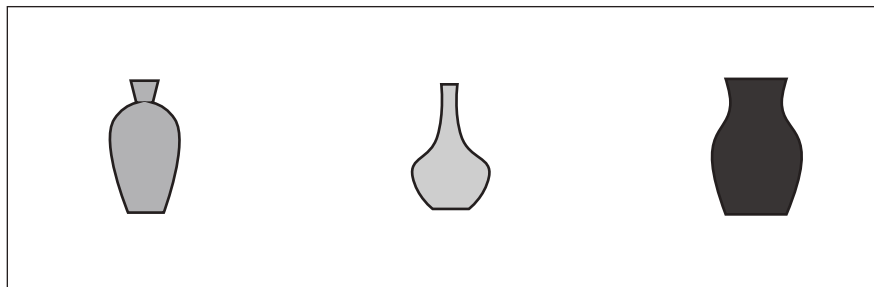
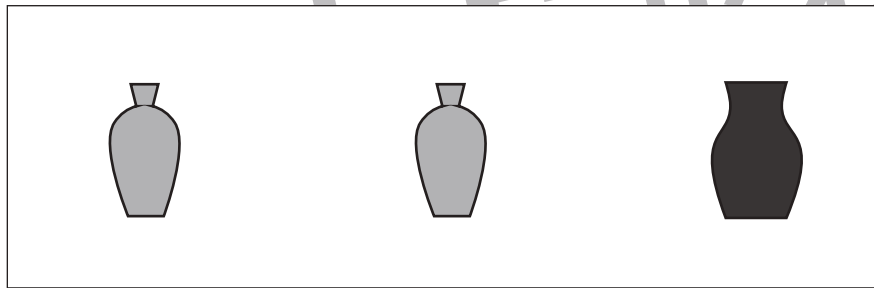
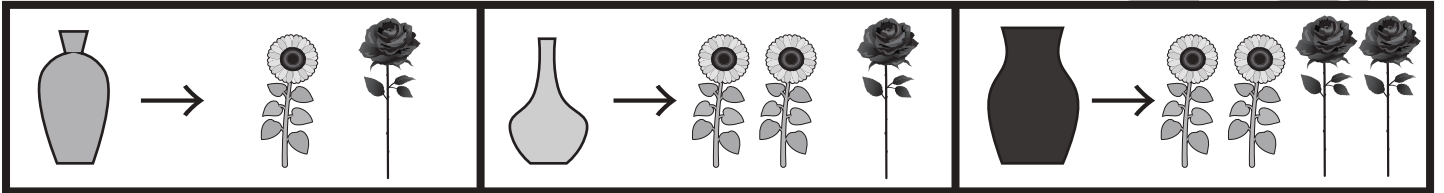


# おうちで、やろう。

Study at home. 小学校受験の家庭学習教材

数量：置き換え 22

上の太い四角の中が約束です。それぞれの花瓶の中には矢印の右の数だけ花が入っています。四角の中の花瓶に入っている花は合わせていくつになりますか。それぞれの花の数だけ右の四角に○をかきます。



※1. このプリントは、しながわ・目黒こどもスクールのウェブサイトでダウンロードができます。無断複写・引用はご遠慮ください。  
 ※2. このプリントを活用したオンライン授業のスケジュールは、しながわ・目黒こどもスクールのウェブサイトでご確認ください。