



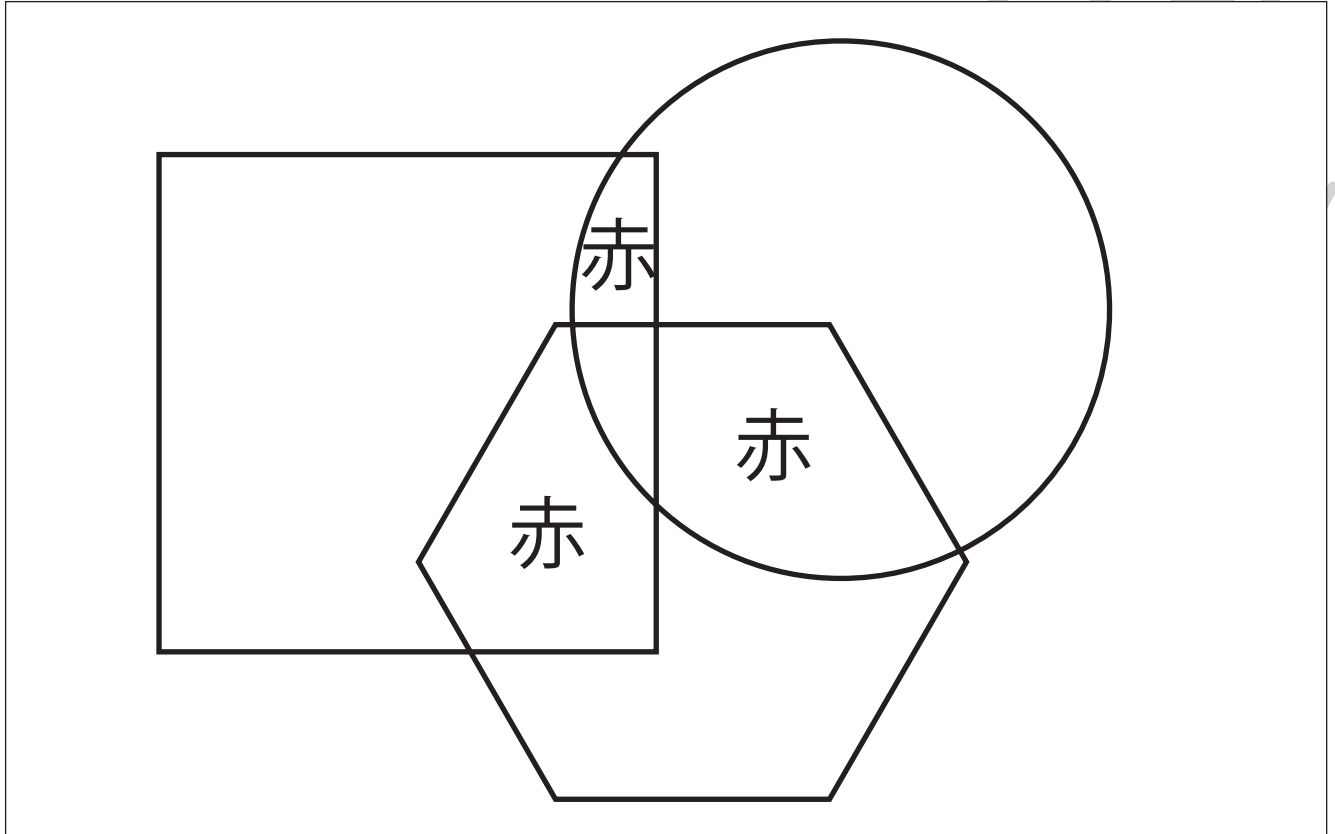
おうちで、やろう。

Study at home. 小学校受験の家庭学習教材

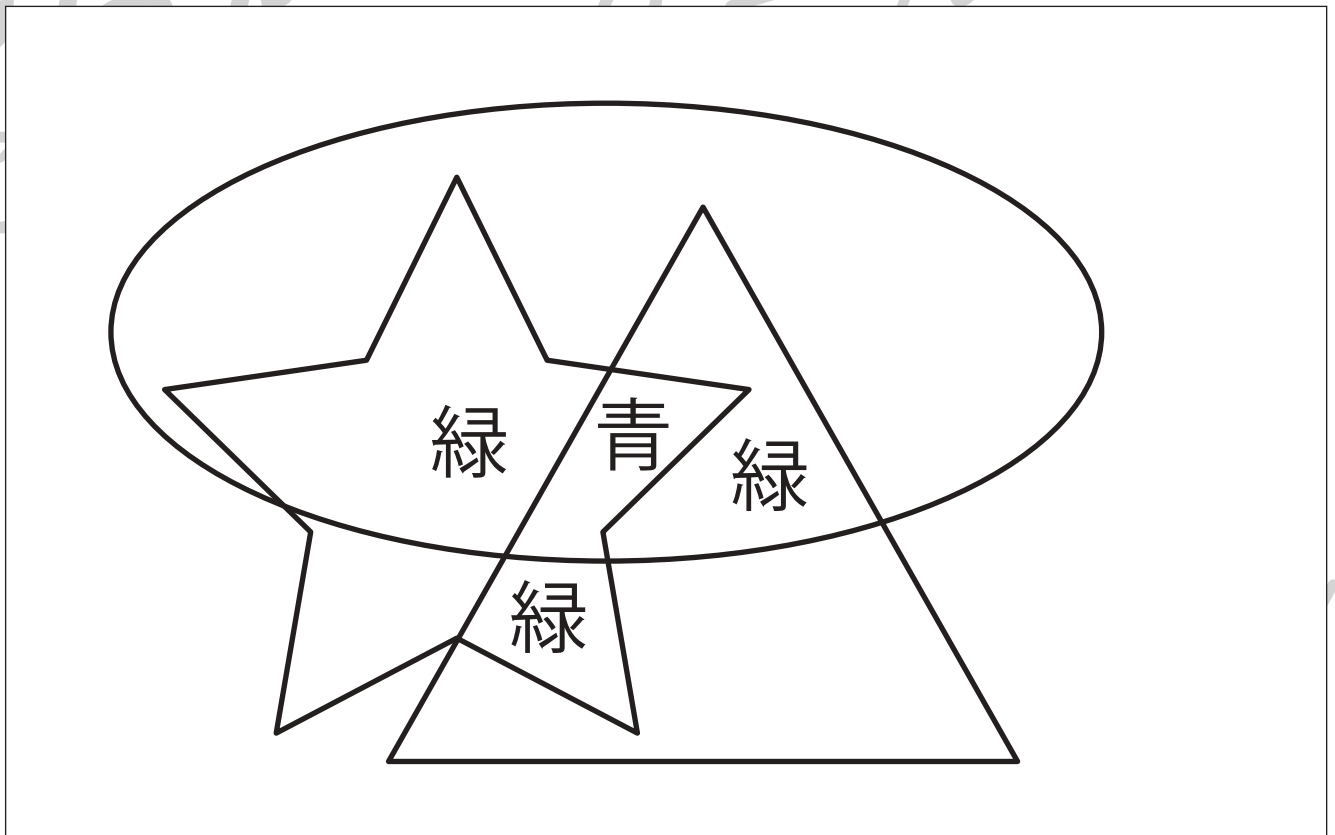
指示の聞き取り 33

- ① 3つの形があります。この中で2つの形が重なっている場所を見つけて赤のクーピーで塗ります。
② 3つの形があります。この中で3つの形が重なっている場所は青のクーピー、2つの形が重なっている場所は緑のクーピーで塗ります。

①



②



※1. このプリントは、しながわ・目黒こどもスクールのウェブサイトからダウンロードできます。無断複写・引用はご遠慮ください。
※2. このプリントを活用したオンライン授業のスケジュールは、しながわ・目黒こどもスクールのウェブサイトでご確認ください。


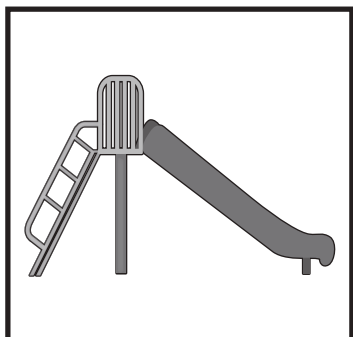







おうちで、やろう。

Study at home. 小学校受験の家庭学習教材

言語：音の数 36

太い四角の中の絵と音の数が同じ絵を、右の四角の中から全て選び○をつけます。



※1. このプリントは、しながわ・目黒こどもスクールのウェブサイトでダウンロードができます。無断複写・引用はご遠慮ください。
※2. このプリントを活用したオンライン授業のスケジュールは、しながわ・目黒こどもスクールのウェブサイトでご確認ください。



おうちで、よろう。

Study at home. 小学校受験の家庭学習教材

図形：鏡 22

左の形を黒い線の上に鏡を置いて見た時の見え方を考えて、右の丸にかきます。

※1. このプリントは、しながわ・目黒こどもスクールのウェブサイトでダウンロードができます。無断複写・引用はご遠慮ください。
 ※2. このプリントを活用したオンライン授業のスケジュールは、しながわ・目黒こどもスクールのウェブサイトでご確認ください。




おうちで、よろう。

Study at home. 小学校受験の家庭学習教材

図形：鏡 23

左の形を黒い線の上に鏡を置いて見た時の見え方を考えて、右の丸にかきます。



※1. このプリントは、しながわ・目黒こどもスクールのウェブサイトでダウンロードができます。無断複写・引用はご遠慮ください。
 ※2. このプリントを活用したオンライン授業のスケジュールは、しながわ・目黒こどもスクールのウェブサイトでご確認ください。

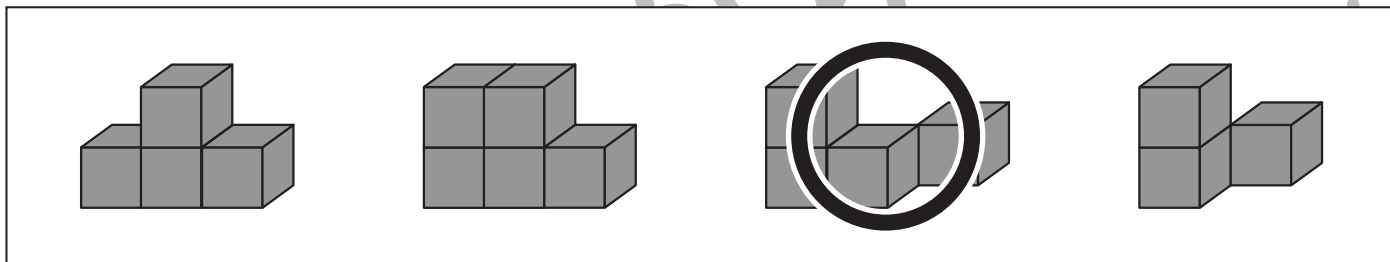
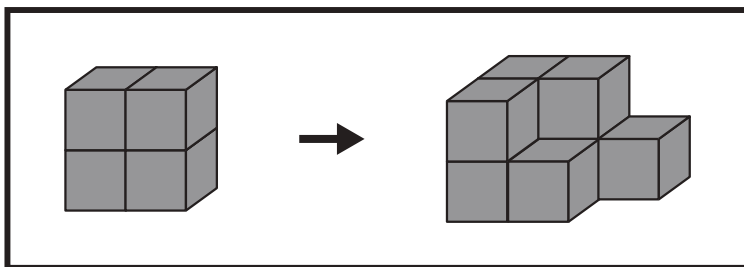
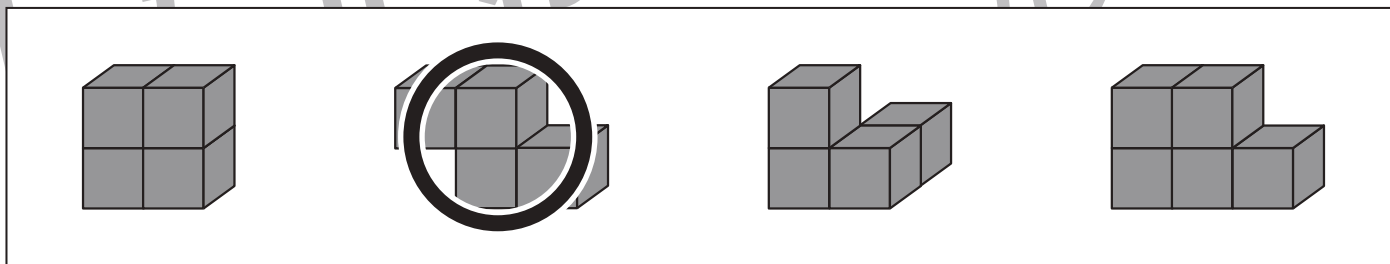
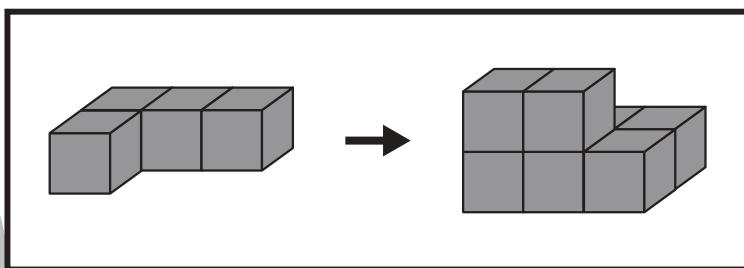
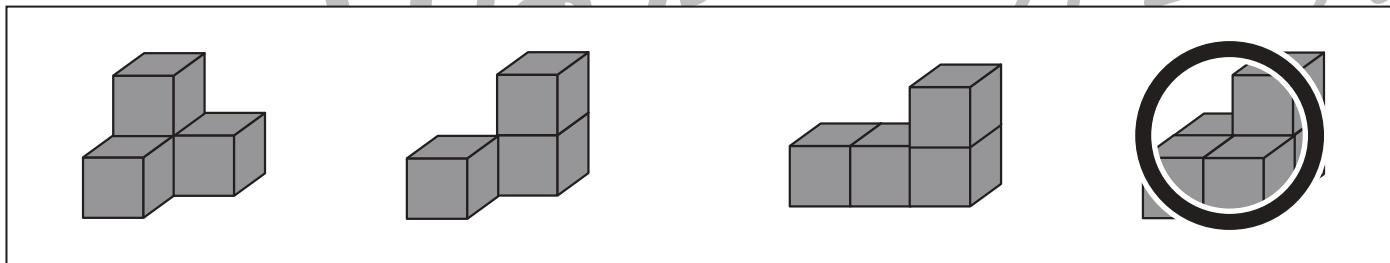
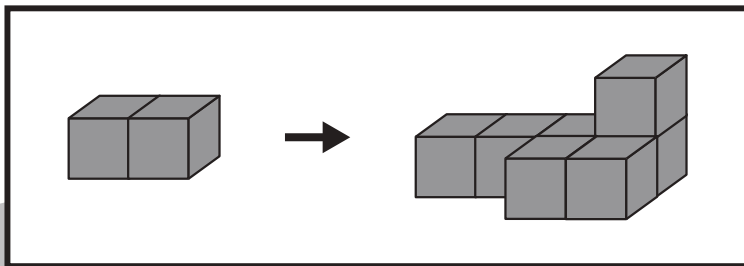


おうちで、やろう。

Study at home. 小学校受験の家庭学習教材

推理：積み木 20

太い四角の中の左にある積み木を、別の積み木と組み合わせて右のように形を変えました。
左の積み木にどの形の積み木を組み合わせたかを考え、下の四角の中から正しいものを選び○をつけます。



※1. このプリントは、しながわ・目黒こどもスクールのウェブサイトでダウンロードができます。無断複写・引用はご遠慮ください。
※2. このプリントを活用したオンライン授業のスケジュールは、しながわ・目黒こどもスクールのウェブサイトでご確認ください。





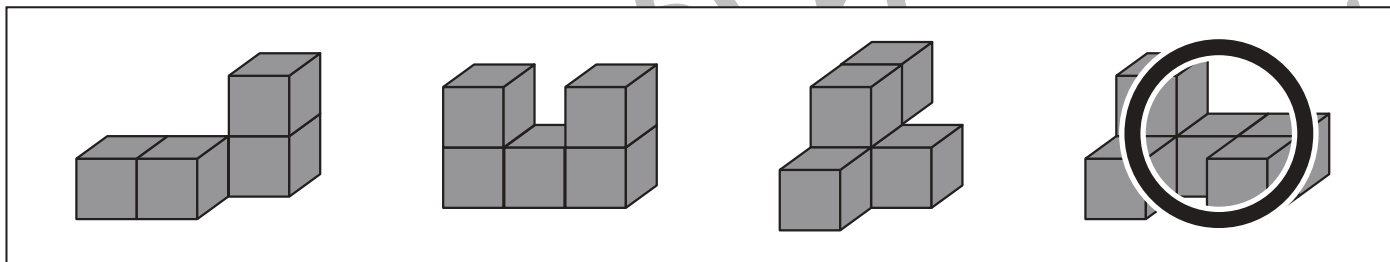
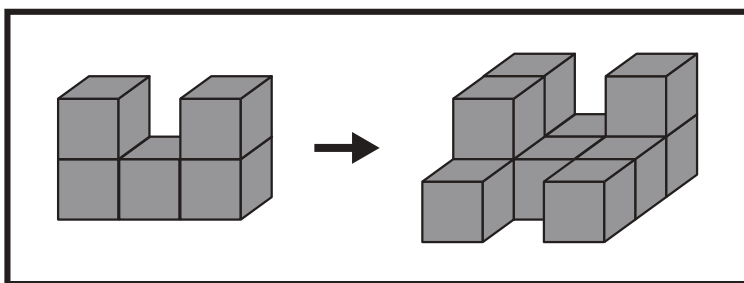
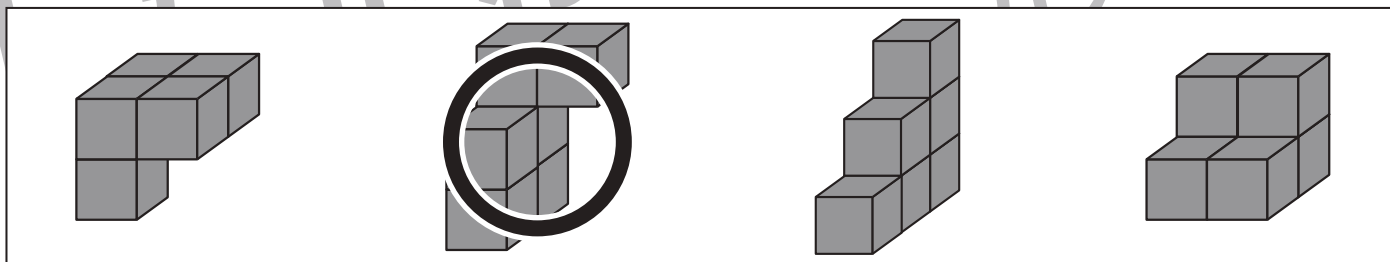
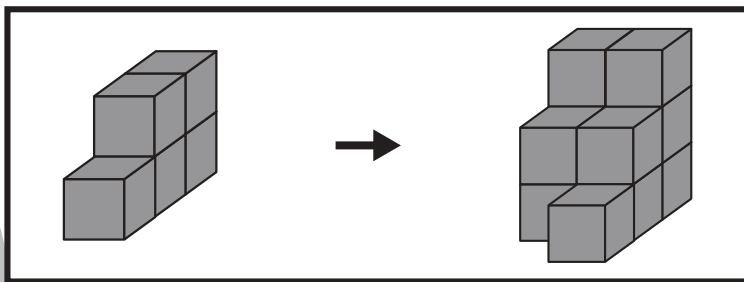
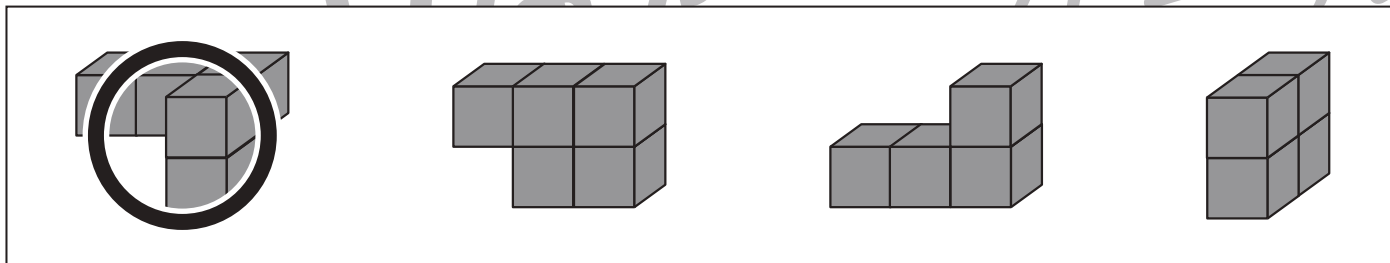
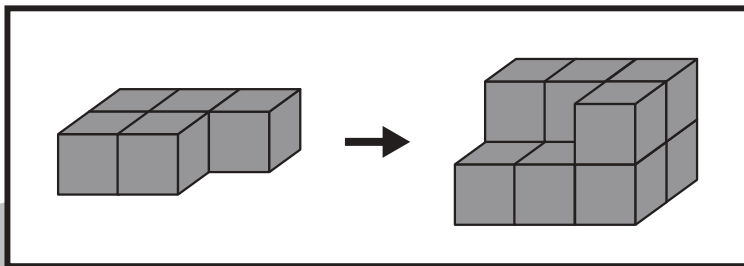
おうちで、やろう。

Study at home. 小学校受験の家庭学習教材

推理：積み木 21

太い四角の中の左にある積み木を、別の積み木と組み合わせて右のように形を変えました。

左の積み木にどの形の積み木を組み合わせたかを考え、下の四角の中から正しいものを選び○をつけます。



※1. このプリントは、しながわ・目黒こどもスクールのウェブサイトでダウンロードができます。無断複写・引用はご遠慮ください。
※2. このプリントを活用したオンライン授業のスケジュールは、しながわ・目黒こどもスクールのウェブサイトでご確認ください。













おうちで、やろう。

Study at home. 小学校受験の家庭学習教材

推理：影 9

左の四角の中には絵が影になって重なっています。同じ絵が2枚影になっているものを右の四角の中から見つけて○をつけます。



※1. このプリントは、しながわ・目黒こどもスクールのウェブサイトでダウンロードができます。無断複写・引用はご遠慮ください。
※2. このプリントを活用したオンライン授業のスケジュールは、しながわ・目黒こどもスクールのウェブサイトでご確認ください。



おうちで、やろう。

Study at home. 小学校受験の家庭学習教材

数量：同数 15

上の果物の数をかぞえます。

それぞれの果物の数と星の数が同じ四角をみつめて、それぞれの果物の四角の左上にある記号をつけます。

※1. このプリントは、しながわ・目黒こどもスクールのウェブサイトでダウンロードができます。無断複写・引用はご遠慮ください。

※2. このプリントを活用したオンライン授業のスケジュールは、しながわ・目黒こどもスクールのウェブサイトでご確認ください。



おうちで、やろう。

Study at home. 小学校受験の家庭学習教材

数量：同数 16

上の果物の数をかぞえます。

それぞれの果物の数と星の数が同じ四角をみつけて、それぞれの果物の四角の左上にある記号をつけます。

※1. このプリントは、しながわ・目黒こどもスクールのウェブサイトでダウンロードができます。無断複写・引用はご遠慮ください。

※2. このプリントを活用したオンライン授業のスケジュールは、しながわ・目黒こどもスクールのウェブサイトでご確認ください。