



おうちで、やろう。 年中児版

Study at home. 小学校受験の家庭学習教材

言語：しりとり6

左から右までしりとりでつなぎます。途中に絵が2枚あるところはどちらを選ばよいかを考えて、正しい方に○をつけます。

しりとりゲームのマス目:

- Row 1: 熊 (Bear) → 枕 (Pillow) → (Camel / Backpack) → 団子 (Dango)
- Row 2: 団子 (Dango) → りんご (Apple) → (Tennis / Monkey) → 海豹 (Seal)
- Row 3: トマト (Tomato) → とうもろこし (Corn) → (Llama / Deer) → 蟹 (Crab)
- Row 4: 飛行機 (Airplane) → ペンギン (Penguin) → (Dog / Hamster) → 猫 (Cat)

各マス目の2枚目には、正しい絵に○をつけてください。

※1. このプリントは、しながわ・目黒こどもスクールのウェブサイトでダウンロードができます。無断複写・引用はご遠慮ください。
 ※2. このプリントを活用したオンライン授業のスケジュールは、しながわ・目黒こどもスクールのウェブサイトでご確認ください。







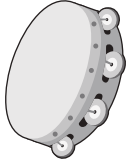






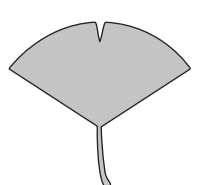







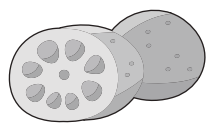




おうちで、やろう。 年中児版

Study at home. 小学校受験の家庭学習教材

言語：しりとり7

左から右までしりとりでつなぎます。絵が2枚あるところはどちらを選べばよいかを考えて、正しい方に○をつけます。

	→		→		→	
						
	→		→		→	
						
	→		→		→	
						
	→		→		→	
						

※1. このプリントは、しながわ・目黒こどもスクールのウェブサイトからダウンロードできます。無断複写・引用はご遠慮ください。

※2. このプリントを活用したオンライン授業のスケジュールは、しながわ・目黒こどもスクールのウェブサイトでご確認ください。

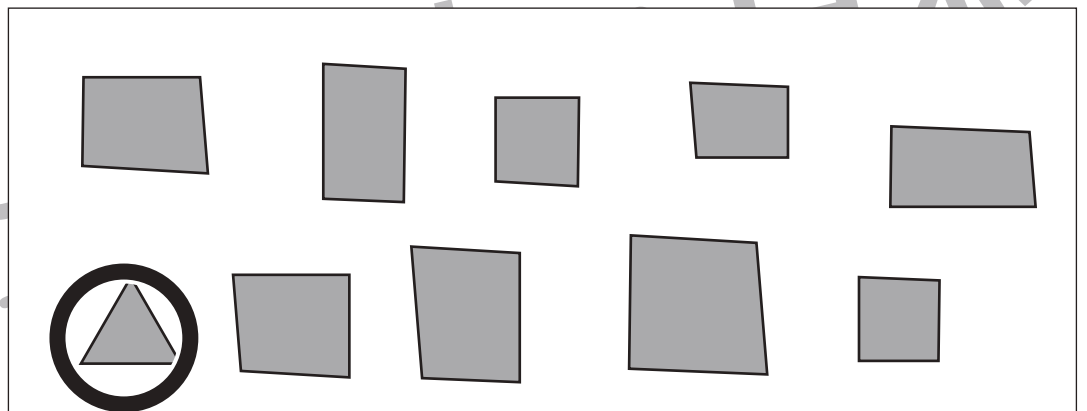

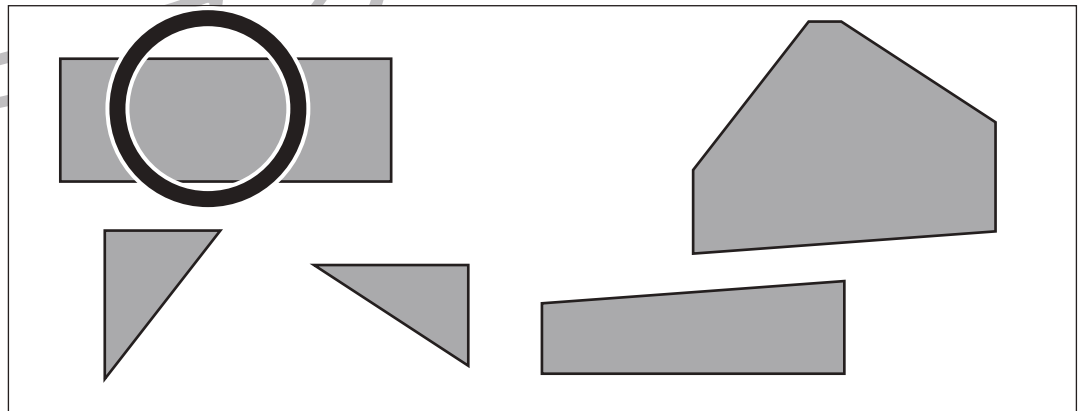
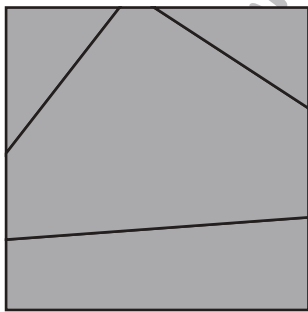
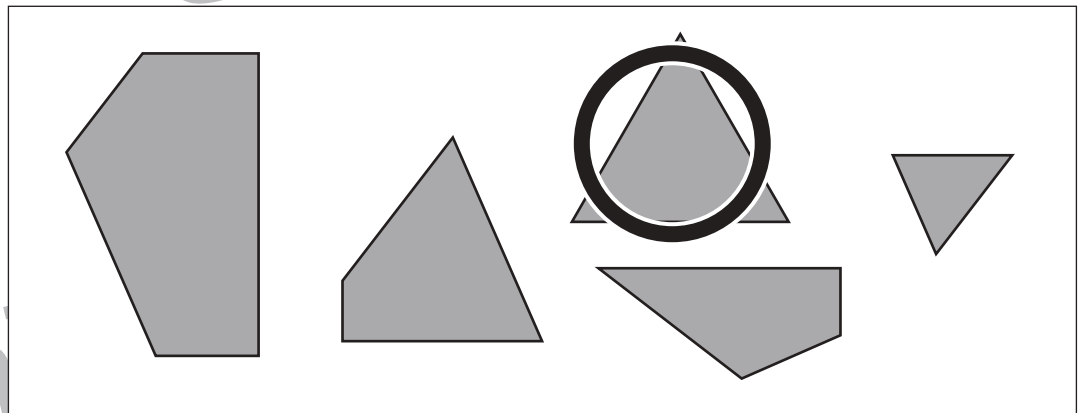
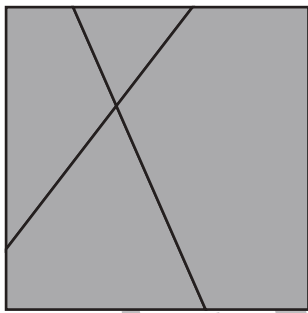
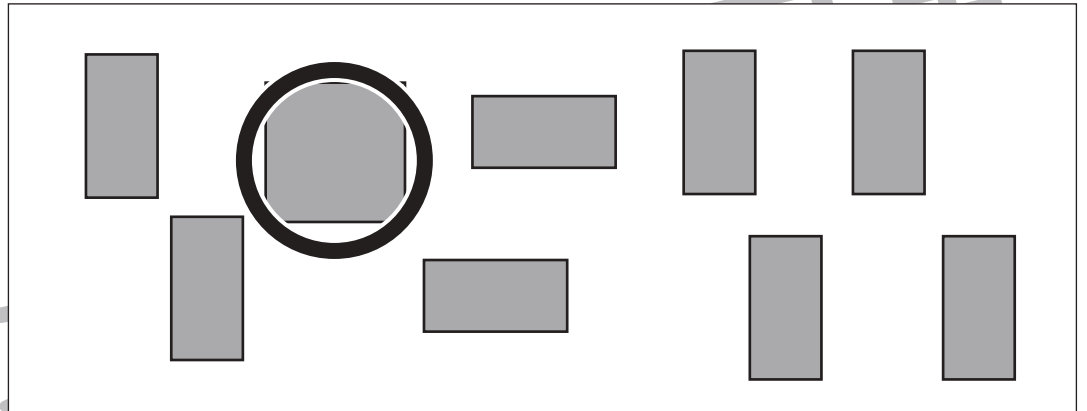



おうちで、やろう。 年中児版

Study at home. 小学校受験の家庭学習教材

図形：構成 3

左のお手本を作るときに使わない形を右の四角の中から見つけて○をつけます。



※1. このプリントは、しながわ・目黒こどもスクールのウェブサイトからダウンロードできます。無断複写・引用はご遠慮ください。

※2. このプリントを活用したオンライン授業のスケジュールは、しながわ・目黒こどもスクールのウェブサイトでご確認ください。






おうちで、やろう。 年中児版

Study at home. 小学校受験の家庭学習教材

推理：重さ3

シーソーで重さ比べをしました。太い四角のように重たい方が下がるのがシーソーの特徴です。この約束でそれぞれの生き物を重さ比べしたとき重い方に○をつけましょう。



黒
丸

※1. このプリントは、しながわ・目黒こどもスクールのウェブサイトでダウンロードができます。無断複写・引用はご遠慮ください。
 ※2. このプリントを活用したオンライン授業のスケジュールは、しながわ・目黒こどもスクールのウェブサイトでご確認ください。


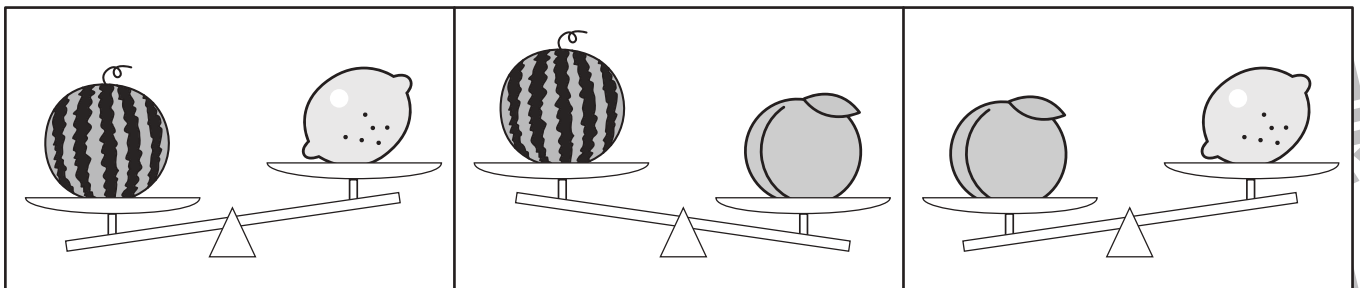
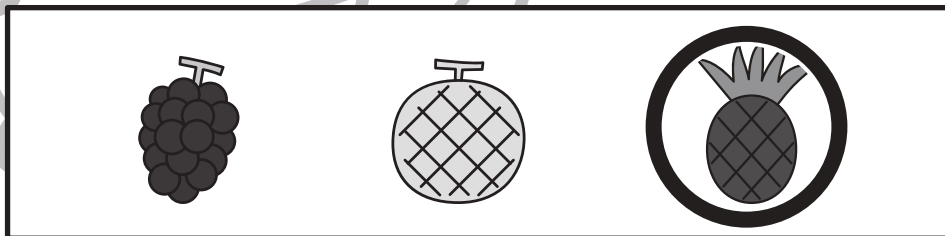

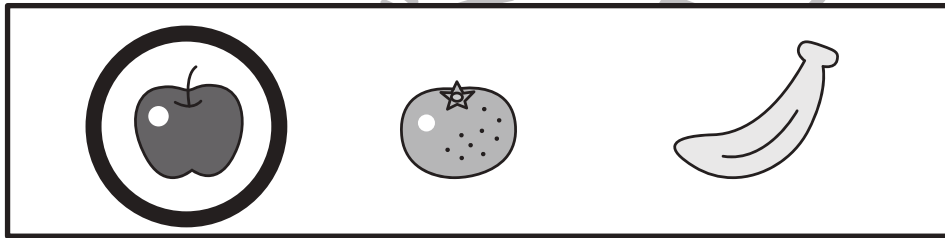



おうちで、やろう。 年中児版

Study at home. 小学校受験の家庭学習教材

推理：重さ4

シーソーで果物をそれぞれ重さ比べをしました。一番重いものを太い四角から選んで○をつけます。



※1. このプリントは、しながわ・目黒こどもスクールのウェブサイトでダウンロードができます。無断複写・引用はご遠慮ください。
※2. このプリントを活用したオンライン授業のスケジュールは、しながわ・目黒こどもスクールのウェブサイトでご確認ください。

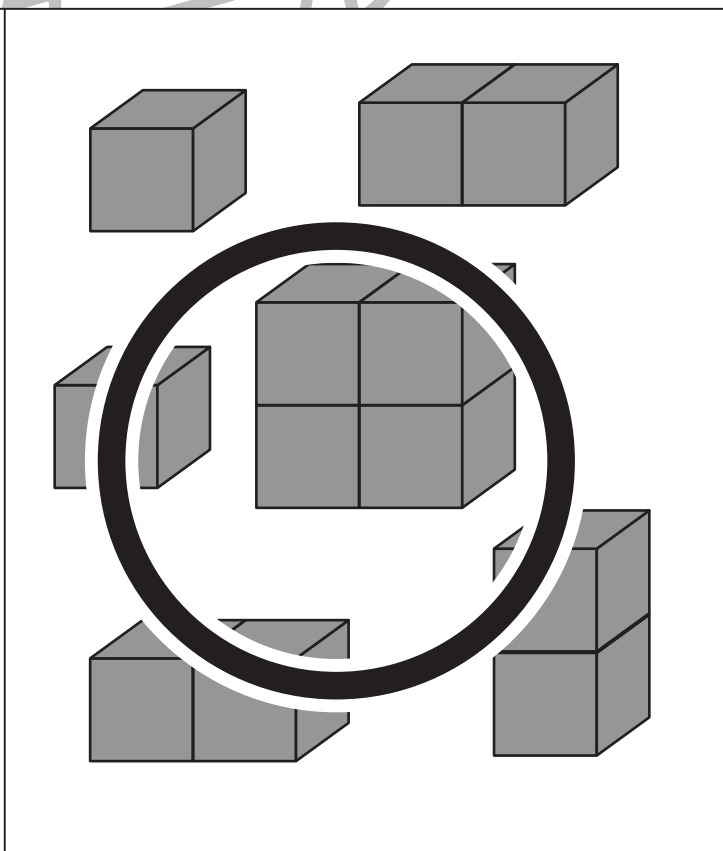
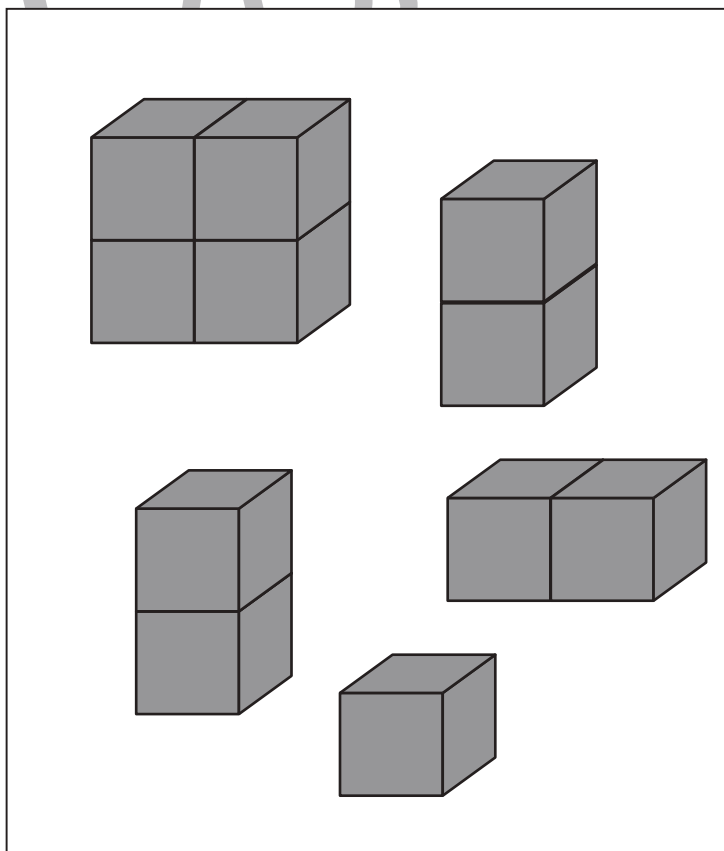
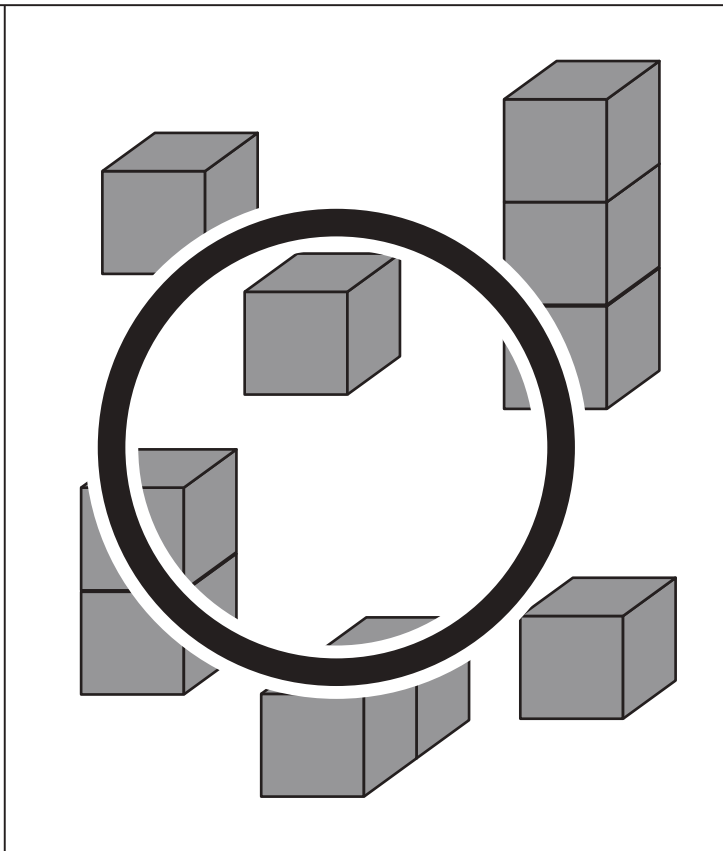
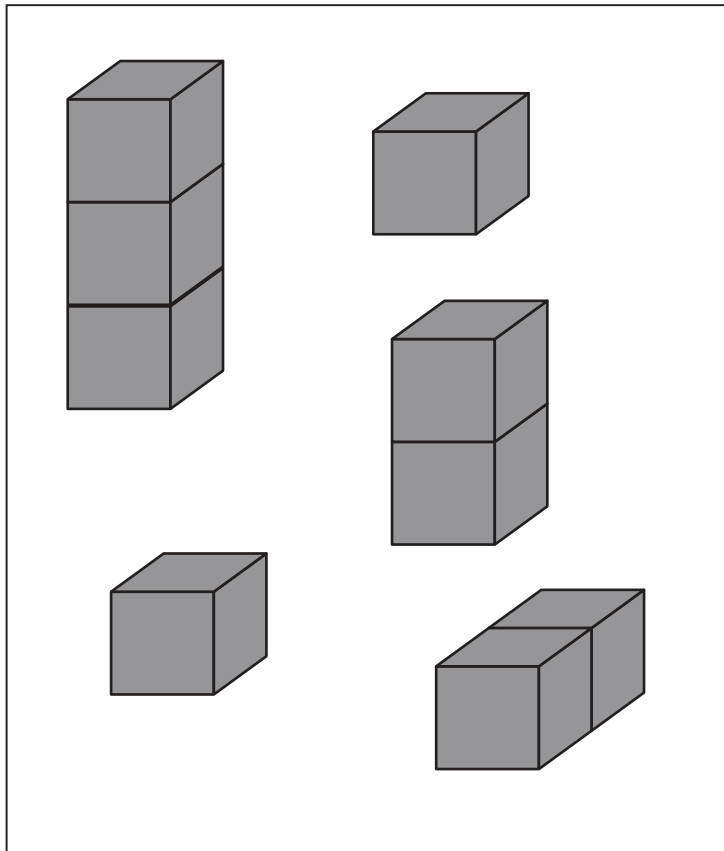


おうちで、やろう。 年中児版

Study at home. 小学校受験の家庭学習教材

数量：多少 3

左と右の積み木の数くらべます。四角の中の積み木を合わせたとき、数が多い方の四角に○をつけます。



※1. このプリントは、しながわ・目黒こどもスクールのウェブサイトでダウンロードができます。無断複写・引用はご遠慮ください。
※2. このプリントを活用したオンライン授業のスケジュールは、しながわ・目黒こどもスクールのウェブサイトでご確認ください。



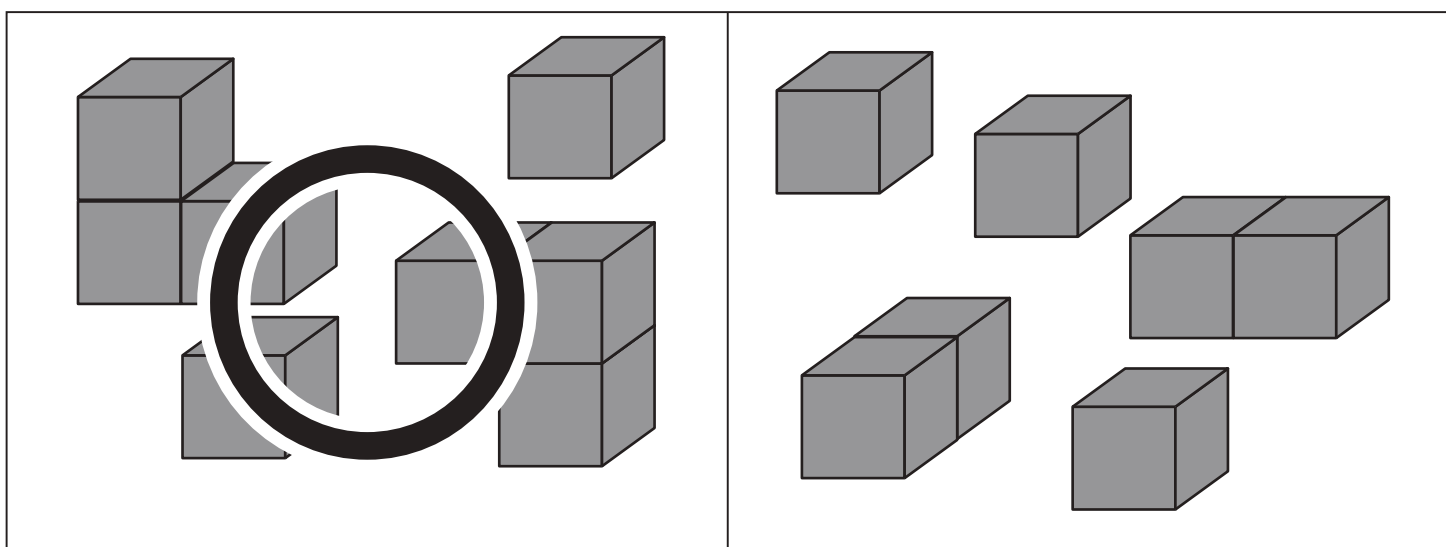
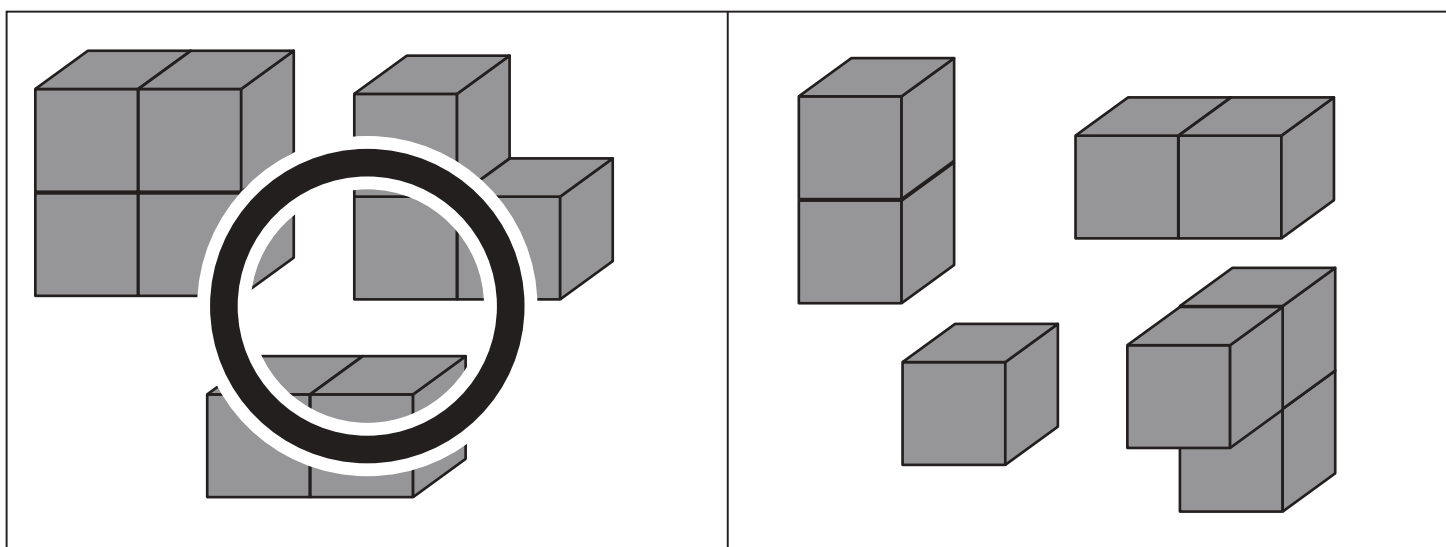
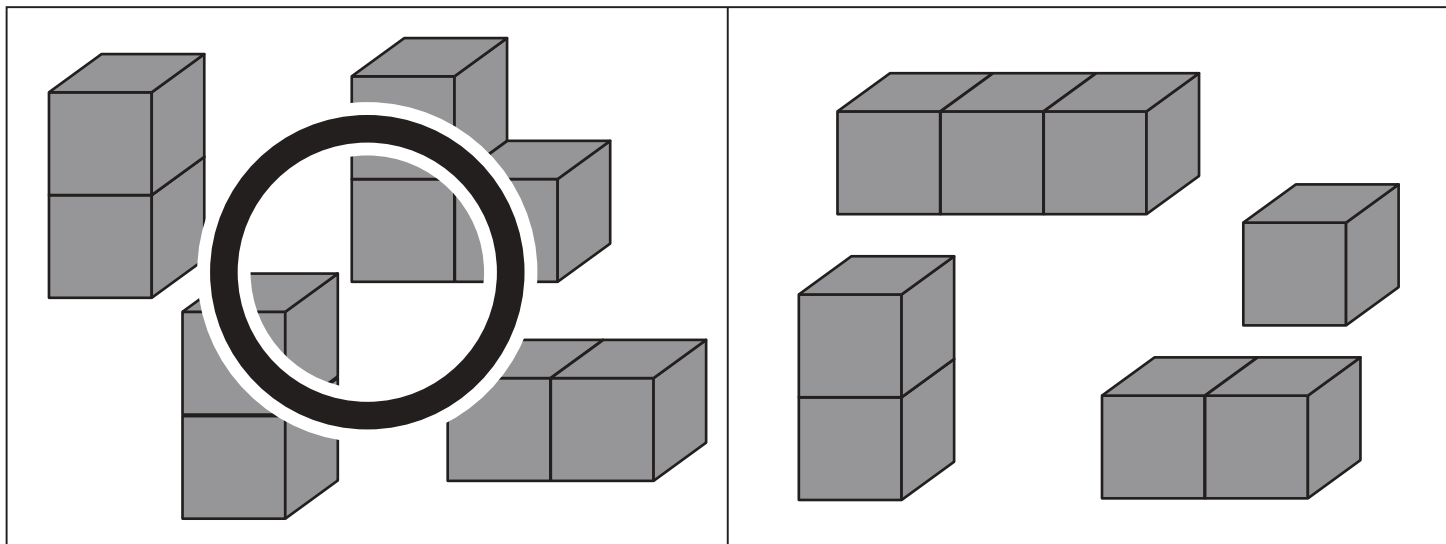


おうちで、やろう。 年中児版

Study at home. 小学校受験の家庭学習教材

数量：多少 4

積み木の数くらべます。四角の中の積み木を合わせたとき、数が多い四角に○をつけます。



※1. このプリントは、しながわ・目黒こどもスクールのウェブサイトからダウンロードできます。無断複写・引用はご遠慮ください。
 ※2. このプリントを活用したオンライン授業のスケジュールは、しながわ・目黒こどもスクールのウェブサイトでご確認ください。