



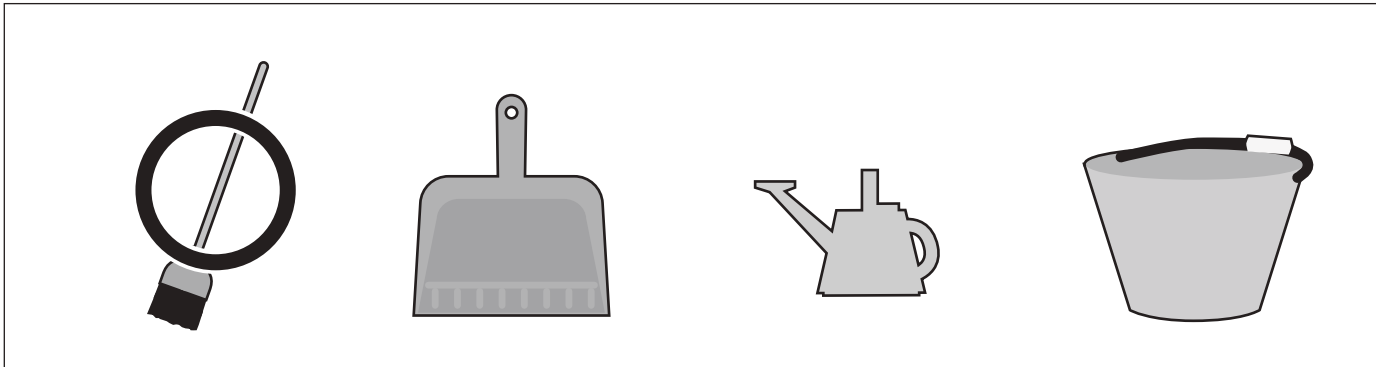
おうちで、やろう。年中児版

Study at home. 小学校受験の家庭学習教材


言語：おわりの音 3

- ①おわりの音が「き」の道具を選んで○をつけます。 ②おわりの音が「こ」の海の生き物を選んで○をつけます。
 ③おわりの音が「ん」の動物を選んで○をつけます。 ④おわりの音が「き」の食べ物を選んで○をつけます。


①




②



③



④



※1. このプリントは、しながわ・目黒こどもスクールのウェブサイトでダウンロードができます。無断複写・引用はご遠慮ください。

※2. このプリントを活用したオンライン授業のスケジュールは、しながわ・目黒こどもスクールのウェブサイトでご確認ください。




おうちで、やろう。 年中児版

Study at home. 小学校受験の家庭学習教材


言語：おわりの音 4

- ①おわりの音が「ん」の絵を2つ選んで○をつけます。 ②おわりの音が「ま」の絵を2つ選んで○をつけます。
 ③おわりの音が「る」の絵を2つ選んで○をつけます。 ④おわりの音が「う」の絵を2つ選んで○をつけます。


①




②



③



④

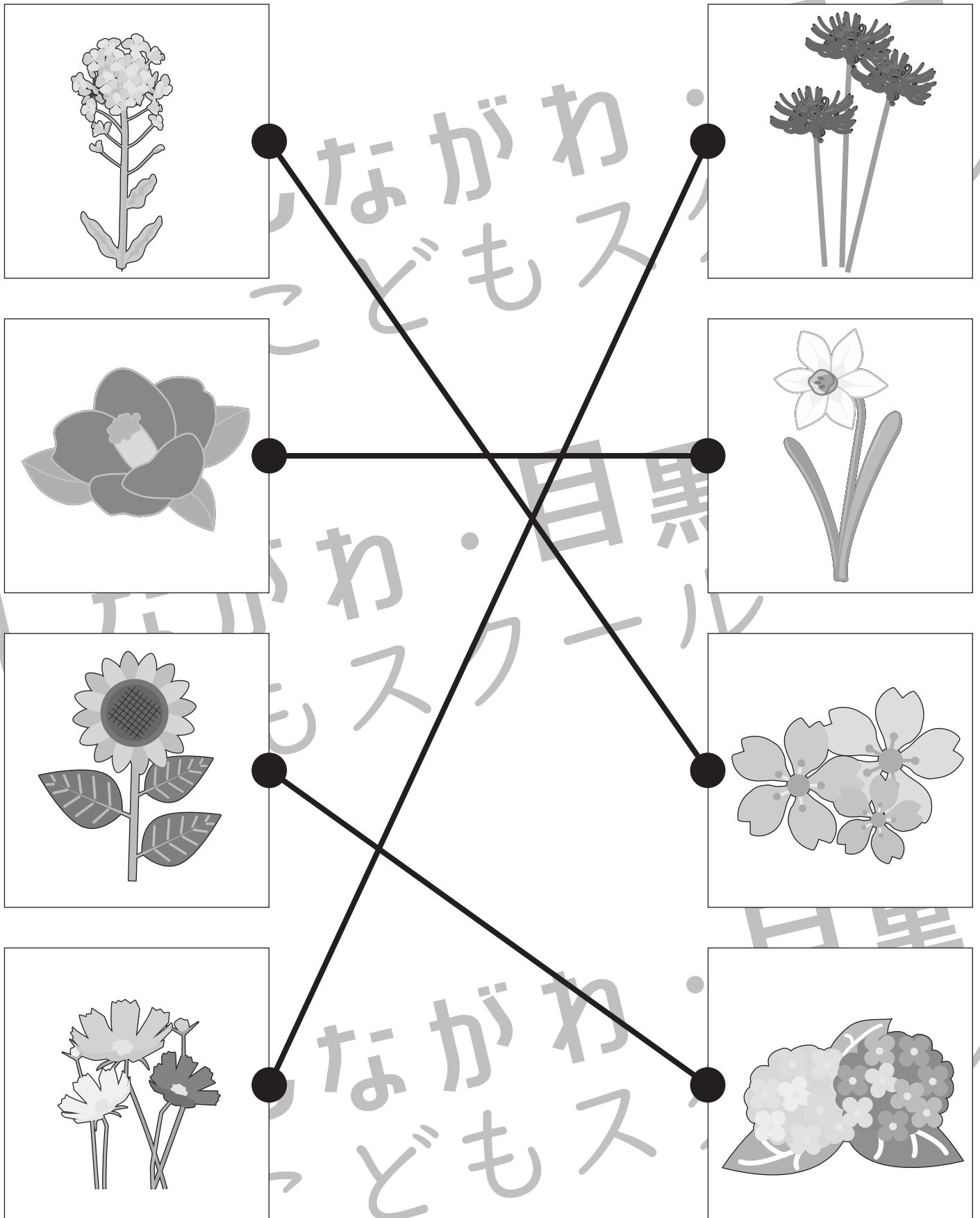


※1. このプリントは、しながわ・目黒こどもスクールのウェブサイトでダウンロードができます。無断複写・引用はご遠慮ください。

※2. このプリントを活用したオンライン授業のスケジュールは、しながわ・目黒こどもスクールのウェブサイトでご確認ください。



左の四角の中の絵の季節と同じ季節の絵を右の四角から見つけて、点と点を線で結びましょう。



※1. このプリントは、しながわ・目黒こどもスクールのウェブサイトからダウンロードできます。無断複写・引用はご遠慮ください。

※2. このプリントを活用したオンライン授業のスケジュールは、しながわ・目黒こどもスクールのウェブサイトでご確認ください。




おうちで、やろう。年中児版

Study at home. 小学校受験の家庭学習教材


言語：言葉の理解 1

それぞれの動物のお話を聞いて、正しいことをお話している動物に○をつけます。


- ① イヌ：「おおきい」の反対は「ほそい」だよ。
 ネコ：「おおきい」の反対は「みじかい」だよ。
 キツネ：「おおきい」の反対は「すくない」だよ。
 タヌキ：「おおきい」の反対は「ちいさい」だよ。




- ① イヌ：「つよい」の反対は「かなしい」だよ。
 ネコ：「つよい」の反対は「よわい」だよ。
 キツネ：「つよい」の反対は「まけ」だよ。
 タヌキ：「つよい」の反対は「つよくない」だよ。



- ① イヌ：「むずかしい」の反対は「かんたん」だよ。
 ネコ：「むずかしい」の反対は「ふつう」だよ。
 キツネ：「むずかしい」の反対は「さむい」だよ。
 タヌキ：「むずかしい」の反対は「できる」だよ。



- ① イヌ：「うすい」の反対は「たかい」だよ。
 ネコ：「うすい」の反対は「あかるい」だよ。
 キツネ：「うすい」の反対は「たくさん」だよ。
 タヌキ：「うすい」の反対は「こい」だよ。



※1. このプリントは、しながわ・目黒こどもスクールのウェブサイトからダウンロードができます。無断複写・引用はご遠慮ください。
 ※2. このプリントを活用したオンライン授業のスケジュールは、しながわ・目黒こどもスクールのウェブサイトでご確認ください。

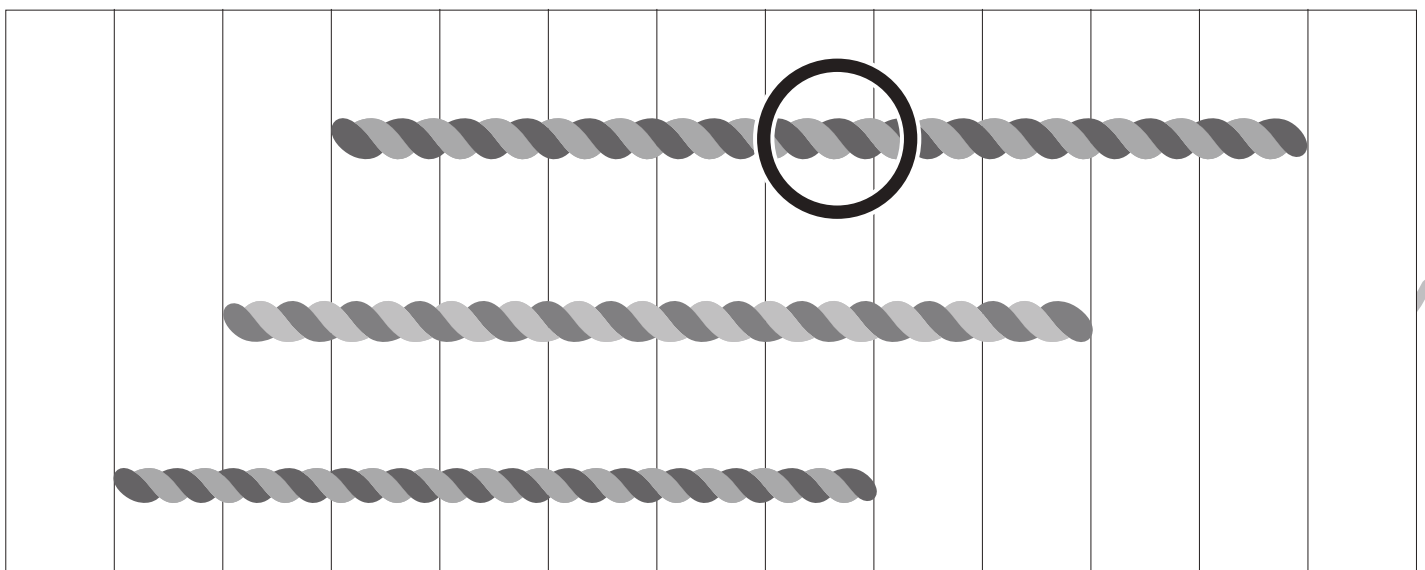
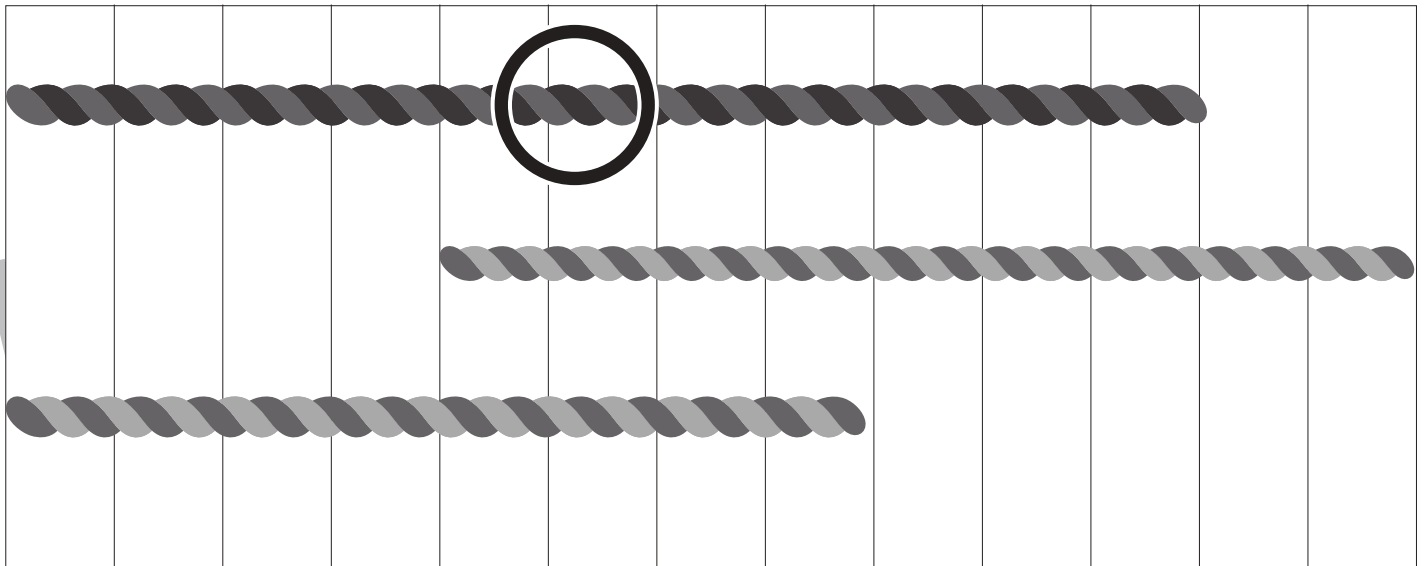
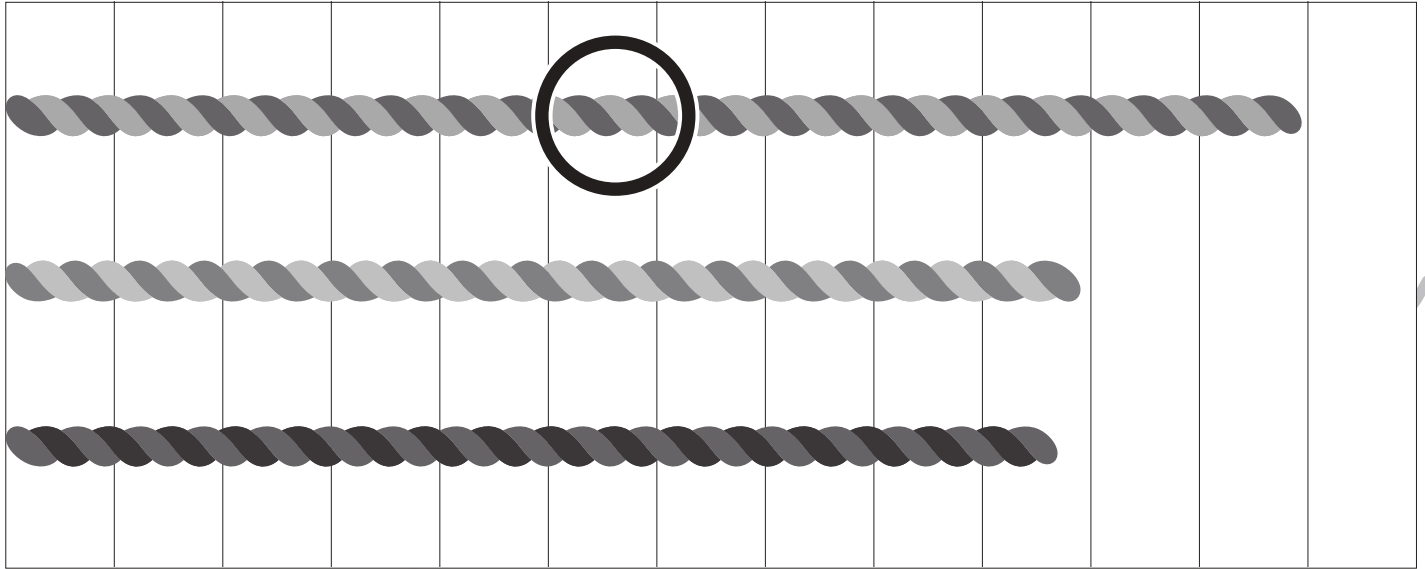


おうちで、やろう。 年中児版

Study at home. 小学校受験の家庭学習教材

数量：長さ1

ひもの長さが一番長いものに○をつけます。



※1. このプリントは、しながわ・目黒こどもスクールのウェブサイトからダウンロードできます。無断複写・引用はご遠慮ください。
※2. このプリントを活用したオンライン授業のスケジュールは、しながわ・目黒こどもスクールのウェブサイトでご確認ください。




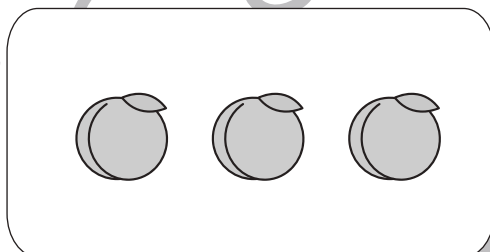
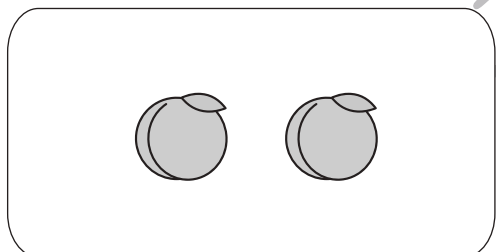




おうちで、やろう。 年中児版

Study at home. 小学校受験の家庭学習教材

数量：加減 8

ウサギの持っている果物と隣にいる動物の持っている果物を合わせるといくつになりますか。
その数だけ一番右の四角に○をかきます。



※1. このプリントは、しながわ・目黒こどもスクールのウェブサイトからダウンロードできます。無断複写・引用はご遠慮ください。
※2. このプリントを活用したオンライン授業のスケジュールは、しながわ・目黒こどもスクールのウェブサイトでご確認ください。



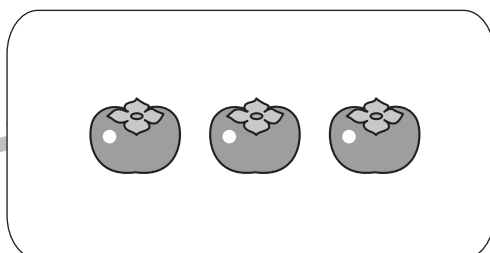
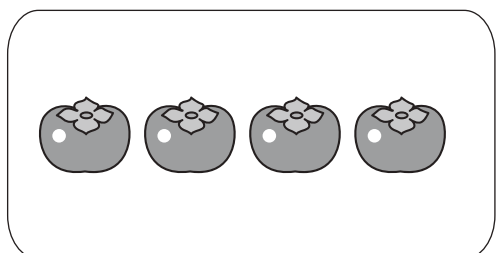
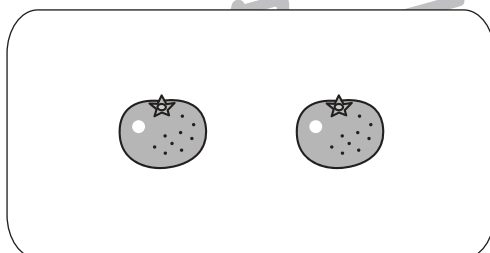
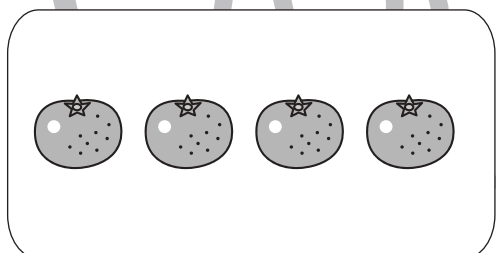
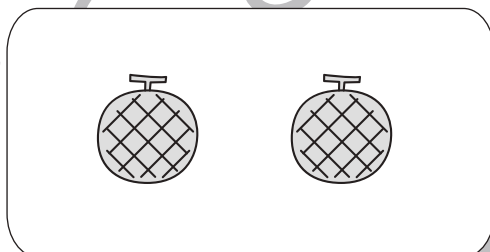
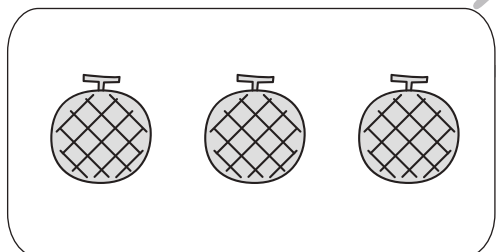




おうちで、やろう。 年中児版

Study at home. 小学校受験の家庭学習教材

数量：加減 9

ネコのは吹き出しの中の数だけ果物を持っています。隣の動物に吹き出しの中にあるだけ果物をあげるといくつ残りますか。その数だけ〇をかきます。



※1. このプリントは、しながわ・目黒こどもスクールのウェブサイトでダウンロードができます。無断複写・引用はご遠慮ください。
※2. このプリントを活用したオンライン授業のスケジュールは、しながわ・目黒こどもスクールのウェブサイトでご確認ください。