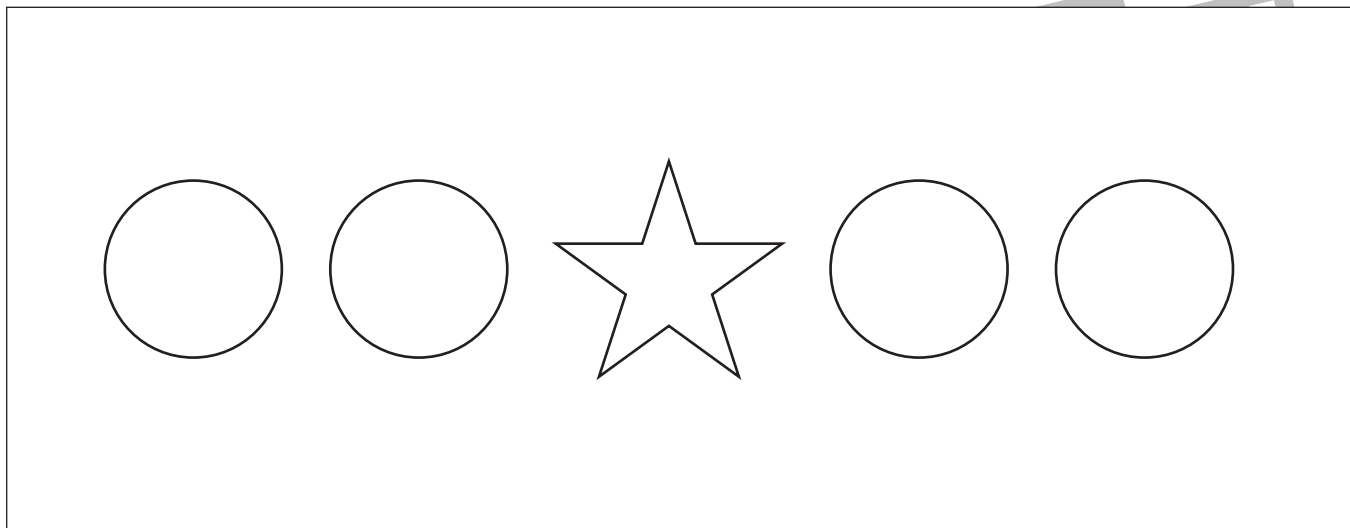


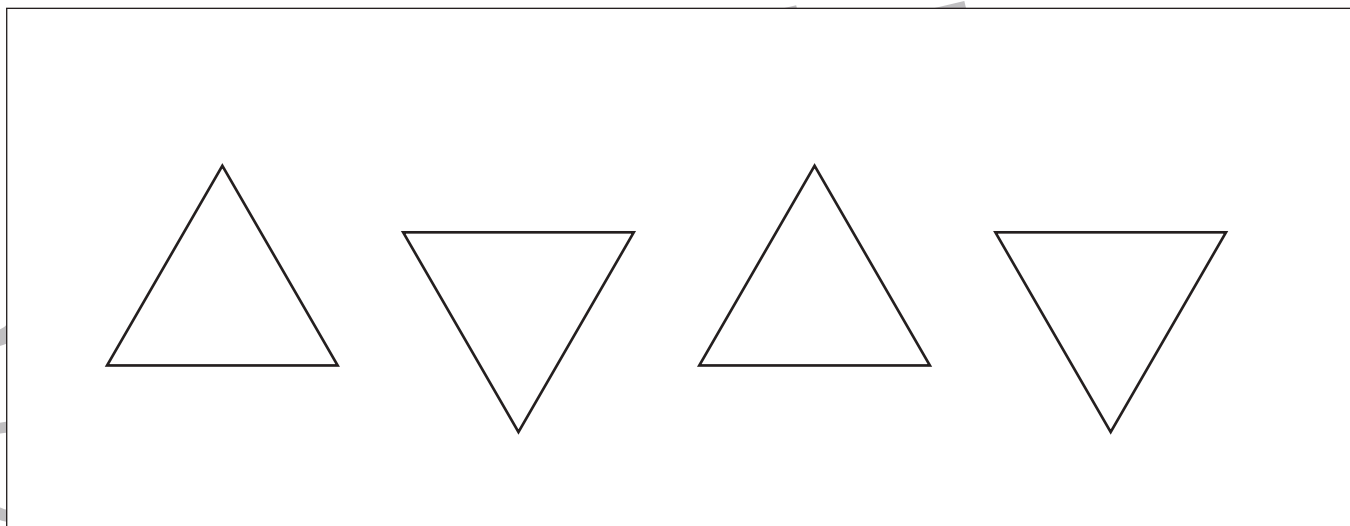


- ①星と隣り合わせになっていない○を青色のクーピーで塗ります。
- ②角が下を向いている三角を紫色のクーピーで塗ります。
- ③一番小さい口を茶色のクーピーで塗ります。

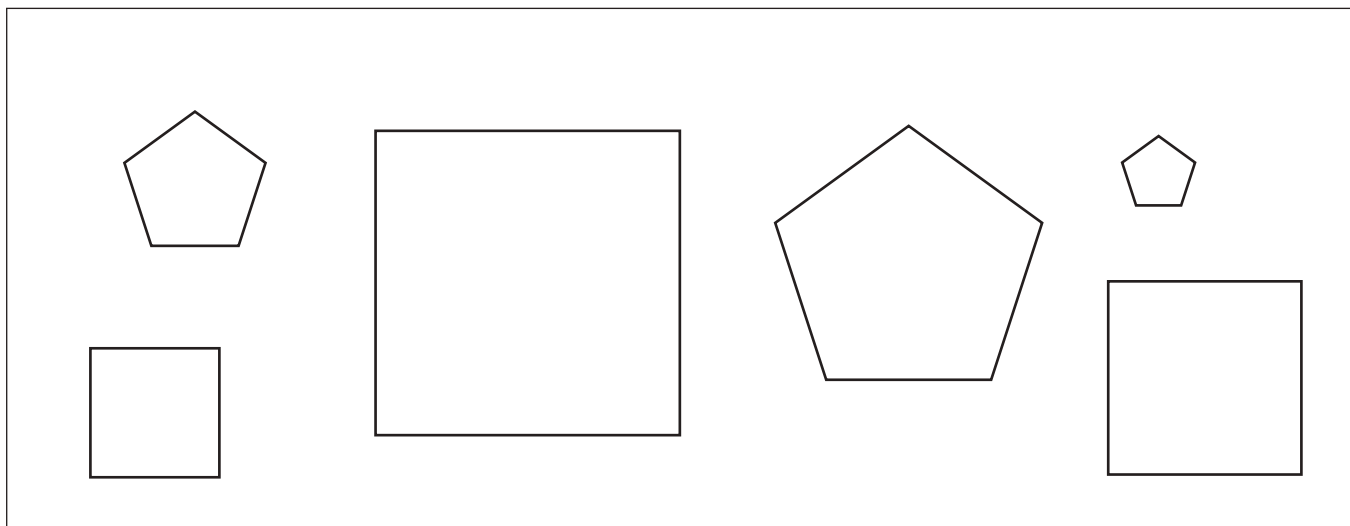
①



②



③



※1. このプリントは、しながわ・目黒こどもスクールのウェブサイトからダウンロードができます。無断複写・引用はご遠慮ください。

※2. このプリントを活用したオンライン授業のスケジュールは、しながわ・目黒こどもスクールのウェブサイトでご確認ください。





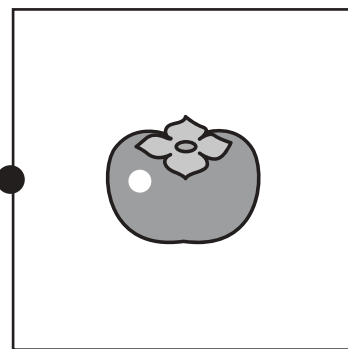
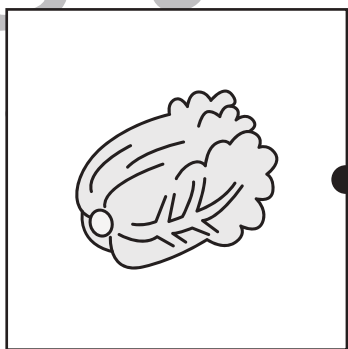





おうちで、やろう。 年中児版

Study at home. 小学校受験の家庭学習教材

言語：音の数 3

左と右の絵の音の数が同じものを探して、点と点を線で結びます。



※1. このプリントは、しながわ・目黒こどもスクールのウェブサイトでダウンロードができます。無断複写・引用はご遠慮ください。

※2. このプリントを活用したオンライン授業のスケジュールは、しながわ・目黒こどもスクールのウェブサイトでご確認ください。







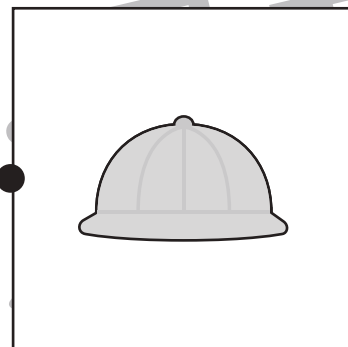
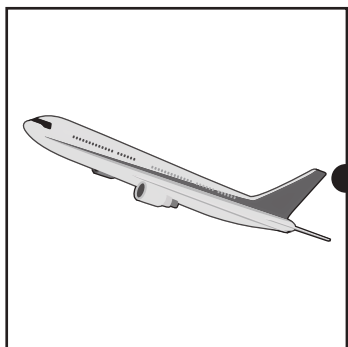


おうちで、やろう。 年中児版

Study at home. 小学校受験の家庭学習教材

言語：音の数 4

左と右の絵の音の数が同じものを探して、点と点を線で結びます。



※1. このプリントは、しながわ・目黒こどもスクールのウェブサイトでダウンロードができます。無断複写・引用はご遠慮ください。
※2. このプリントを活用したオンライン授業のスケジュールは、しながわ・目黒こどもスクールのウェブサイトでご確認ください。



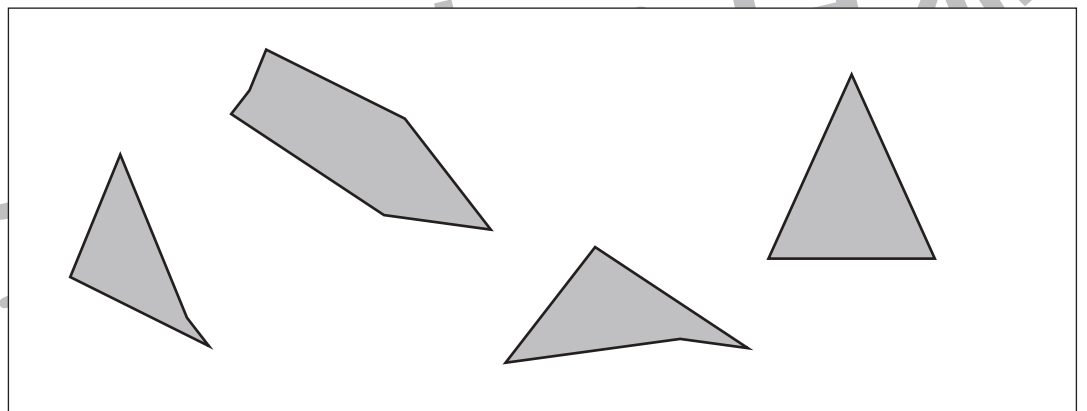
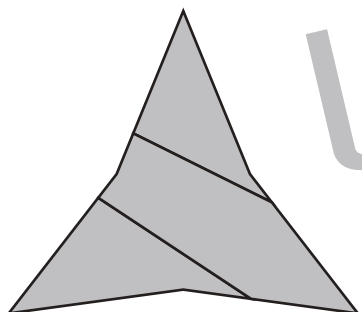
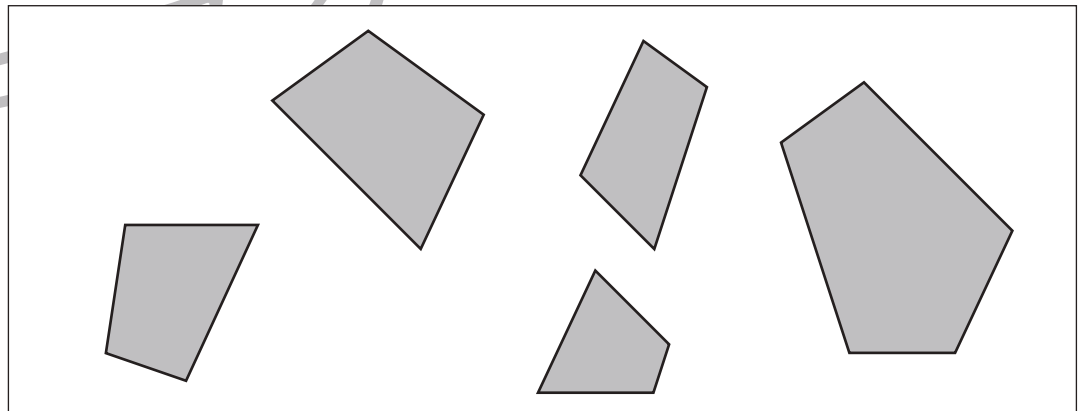
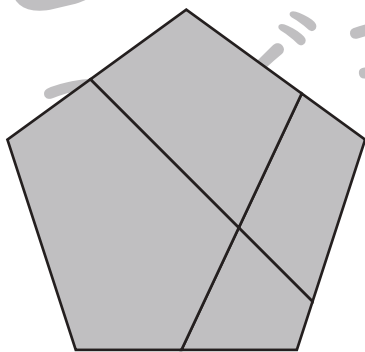
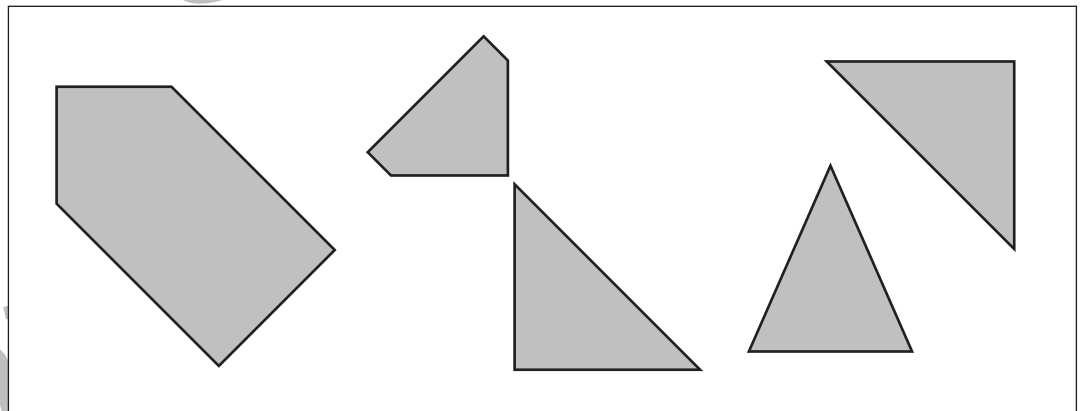
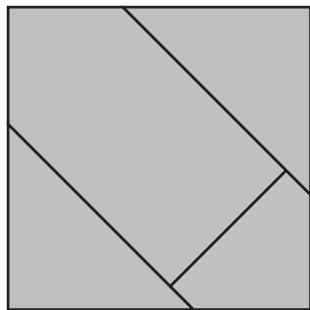
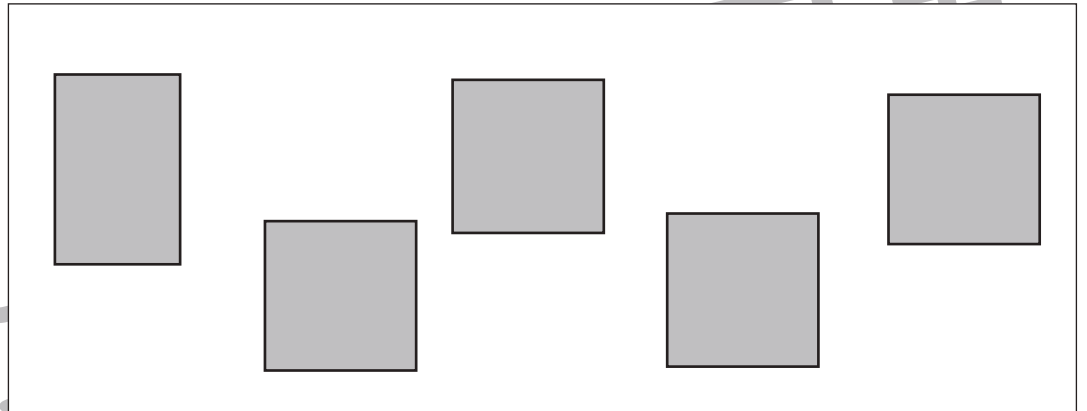
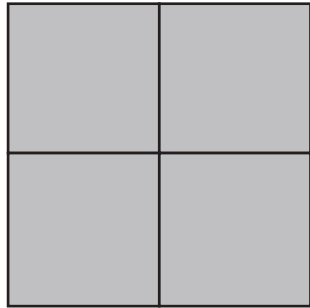


おうちで、やろう。 年中児版

Study at home. 小学校受験の家庭学習教材

図形：構成 4

左のお手本を作るときに使わない形を右の四角の中から見つけて○をつけます。



※1. このプリントは、しながわ・目黒こどもスクールのウェブサイトでダウンロードができます。無断複写・引用はご遠慮ください。
※2. このプリントを活用したオンライン授業のスケジュールは、しながわ・目黒こどもスクールのウェブサイトでご確認ください。



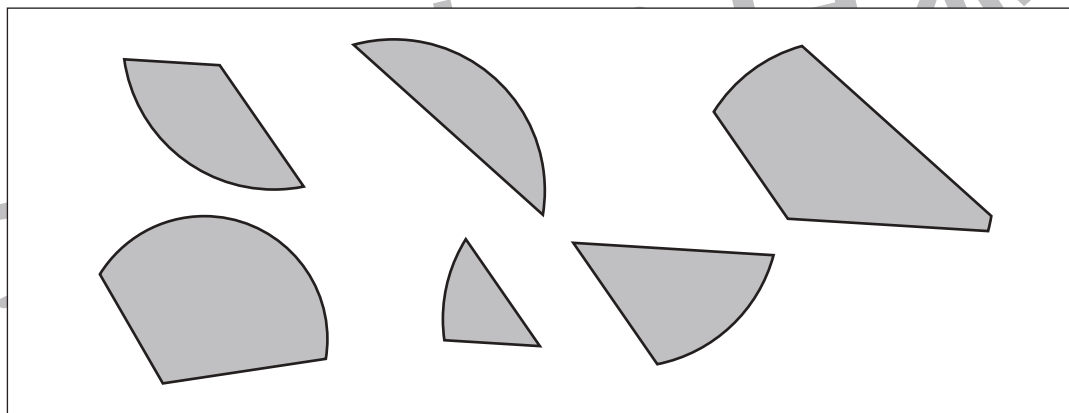
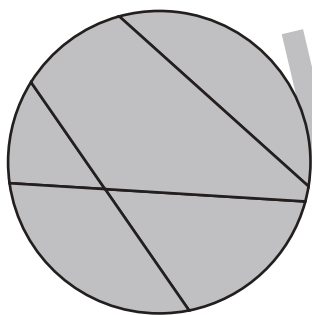
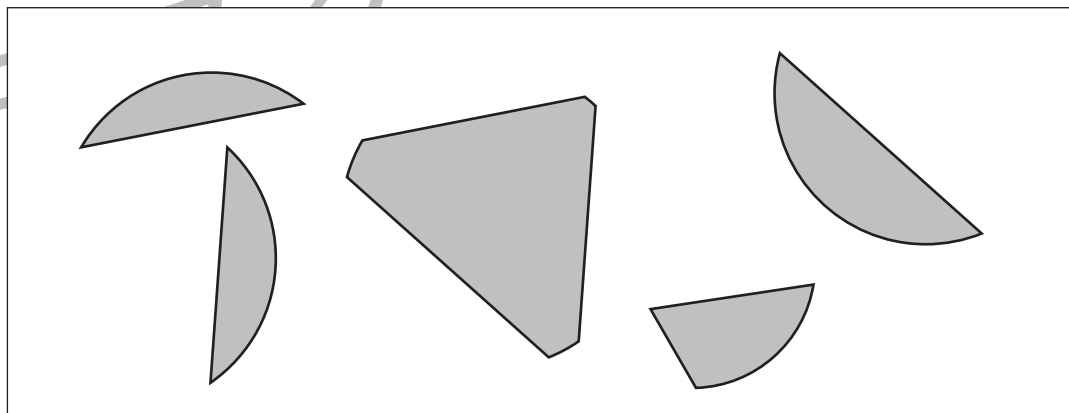
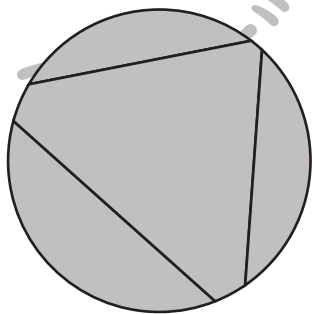
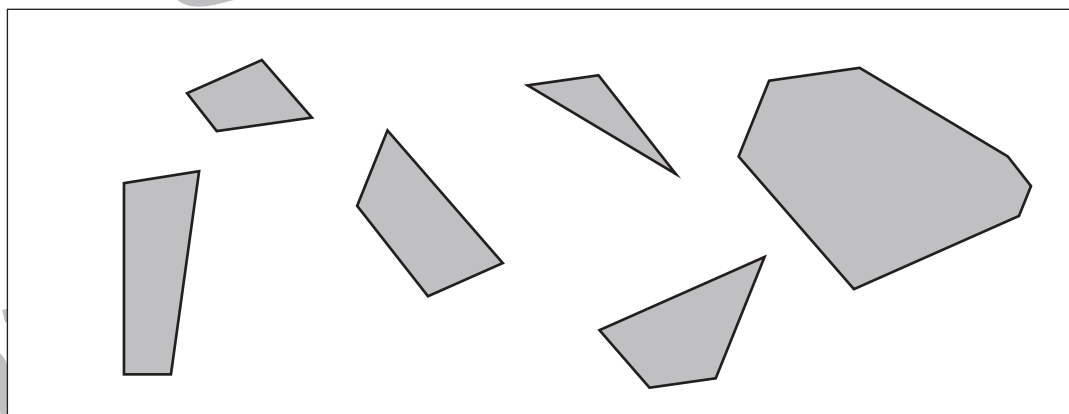
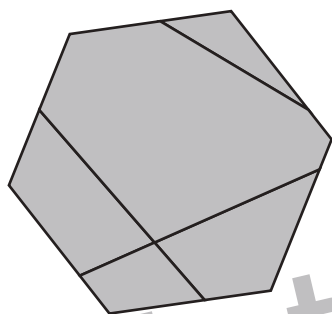
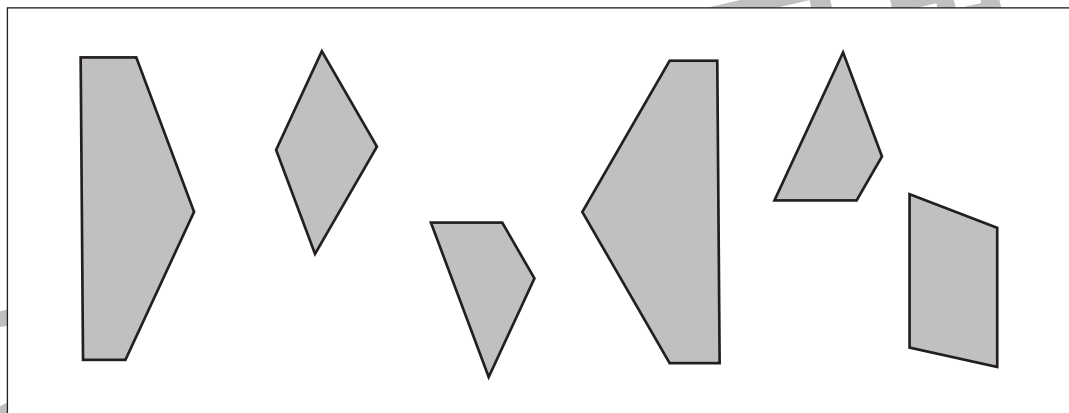
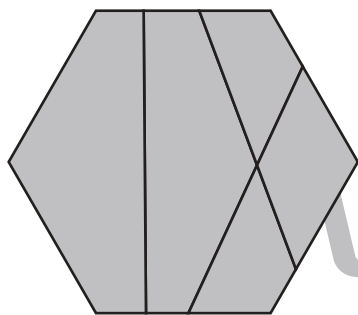


おうちで、やろう。 年中児版

Study at home. 小学校受験の家庭学習教材

図形：構成5

左のお手本を作るときに使わない形を右の四角の中から見つけて○をつけます。



※1. このプリントは、しながわ・目黒こどもスクールのウェブサイトからダウンロードができます。無断複写・引用はご遠慮ください。
※2. このプリントを活用したオンライン授業のスケジュールは、しながわ・目黒こどもスクールのウェブサイトでご確認ください。





おうちで、よろう。 年中児版

Study at home. 小学校受験の家庭学習教材

運筆 - 模写 3

左側の時計がお手本です。このお手本と同じになるように右側の時計に針をかきましよう。
また短い針がさしている数だけ、右の四角に〇をかきましよう。

--	--	--

--	--	--

--	--	--

--	--	--

※1. このプリントは、しながわ・目黒こどもスクールのウェブサイトでダウンロードができます。無断複写・引用はご遠慮ください。
 ※2. このプリントを活用したオンライン授業のスケジュールは、しながわ・目黒こどもスクールのウェブサイトでご確認ください。



おうちで、やろう。 年中児版

Study at home. 小学校受験の家庭学習教材

図形：重ね 9

左と右の点図形を重ねたとき、どんな形になりますか。矢印の右側の四角にかきましょう。

※ 1. このプリントは、しながわ・目黒こどもスクールのウェブサイトでダウンロードができます。無断複写・引用はご遠慮ください。

※ 2. このプリントを活用したオンライン授業のスケジュールは、しながわ・目黒こどもスクールのウェブサイトでご確認ください。



おうちで、やろう。 年中児版

Study at home. 小学校受験の家庭学習教材

図形：模写3

左側のお手本通りに右の図形に線を描きましょう。 ※この問題に解答はありません

※1. このプリントは、しながわ・目黒こどもスクールのウェブサイトからダウンロードできます。無断複写・引用はご遠慮ください。
 ※2. このプリントを活用したオンライン授業のスケジュールは、しながわ・目黒こどもスクールのウェブサイトでご確認ください。