


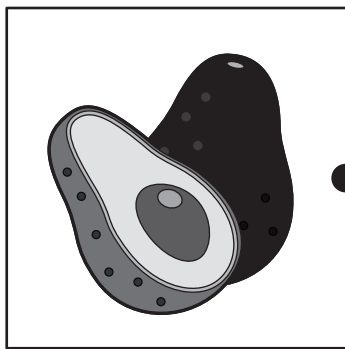
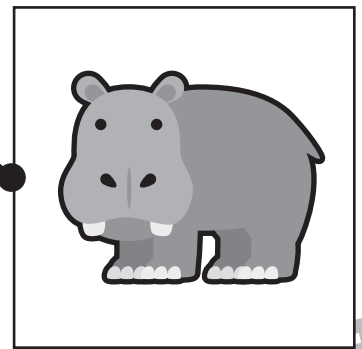







おうちで、やろう。 年中児版

Study at home. 小学校受験の家庭学習教材

言語：音の数8

左と右の絵の音の数が同じものを探して、点と点を線で結びます。



※1. このプリントは、しながわ・目黒こどもスクールのウェブサイトでダウンロードができます。無断複写・引用はご遠慮ください。
※2. このプリントを活用したオンライン授業のスケジュールは、しながわ・目黒こどもスクールのウェブサイトでご確認ください。



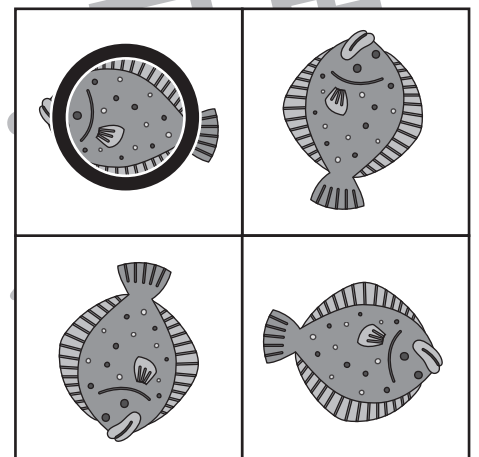







おうちで、やろう。 年中児版

Study at home. 小学校受験の家庭学習教材

図形：回転 12

上の太い四角が矢印の方向に一回ずつ倒れます。？の絵の見え方を考えて、下の四角の絵に○をつけます。



※1. このプリントは、しながわ・目黒こどもスクールのウェブサイトでダウンロードができます。無断複写・引用はご遠慮ください。
 ※2. このプリントを活用したオンライン授業のスケジュールは、しながわ・目黒こどもスクールのウェブサイトでご確認ください。




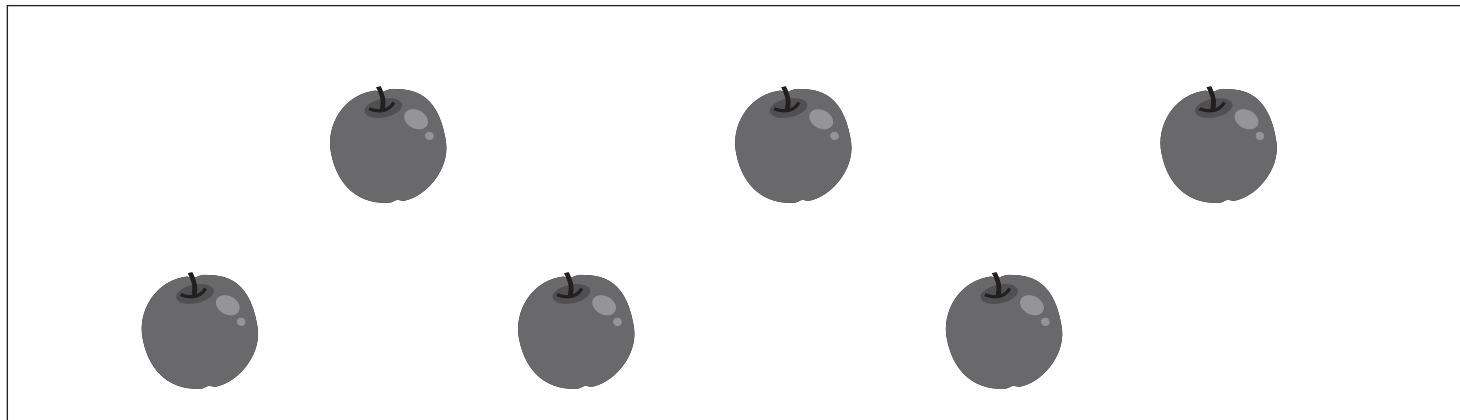


おうちで、やろう。 年中児版

Study at home. 小学校受験の家庭学習教材

数量：計数 14

それぞれの四角の中の果物がいくつあるのかを数えて、その数だけ下の四角に○をかきます。



※1. このプリントは、しながわ・目黒こどもスクールのウェブサイトからダウンロードできます。無断複写・引用はご遠慮ください。

※2. このプリントを活用したオンライン授業のスケジュールは、しながわ・目黒こどもスクールのウェブサイトでご確認ください。






おうちで、やろう。 年中児版

Study at home. 小学校受験の家庭学習教材

数量：置き換え 16

太い四角の中はお約束です。イチゴ1つでジュースを3つ作ることができます。
このお約束のとき下の四角の中のイチゴでいくつジュースを作れるか考えて、その数だけコップの絵に○をつけます。



※1. このプリントは、しながわ・目黒こどもスクールのウェブサイトでダウンロードができます。無断複写・引用はご遠慮ください。

※2. このプリントを活用したオンライン授業のスケジュールは、しながわ・目黒こどもスクールのウェブサイトでご確認ください。





おうちで、やろう。 年中児版

Study at home. 小学校受験の家庭学習教材

まちがいさがし3

上下の絵を見比べて、変わっているところを4つ探します。見つけたら、下の絵の変わっている部分に○をつけます。

