













おうちで、やろう。 年中児版

Study at home. 小学校受験の家庭学習教材

言語：しりとり9

左から右までしりとりでつなぎます。真ん中の太い四角の中に入るものを考えて、正しい絵に○をつけます。



※1. このプリントは、しながわ・目黒こどもスクールのウェブサイトからダウンロードできます。無断複写・引用はご遠慮ください。
 ※2. このプリントを活用したオンライン授業のスケジュールは、しながわ・目黒こどもスクールのウェブサイトでご確認ください。



おうちで、やろう。年中児版









Study at home. 小学校受験の家庭学習教材

指示理解 16

動物たちがお店に買い物に出かけます。吹き出しの中には、そのお店に売られているものがあります。

下の①～④の問題を全部聞いたあと、お話通りに動物とお店を線で結びます。

- ①サイは、イチゴを買いに出かけます。
- ②ワニは、レモンを買いに出かけます。
- ③ラクダは、クリを買いに出かけます。
- ④カンガルーは、パイナップルを買いに出かけます。



※1. このプリントは、しながわ・目黒こどもスクールのウェブサイトからダウンロードができます。無断複写・引用はご遠慮ください。

※2. このプリントを活用したオンライン授業のスケジュールは、しながわ・目黒こどもスクールのウェブサイトでご確認ください。











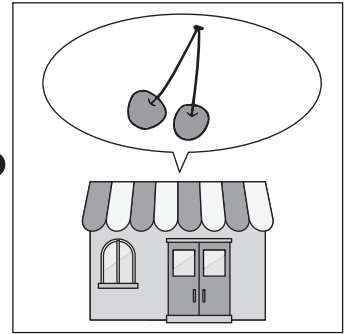

おうちで、やろう。年中児版

Study at home. 小学校受験の家庭学習教材

指示理解 17

動物たちがお店に買い物に出かけます。吹き出しの中には、そのお店に売られているものがあります。
下の①～④の問題を全部聞いたあと、お話通りに動物とお店を線で結びます。

- ①サイは、サクランボを買いに出かけます。
- ②ワニは、バナナを買いに出かけます。
- ③ラクダは、ブルーベリーを買いに出かけます。
- ④カンガルーは、スイカを買いに出かけます。



※1. このプリントは、しながわ・目黒こどもスクールのウェブサイトからダウンロードができます。無断複写・引用はご遠慮ください。

※2. このプリントを活用したオンライン授業のスケジュールは、しながわ・目黒こどもスクールのウェブサイトでご確認ください。













おうちで、やろう。年中児版

Study at home. 小学校受験の家庭学習教材

指示理解 18

動物たちがお店に買い物に出かけます。吹き出しの中には、そのお店に売られているものがあります。
下の①～④の問題を聞いて、動物達が最後に行ったお店と動物を線で結びます。

- ①サイは、イチゴを買ったあと、クリを買いに行きました。
- ②ワニは、クリを買ったあと、パイナップルを買いに行きました。
- ③ラクダは、レモンを買ったあと、イチゴを買いに行きました。
- ④カンガルーは、パイナップルを買ったあと、レモンを買いに行きました。



※1. このプリントは、しながわ・目黒こどもスクールのウェブサイトでダウンロードができます。無断複写・引用はご遠慮ください。
 ※2. このプリントを活用したオンライン授業のスケジュールは、しながわ・目黒こどもスクールのウェブサイトでご確認ください。









おうちで、やろう。 年中児版

Study at home. 小学校受験の家庭学習教材

図形：同図形8

太い四角の中のお手本と同じ絵を見つけて○をつけます。



※1. このプリントは、しながわ・目黒こどもスクールのウェブサイトからダウンロードができます。無断複写・引用はご遠慮ください。

※2. このプリントを活用したオンライン授業のスケジュールは、しながわ・目黒こどもスクールのウェブサイトでご確認ください。













おうちで、やろう。 年中児版

Study at home. 小学校受験の家庭学習教材

図形：同図形9

太い四角の中のお手本と同じ絵を見つけて○をつけます。



※1. このプリントは、しながわ・目黒こどもスクールのウェブサイトからダウンロードができます。無断複写・引用はご遠慮ください。

※2. このプリントを活用したオンライン授業のスケジュールは、しながわ・目黒こどもスクールのウェブサイトでご確認ください。







おうちで、やろう。 年中児版

Study at home. 小学校受験の家庭学習教材


数量：置き換え 17

太い四角の中はお約束です。上のおもちゃをもらうには太い四角の中のコインの枚数が必要です。
このお約束のとき、吹き出しの中のおもちゃをもらうにはコインが何枚必要ですか。その数だけ右の四角に○をかきます。

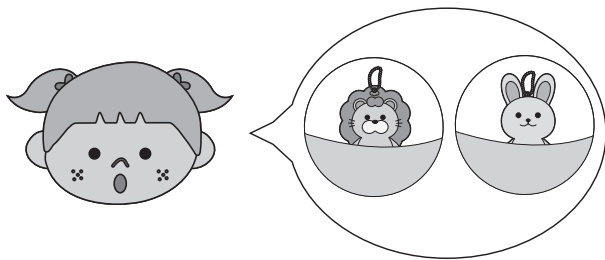





$$○ \times 4$$



$$○ \times 3$$



$$○ \times 5$$



$$○ \times 3$$

※1. このプリントは、しながわ・目黒こどもスクールのウェブサイトでダウンロードができます。無断複写・引用はご遠慮ください。

※2. このプリントを活用したオンライン授業のスケジュールは、しながわ・目黒こどもスクールのウェブサイトでご確認ください。