



# おうちで、やろう。

Study at home. 小学校受験の家庭学習教材

## 言語：音の理解 19

左の四角の中の絵の、2番目の音を合わせると右の四角の中のどの絵になるかを考えて、○をつけます。

--	--

--	--

--	--

※1. このプリントは、しながわ・目黒こどもスクールのウェブサイトでダウンロードができます。無断複写・引用はご遠慮ください。  
 ※2. このプリントを活用したオンライン授業のスケジュールは、しながわ・目黒こどもスクールのウェブサイトでご確認ください。



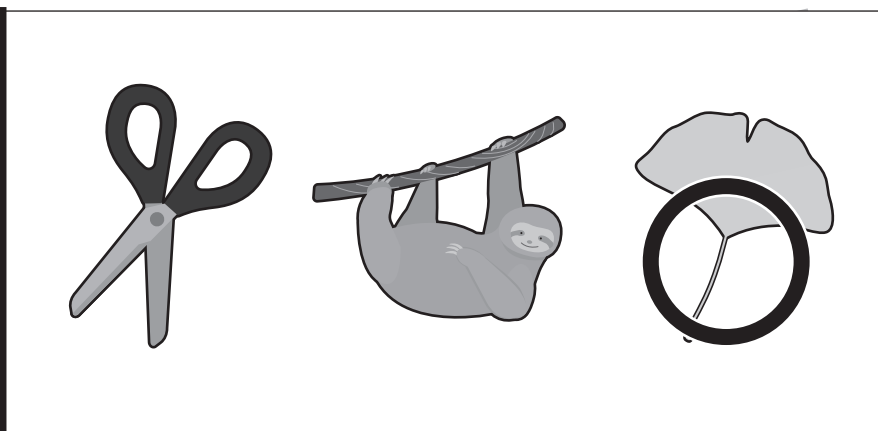



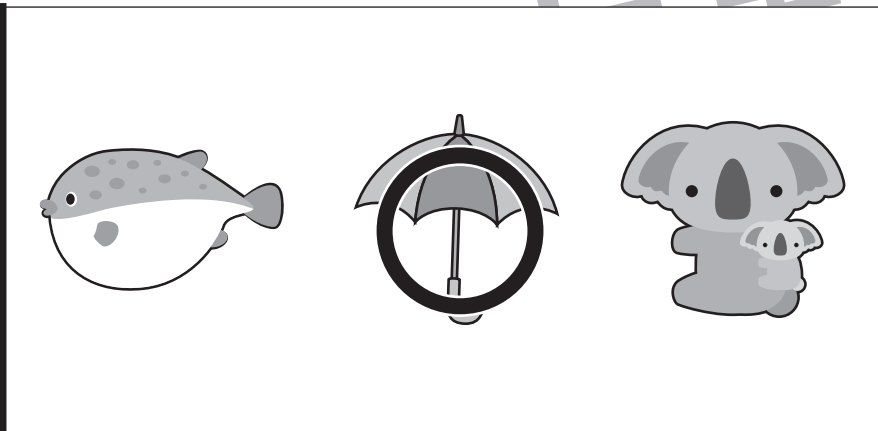

# おうちで、やろう。

Study at home. 小学校受験の家庭学習教材

## 言語：音の理解 20

太い四角の中は名前に同じ音がある、または音の数が同じです。

右の四角の中から、太い四角の絵と同じ音があるもの、または同じ音の数の絵に○をつけます。



※1. このプリントは、しながわ・目黒こどもスクールのウェブサイトでダウンロードができます。無断複写・引用はご遠慮ください。

※2. このプリントを活用したオンライン授業のスケジュールは、しながわ・目黒こどもスクールのウェブサイトでご確認ください。



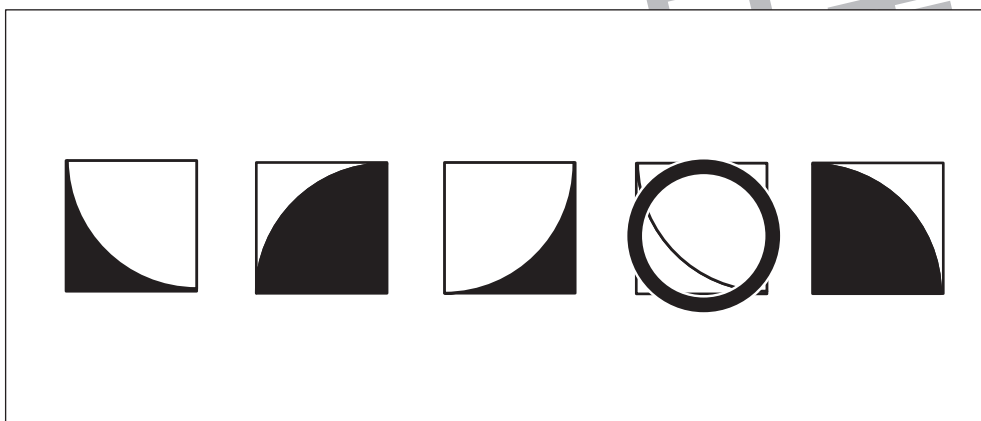
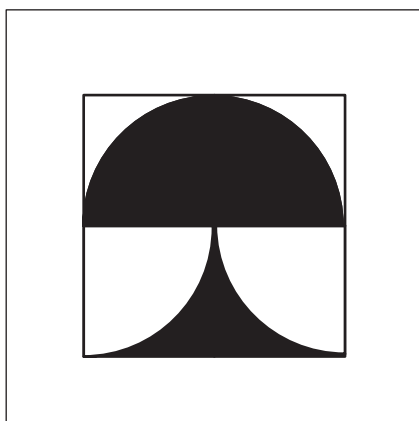
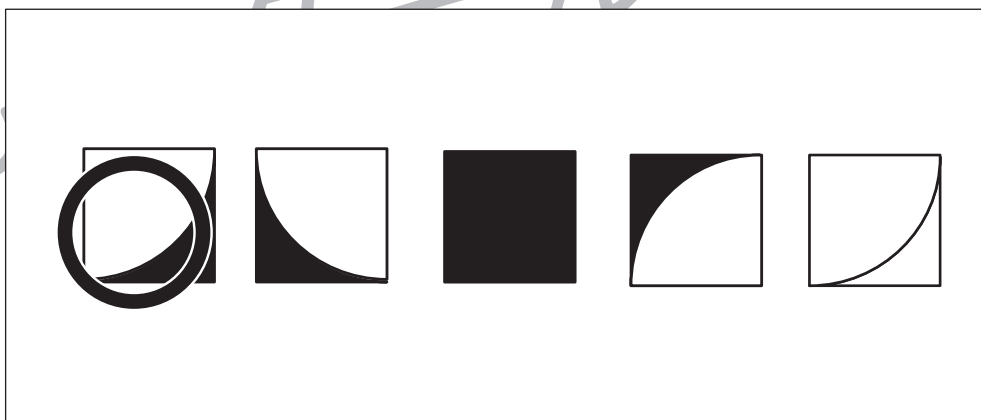

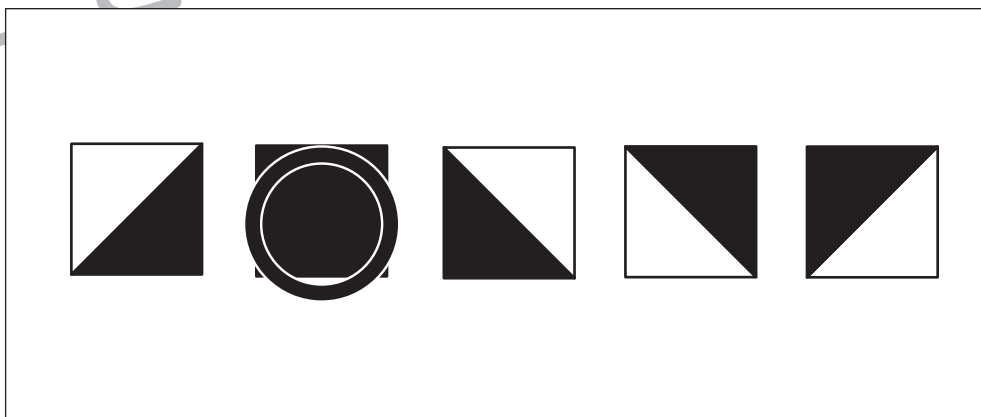
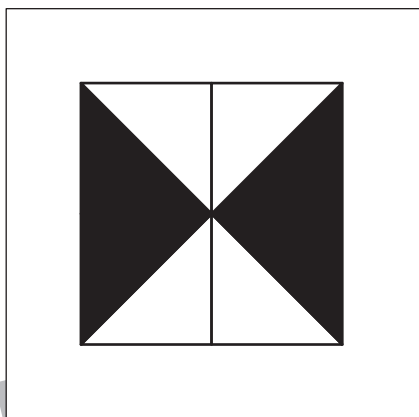
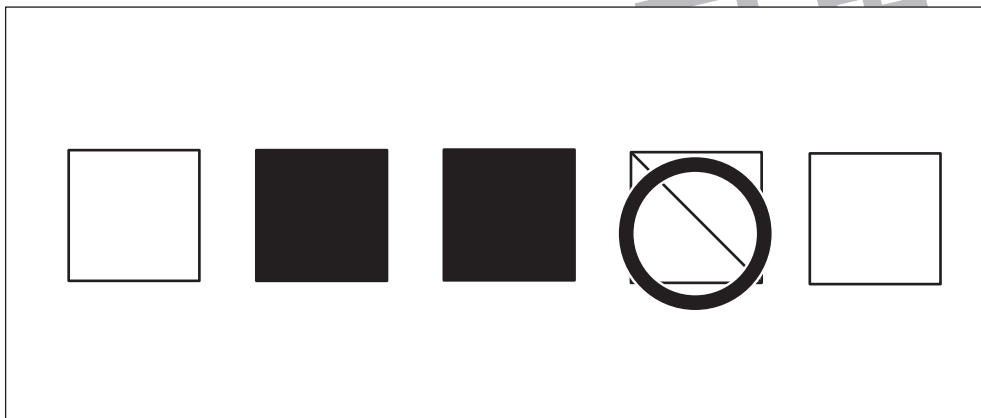



# おうちで、やろう。

Study at home. 小学校受験の家庭学習教材

## 図形：構成 15

左の四角がお手本です。左の四角の中の形を作るのに使わない形を見つけて○をつけます。  
形は回転させたり裏返しにはいけません。



※1. このプリントは、しながわ・目黒こどもスクールのウェブサイトでダウンロードができます。無断複写・引用はご遠慮ください。  
※2. このプリントを活用したオンライン授業のスケジュールは、しながわ・目黒こどもスクールのウェブサイトでご確認ください。

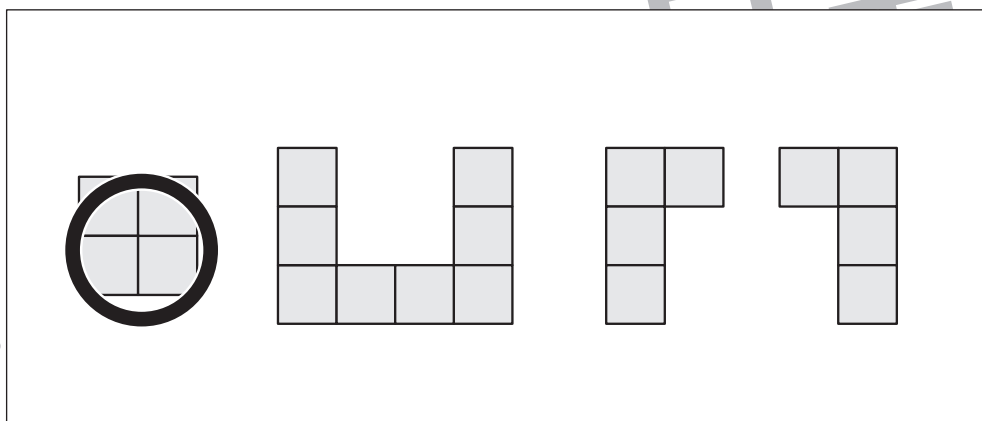
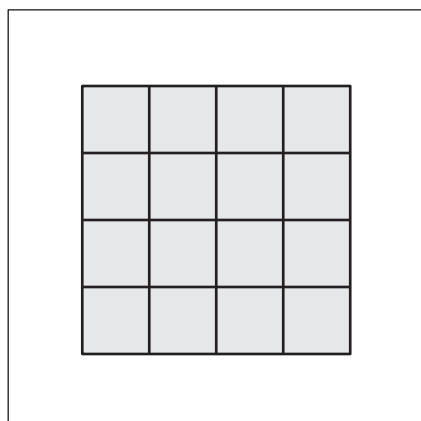
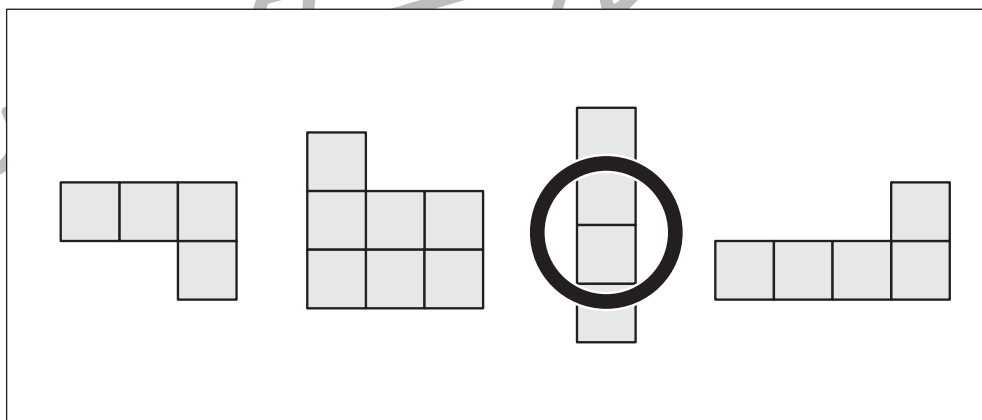
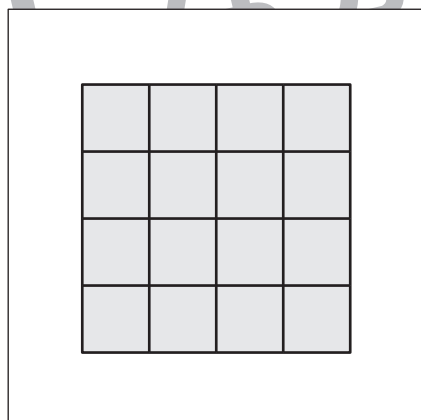
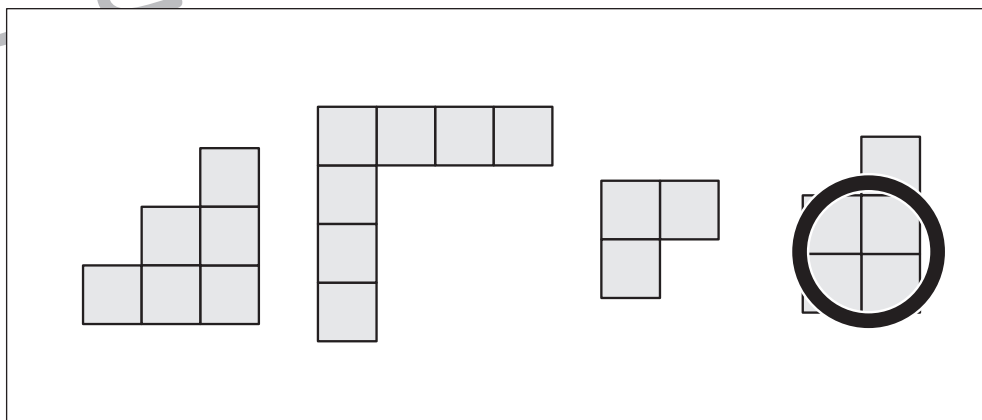
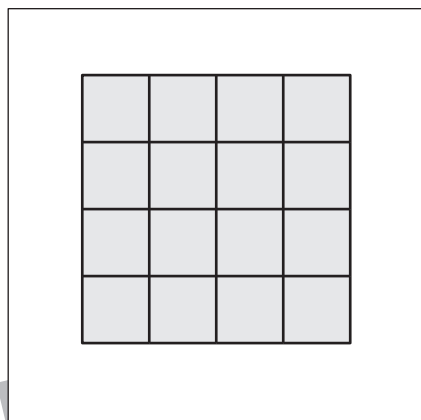
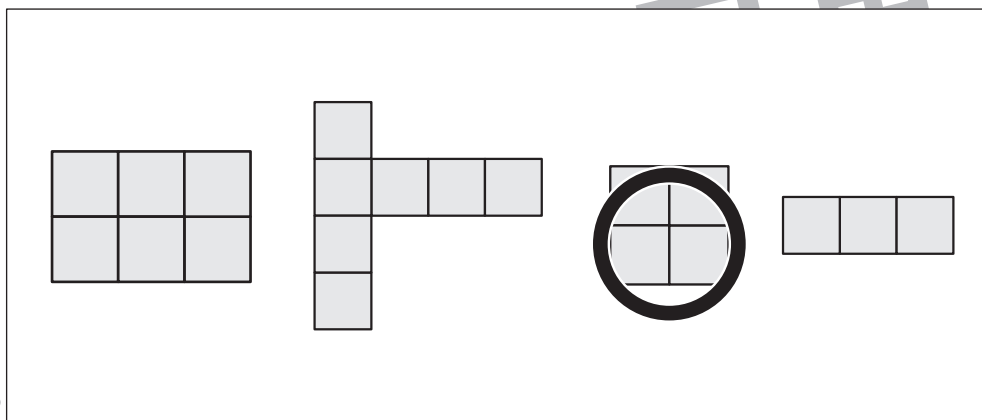
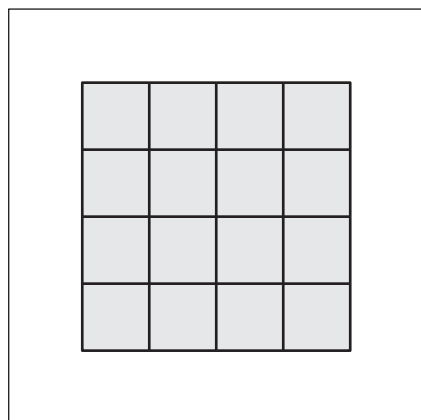


# おうちで、やろう。

Study at home. 小学校受験の家庭学習教材

## 図形：構成 16

左の四角がお手本です。左の四角の中の形を作るのに使わない形を見つけて○をつけます。  
形は回転させたり裏返しにはいけません。



※1. このプリントは、しながわ・目黒こどもスクールのウェブサイトでダウンロードができます。無断複写・引用はご遠慮ください。  
※2. このプリントを活用したオンライン授業のスケジュールは、しながわ・目黒こどもスクールのウェブサイトでご確認ください。



# おうちで、やろう。

Study at home. 小学校受験の家庭学習教材

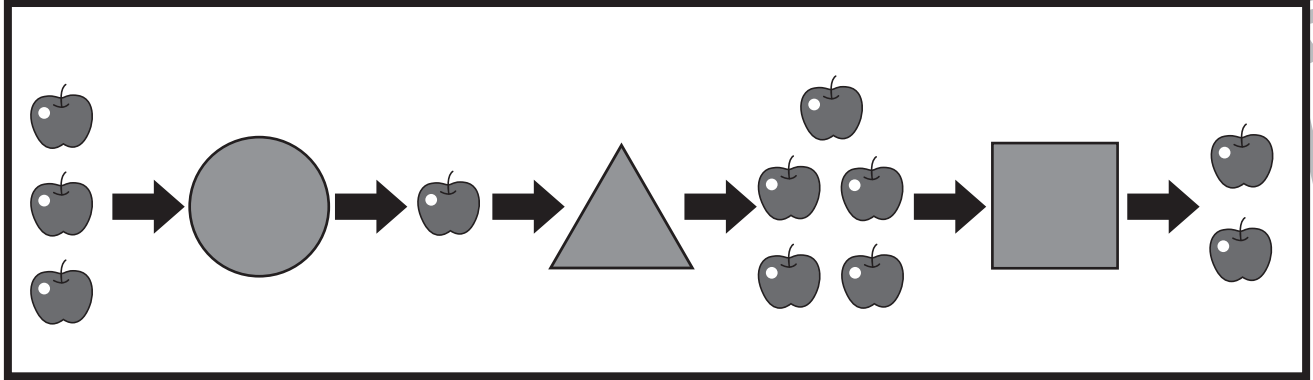
数量：ブラックボックス 10

太い四角がお手本です。

リンゴが、丸い箱を通ると2つ減り、三角の箱を通ると4つ増え、四角い箱を通ると3つ減ります。

このとき、リンゴが→の先にある箱を左から順番に通ると、リンゴはそれぞれいくつになりますか。

その数だけ右の四角に○をかきます。



	$\bigcirc \times 4$
	$\bigcirc \times 4$
	$\bigcirc \times 6$



# おうちで、やろう。

Study at home. 小学校受験の家庭学習教材

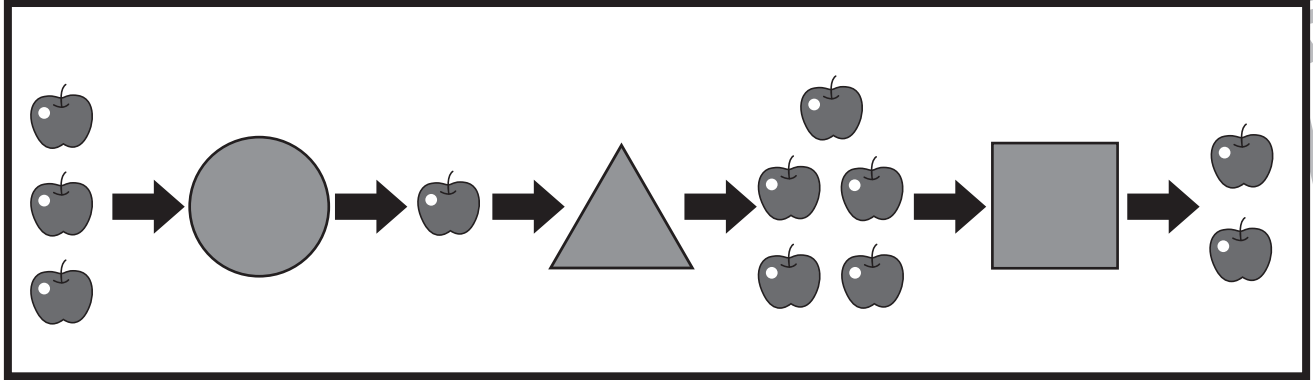
数量：ブラックボックス 11

太い四角がお手本です。

リンゴが、丸い箱を通ると2つ減り、三角の箱を通ると4つ増え、四角い箱を通ると3つ減ります。

このとき、リンゴが→の先にある箱を左から順番に通ると、リンゴはそれぞれいくつになりますか。

その数だけ右の四角に○をかきます。



	$\bigcirc \times 8$
	$\bigcirc \times 1$
	$\bigcirc \times 5$




# おうちで、やろう。

Study at home. 小学校受験の家庭学習教材

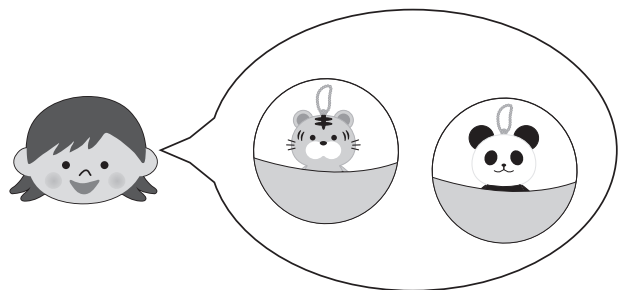
数量：置き換え 16

太い四角の中はお約束です。上のおもちゃをもらうには太い四角の中のコインの枚数が必要です。  
このお約束のとき、吹き出しの中のおもちゃをもらうにはコインが何枚必要ですか。その数だけ右の四角に○をかきます。


10 coins	8 coins	6 coins	7 coins	5 coins	3 coins	2 coins	1 coin




$$\bigcirc \times 3$$



$$\bigcirc \times 14$$



$$\bigcirc \times 7$$



$$\bigcirc \times 14$$

※1. このプリントは、しながわ・目黒こどもスクールのウェブサイトでダウンロードができます。無断複写・引用はご遠慮ください。

※2. このプリントを活用したオンライン授業のスケジュールは、しながわ・目黒こどもスクールのウェブサイトでご確認ください。



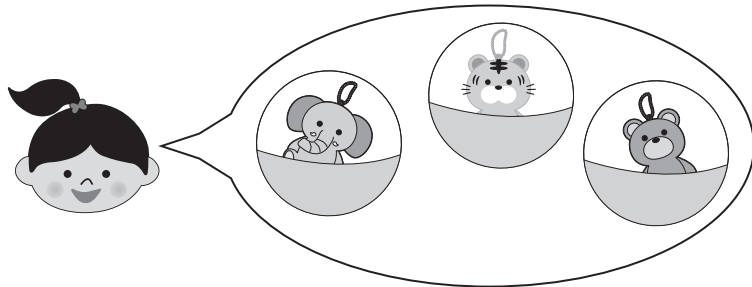
# おうちで、やろう。

Study at home. 小学校受験の家庭学習教材


数量：置き換え 17

太い四角の中はお約束です。上のおもちゃをもらうには太い四角の中のコインの枚数が必要です。  
このお約束のとき、吹き出しの中のおもちゃをもらうにはコインが何枚必要ですか。その数だけ右の四角に○をかきます。


10 coins	8 coins	6 coins	7 coins	5 coins	4 coins	3 coins	2 coins




$$\bigcirc \times 11$$



$$\bigcirc \times 13$$



$$\bigcirc \times 13$$



$$\bigcirc \times 16$$

※1. このプリントは、しながわ・目黒こどもスクールのウェブサイトでダウンロードができます。無断複写・引用はご遠慮ください。

※2. このプリントを活用したオンライン授業のスケジュールは、しながわ・目黒こどもスクールのウェブサイトでご確認ください。