











おうちで、やろう。 年中児版

Study at home. 小学校受験の家庭学習教材

処理：計数 15

左の四角の中の●を数えて、その数だけ右の四角に○をかきます。
数えるときは時間を意識して、できるだけ早く数えましょう。



※1. このプリントは、しながわ・目黒こどもスクールのウェブサイトでダウンロードができます。無断複写・引用はご遠慮ください。
※2. このプリントを活用したオンライン授業のスケジュールは、しながわ・目黒こどもスクールのウェブサイトでご確認ください。



おうちで、やろう。 年中児版

Study at home. 小学校受験の家庭学習教材

処理：計数 16

左の四角の中の●を数えて、その数だけ右の四角に○をかきます。
数えるときは時間を意識して、できるだけ早く数えましょう。

| | |
|--|--|
| | |
| | |
| | |
| | |

| |
|--|
| |
| |
| |
| |

※1. このプリントは、しながわ・目黒こどもスクールのウェブサイトでダウンロードができます。無断複写・引用はご遠慮ください。
※2. このプリントを活用したオンライン授業のスケジュールは、しながわ・目黒こどもスクールのウェブサイトでご確認ください。



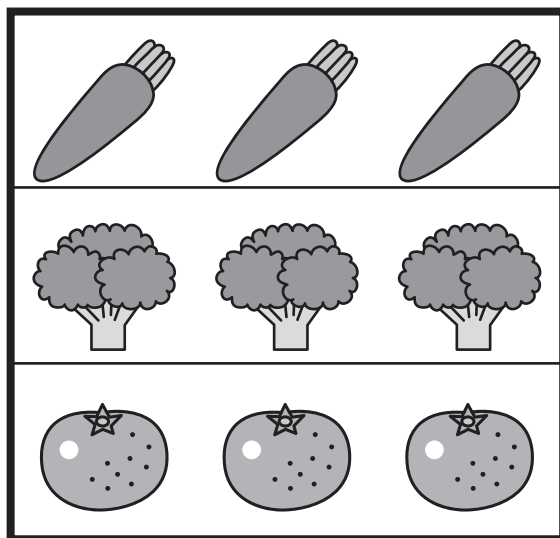

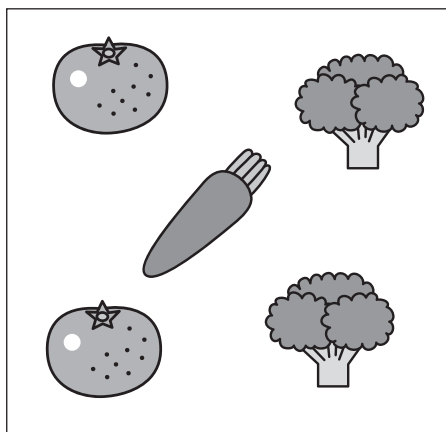
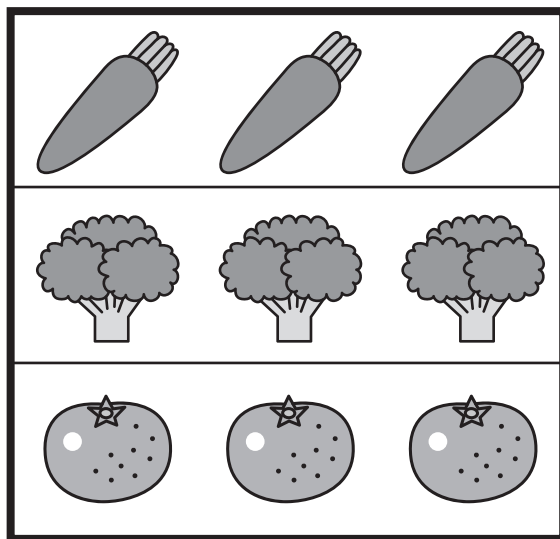

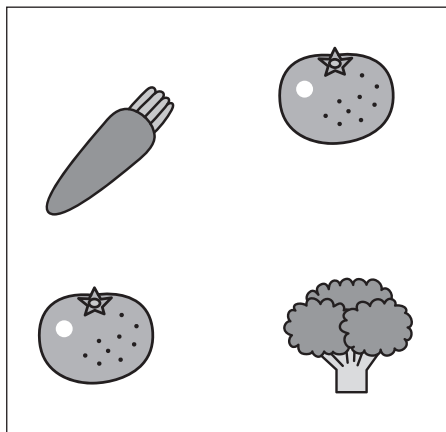
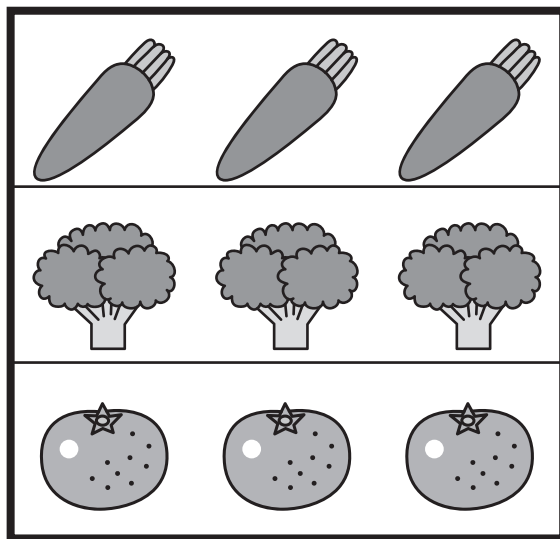


おうちで、やろう。 年中児版

Study at home. 小学校受験の家庭学習教材

数量：足りない数1

左の四角の中は、おつかいで頼まれたものです。

真ん中のカートに置かれているもの見て、足りないものを右の四角から選び、その数だけそれぞれの絵に○をつけます。



※1. このプリントは、しながわ・目黒こどもスクールのウェブサイトからダウンロードできます。無断複製・引用はご遠慮ください。

※2. このプリントを活用したオンライン授業のスケジュールは、しながわ・目黒こどもスクールのウェブサイトでご確認ください。



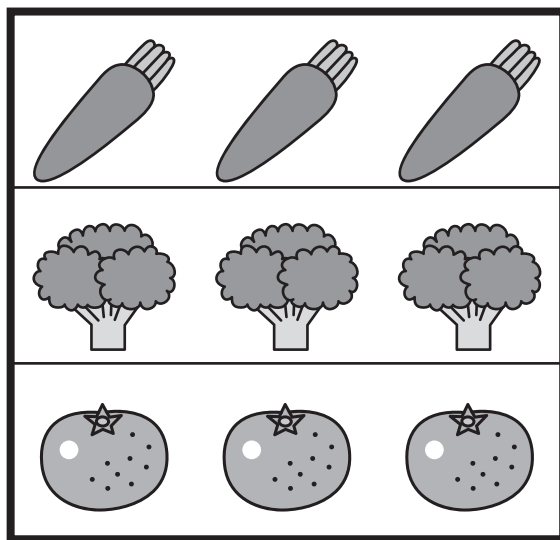

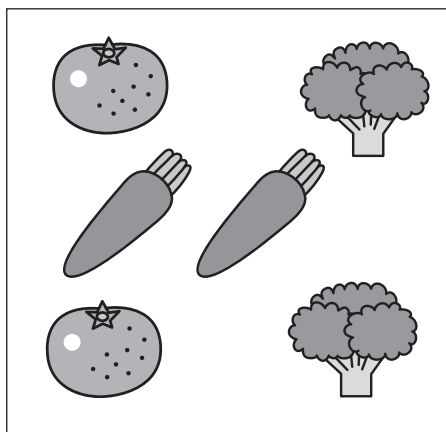
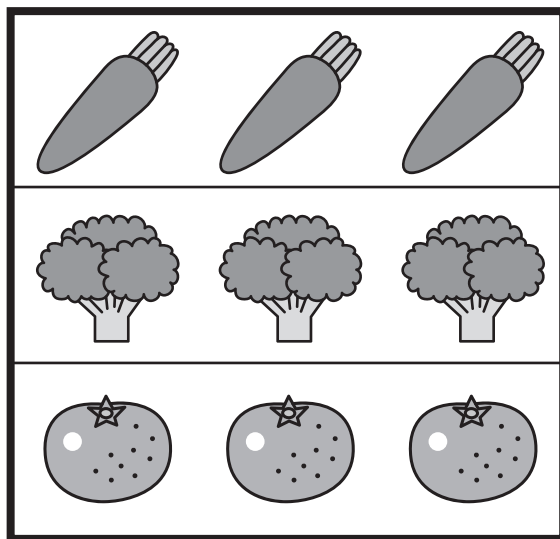

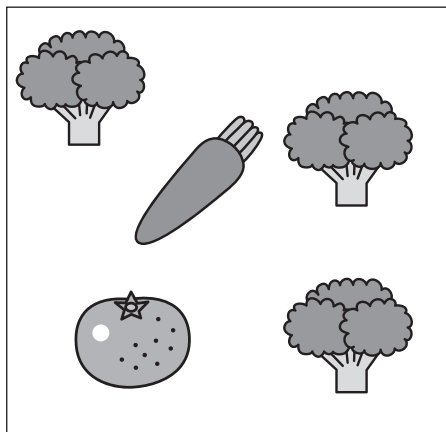
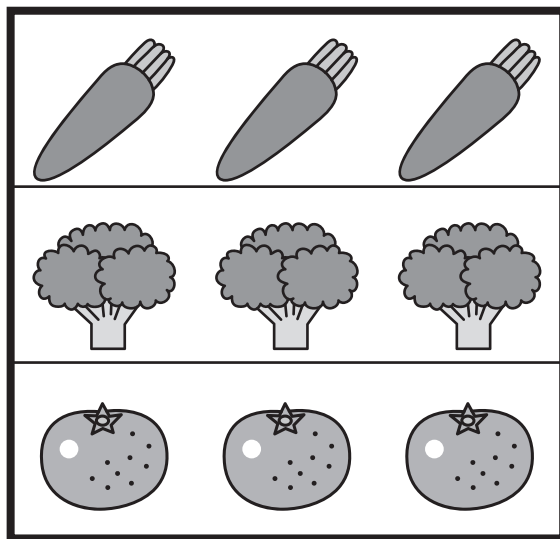
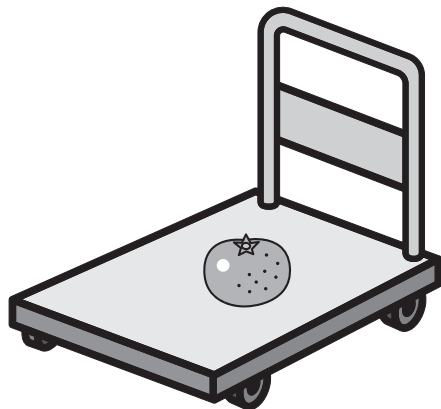
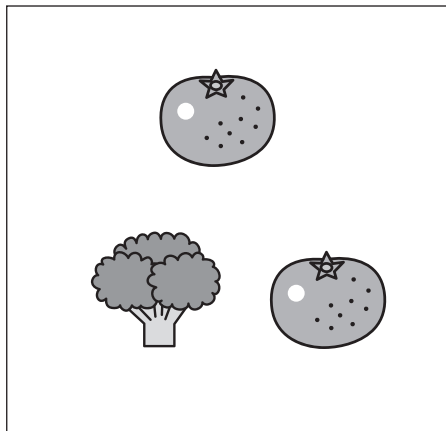
おうちで、やろう。 年中児版

Study at home. 小学校受験の家庭学習教材

数量：足りない数2

左の四角の中は、おつかいで頼まれたものです。

真ん中のカートに置かれているもの見て、足りないものを右の四角から選び、その数だけそれぞれの絵に○をつけます。



※1. このプリントは、しながわ・目黒こどもスクールのウェブサイトからダウンロードできます。無断複写・引用はご遠慮ください。

※2. このプリントを活用したオンライン授業のスケジュールは、しながわ・目黒こどもスクールのウェブサイトでご確認ください。




おうちで、やろう。 年中児版


Study at home. 小学校受験の家庭学習教材

数量：同数 10

上の段と下の段を見比べて、数が同じもの同士を線でつなぎます。



しながわ・目黒
こどもスクール



※1. このプリントは、しながわ・目黒こどもスクールのウェブサイトからダウンロードができます。無断複写・引用はご遠慮ください。

※2. このプリントを活用したオンライン授業のスケジュールは、しながわ・目黒こどもスクールのウェブサイトでご確認ください。



おうちで、やろう。 年中児版

Study at home. 小学校受験の家庭学習教材

数量：同数 11

四角の中のサイコロの目を合わせた数と、同じ数のものを下の四角から探して、線でつなぎます。

| | | | |
|--|--|--|--|
| | | | |
| | | | |

しながわ・目黒
こどもスクール

| | | | |
|--|--|--|--|
| | | | |
|--|--|--|--|

※1. このプリントは、しながわ・目黒こどもスクールのウェブサイトからダウンロードができます。無断複写・引用はご遠慮ください。

※2. このプリントを活用したオンライン授業のスケジュールは、しながわ・目黒こどもスクールのウェブサイトでご確認ください。



おうちで、やろう。 年中児版

Study at home. 小学校受験の家庭学習教材

数量：同数 12

四角の中のサイコロの目を合わせた数と、同じ数のものを下の四角から探して、線でつなぎます。

| | | | |
|--|--|--|--|
| | | | |
| | | | |
| | | | |

しながわ・目黒
こどもスクール

| | | | |
|--|--|--|--|
| | | | |
|--|--|--|--|

※1. このプリントは、しながわ・目黒こどもスクールのウェブサイトでダウンロードができます。無断複写・引用はご遠慮ください。

※2. このプリントを活用したオンライン授業のスケジュールは、しながわ・目黒こどもスクールのウェブサイトでご確認ください。

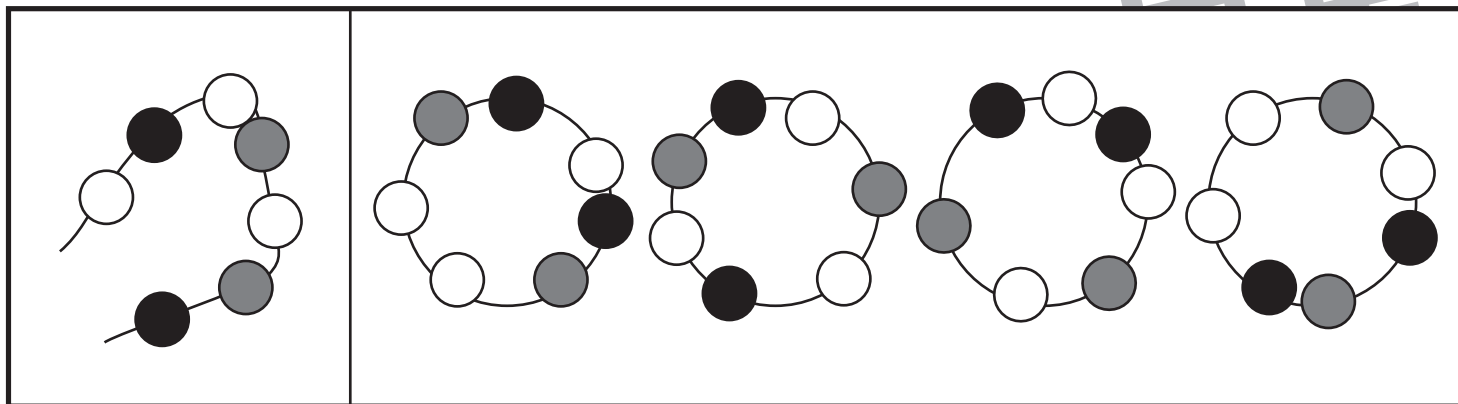
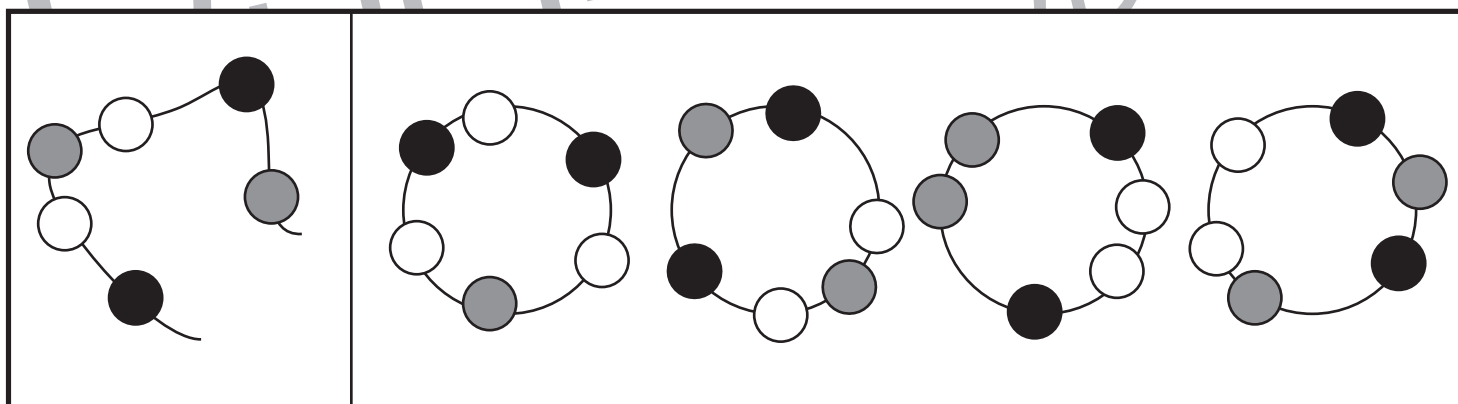
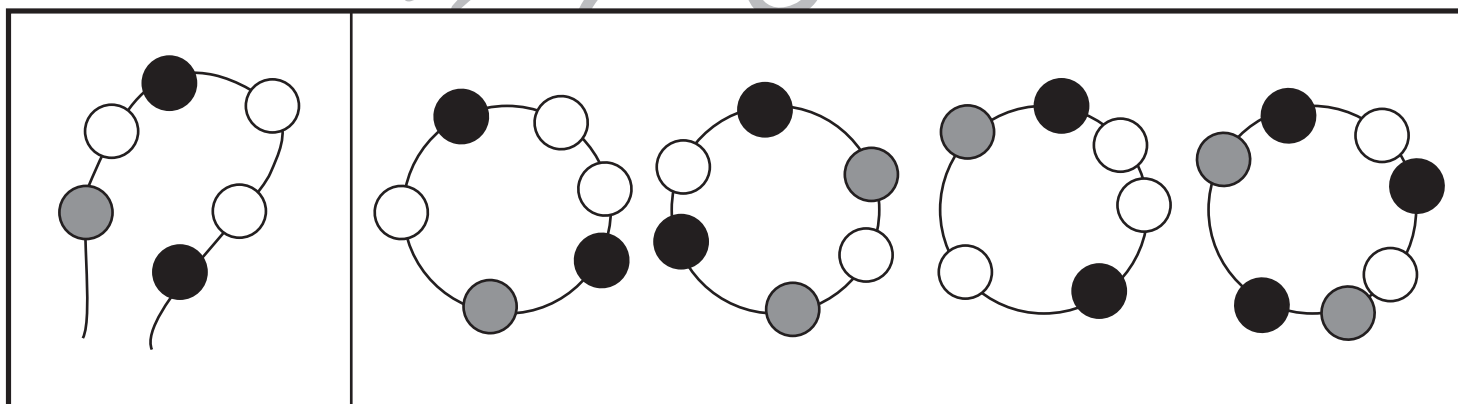
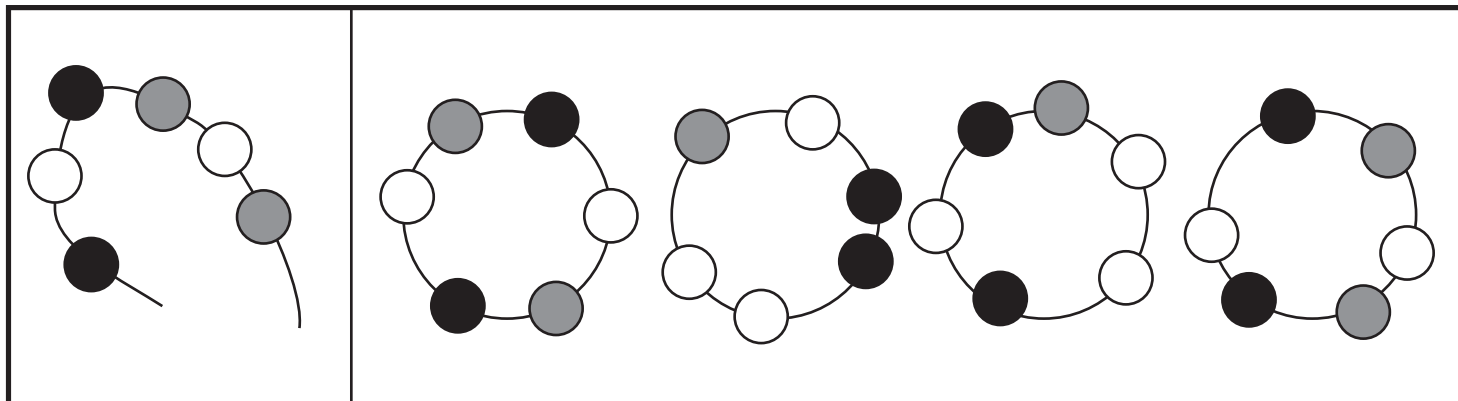


おうちで、やろう。 年中児版

Study at home. 小学校受験の家庭学習教材

推理：系列完成 10

左の四角の中はひもにいろいろなビーズを通したものです。このひもの端と端を結びプレスレットを作ると、右の四角の中のどれになりますか。正しいものに○をつけます。プレスレットは裏返しにしてはいけません。



※1. このプリントは、しながわ・目黒こどもスクールのウェブサイトからダウンロードできます。無断複写・引用はご遠慮ください。

※2. このプリントを活用したオンライン授業のスケジュールは、しながわ・目黒こどもスクールのウェブサイトでご確認ください。