



# おうちで、やろう。

Study at home. 小学校受験の家庭学習教材

## 推理：じゃんけん 16

動物たちはそれぞれキャンディーを4つずつ持っています。4匹でじゃんけんをして勝ったら2つ増え、負けると1つ減り、あいこのときは変わりません。この約束で左から順番にじゃんけんをしたとき、最後にいくつずつキャンディーを持っているか考えて、その数だけ下の四角に○をかきます。

	1	2	3	4	5

	○ × 8
	○ × 5
	○ × 2
	○ × 5

※1. このプリントは、しながわ・目黒こどもスクールのウェブサイトでダウンロードができます。無断複写・引用はご遠慮ください。

※2. このプリントを活用したオンライン授業のスケジュールは、しながわ・目黒こどもスクールのウェブサイトでご確認ください。



# おうちで、やろう。

Study at home. 小学校受験の家庭学習教材

## 推理：じゃんけん 17

動物たちはそれぞれキャンディーを4つずつ持っています。4匹でじゃんけんをして勝ったら2つ増え、負けると1つ減り、あいこのときは変わりません。この約束で左から順番にじゃんけんをしたとき、最後にいくつずつキャンディーを持っているか考えて、その数だけ下の四角に○をかきます。

	1	2	3	4	5

	○ × 10
	○ × 4
	○ × 7
	○ × 7

※1. このプリントは、しながわ・目黒こどもスクールのウェブサイトでダウンロードができます。無断複写・引用はご遠慮ください。

※2. このプリントを活用したオンライン授業のスケジュールは、しながわ・目黒こどもスクールのウェブサイトでご確認ください。

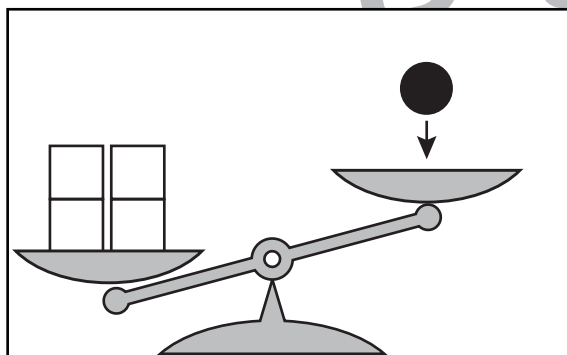
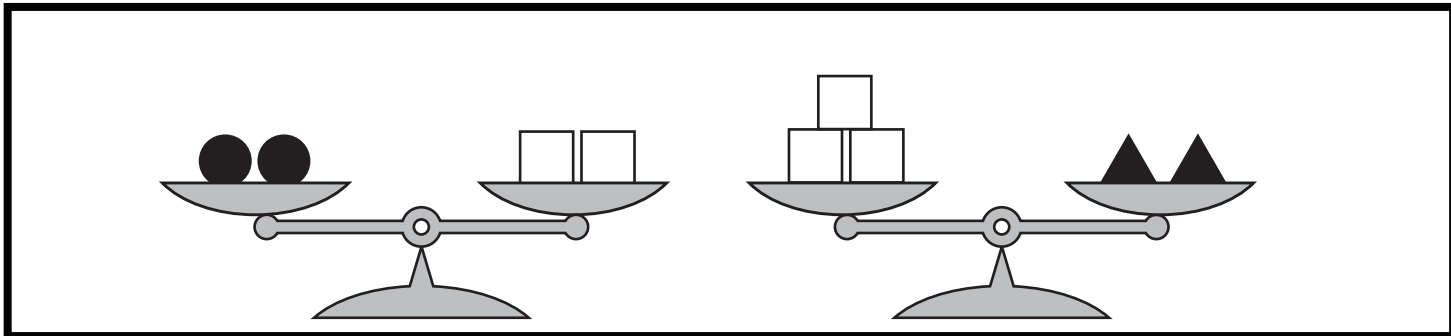


# おうちで、やろう。

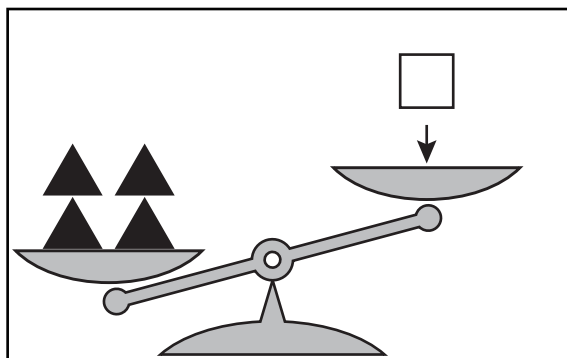
Study at home. 小学校受験の家庭学習教材

## 推理：重さの置き換え 5


太い四角の中の天秤はつり合っています。下の四角の中の天秤がつり合うには矢印の上の積み木をいくつ置けばよいですか。その数だけ、右の四角の中に○をかきます。



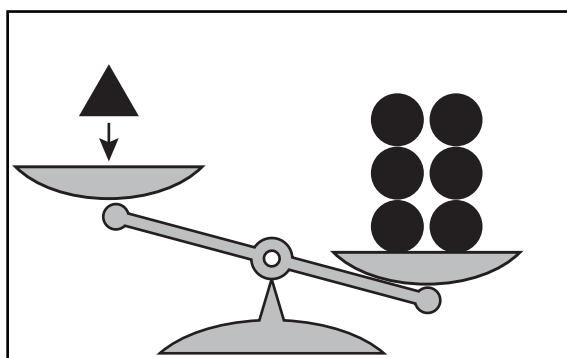
$$\bigcirc \times 4$$



$$\bigcirc \times 6$$



$$\bigcirc \times 8$$



$$\bigcirc \times 4$$

※1. このプリントは、しながわ・目黒こどもスクールのウェブサイトでダウンロードができます。無断複写・引用はご遠慮ください。  
※2. このプリントを活用したオンライン授業のスケジュールは、しながわ・目黒こどもスクールのウェブサイトでご確認ください。



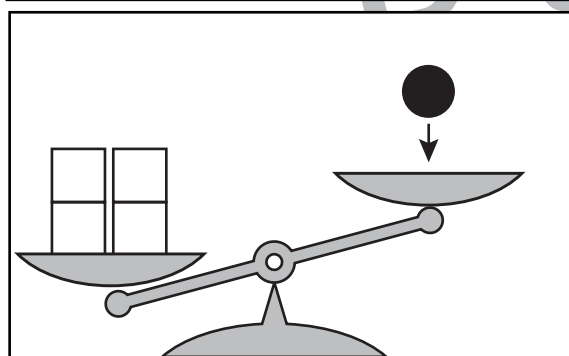
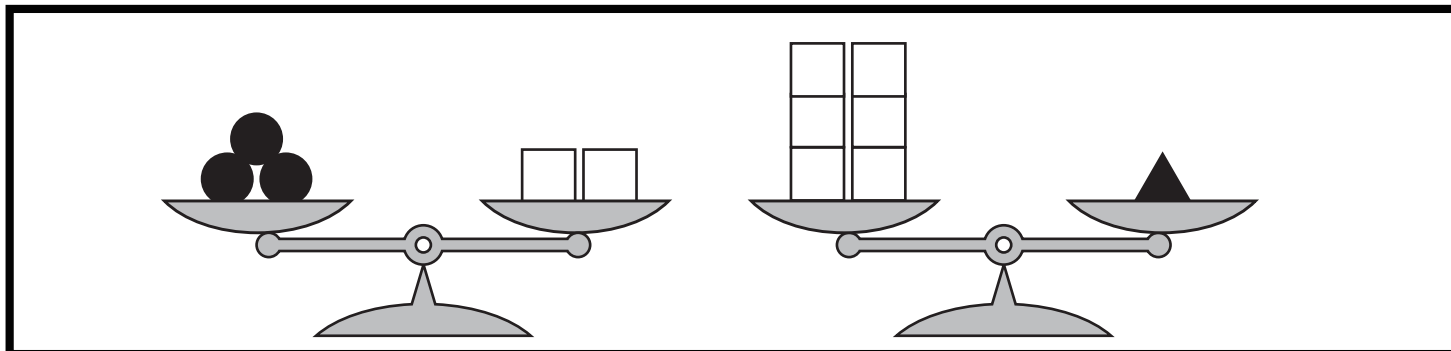


# おうちで、やろう。

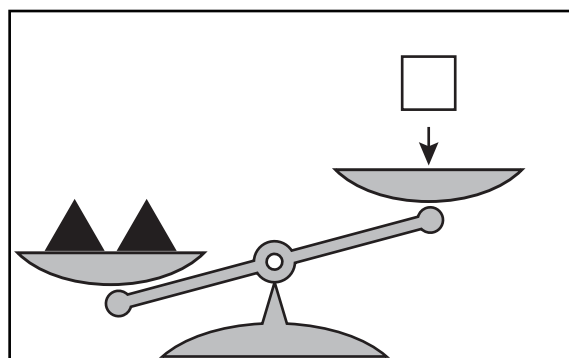
Study at home. 小学校受験の家庭学習教材

## 推理：重さの置き換え6


太い四角の中の天秤はつり合っています。下の四角の中の天秤がつり合うには矢印の上の積み木をいくつ置けばよいですか。その数だけ、右の四角の中に○をかきます。



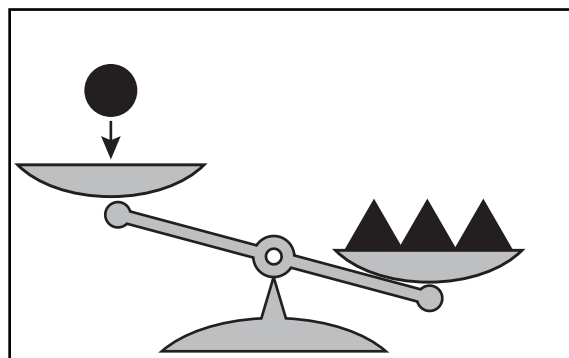
$$\bigcirc \times 6$$



$$\bigcirc \times 12$$



$$\bigcirc \times 12$$



$$\bigcirc \times 9$$

※1. このプリントは、しながわ・目黒こどもスクールのウェブサイトでダウンロードができます。無断複写・引用はご遠慮ください。

※2. このプリントを活用したオンライン授業のスケジュールは、しながわ・目黒こどもスクールのウェブサイトでご確認ください。





# おうちで、やろう。

Study at home. 小学校受験の家庭学習教材

数量：計数9

- ①四角の中で1番数が多い形を見つけて、その数だけ、下のおはじきに○をつけます。
- ②四角の中で1番数が多い動物を見つけて、その数だけ、下のおはじきに○をつけます。
- ③四角の中で1番数が多い果物を見つけて、その数だけ、下のおはじきに○をつけます。

※1. このプリントは、しながわ・目黒こどもスクールのウェブサイトでダウンロードができます。無断複写・引用はご遠慮ください。  
 ※2. このプリントを活用したオンライン授業のスケジュールは、しながわ・目黒こどもスクールのウェブサイトでご確認ください。



# おうちで、やろう。

Study at home. 小学校受験の家庭学習教材

数量：計数 10

- ①四角の中で1番数が少ない形を見つけて、その数だけ、下のおはじきに○をつけます。
- ②四角の中で1番数が多い動物を見つけて、その数だけ、下のおはじきに○をつけます。
- ③四角の中で1番数が少ない果物を見つけて、その数だけ、下のおはじきに○をつけます。

A rectangular box containing 10 shapes: 3 circles, 4 stars, and 3 triangles. Below the box is a row of 10 counting chips, consisting of 5 circles and 5 flowers.

A rectangular box containing 10 animals: 4 flamingos, 4 penguins, and 2 lions. Below the box is a row of 10 counting chips, consisting of 7 circles and 3 flowers.

A rectangular box containing 10 fruits: 4 oranges, 3 apples, and 3 bananas. Below the box is a row of 10 counting chips, consisting of 4 circles and 6 flowers.

※1. このプリントは、しながわ・目黒こどもスクールのウェブサイトでダウンロードができます。無断複写・引用はご遠慮ください。  
 ※2. このプリントを活用したオンライン授業のスケジュールは、しながわ・目黒こどもスクールのウェブサイトでご確認ください。

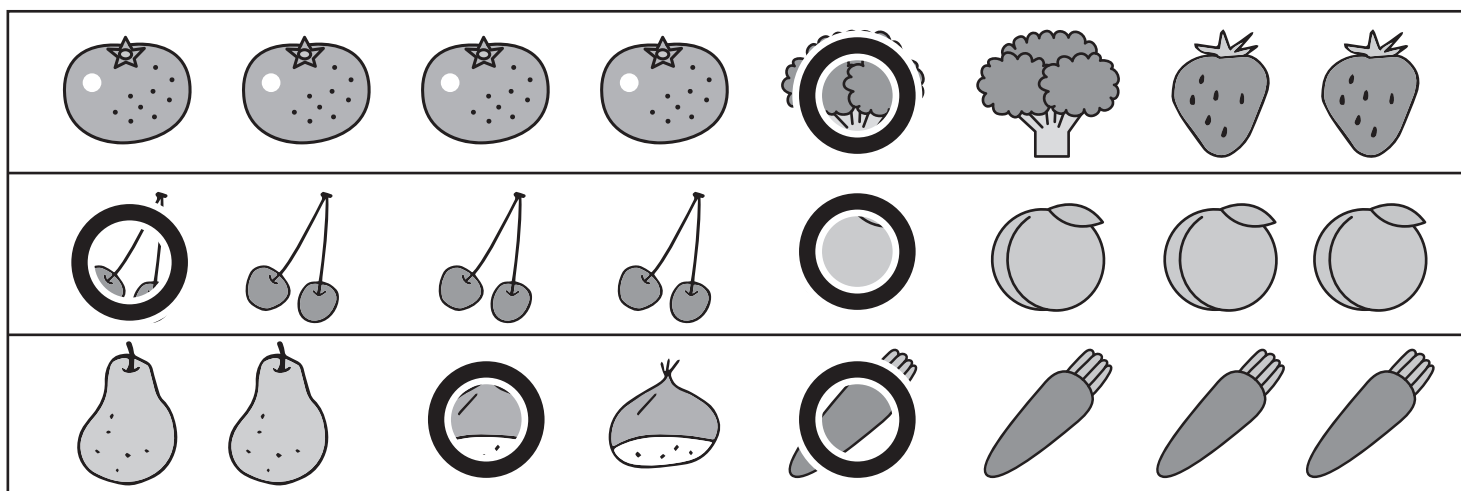
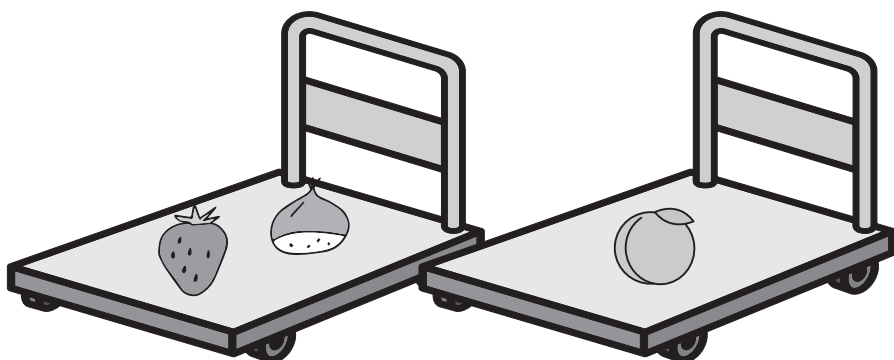
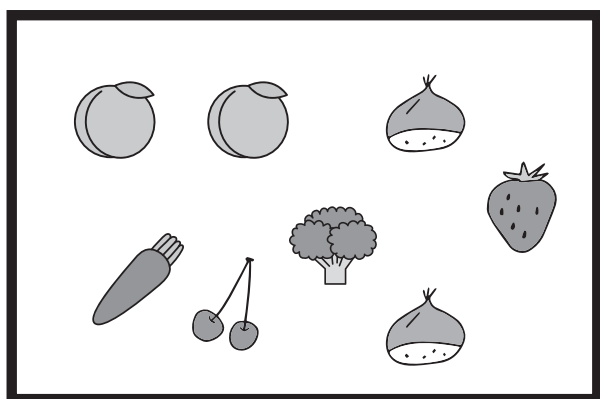

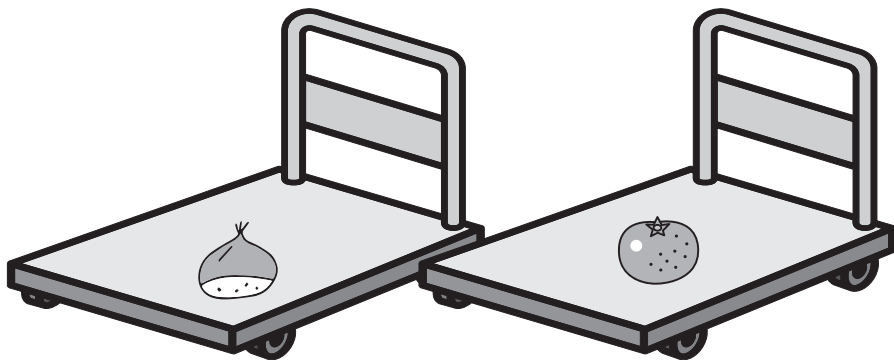



# おうちで、やろう。

Study at home. 小学校受験の家庭学習教材

数量：足りない数7

太い四角の中は、おつかいで頼まれたもので、カートの中に買うものを置いていきます。  
2つのカートに置かれているもの見て、足りないものを下の四角から選び、その数だけそれぞれの絵に○をつけます。



※1. このプリントは、しながわ・目黒こどもスクールのウェブサイトからダウンロードできます。無断複写・引用はご遠慮ください。  
※2. このプリントを活用したオンライン授業のスケジュールは、しながわ・目黒こどもスクールのウェブサイトでご確認ください。





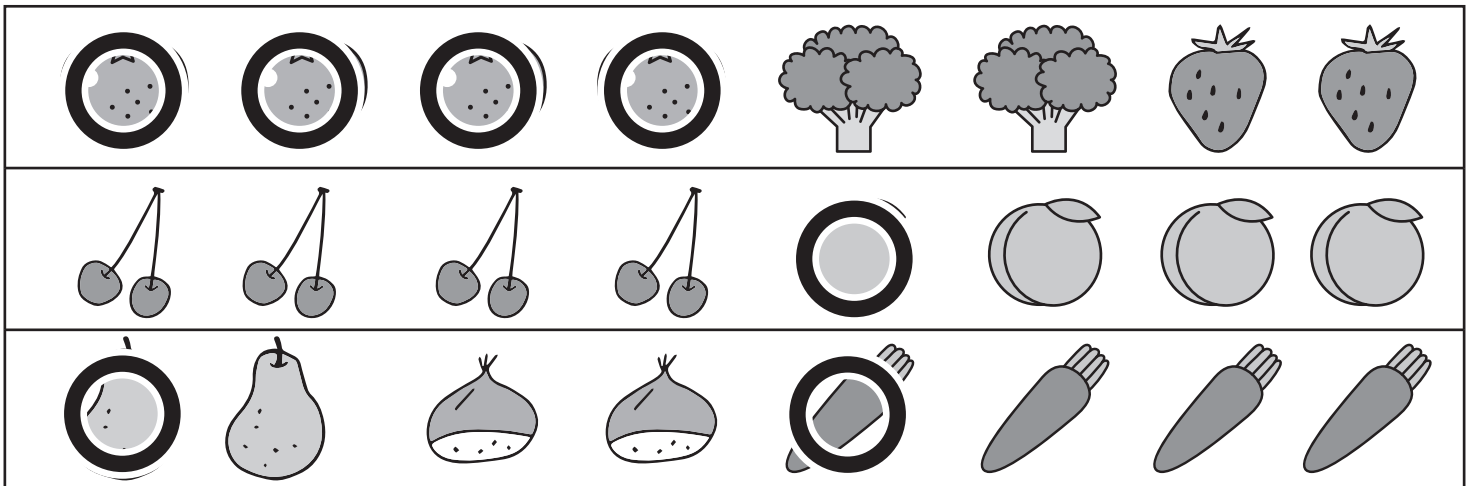
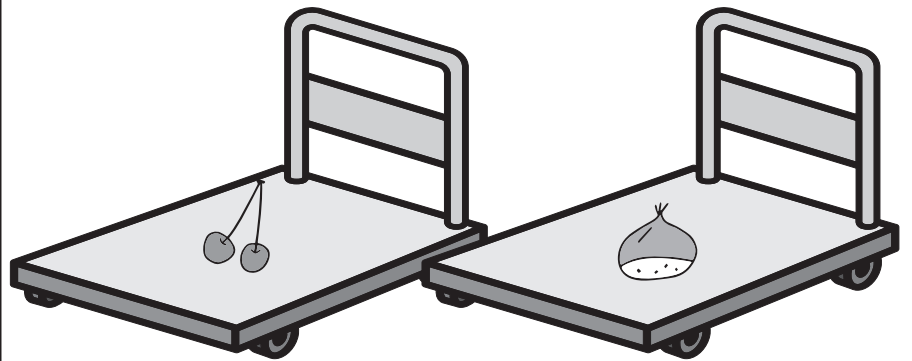

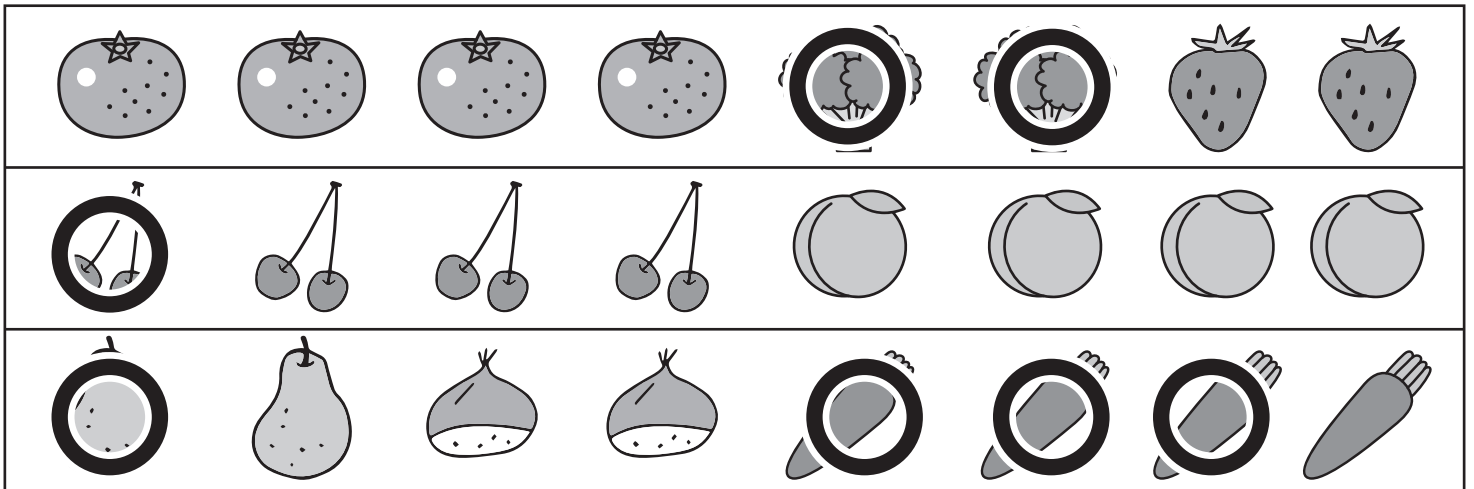
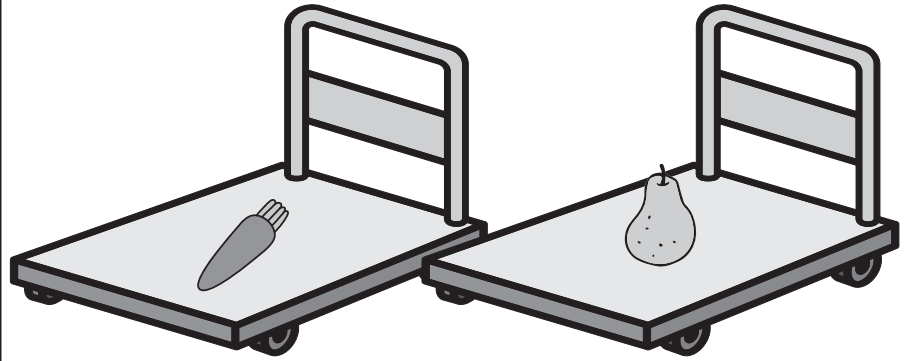
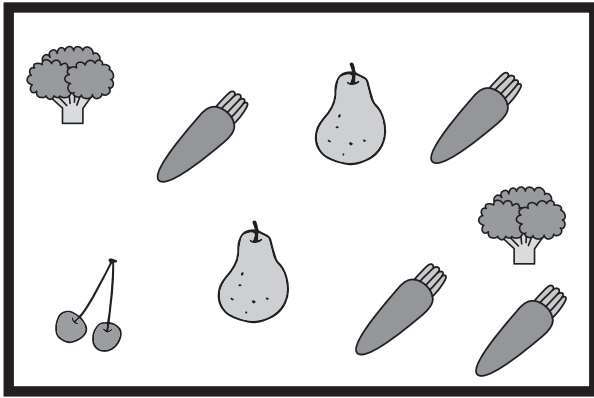


# おうちで、やろう。

Study at home. 小学校受験の家庭学習教材

数量：足りない数8

太い四角の中は、おつかいで頼まれたもので、カートの中を買うものを置いていきます。  
2つのカートに置かれているもの見て、足りないものを下の四角から選び、その数だけそれぞれの絵に○をつけます。



※1. このプリントは、しながわ・目黒こどもスクールのウェブサイトからダウンロードできます。無断複写・引用はご遠慮ください。  
※2. このプリントを活用したオンライン授業のスケジュールは、しながわ・目黒こどもスクールのウェブサイトでご確認ください。






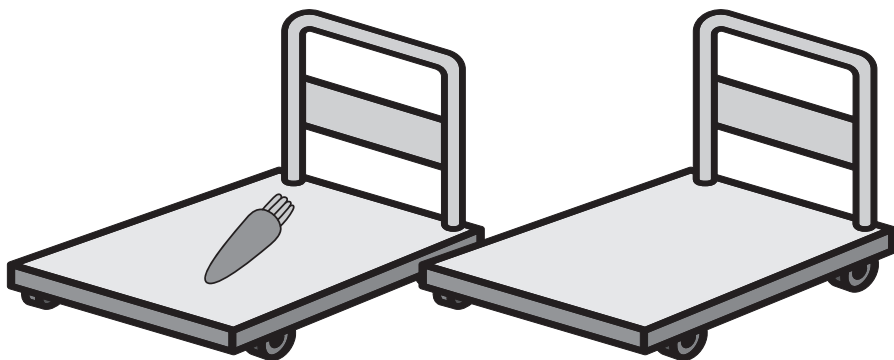
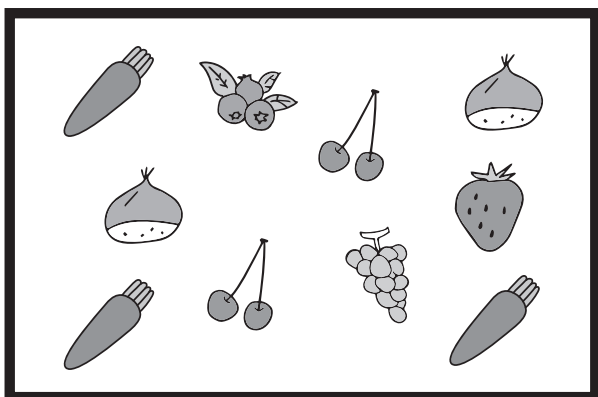

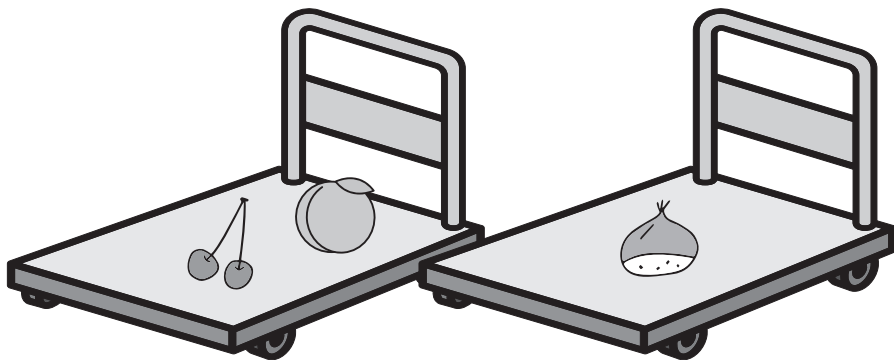



# おうちで、やろう。

Study at home. 小学校受験の家庭学習教材

数量：足りない数9

太い四角の中は、おつかいで頼まれたもので、カートの中に買うものを置いていきます。  
2つのカートに置かれているもの見て、足りないものを下の四角から選び、その数だけそれぞれの絵に○をつけます。



※1. このプリントは、しながわ・目黒こどもスクールのウェブサイトでダウンロードができます。無断複写・引用はご遠慮ください。  
※2. このプリントを活用したオンライン授業のスケジュールは、しながわ・目黒こどもスクールのウェブサイトでご確認ください。





# おうちで、やろう。

Study at home. 小学校受験の家庭学習教材

## まちがいさがし6

上下の絵を見比べて、変わっているところを4つ探します。見つけたら、下の絵の変わっている部分に○をつけます。

