




おうちで、やろう。年中児版

Study at home. 小学校受験の家庭学習教材


言語：おわりの音 5

- ①おわりの音が「ら」の絵を1つ選んで○をつけます。 ②おわりの音が「い」の絵を1つ選んで○をつけます。
③おわりの音が「ん」の絵を1つ選んで○をつけます。 ④おわりの音が「き」の絵を1つ選んで○をつけます。


①




②



③



④



※1. このプリントは、しながわ・目黒こどもスクールのウェブサイトからダウンロードができます。無断複写・引用はご遠慮ください。

※2. このプリントを活用したオンライン授業のスケジュールは、しながわ・目黒こどもスクールのウェブサイトでご確認ください。





おうちで、やろう。 年中児版

Study at home. 小学校受験の家庭学習教材

言語：しりとり 8

左から右までしりとりでつなぎます。途中に絵が2枚あるところはどちらを選ばよいかを考えて、正しい方に○をつけます。






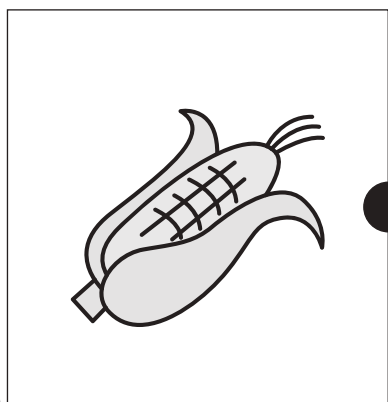


しりとりゲームの図解。各ステップは矢印でつながっています。

- ステップ1: 車 → 魚
- ステップ2: 魚 → 馬 / 牛 (どちらかを選択)
- ステップ3: 馬 / 牛 → 鹿
- ステップ4: 鹿 → 鈴
- ステップ5: 鈴 → 狐
- ステップ6: 狐 → 水melon / 柿 (どちらかを選択)
- ステップ7: 水melon / 柿 → 猫
- ステップ8: 猫 → コアラ / 羊 / 海豹 (どちらかを選択)
- ステップ9: コアラ / 羊 / 海豹 → 太鼓
- ステップ10: 太鼓 → 掃除機
- ステップ11: 掃除機 → リンゴ
- ステップ12: リンゴ → 猿 / トランペット (どちらかを選択)
- ステップ13: 猿 / トランペット → バックパック

※1. このプリントは、しながわ・目黒こどもスクールのウェブサイトでダウンロードができます。無断複写・引用はご遠慮ください。
 ※2. このプリントを活用したオンライン授業のスケジュールは、しながわ・目黒こどもスクールのウェブサイトでご確認ください。



左の野菜の季節と同じ季節の絵を右の四角から見つけて、点と点を線で結びましょう。



※1. このプリントは、しながわ・目黒こどもスクールのウェブサイトからダウンロードできます。無断複写・引用はご遠慮ください。

※2. このプリントを活用したオンライン授業のスケジュールは、しながわ・目黒こどもスクールのウェブサイトでご確認ください。










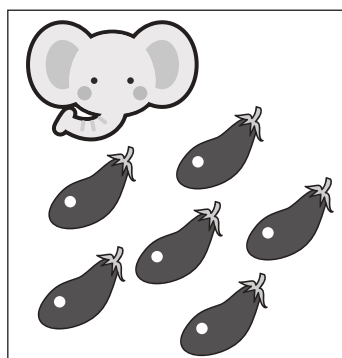




おうちで、やろう。 年中児版

Study at home. 小学校受験の家庭学習教材

数量：加減 16

ゾウくんが持っている野菜を隣の動物の四角の中の数だけあげます。このとき、ゾウくんが持っている野菜はいくつになりますか。その数だけ右の四角に○をかきます。



※1. このプリントは、しながわ・目黒こどもスクールのウェブサイトでダウンロードができます。無断複写・引用はご遠慮ください。
※2. このプリントを活用したオンライン授業のスケジュールは、しながわ・目黒こどもスクールのウェブサイトでご確認ください。















おうちで、やろう。 年中児版

Study at home. 小学校受験の家庭学習教材

数量：加減 17

サルくんが自分の持っている果物と同じ果物を四角の中からもらいます。このときサルくんが持っている果物はいくつになりますか。その数だけ右の四角に○をかきます。



※1. このプリントは、しながわ・目黒こどもスクールのウェブサイトでダウンロードができます。無断複写・引用はご遠慮ください。
※2. このプリントを活用したオンライン授業のスケジュールは、しながわ・目黒こどもスクールのウェブサイトでご確認ください。




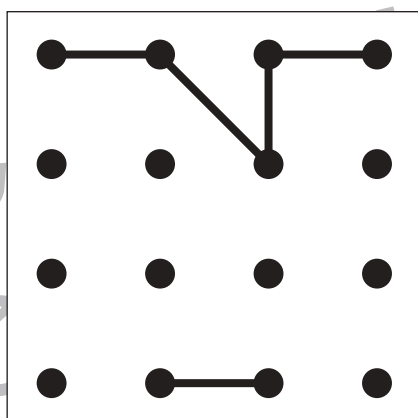
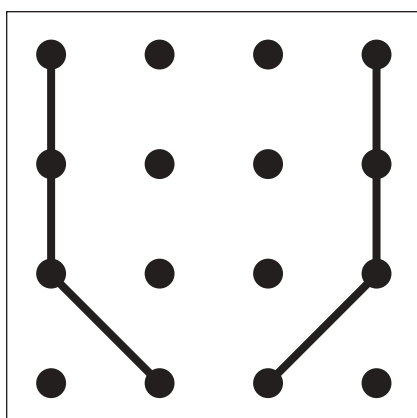

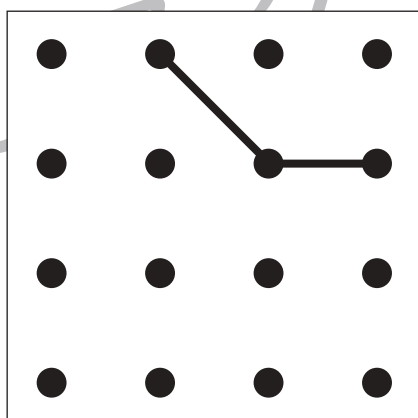
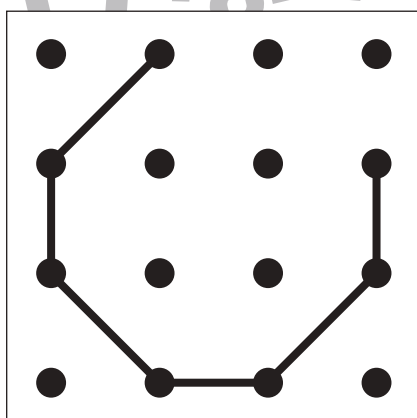

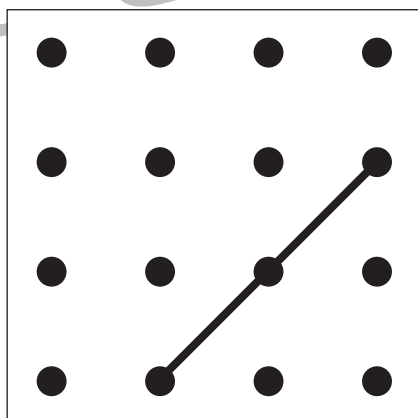
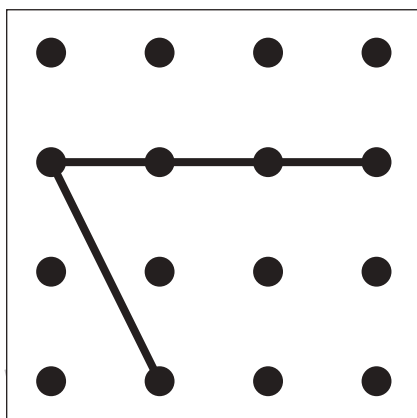

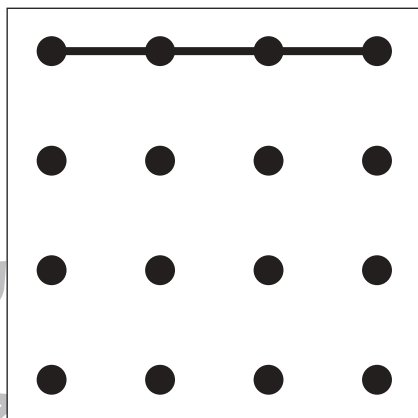
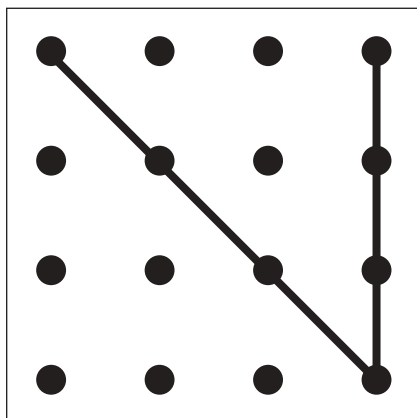


おうちで、やろう。 年中児版

Study at home. 小学校受験の家庭学習教材

図形：重ね 9

左と右の点図形を重ねたとき、どんな形になりますか。矢印の右側の四角にかきましょう。



※1. このプリントは、しながわ・目黒こどもスクールのウェブサイトでダウンロードができます。無断複写・引用はご遠慮ください。


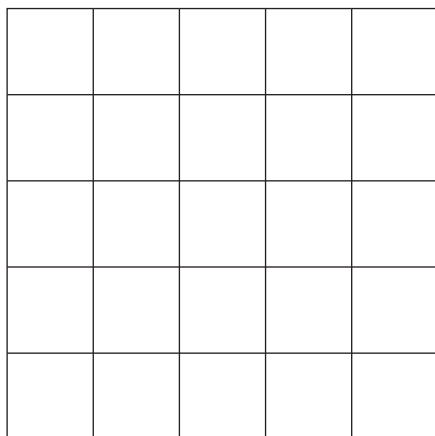

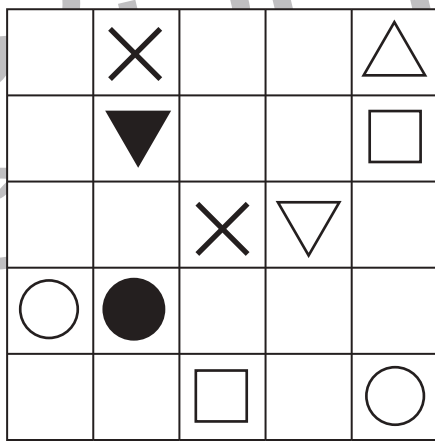
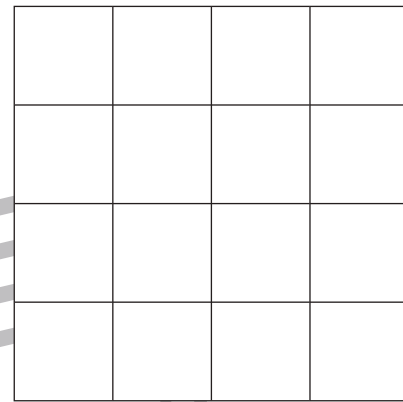


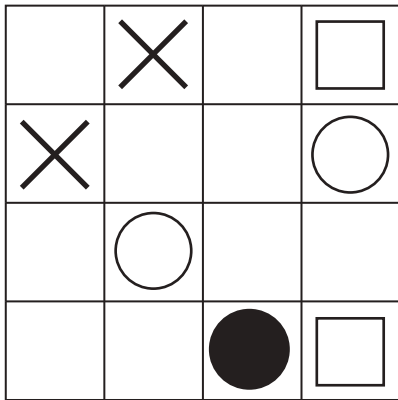
※2. このプリントを活用したオンライン授業のスケジュールは、しながわ・目黒こどもスクールのウェブサイトでご確認ください。





上のお手本通りに下のマスに記号をかきましょう。

※この問題に解答はありません



※1. このプリントは、しながわ・目黒こどもスクールのウェブサイトでダウンロードができます。無断複写・引用はご遠慮ください。
 ※2. このプリントを活用したオンライン授業のスケジュールは、しながわ・目黒こどもスクールのウェブサイトでご確認ください。



おうちで、やろう。 年中児版

Study at home. 小学校受験の家庭学習教材

図形：運筆 3

壁にぶつからないように○と●をつなぐ線をかきます。※この問題に解答はありません



※1. このプリントは、しながわ・目黒こどもスクールのウェブサイトでダウンロードができます。無断複写・引用はご遠慮ください。
※2. このプリントを活用したオンライン授業のスケジュールは、しながわ・目黒こどもスクールのウェブサイトでご確認ください。