




おうちで、やろう。年中児版

Study at home. 小学校受験の家庭学習教材


言語：おわりの音 5

- ①おわりの音が「ら」の絵を1つ選んで○をつけます。 ②おわりの音が「い」の絵を1つ選んで○をつけます。
 ③おわりの音が「ん」の絵を1つ選んで○をつけます。 ④おわりの音が「き」の絵を1つ選んで○をつけます。


①




②



③



④



※1. このプリントは、しながわ・目黒こどもスクールのウェブサイトでダウンロードができます。無断複写・引用はご遠慮ください。

※2. このプリントを活用したオンライン授業のスケジュールは、しながわ・目黒こどもスクールのウェブサイトでご確認ください。



おうちで、やろう。 年中児版

Study at home. 小学校受験の家庭学習教材

言語：しりとり 8

左から右までしりとりでつなぎます。途中に絵が2枚あるところはどちらを選ばよいかを考えて、正しい方に○をつけます。

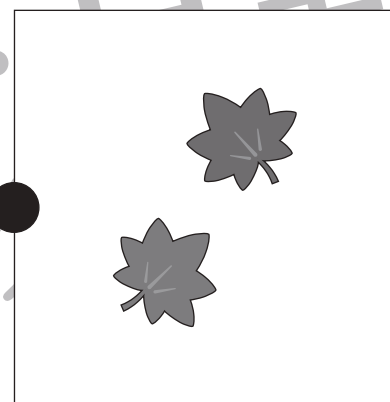




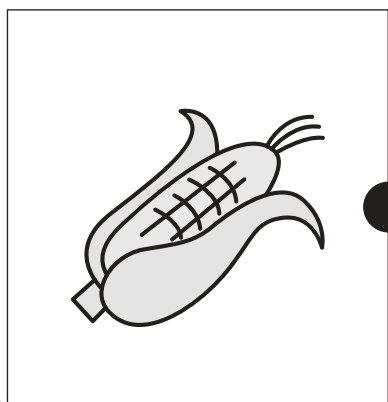


しりとりゲームの図解。各ステップは矢印でつながり、途中には2枚の絵が並ぶ場合があります。

- ステップ1: 車 → 魚
- ステップ2: 魚 → (馬 / 牛) → 鹿
- ステップ3: 鈴杵 → 西瓜 → (亀 / 花) → 狐
- ステップ4: 猫 → コアラ → (ラクダ / 羊) → 太鼓
- ステップ5: 掃除機 → りんご → (ゴリラ / トランペット) → リュック

※1. このプリントは、しながわ・目黒こどもスクールのウェブサイトからダウンロードできます。無断複写・引用はご遠慮ください。
 ※2. このプリントを活用したオンライン授業のスケジュールは、しながわ・目黒こどもスクールのウェブサイトでご確認ください。



左の野菜の季節と同じ季節の絵を右の四角から見つけて、点と点を線で結びましょう。



※1. このプリントは、しながわ・目黒こどもスクールのウェブサイトからダウンロードできます。無断複写・引用はご遠慮ください。
※2. このプリントを活用したオンライン授業のスケジュールは、しながわ・目黒こどもスクールのウェブサイトでご確認ください。










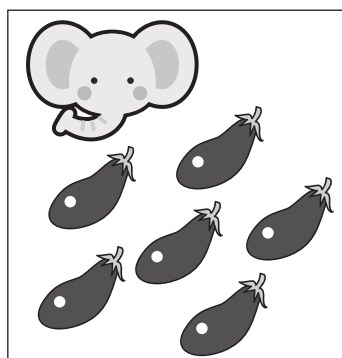



おうちで、やろう。 年中児版

Study at home. 小学校受験の家庭学習教材

数量：加減 16

ゾウくんが持っている野菜を隣の動物の四角の中の数だけあげます。このとき、ゾウくんが持っている野菜はいくつになりますか。その数だけ右の四角に○をかきます。



※1. このプリントは、しながわ・目黒こどもスクールのウェブサイトでダウンロードができます。無断複写・引用はご遠慮ください。
※2. このプリントを活用したオンライン授業のスケジュールは、しながわ・目黒こどもスクールのウェブサイトでご確認ください。














おうちで、やろう。 年中児版

Study at home. 小学校受験の家庭学習教材

数量：加減 17

サルくんが自分の持っている果物と同じ果物を四角の中からもらいます。このときサルくんが持っている果物はいくつになりますか。その数だけ右の四角に○をかきます。



※1. このプリントは、しながわ・目黒こどもスクールのウェブサイトでダウンロードができます。無断複写・引用はご遠慮ください。
※2. このプリントを活用したオンライン授業のスケジュールは、しながわ・目黒こどもスクールのウェブサイトでご確認ください。



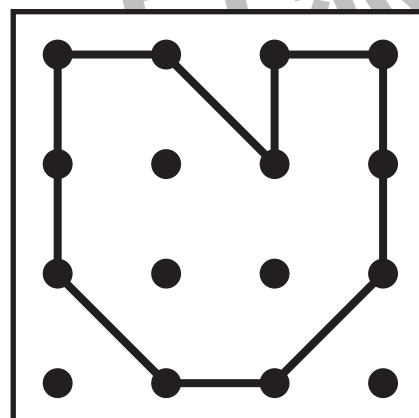
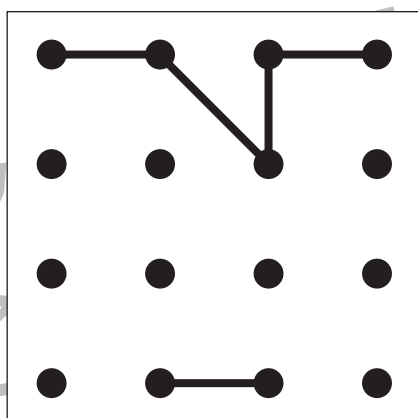
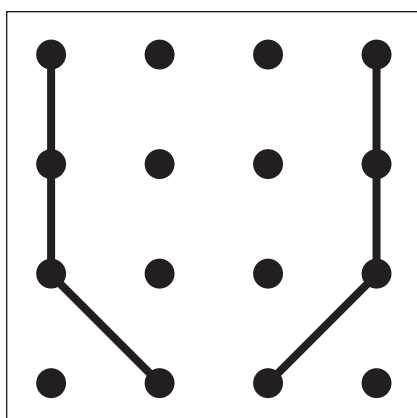
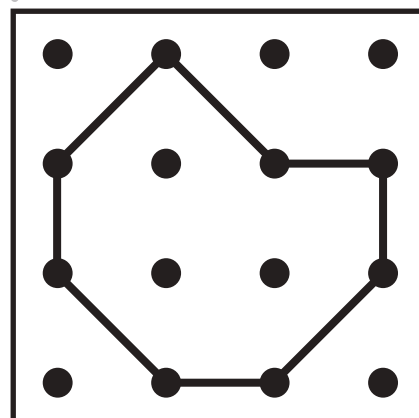
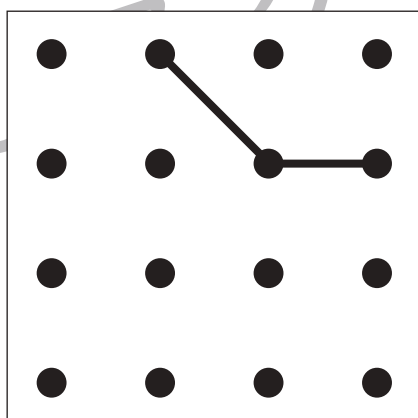
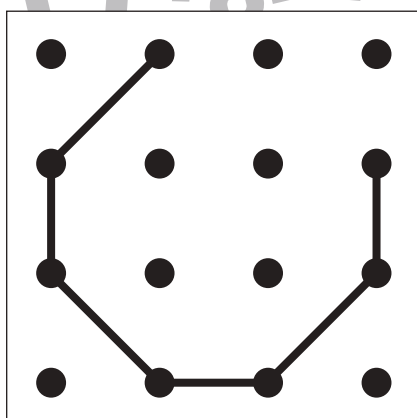
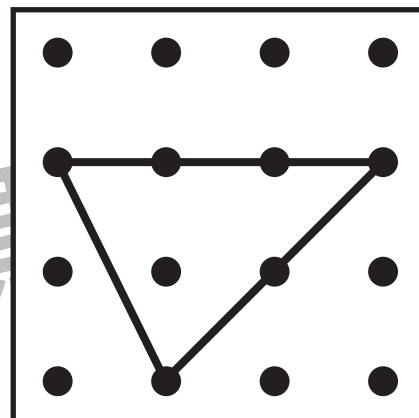
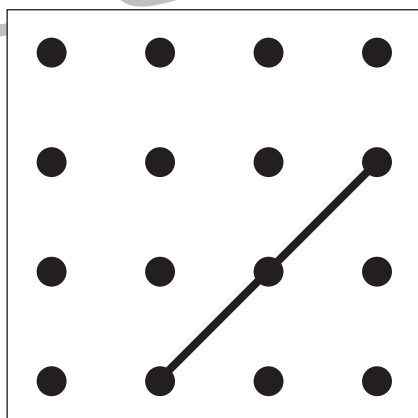
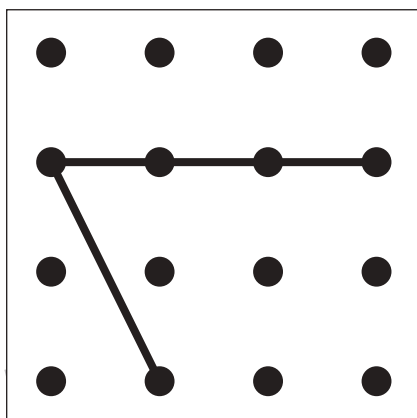
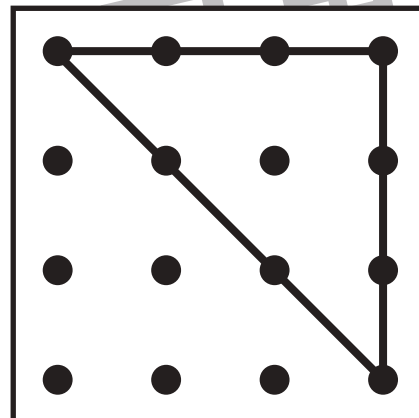
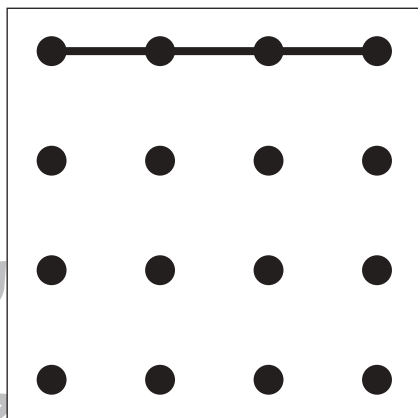
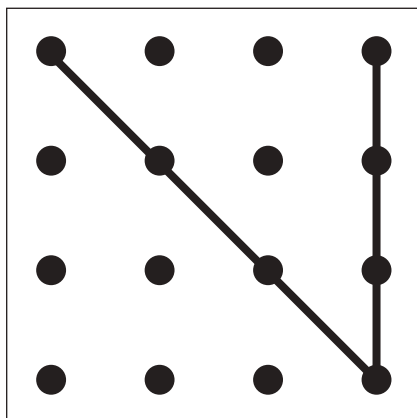


おうちで、よろう。 年中児版

Study at home. 小学校受験の家庭学習教材

図形：重ね9

左と右の点図形を重ねたとき、どんな形になりますか。矢印の右側の四角にかきましょう。



※1. このプリントは、しながわ・目黒こどもスクールのウェブサイトからダウンロードできます。無断複写・引用はご遠慮ください。

※2. このプリントを活用したオンライン授業のスケジュールは、しながわ・目黒こどもスクールのウェブサイトでご確認ください。

