

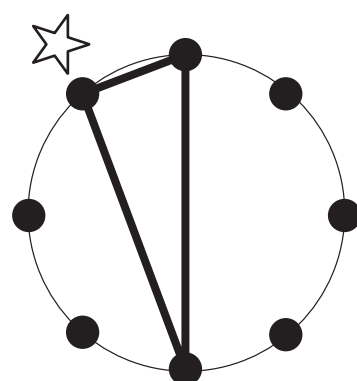
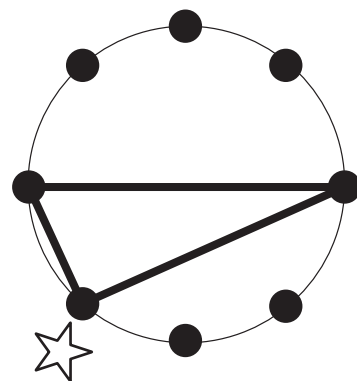
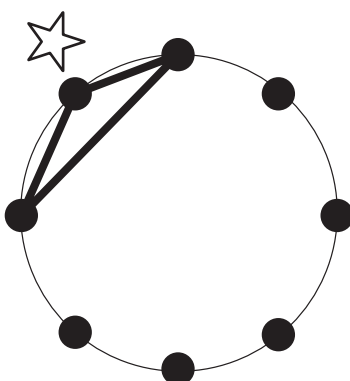
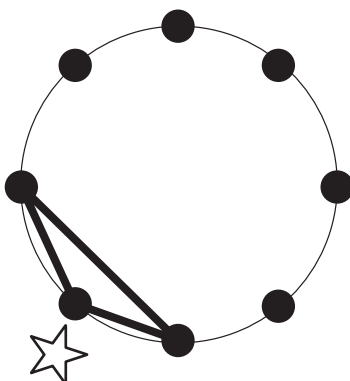
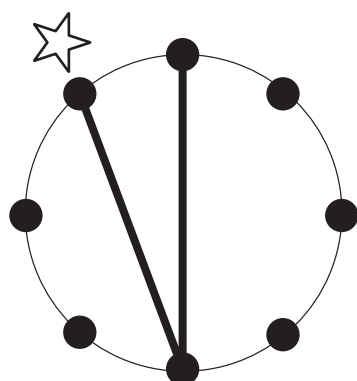
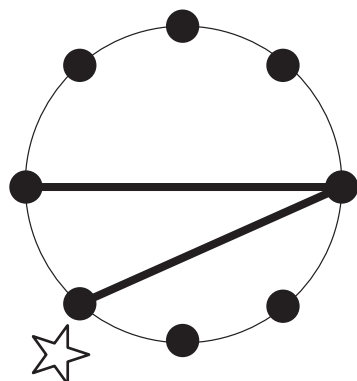
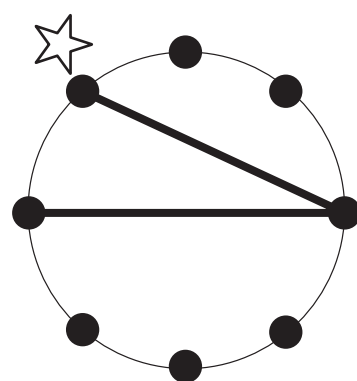
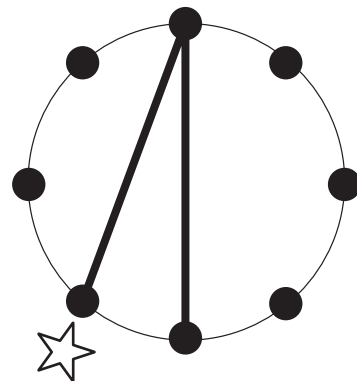
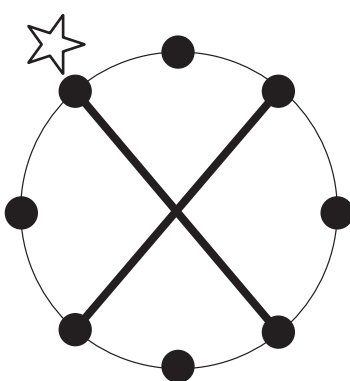
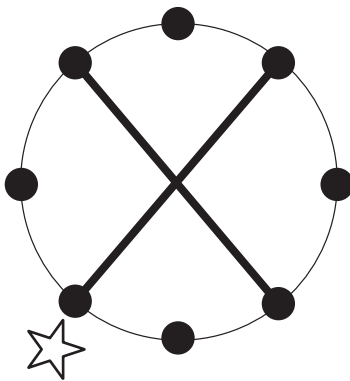
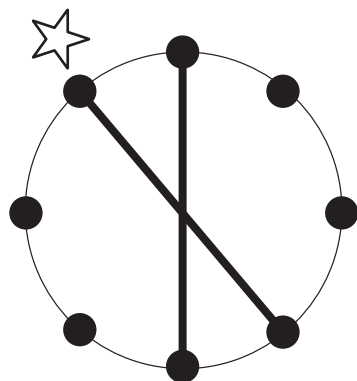
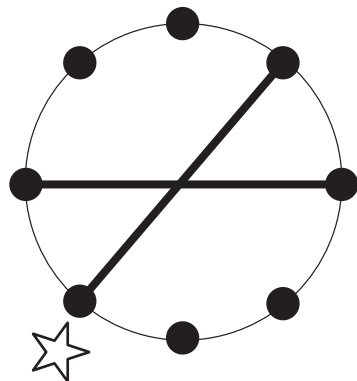


おうちで、よろう。

Study at home. 小学校受験の家庭学習教材

図形：回転 26

上のお手本を下のように向きを変えたときの見え方を考えて、矢印の先にある○の中に線をかきます。



※1. このプリントは、しながわ・目黒こどもスクールのウェブサイトでダウンロードができます。無断複写・引用はご遠慮ください。
※2. このプリントを活用したオンライン授業のスケジュールは、しながわ・目黒こどもスクールのウェブサイトでご確認ください。

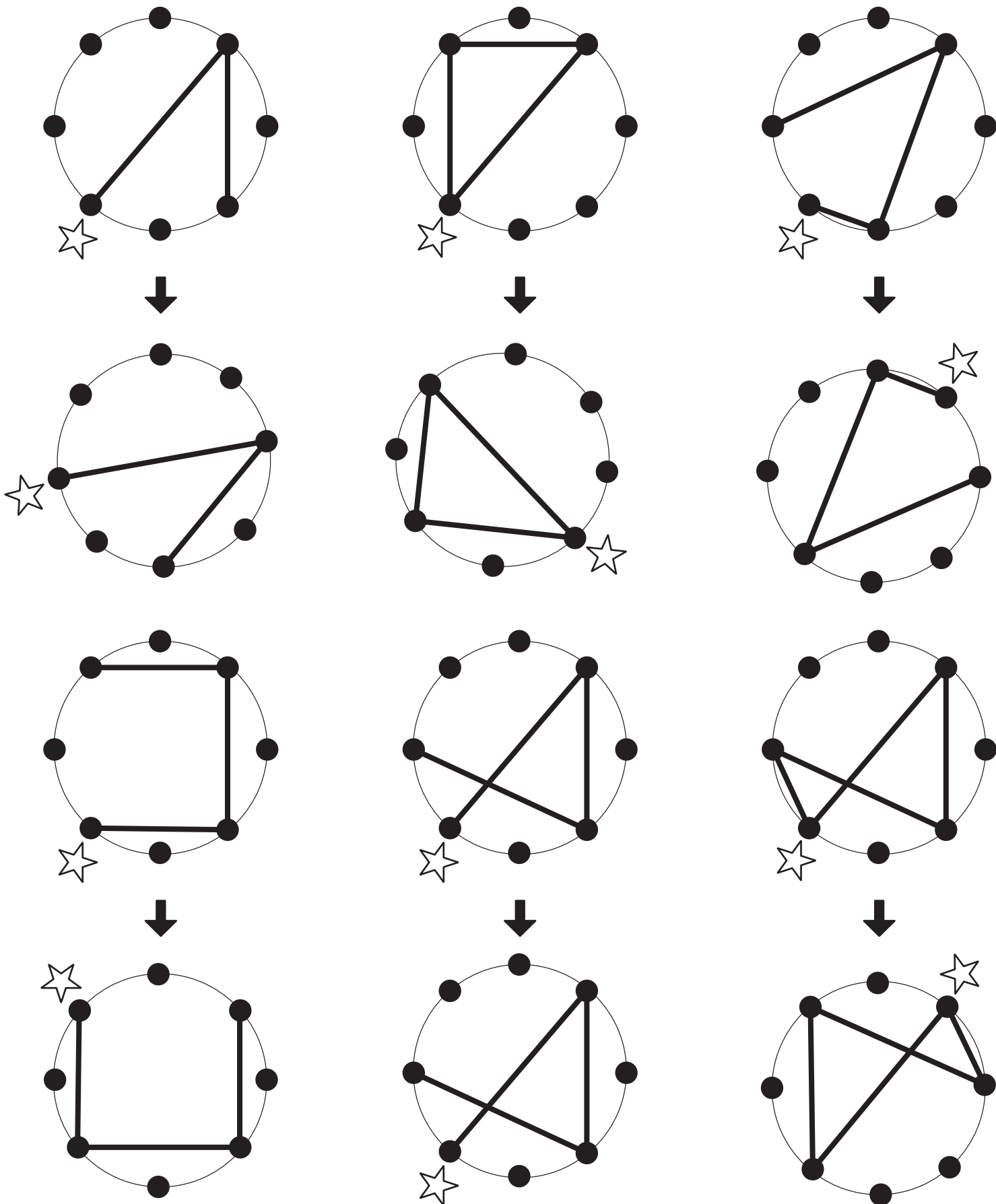


おうちで、やろう。

Study at home. 小学校受験の家庭学習教材

図形：回転27

上のお手本を下のように向きを変えたときの見え方を考えて、矢印の先にある○の中に線をかきます。



※1. このプリントは、しながわ・目黒こどもスクールのウェブサイトからダウンロードできます。無断複写・引用はご遠慮ください。

※2. このプリントを活用したオンライン授業のスケジュールは、しながわ・目黒こどもスクールのウェブサイトでご確認ください。

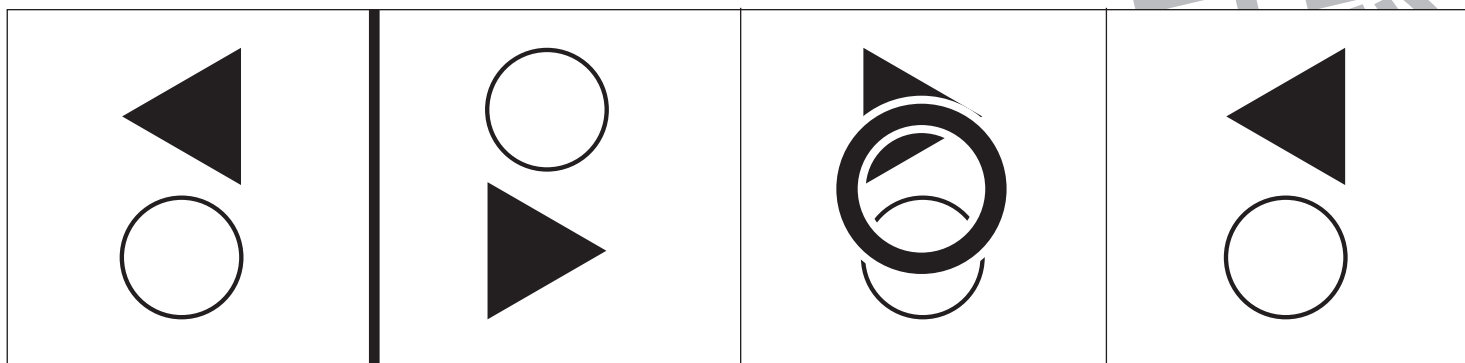
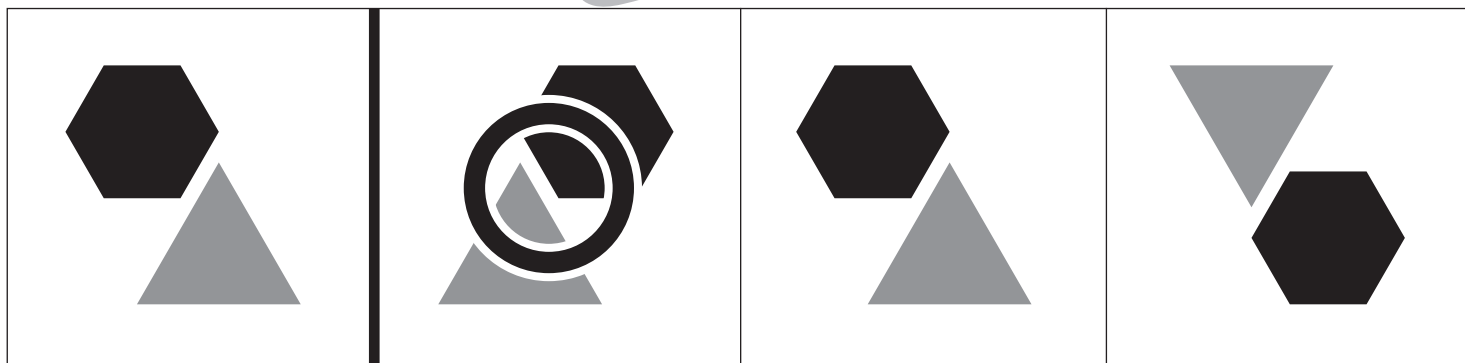



おうちで、やろう。

Study at home. 小学校受験の家庭学習教材

図形：鏡 16

左の四角の中の絵を太い線のところに鏡を置いて見ると、右の3つのどの絵になりますか。その絵に○をつけましょう。



※1. このプリントは、しながわ・目黒こどもスクールのウェブサイトでダウンロードができます。無断複写・引用はご遠慮ください。
 ※2. このプリントを活用したオンライン授業のスケジュールは、しながわ・目黒こどもスクールのウェブサイトでご確認ください。

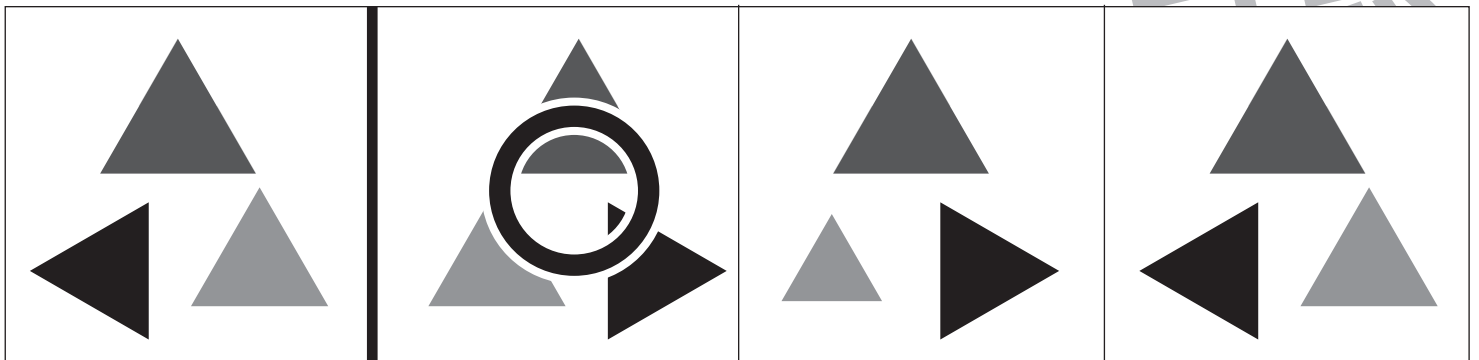

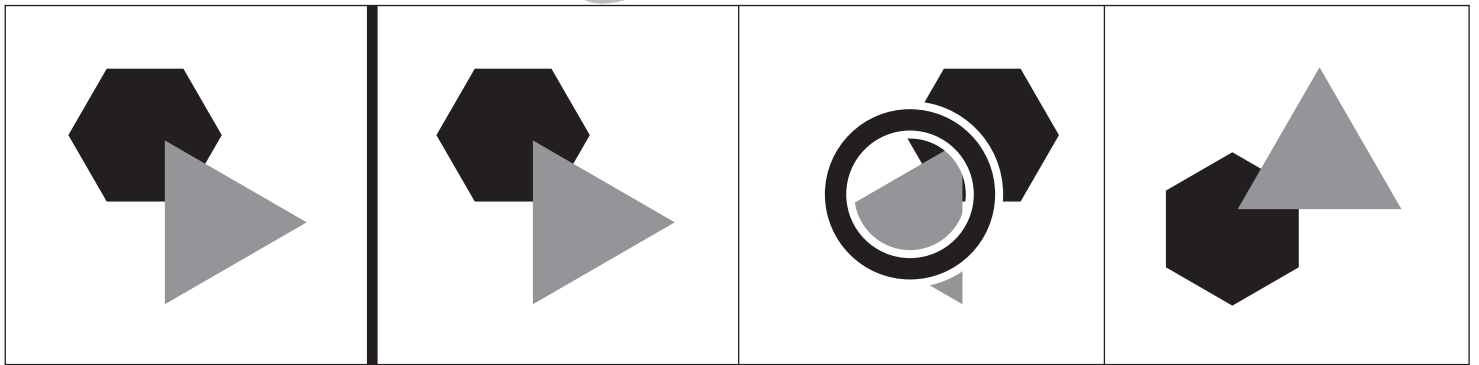



おうちで、やろう。

Study at home. 小学校受験の家庭学習教材

図形：鏡 17

左の四角の中の絵を太い線のところに鏡を置いて見ると、右の3つのどの絵になりますか。その絵に○をつけましょう。



※1. このプリントは、しながわ・目黒こどもスクールのウェブサイトでダウンロードができます。無断複写・引用はご遠慮ください。
 ※2. このプリントを活用したオンライン授業のスケジュールは、しながわ・目黒こどもスクールのウェブサイトでご確認ください。

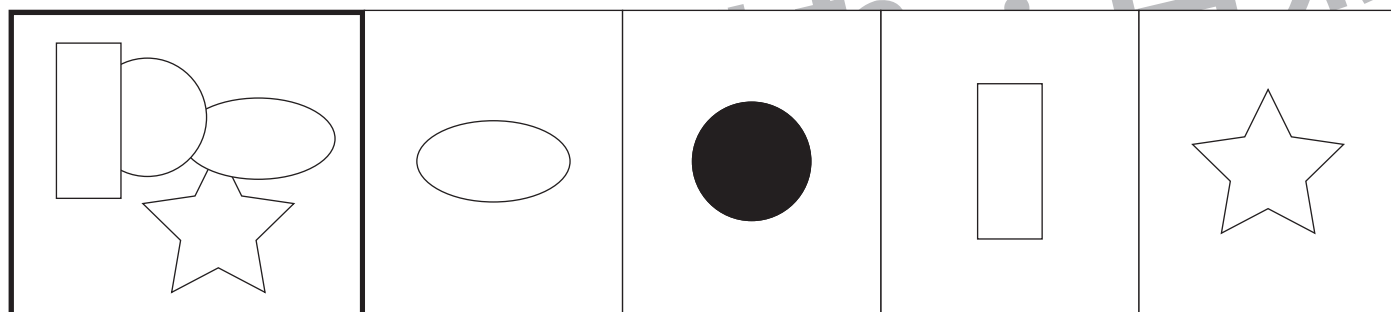
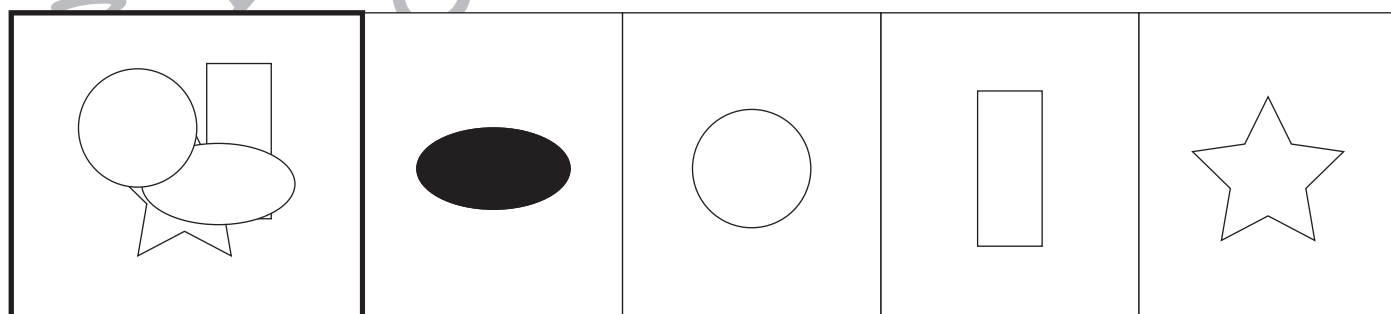
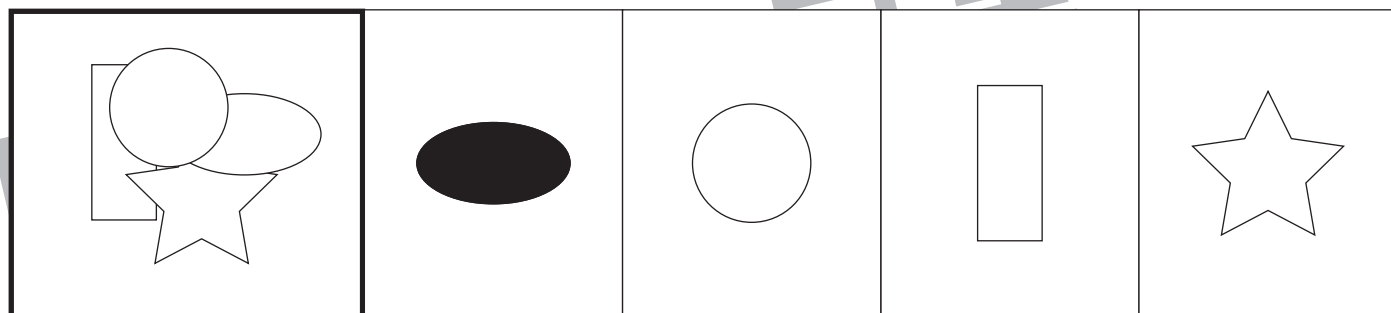
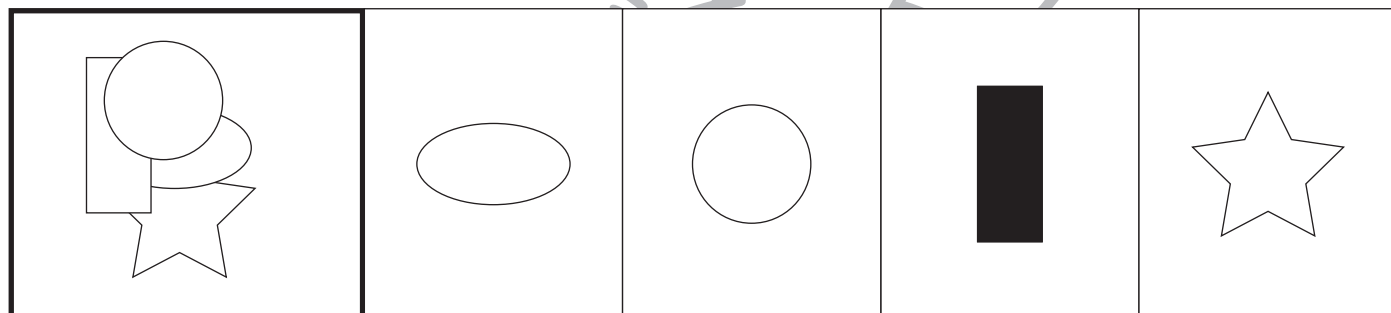
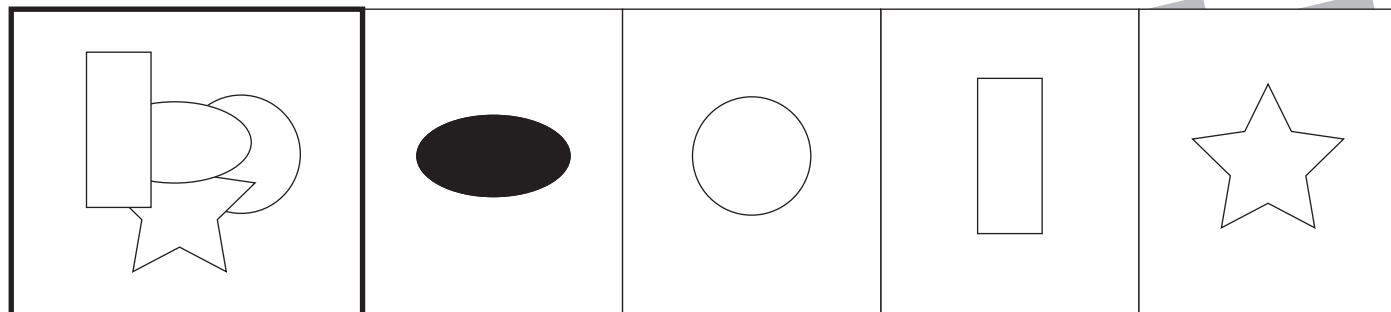


おうちで、やろう。

Study at home. 小学校受験の家庭学習教材

図形：重なり 17

太い四角の中には、色々な形が重なっています。
上からから2番目にある形を右の中から選んで、その形の中を黒色のクーピーで塗ります。



※1. このプリントは、しながわ・目黒こどもスクールのウェブサイトからダウンロードできます。無断複写・引用はご遠慮ください。
 ※2. このプリントを活用したオンライン授業のスケジュールは、しながわ・目黒こどもスクールのウェブサイトでご確認ください。



おうちで、やろう。

Study at home. 小学校受験の家庭学習教材

図形：重なり 18

太い四角の中には、色々な形が重なっています。
一番下にある形を右の中から選んで、その形の中を黒色のクーピーで塗ります。

--	--	--	--	--

--	--	--	--	--

--	--	--	--	--

--	--	--	--	--

--	--	--	--	--

※1. このプリントは、しながわ・目黒こどもスクールのウェブサイトでダウンロードができます。無断複写・引用はご遠慮ください。
※2. このプリントを活用したオンライン授業のスケジュールは、しながわ・目黒こどもスクールのウェブサイトでご確認ください。




おうちで、やろう。

Study at home. 小学校受験の家庭学習教材

まちがいさがし3

上下の絵を見比べて、変わっているところを4つ探します。見つけたら、下の絵の変わっている部分に○をつけます。





おうちで、やろう。

Study at home. 小学校受験の家庭学習教材

まちがいさがし4

上下の絵を見比べて、変わっているところを4つ探します。見つけたら、下の絵の変わっている部分に○をつけます。

