




おうちで、やろう。

Study at home. 小学校受験の家庭学習教材

指示の聞き取り 22

それぞれの設問に合う絵を2つ見つけて線で結びます。

- ①掃除で使うものを青のクーピーの線で結びます。
- ②寝るときに使うものを緑のクーピーの線で結びます。
- ③楽器をオレンジ色のクーピーの線で結びます。
- ④クリスマスに飾るものを紫色のクーピーの線で結びます。



※1. このプリントは、しながわ・目黒こどもスクールのウェブサイトからダウンロードできます。無断複写・引用はご遠慮ください。
※2. このプリントを活用したオンライン授業のスケジュールは、しながわ・目黒こどもスクールのウェブサイトでご確認ください。









おうちで、やろう。

Study at home. 小学校受験の家庭学習教材

数量：多少 15

横に並んだ2つの四角のうち動物の種類が多い四角に○をつけます。



※1. このプリントは、しながわ・目黒こどもスクールのウェブサイトからダウンロードできます。無断複写・引用はご遠慮ください。
 ※2. このプリントを活用したオンライン授業のスケジュールは、しながわ・目黒こどもスクールのウェブサイトでご確認ください。




おうちで、やろう。

Study at home. 小学校受験の家庭学習教材

常識：仲間はずれ3

太い四角の中の絵と仲間ではないものを見つけて○をつけます。



※1. このプリントは、しながわ・目黒こどもスクールのウェブサイトでダウンロードができます。無断複写・引用はご遠慮ください。

※2. このプリントを活用したオンライン授業のスケジュールは、しながわ・目黒こどもスクールのウェブサイトでご確認ください。


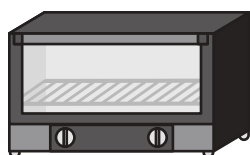


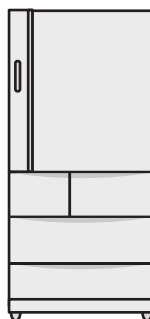

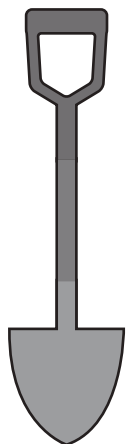
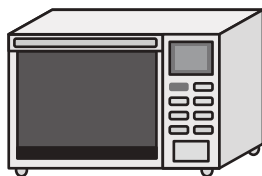


おうちで、やろう。

Study at home. 小学校受験の家庭学習教材

常識：仲間はずれ 4

太い四角の中の絵と仲間ではないものを見つけて○をつけます。



※1. このプリントは、しながわ・目黒こどもスクールのウェブサイトからダウンロードできます。無断複写・引用はご遠慮ください。
※2. このプリントを活用したオンライン授業のスケジュールは、しながわ・目黒こどもスクールのウェブサイトでご確認ください。



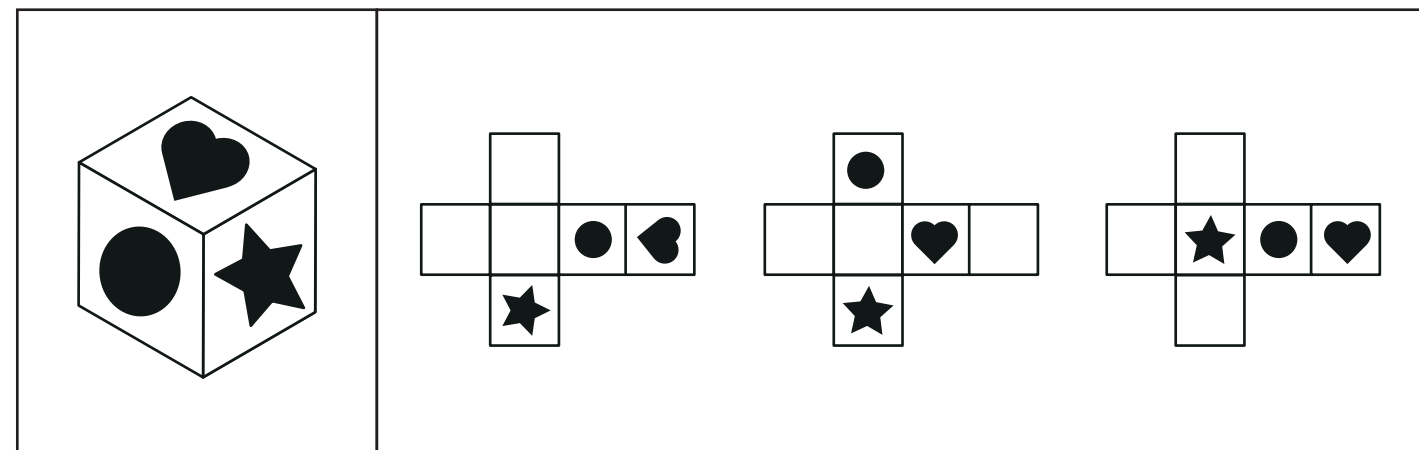
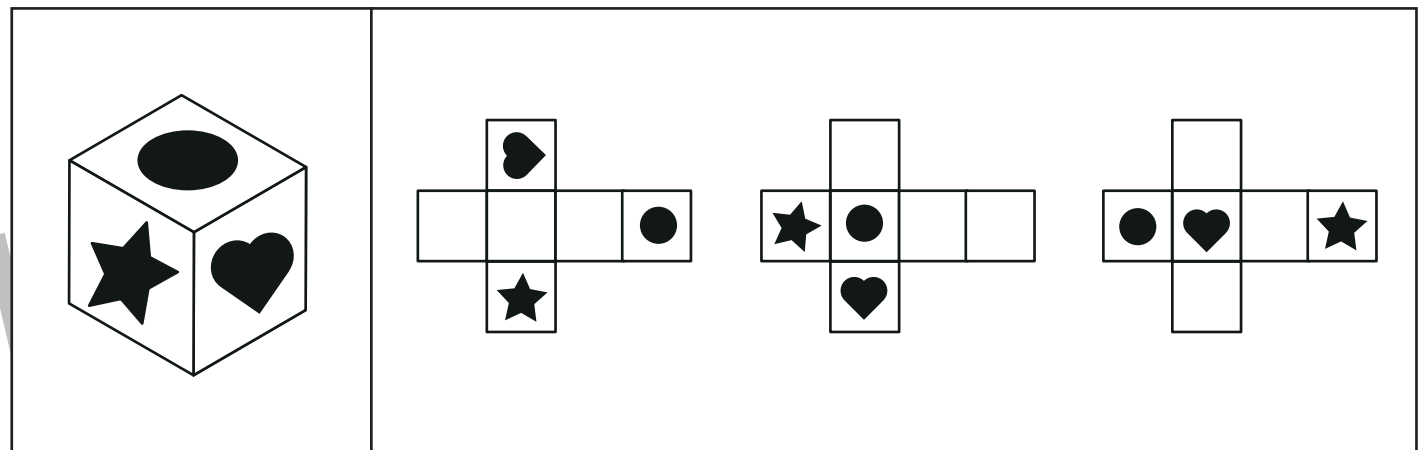
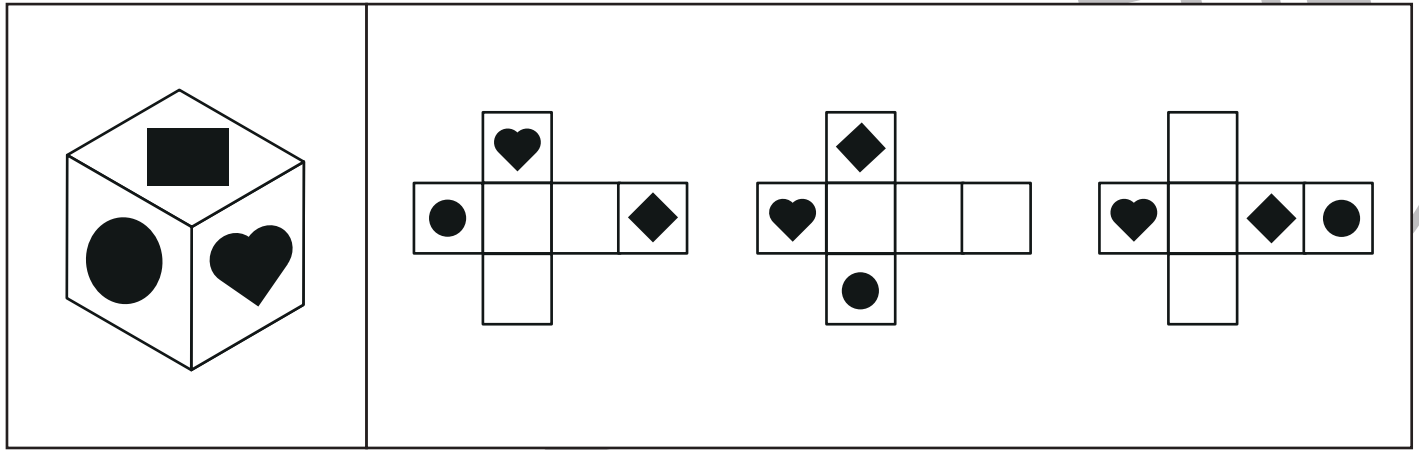


おうちで、やろう。

Study at home. 小学校受験の家庭学習教材

図形：展開 1

左のサイコロを開いたときの見え方を考えて、正しい絵に○をつけましょう。



※1. このプリントは、しながわ・目黒こどもスクールのウェブサイトでダウンロードができます。無断複写・引用はご遠慮ください。
 ※2. このプリントを活用したオンライン授業のスケジュールは、しながわ・目黒こどもスクールのウェブサイトでご確認ください。



おうちで、やろう。

Study at home. 小学校受験の家庭学習教材

図形：展開 2

左のサイコロを開いたときの見え方を考えて、正しい絵に○をつけましょう。

--	--

--	--

--	--

※1. このプリントは、しながわ・目黒こどもスクールのウェブサイトでダウンロードができます。無断複写・引用はご遠慮ください。
 ※2. このプリントを活用したオンライン授業のスケジュールは、しながわ・目黒こどもスクールのウェブサイトでご確認ください。



おうちで、やろう。

Study at home. 小学校受験の家庭学習教材

図形：欠所 2

下の形はある形の半分の線です。点線で折るとぴったり重なります。元の形を考えて、もう半分の線を描き足します。

※1. このプリントは、しながわ・目黒こどもスクールのウェブサイトでダウンロードができます。無断複写・引用はご遠慮ください。

※2. このプリントを活用したオンライン授業のスケジュールは、しながわ・目黒こどもスクールのウェブサイトでご確認ください。



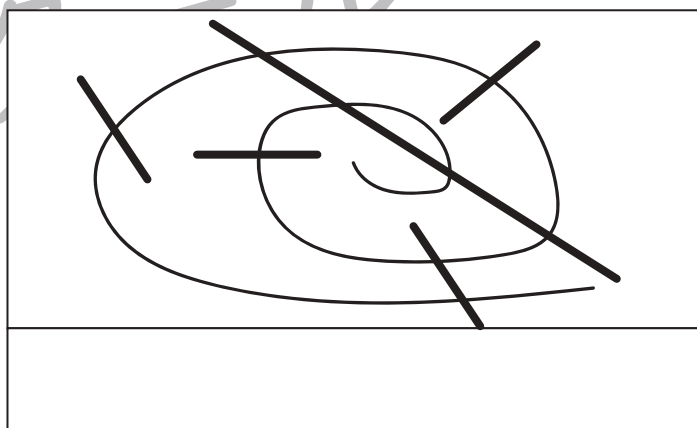


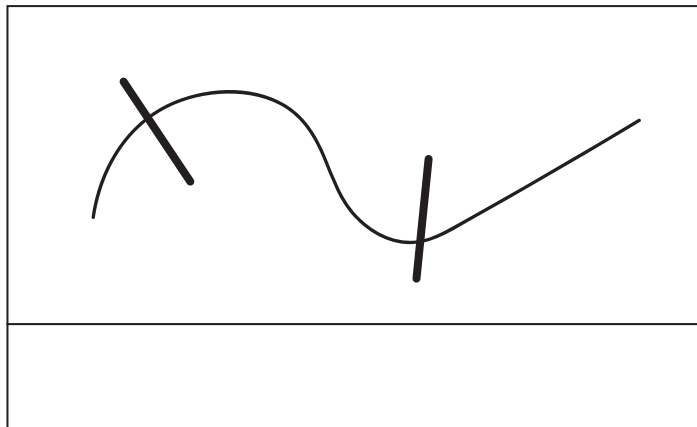


おうちで、やろう。

Study at home. 小学校受験の家庭学習教材

推理：ひも4

大きな四角の中のみもを太い黒線のところで切ると、ひもは何本になりますか。その数だけ、下の四角の中に○をかきます。



※1. このプリントは、しながわ・目黒こどもスクールのウェブサイトでダウンロードができます。無断複写・引用はご遠慮ください。
※2. このプリントを活用したオンライン授業のスケジュールは、しながわ・目黒こどもスクールのウェブサイトでご確認ください。




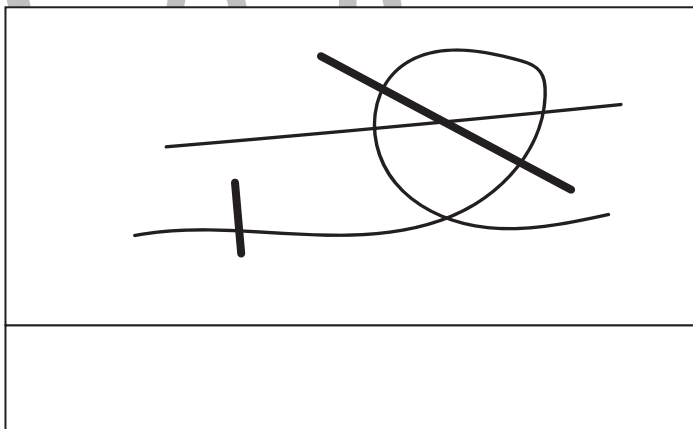
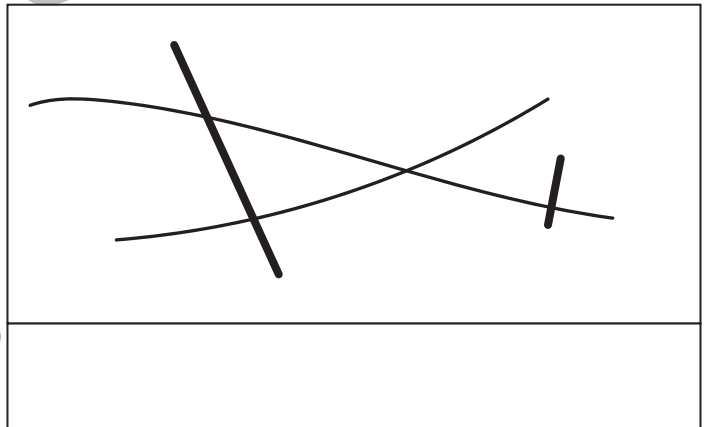
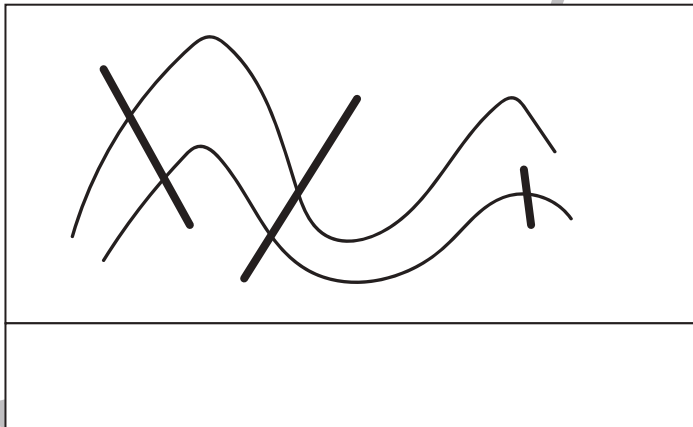
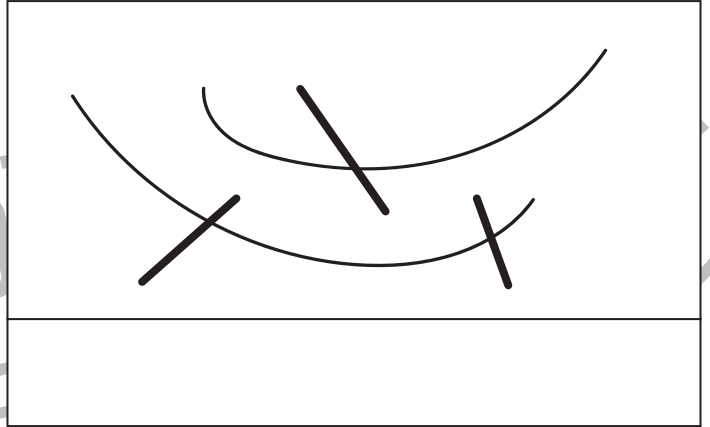
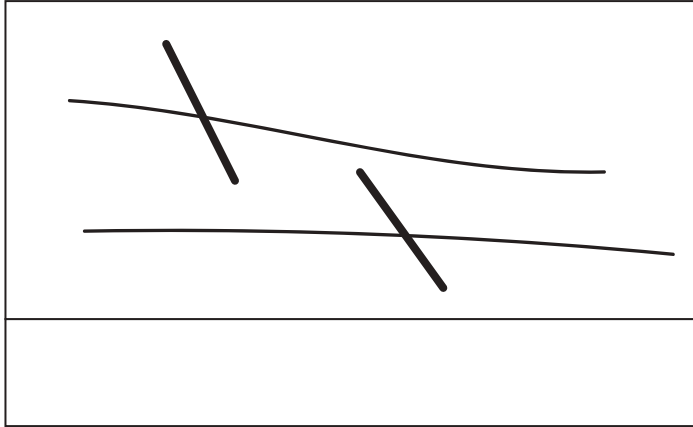


おうちで、やろう。

Study at home. 小学校受験の家庭学習教材

推理：ひも5

大きな四角の中のひもを太い黒線のところで切ると、ひもは何本になりますか。その数だけ、下の四角の中に○をかきます。



※1. このプリントは、しながわ・目黒こどもスクールのウェブサイトでダウンロードができます。無断複写・引用はご遠慮ください。
※2. このプリントを活用したオンライン授業のスケジュールは、しながわ・目黒こどもスクールのウェブサイトでご確認ください。

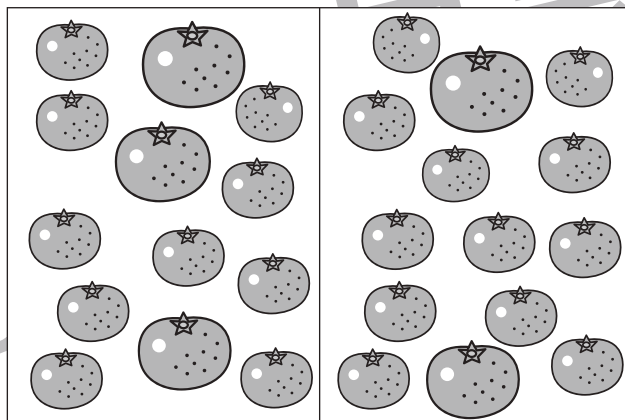
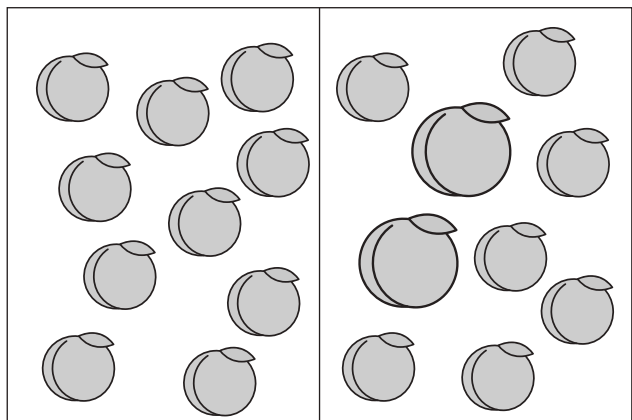
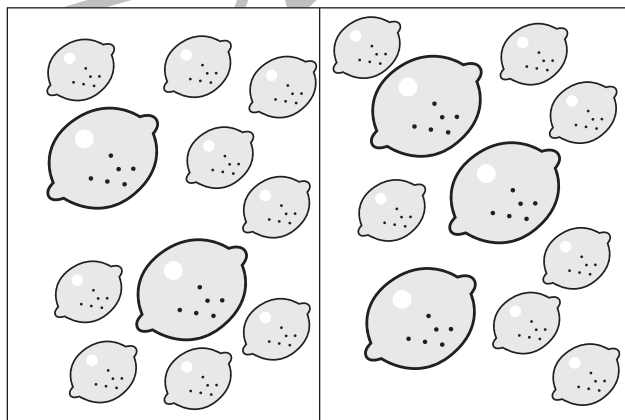
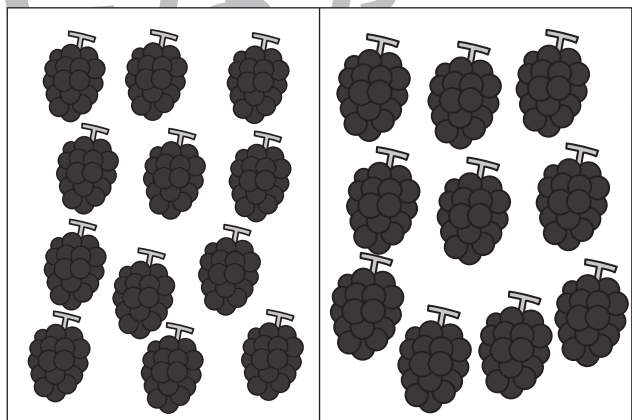

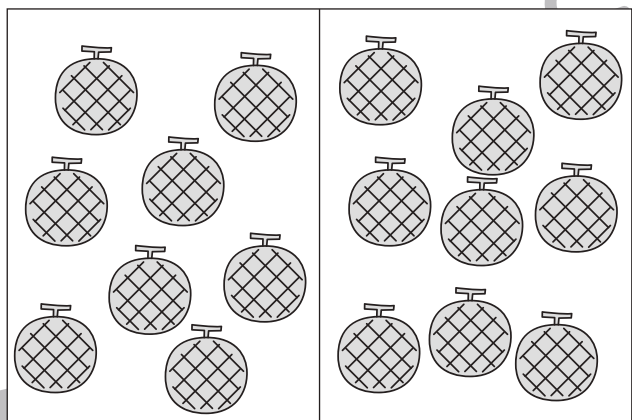
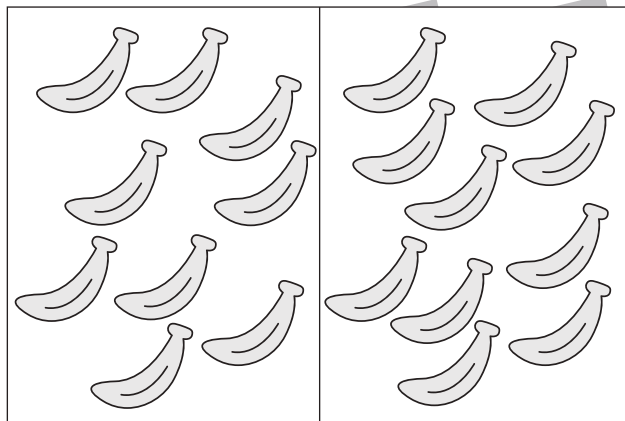
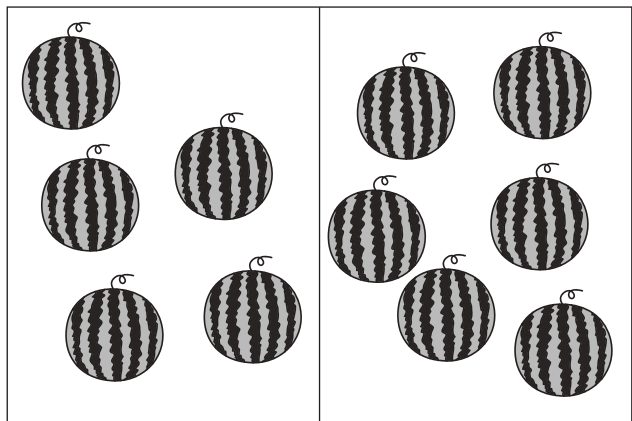


おうちで、やろう。

Study at home. 小学校受験の家庭学習教材

処理：多少2

横に並んだ2つの四角の中の果物のうち数が多い方の四角に○をつけます。
この問題はスピードを意識して取り組む練習をしてみましょう。(1分30秒～2分)



※1. このプリントは、しながわ・目黒こどもスクールのウェブサイトでダウンロードができます。無断複写・引用はご遠慮ください。
 ※2. このプリントを活用したオンライン授業のスケジュールは、しながわ・目黒こどもスクールのウェブサイトでご確認ください。