



おうちで、やろう。 年中児版


Study at home. 小学校受験の家庭学習教材

記憶：絵の記憶 4

(記憶用紙)

「別紙、記憶 - 絵の記憶 4 (問題用紙)」を行う際に使用します。記憶する際は問題用紙を裏返しにします。
下の形をすべて覚え、問題に答えます。

目黒



※1. このプリントは、しながわ・目黒こどもスクールのウェブサイトからダウンロードできます。無断複写・引用はご遠慮ください。

※2. このプリントを活用したオンライン授業のスケジュールは、しながわ・目黒こどもスクールのウェブサイトでご確認ください。






おうちで、やろう。 年中児版

Study at home. 小学校受験の家庭学習教材

記憶：絵の記憶 4

別紙「記憶 - 絵の記憶 4 (記憶用紙)」を使用します。記憶用紙を見た後に問題に取り組みます。
色々な形の中で今見た絵にない形を見つけて、○をつけます。
※このプリントの解答は記憶用紙で確認してください。



※1. このプリントは、しながわ・目黒こどもスクールのウェブサイトからダウンロードできます。無断複写・引用はご遠慮ください。
※2. このプリントを活用したオンライン授業のスケジュールは、しながわ・目黒こどもスクールのウェブサイトでご確認ください。

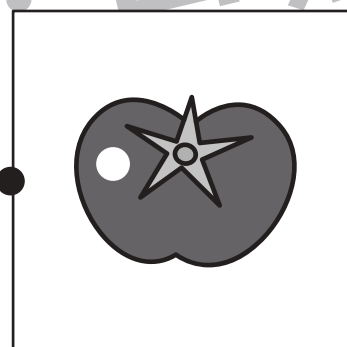

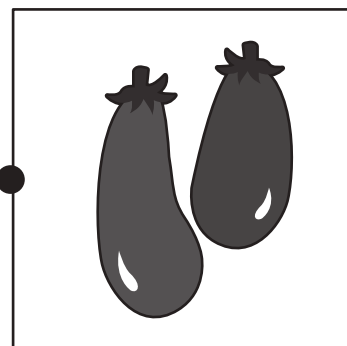

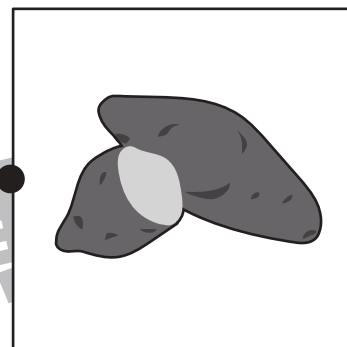
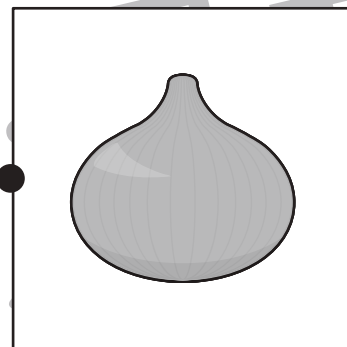



おうちで、やろう。 年中児版

Study at home. 小学校受験の家庭学習教材

言語：音の数 7

左と右の絵の音の数が同じものを探して、点と点を線で結びます。



※1. このプリントは、しながわ・目黒こどもスクールのウェブサイトでダウンロードができます。無断複写・引用はご遠慮ください。

※2. このプリントを活用したオンライン授業のスケジュールは、しながわ・目黒こどもスクールのウェブサイトでご確認ください。






おうちで、やろう。 年中児版

Study at home. 小学校受験の家庭学習教材

処理能力：抹消 3

上の太い四角の中の絵がお手本です。下のマスの中からお手本の絵をみつけて斜め線（/）をつけていきます。お手本を見つけるときは、一番上の段の左からはじめて、右端まで見ます。1段目ができたら2段目の左から右へ進み、次に3段目の左から右と順番に印をつけていきます。



※1. このプリントは、しながわ・目黒こどもスクールのウェブサイトでダウンロードができます。無断複写・引用はご遠慮ください。

※2. このプリントを活用したオンライン授業のスケジュールは、しながわ・目黒こどもスクールのウェブサイトでご確認ください。

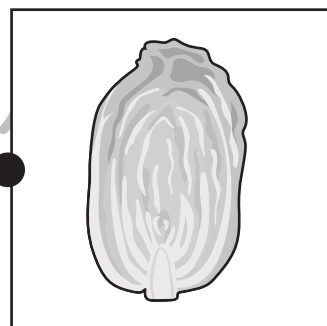

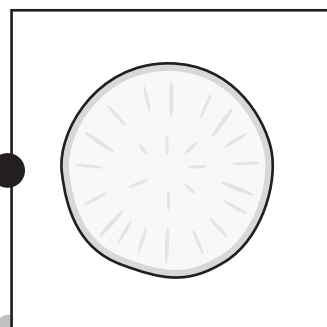

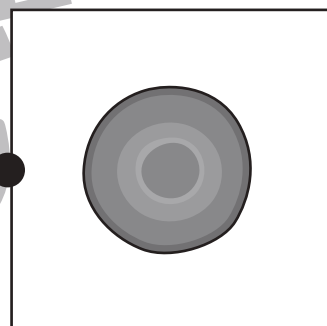
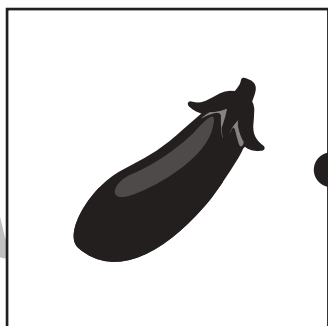
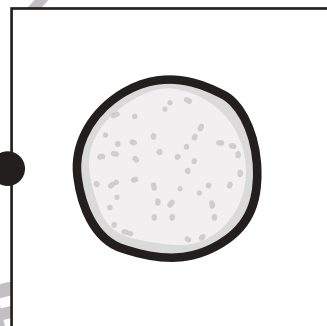
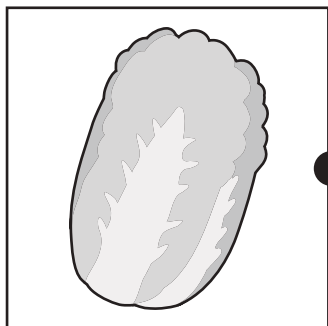
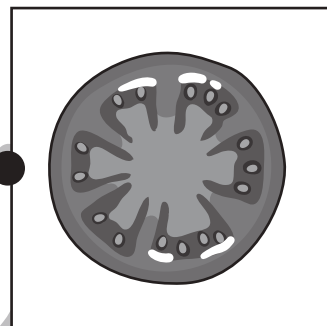
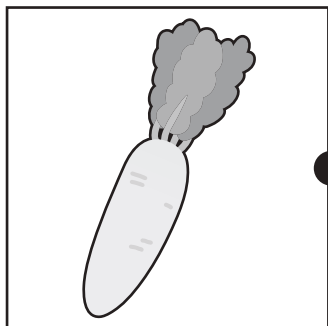


おうちで、やろう。年中児版

Study at home. 小学校受験の家庭学習教材

常識：野菜 2

左の四角の中の野菜を切ったものが右の四角にあります。同じ野菜同士の点と点を線で結びます。



※1. このプリントは、しながわ・目黒こどもスクールのウェブサイトでダウンロードができます。無断複写・引用はご遠慮ください。

※2. このプリントを活用したオンライン授業のスケジュールは、しながわ・目黒こどもスクールのウェブサイトでご確認ください。




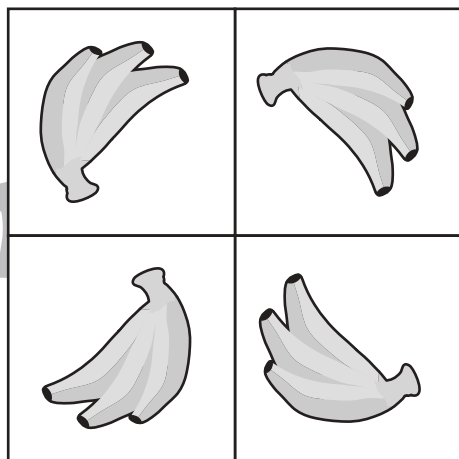



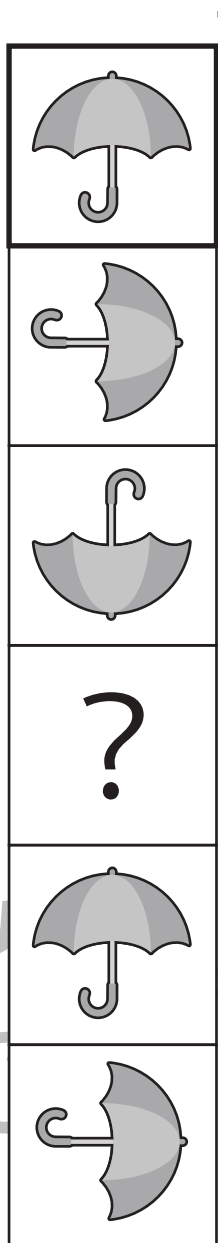


おうちで、よろう。年中児版

Study at home. 小学校受験の家庭学習教材

図形：回転 10

上の太い四角が矢印の方向に一回ずつ倒れます。？の絵の見え方を考えて、下の四角の絵に○をつけます。



※1. このプリントは、しながわ・目黒こどもスクールのウェブサイトでダウンロードができます。無断複写・引用はご遠慮ください。
 ※2. このプリントを活用したオンライン授業のスケジュールは、しながわ・目黒こどもスクールのウェブサイトでご確認ください。



上の太い四角が矢印の方向に一回ずつ倒れます。？の絵の見え方を考えて、下の四角の絵に○をつけます。

※1. このプリントは、しながわ・目黒こどもスクールのウェブサイトでダウンロードができます。無断複写・引用はご遠慮ください。
 ※2. このプリントを活用したオンライン授業のスケジュールは、しながわ・目黒こどもスクールのウェブサイトでご確認ください。





おうちで、やろう。 年中児版

Study at home. 小学校受験の家庭学習教材

数量：多少7

四角の中の果物の数を数えて、一番数の多い果物を右の四角の中から選んで○をつけます。



※1. このプリントは、しながわ・目黒こどもスクールのウェブサイトからダウンロードできます。無断複写・引用はご遠慮ください。

※2. このプリントを活用したオンライン授業のスケジュールは、しながわ・目黒こどもスクールのウェブサイトでご確認ください。

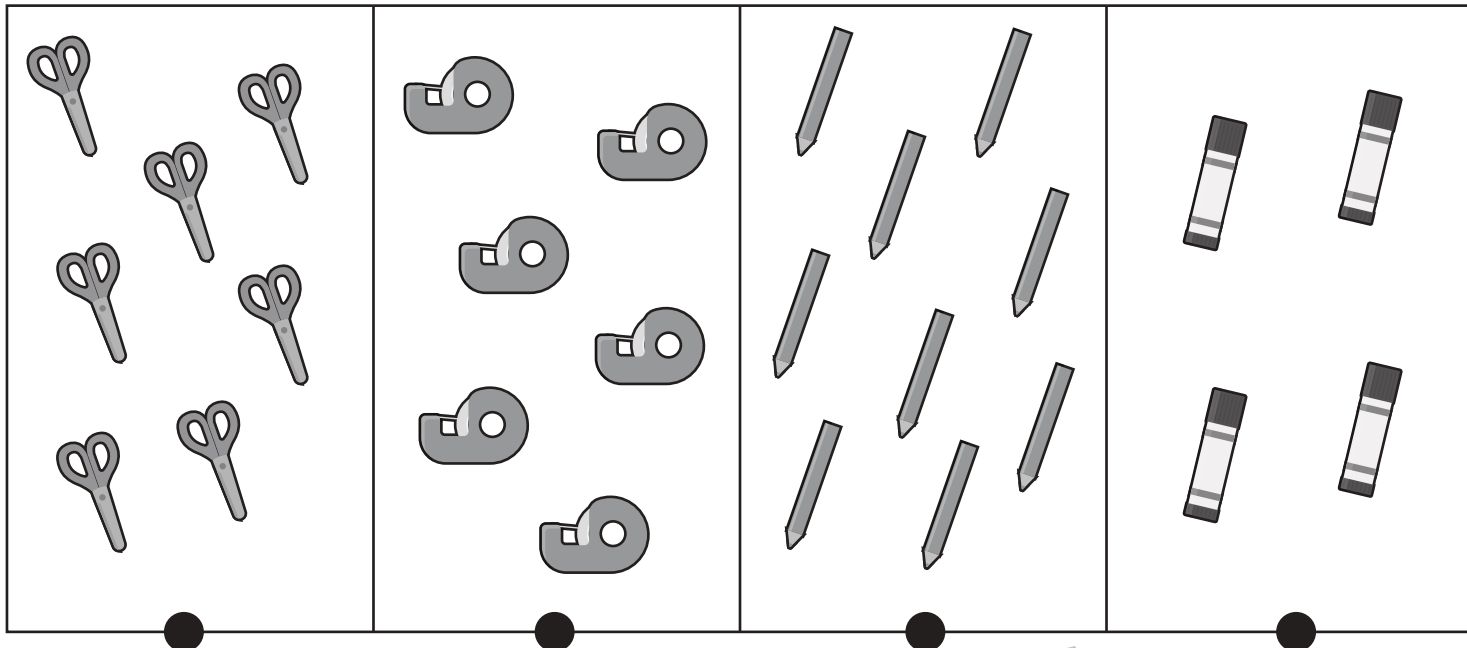


おうちで、やろう。 年中児版

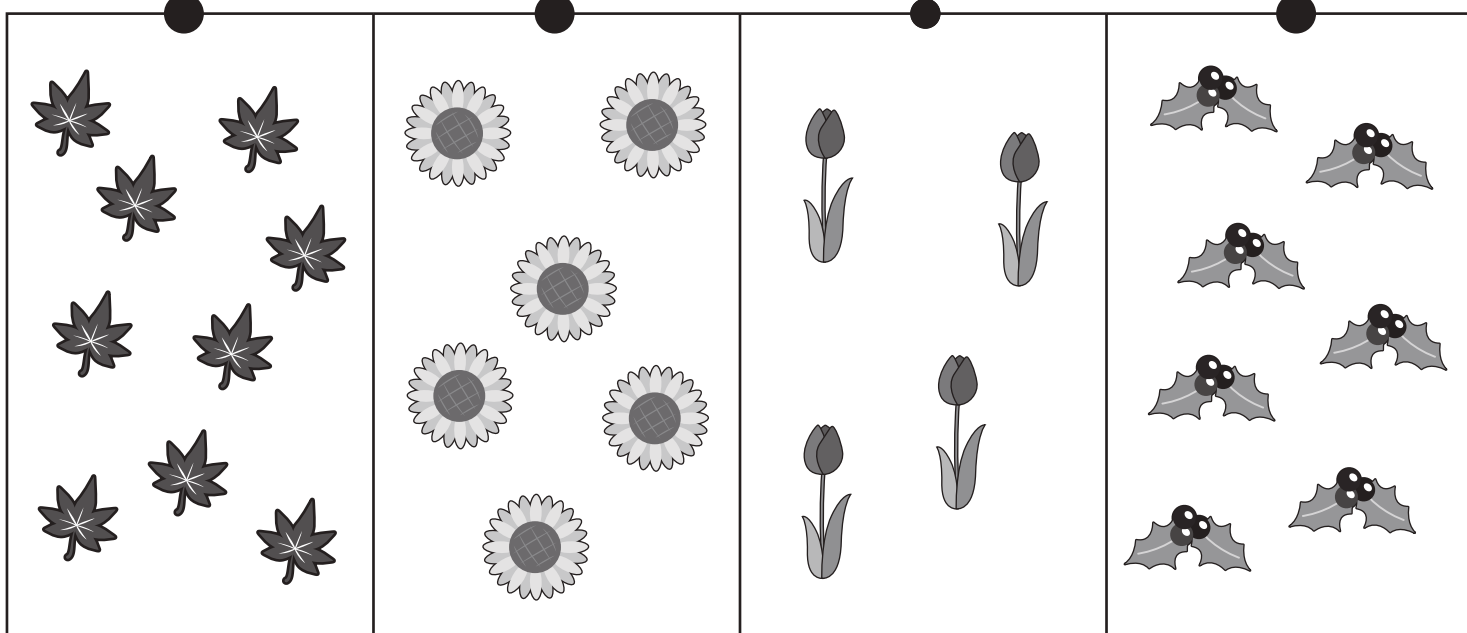
Study at home. 小学校受験の家庭学習教材

数量：同数 3

上の段と下の段を見比べて、数が同じもの同士を線でつなぎます。



しながわ・目黒
こどもスクール



※1. このプリントは、しながわ・目黒こどもスクールのウェブサイトからダウンロードできます。無断複写・引用はご遠慮ください。

※2. このプリントを活用したオンライン授業のスケジュールは、しながわ・目黒こどもスクールのウェブサイトでご確認ください。