



おうちで、やろう。

Study at home. 小学校受験の家庭学習教材

記憶：絵の記憶 18

別紙『記憶 - 絵の記憶 18 記憶用紙』を使用します。記憶用紙の形を見た後に①、②の問題に取り組みましょう。
※このプリントの解答は記憶用紙で確認してください。

日黒

①

この問題では、動物の顔とそれらが好む食べ物を線でつなぐ作業を行います。上段にはクマ、ウサギ、サル、下段にはおむすび、ケーキ、チョコレートケーキが描かれています。線はクマとおむすび、ウサギとケーキ、サルとチョコレートケーキをそれぞれつなぐように引かれています。

②

この問題では、動物の顔とそれらが好む食べ物を線でつなぐ作業を行います。上段にはクマ、ウサギ、サル、ネズミ、下段にはケーキ、おむすび、チョコレートケーキ、チョコレートケーキが描かれています。線はクマとチョコレートケーキ、ウサギとおむすび、サルとケーキ、ネズミとチョコレートケーキをそれぞれつなぐように引かれています。

※1. このプリントは、しながわ・目黒こどもスクールのウェブサイトからダウンロードできます。無断複写・引用はご遠慮ください。
※2. このプリントを活用したオンライン授業のスケジュールは、しながわ・目黒こどもスクールのウェブサイトでご確認ください。


















おうちで、やろう。

Study at home. 小学校受験の家庭学習教材

言語：しりとり 18

上の段・真ん中の段・下の段で上から順番にしりとりでつながるように、点と点を線で結びます。

The image shows a matching exercise with three rows of five boxes each. The top row contains a watermelon, flowers, a banana, an umbrella, and sweets. The middle row contains a strawberry, a camera, a chestnut, an octopus, and an eggplant. The bottom row contains a peach, a slide, a backpack, a gorilla, and a target. Lines connect the boxes between rows to form a continuous chain of 18 connections, starting from the top row and ending at the bottom row, illustrating a word chain (shiritori).

※1. このプリントは、しながわ・目黒こどもスクールのウェブサイトでダウンロードができます。無断複写・引用はご遠慮ください。
 ※2. このプリントを活用したオンライン授業のスケジュールは、しながわ・目黒こどもスクールのウェブサイトでご確認ください。



おうちで、やろう。

Study at home. 小学校受験の家庭学習教材

図形：折り重ね 25

左にあるたくさんの形があるマス我真ん中の太い線で折ってぴったり重ねた時の見え方を考えて右のマスにかきます。

○		△		
		○	●	
■		△		▽
	●		□	
				▼

		△		○
	●	○		
▽		△		■
	□		●	
▼				

×			▷	
	◁			▽
▷		×	△	
	×			×
	△			

	◁			×
▽			▷	
	△	×		▷
×			×	
			△	

	○		▽	
●	▲	▷		◁
▽			◀	
×	◁		□	
		▲		×

	▽		○	
▷		◁	▲	●
	▶			▽
	□		▷	×
×		▲		

※1. このプリントは、しながわ・目黒こどもスクールのウェブサイトでダウンロードができます。無断複写・引用はご遠慮ください。

※2. このプリントを活用したオンライン授業のスケジュールは、しながわ・目黒こどもスクールのウェブサイトでご確認ください。

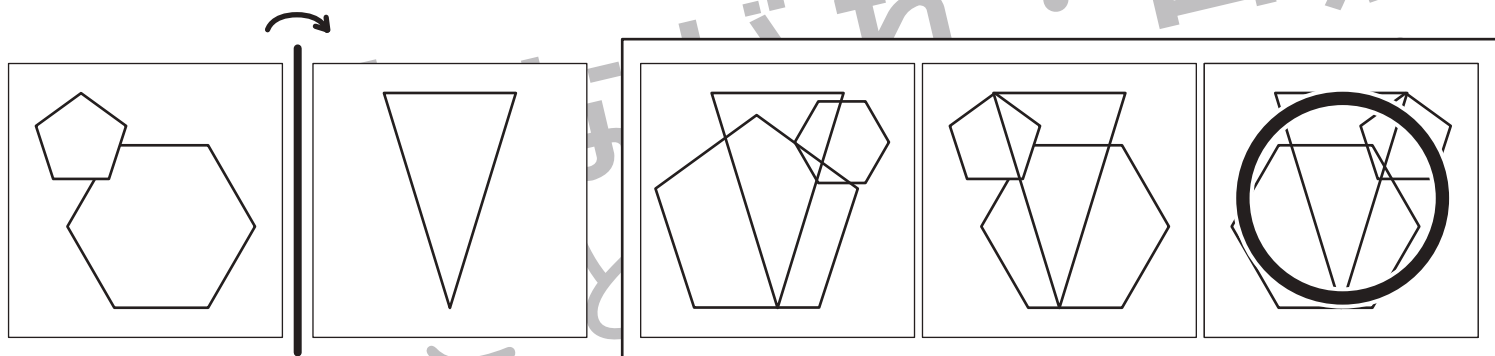
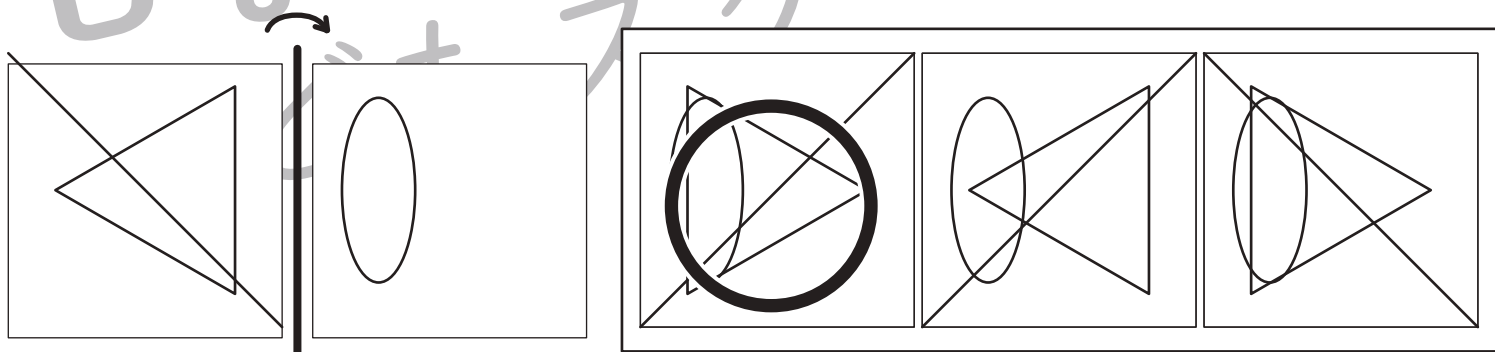

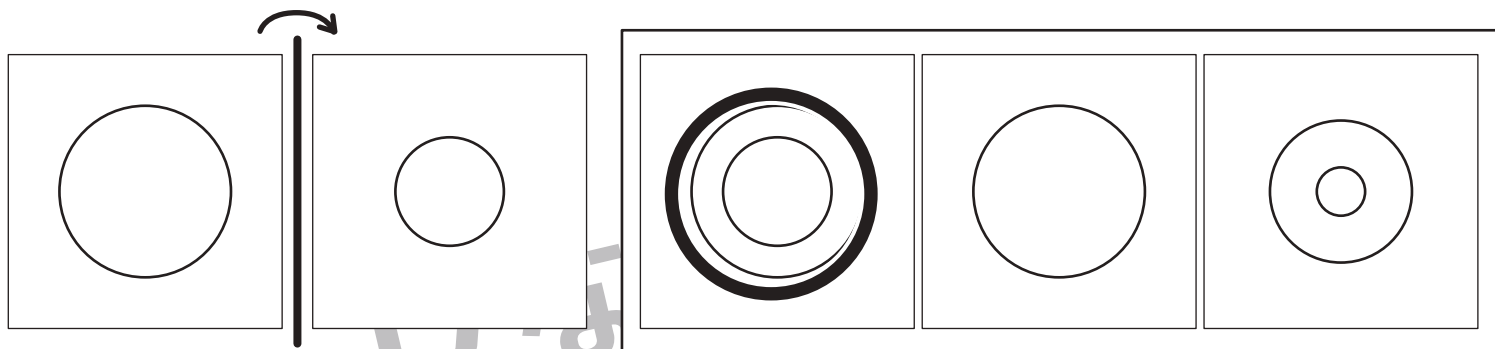


おうちで、やろう。

Study at home. 小学校受験の家庭学習教材

図形：折り重ね 26

左の四角を太い線で矢印の方向に折ってぴったり重ね合わせた時の見え方を考えて○をつけます。



※1. このプリントは、しながわ・目黒こどもスクールのウェブサイトでダウンロードができます。無断複写・引用はご遠慮ください。

※2. このプリントを活用したオンライン授業のスケジュールは、しながわ・目黒こどもスクールのウェブサイトでご確認ください。



おうちで、やろう。

Study at home. 小学校受験の家庭学習教材

推理：系列完成 13

四角の中の図形はある順番通りに並んでいます。空いている四角には何の図形が入るか考えて、下の四角の中から正しいものを選び○をつけます。

①

--	--	--	--	--	--

②

--	--	--	--	--	--

※1. このプリントは、しながわ・目黒こどもスクールのウェブサイトでダウンロードができます。無断複写・引用はご遠慮ください。

※2. このプリントを活用したオンライン授業のスケジュールは、しながわ・目黒こどもスクールのウェブサイトでご確認ください。



おうちで、やろう。

Study at home. 小学校受験の家庭学習教材

推理：系列完成 14

四角の中の図形はある順番通りに並んでいます。空いている四角には何の図形が入るか考えて、下の四角の中から正しいものを選び○をつけます。

①

--	--	--	--	--

②

--	--	--	--	--

※1. このプリントは、しながわ・目黒こどもスクールのウェブサイトでダウンロードができます。無断複写・引用はご遠慮ください。
※2. このプリントを活用したオンライン授業のスケジュールは、しながわ・目黒こどもスクールのウェブサイトでご確認ください。



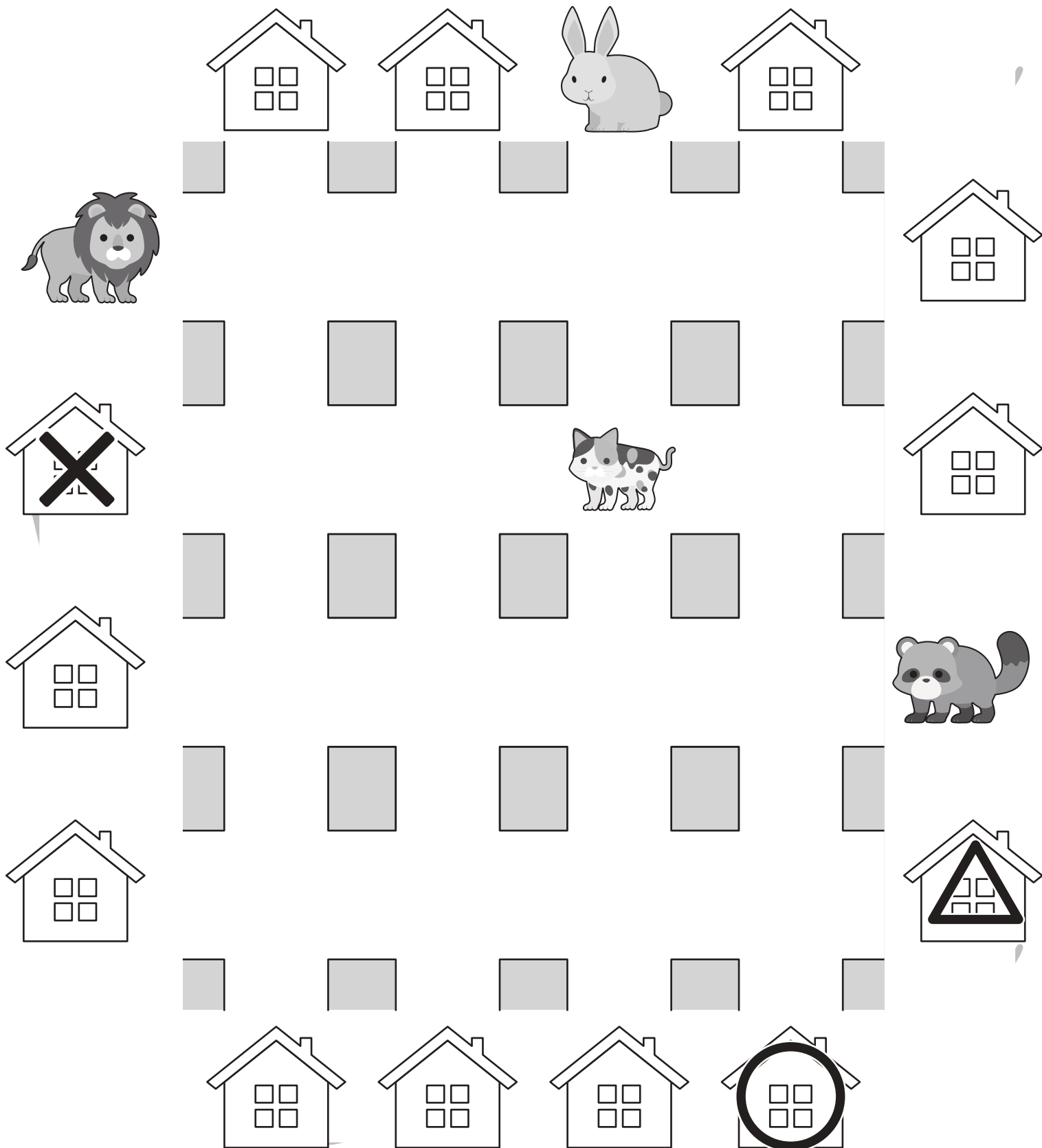
おうちで、よろう。

Study at home. 小学校受験の家庭学習教材

推理：地図の移動 2

動物たちが家に向かって進みます。着いた家にそれぞれ印をつけます。

- ①ライオンくんはまっすぐ歩いて4つ目の交差点を右に曲がってまっすぐ進んだおうちに入りました。その家に○をつけます。
- ②ウサギさんはまっすぐ進んでネコさんに会いました。ネコさんのいた交差点を右に曲がっておうちに入りました。その家に×をつけます。
- ③タヌキくんは1つ目の交差点を左に曲がり、またすぐ次の交差点を左に曲がって進んだおうちに入りました。その家に△をつけます。



※1. このプリントは、しながわ・目黒こどもスクールのウェブサイトでダウンロードができます。無断複写・引用はご遠慮ください。

※2. このプリントを活用したオンライン授業のスケジュールは、しながわ・目黒こどもスクールのウェブサイトでご確認ください。




おうちで、やろう。

Study at home. 小学校受験の家庭学習教材

推理：地図の移動 2

動物たちが家に向かって進みます。着いた家にそれぞれ印をつけます。

- ①フクロウさんはまっすぐ歩いて3つ目の交差点を左に曲がってまっすぐ進んで2つ目の交差点を右に曲がってまっすぐ進んだおうちに入りました。その家に○をつけます。
- ②オオカミくんは1つ目の交差点を左に曲がってまたすぐ1つ目の交差点を右に曲がってまっすぐ進んでキツネさんに会いました。キツネさんのいた交差点を左に曲がってまっすぐ進んだおうちに入りました。その家に×をつけます。
- ③ペンギンさんはまっすぐ進んで3つ目の交差点を左に曲がってまっすぐ進んで2つ目の交差点を右に曲がってまっすぐ進んだおうちに入りました。その家に△をつけます。



※1. このプリントは、しながわ・目黒こどもスクールのウェブサイトでダウンロードができます。無断複写・引用はご遠慮ください。

※2. このプリントを活用したオンライン授業のスケジュールは、しながわ・目黒こどもスクールのウェブサイトでご確認ください。





おうちで、やろう。



Study at home. 小学校受験の家庭学習教材

数量：対応 5


左の太い四角の中がひとつのセットです。右の四角の中には何セット分あるかを考えて、その数だけ下の四角に○をかきます。



$$\bigcirc \times 5$$



$$\bigcirc \times 2$$



$$\bigcirc \times 3$$

※1. このプリントは、しながわ・目黒こどもスクールのウェブサイトでダウンロードができます。無断複写・引用はご遠慮ください。
※2. このプリントを活用したオンライン授業のスケジュールは、しながわ・目黒こどもスクールのウェブサイトでご確認ください。

