



おうちで、やろう。

Study at home. 小学校受験の家庭学習教材

まちがいさがし

上下の絵を見比べて、変わっているところを4つ探します。見つけたら、下の絵の変わっている部分に○をつけます。





おうちで、やろう。

Study at home. 小学校受験の家庭学習教材

図形：回転 30

左のお手本を右の形のように回転させたときの見え方を考えて、右の円の中に線をかきます。

※1. このプリントは、しながわ・目黒こどもスクールのウェブサイトでダウンロードができます。無断複写・引用はご遠慮ください。

※2. このプリントを活用したオンライン授業のスケジュールは、しながわ・目黒こどもスクールのウェブサイトでご確認ください。



おうちで、よろう。

Study at home. 小学校受験の家庭学習教材

図形：回転 31

左のお手本を右の形のように回転させたときの見え方を考えて、右の形の中に線をかきます。

※1. このプリントは、しながわ・目黒こどもスクールのウェブサイトでダウンロードができます。無断複写・引用はご遠慮ください。

※2. このプリントを活用したオンライン授業のスケジュールは、しながわ・目黒こどもスクールのウェブサイトでご確認ください。


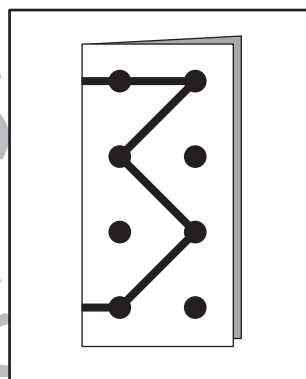

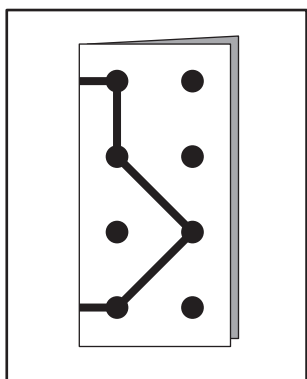

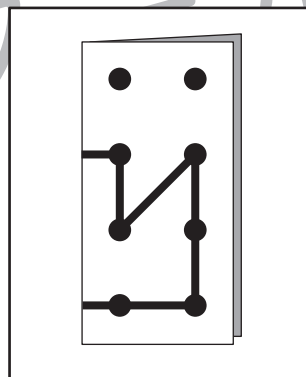

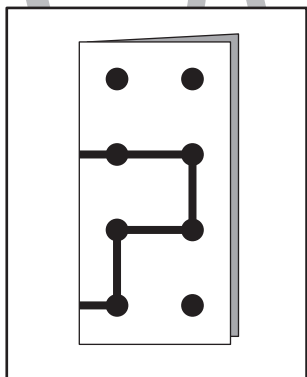

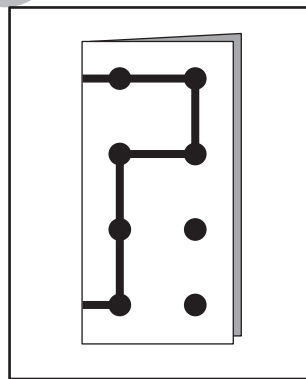

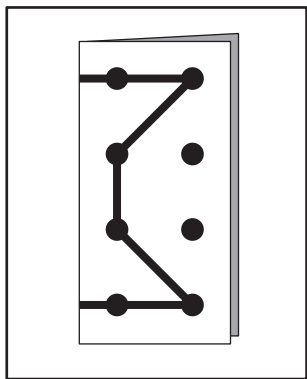

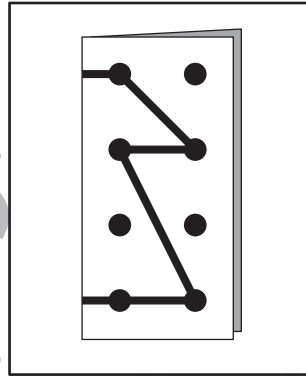

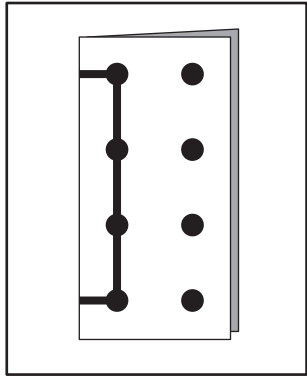


おうちで、やろう。

Study at home. 小学校受験の家庭学習教材

図形：切り抜き6

左の四角の中の折り紙を線のところではさみで切って広げました。切ったあとの形を考えて、右の四角にその形をかきます。



※1. このプリントは、しながわ・目黒こどもスクールのウェブサイトでダウンロードができます。無断複写・引用はご遠慮ください。
※2. このプリントを活用したオンライン授業のスケジュールは、しながわ・目黒こどもスクールのウェブサイトでご確認ください。


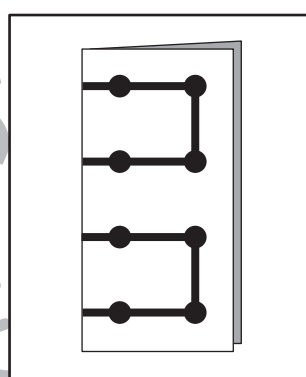

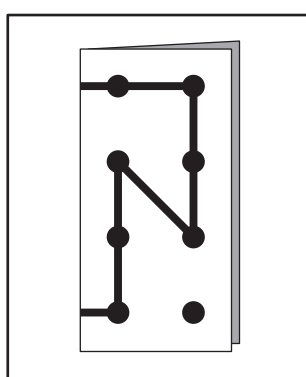

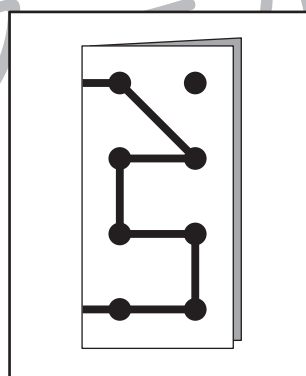

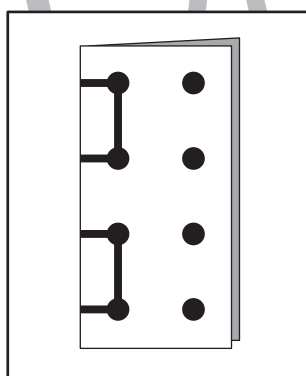

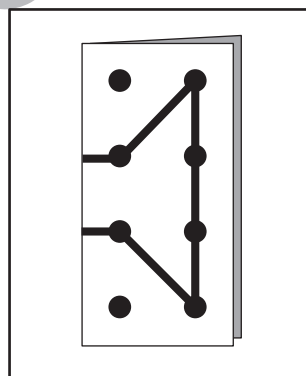

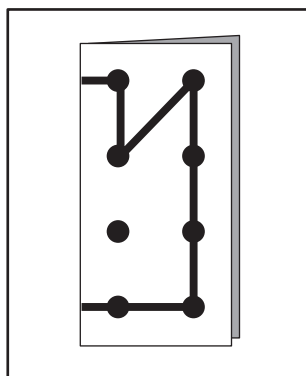

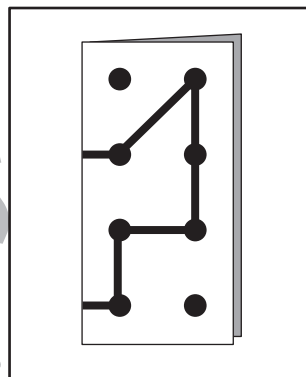

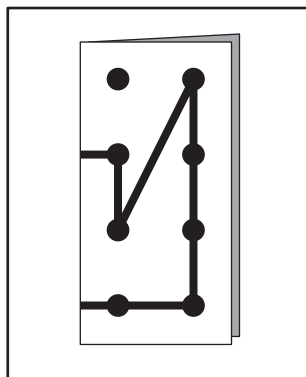


おうちで、やろう。

Study at home. 小学校受験の家庭学習教材

図形：切り抜き7

左の四角の中の折り紙を線のところではさみで切って広げました。切ったあとの形を考えて、右の四角にその形をかきます。



※1. このプリントは、しながわ・目黒こどもスクールのウェブサイトでダウンロードができます。無断複写・引用はご遠慮ください。
※2. このプリントを活用したオンライン授業のスケジュールは、しながわ・目黒こどもスクールのウェブサイトでご確認ください。



おうちで、やろう。

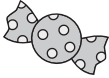


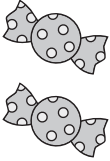

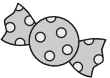






Study at home. 小学校受験の家庭学習教材

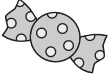


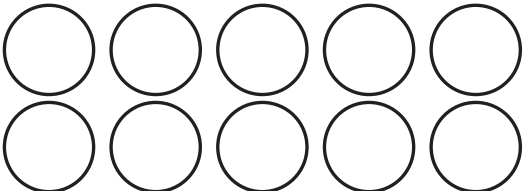
推理：ブラックボックス 12




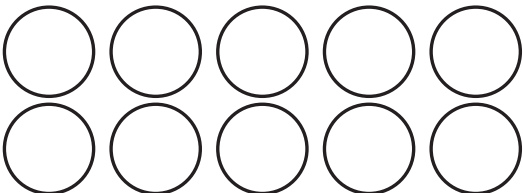
上の太い四角の中が約束です。




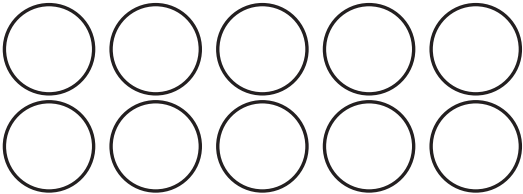
それぞれの箱に飴を入れると数が変わって出てきます。




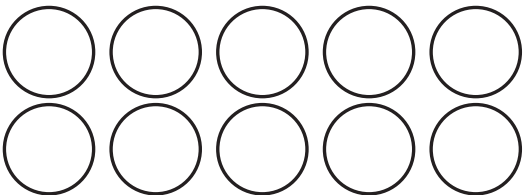
どんな約束があるかを考えて、左にある飴をそれぞれの箱の中に入れてあと、出てくる飴の数だけ右の○を塗ります。

 →  → 	 →  → 
 →  → 	 →  → 

 →  →  → 

 →  →  → 

 →  →  → 

 →  →  → 

※1. このプリントは、しながわ・目黒こどもスクールのウェブサイトからダウンロードできます。無断複写・引用はご遠慮ください。

※2. このプリントを活用したオンライン授業のスケジュールは、しながわ・目黒こどもスクールのウェブサイトでご確認ください。



おうちで、やろう。

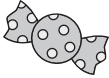


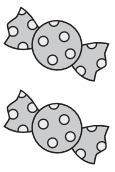








Study at home. 小学校受験の家庭学習教材

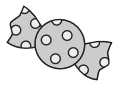



推理：ブラックボックス 13





上の太い四角の中が約束です。





それぞれの箱に飴を入れると数が変わって出てきます。





どんな約束があるかを考えて、左にある飴をそれぞれの箱の中に入れたあと、出てくる飴の数だけ右の○を塗ります。

 →  → 	 →  → 
 →  → 	 →  → 

 →  →  → 

 →  →  → 

 →  →  → 

 →  →  → 

※1. このプリントは、しながわ・目黒こどもスクールのウェブサイトでダウンロードができます。無断複写・引用はご遠慮ください。

※2. このプリントを活用したオンライン授業のスケジュールは、しながわ・目黒こどもスクールのウェブサイトでご確認ください。



おうちで、やろう。




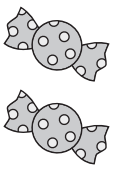


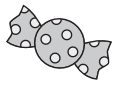





Study at home. 小学校受験の家庭学習教材






推理：ブラックボックス 14





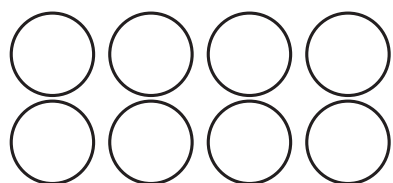
上の太い四角の中が約束です。






それぞれの箱に飴を入れると数が変わって出てきます。






どんな約束があるかを考えて、左にある飴をそれぞれの箱の中に入れたあと、出てくる飴の数だけ右の○を塗ります。

 →  → 	 →  → 
 →  → 	 →  → 

 →  →  →  → 

 →  →  →  → 

 →  →  →  → 

 →  →  →  → 

※1. このプリントは、しながわ・目黒こどもスクールのウェブサイトでダウンロードができます。無断複写・引用はご遠慮ください。

※2. このプリントを活用したオンライン授業のスケジュールは、しながわ・目黒こどもスクールのウェブサイトでご確認ください。










おうちで、やろう。

Study at home. 小学校受験の家庭学習教材

数量：条件推理 1

丸の中にはそれぞれの動物が持っているボールの数だけ●があり、四角の中には上の動物たちのボールを合わせた数だけ●があります。このとき、あいている太い丸、太い四角の中にあるボールの数だけ黒丸をかきます。



※1. このプリントは、しながわ・目黒こどもスクールのウェブサイトでダウンロードができます。無断複写・引用はご遠慮ください。

※2. このプリントを活用したオンライン授業のスケジュールは、しながわ・目黒こどもスクールのウェブサイトでご確認ください。













おうちで、やろう。

Study at home. 小学校受験の家庭学習教材

数量：条件推理2

丸の中にはそれぞれの動物が持っているボールの数だけ●があり、四角の中には上の動物たちのボールを合わせた数だけ●があります。このとき、あいている太い丸、太い四角の中にあるボールの数だけ黒丸をかきます。



※1. このプリントは、しながわ・目黒こどもスクールのウェブサイトでダウンロードができます。無断複写・引用はご遠慮ください。
※2. このプリントを活用したオンライン授業のスケジュールは、しながわ・目黒こどもスクールのウェブサイトでご確認ください。