













おうちで、やろう。

Study at home. 小学校受験の家庭学習教材

指示の聞き取り 27

それぞれの設問に答えましょう。指示は一度ですべて読み上げます。しっかり聞いて取り組みましょう。

- ①×の2つ上のマスにある果物に○をつけます。
- ②黒丸の1つ左のマスに赤色のクーピーで塗ります。
- ③下から2番目の段にある果物に口をつけます。
- ④さくらんぼと同じ段にある果物に△をつけます。

| | | | | | |
|---|---|---|--|---|---|
| | |  | |  |  |
| |  | | | | |
| | | | | |  |
| | |  | | | |
|  | | | | | |
| | | |  | |  |
|  | | | | | |



おうちで、やろう。

Study at home. 小学校受験の家庭学習教材

言語：おわりの音 15

左上の太い四角の中の絵の終わりの音と同じおわりの音の絵を、大きい四角の中から探して○をつけます。

Illustration of a bear in a thick square box.

Illustrations of a Daruma doll, a pine cone, a pufferfish, a car, an onion, and a horse.

Illustration of an airplane in a thick square box.

Illustrations of a fox, a tomato, a house, a giraffe, a pancake, and a mushroom.

※1. このプリントは、しながわ・目黒こどもスクールのウェブサイトでダウンロードができます。無断複写・引用はご遠慮ください。

※2. このプリントを活用したオンライン授業のスケジュールは、しながわ・目黒こどもスクールのウェブサイトでご確認ください。


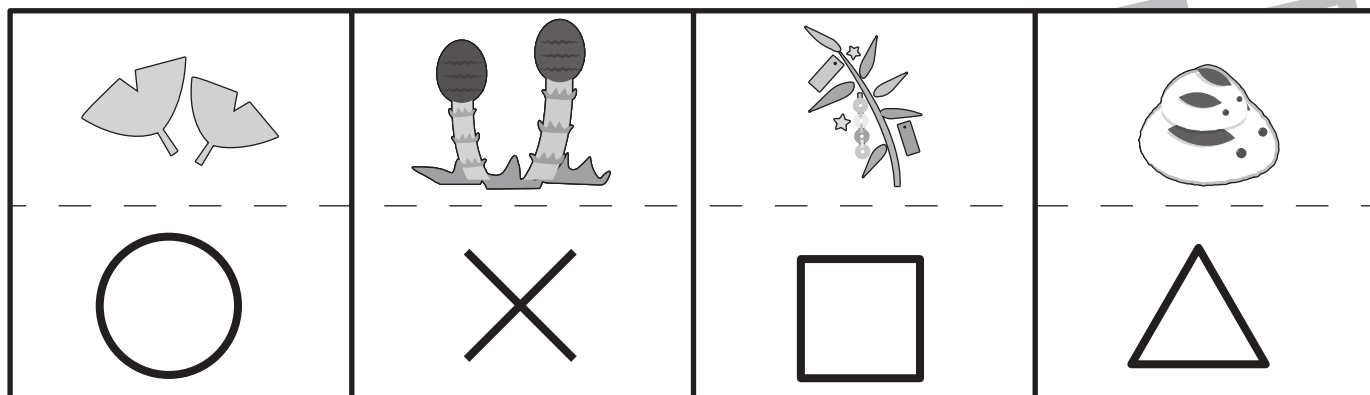


おうちで、やろう。

Study at home. 小学校受験の家庭学習教材

常識：季節 14

上の四角の中の絵と同じ季節の絵にそれぞれの形をつけます。



※1. このプリントは、しながわ・目黒こどもスクールのウェブサイトでダウンロードができます。無断複写・引用はご遠慮ください。

※2. このプリントを活用したオンライン授業のスケジュールは、しながわ・目黒こどもスクールのウェブサイトでご確認ください。

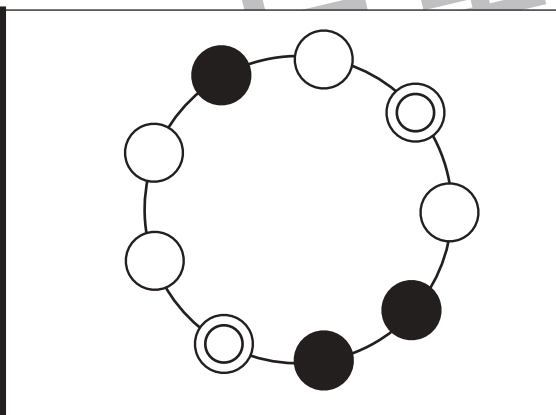
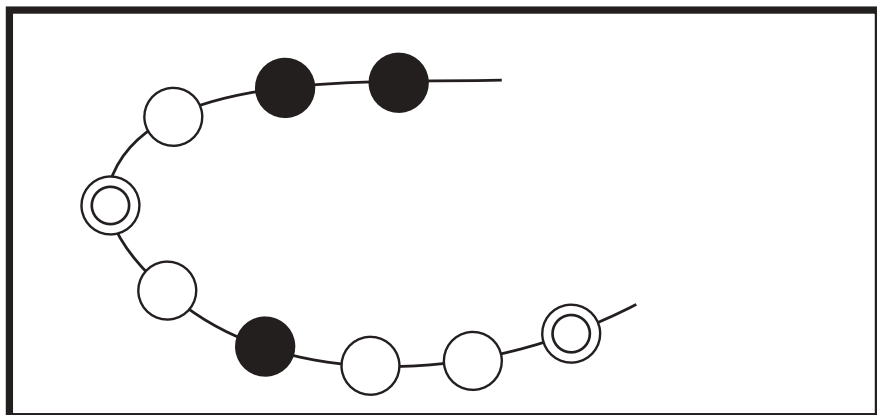
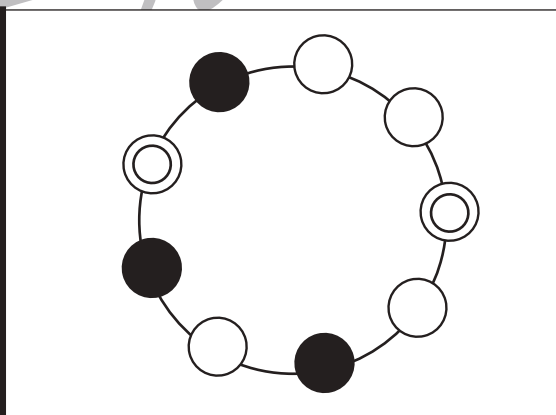
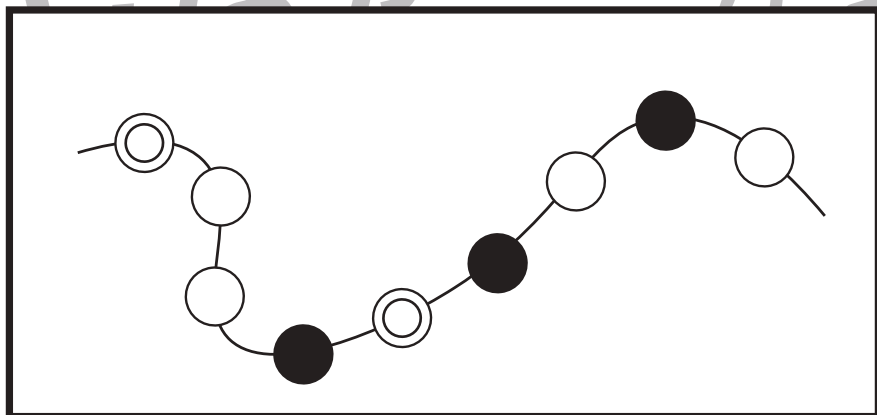
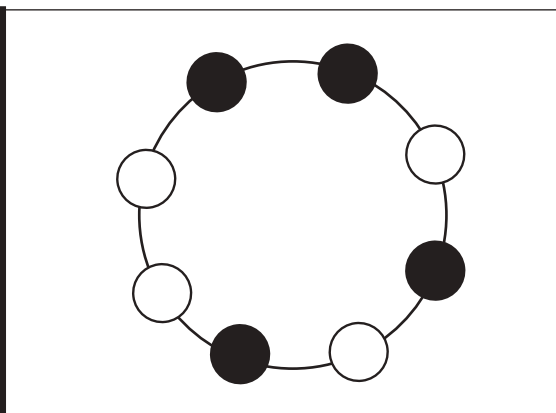
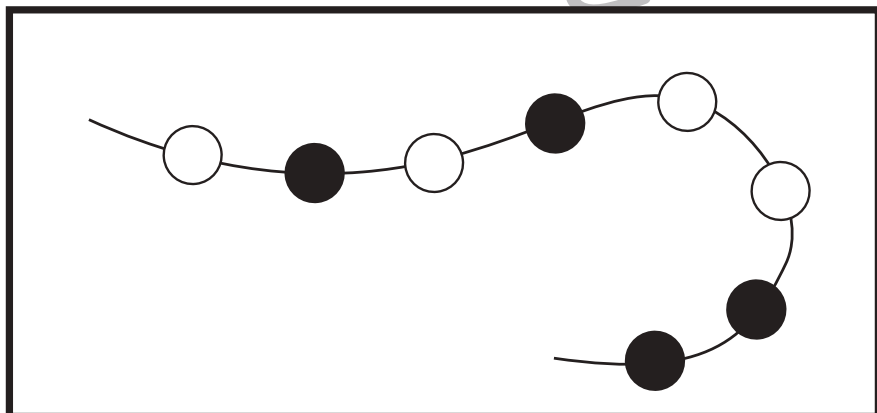
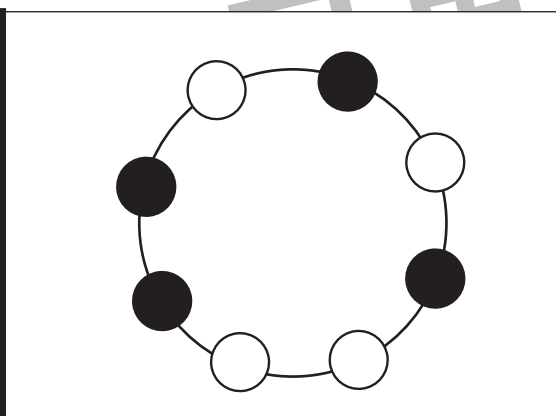
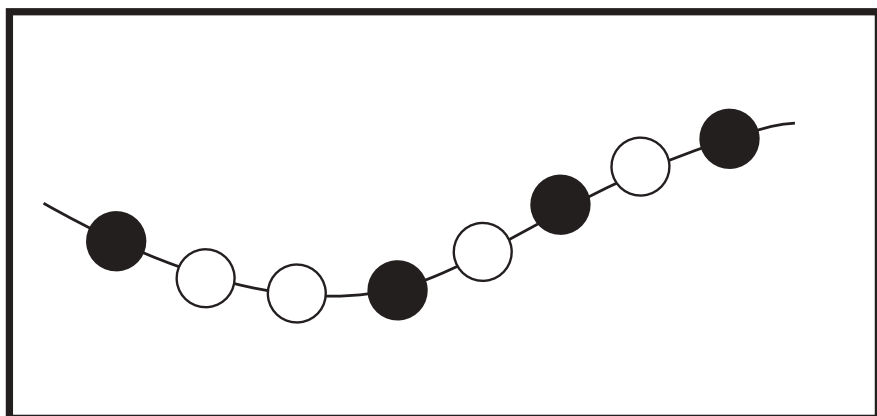


おうちで、やろう。

Study at home. 小学校受験の家庭学習教材

推理：輪つなぎ7

太い四角の中と同じ順番になるにはどこで切ったらよいかを考えて、右の四角の中の図に線をひきます。



※1. このプリントは、しながわ・目黒こどもスクールのウェブサイトでダウンロードができます。無断複写・引用はご遠慮ください。
※2. このプリントを活用したオンライン授業のスケジュールは、しながわ・目黒こどもスクールのウェブサイトでご確認ください。




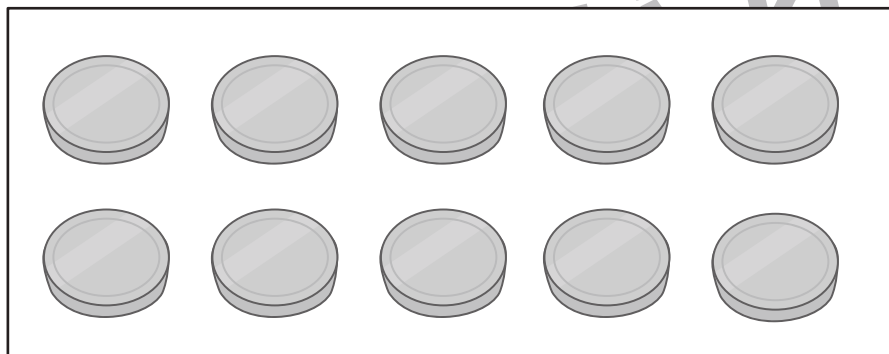
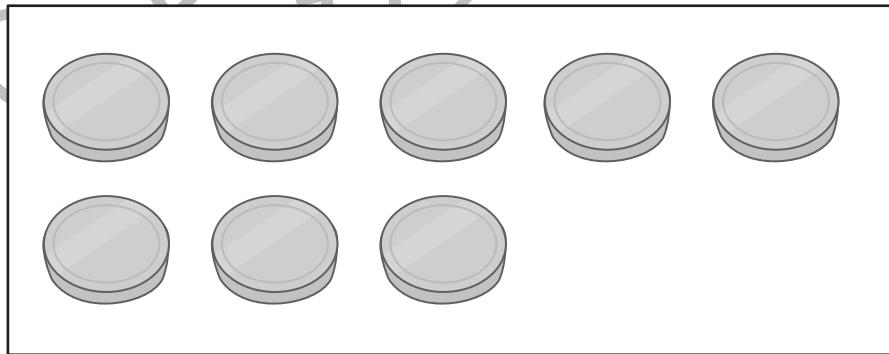

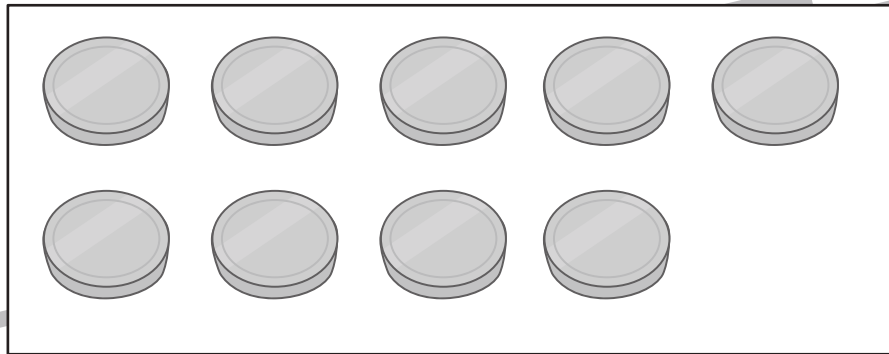
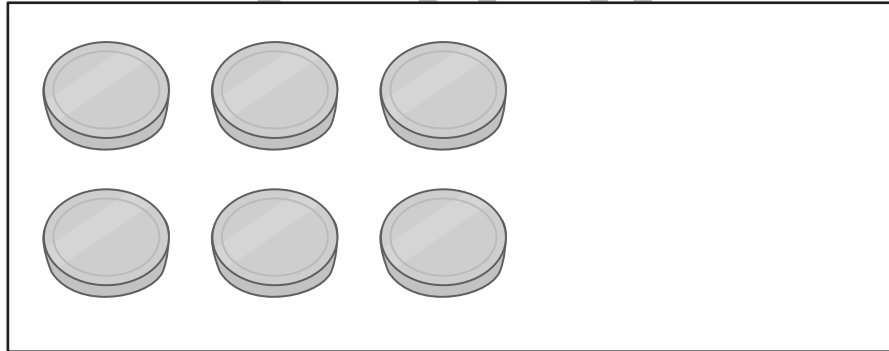
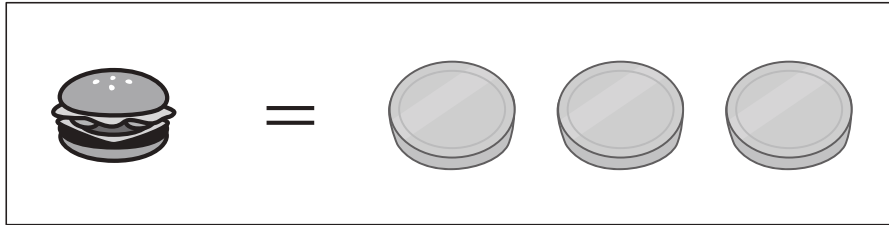


おうちで、よろう。

Study at home. 小学校受験の家庭学習教材

数量：置き換え 18

上の四角が約束です。この約束で何個ハンバーガーをもらえるかを考えてその数だけ右の四角の中に○をかきます。



※1. このプリントは、しながわ・目黒こどもスクールのウェブサイトでダウンロードができます。無断複写・引用はご遠慮ください。
※2. このプリントを活用したオンライン授業のスケジュールは、しながわ・目黒こどもスクールのウェブサイトでご確認ください。




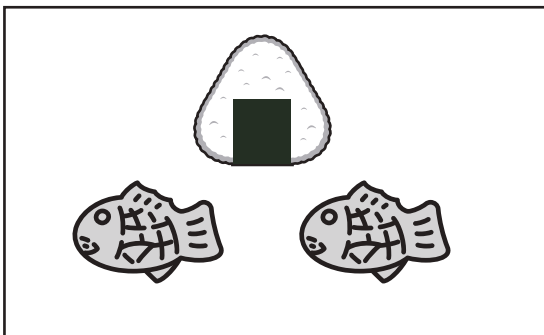


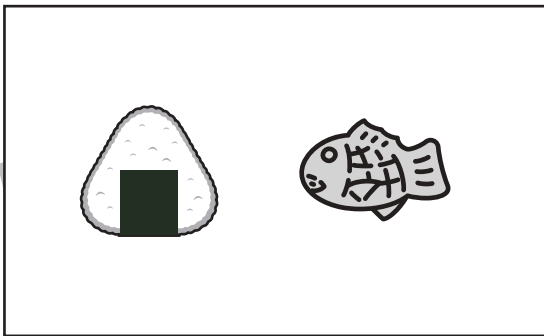

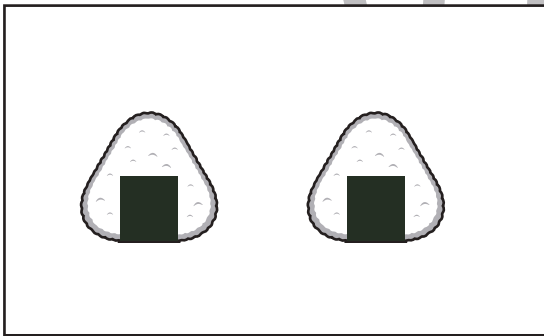
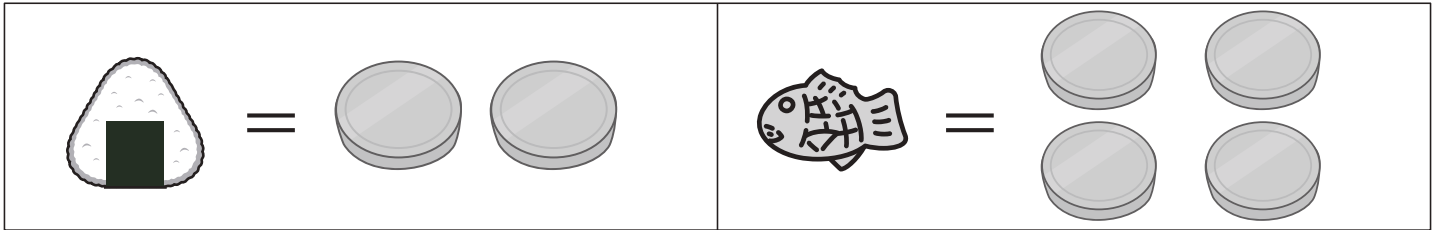


おうちで、やろう。

Study at home. 小学校受験の家庭学習教材

数量：置き換え 19

上の四角が約束です。この約束でそれぞれコインが何枚必要かを考えてその数だけ右の四角の中に○をかきます。



※1. このプリントは、しながわ・目黒こどもスクールのウェブサイトでダウンロードができます。無断複写・引用はご遠慮ください。
 ※2. このプリントを活用したオンライン授業のスケジュールは、しながわ・目黒こどもスクールのウェブサイトでご確認ください。





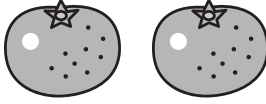






おうちで、やろう。

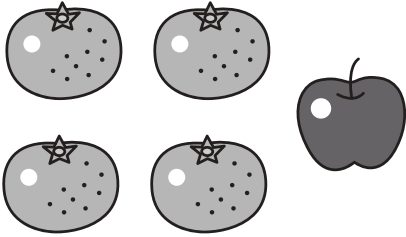

Study at home. 小学校受験の家庭学習教材



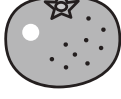

数量：置き換え 20




上の四角の約束のとおりに果物を全てをコインに変えます。このとき何枚になるかを考えて右の四角に〇をかきます。

| | | |
|--|---|--|
|   |   |   |
|--|---|--|

| | |
|---|--|
|    | |
|---|--|

| | |
|--|--|
|   | |
|--|--|

| | |
|--|--|
|     | |
|--|--|

| | |
|---|--|
|    | |
|---|--|

※1. このプリントは、しながわ・目黒こどもスクールのウェブサイトでダウンロードができます。無断複写・引用はご遠慮ください。
 ※2. このプリントを活用したオンライン授業のスケジュールは、しながわ・目黒こどもスクールのウェブサイトでご確認ください。


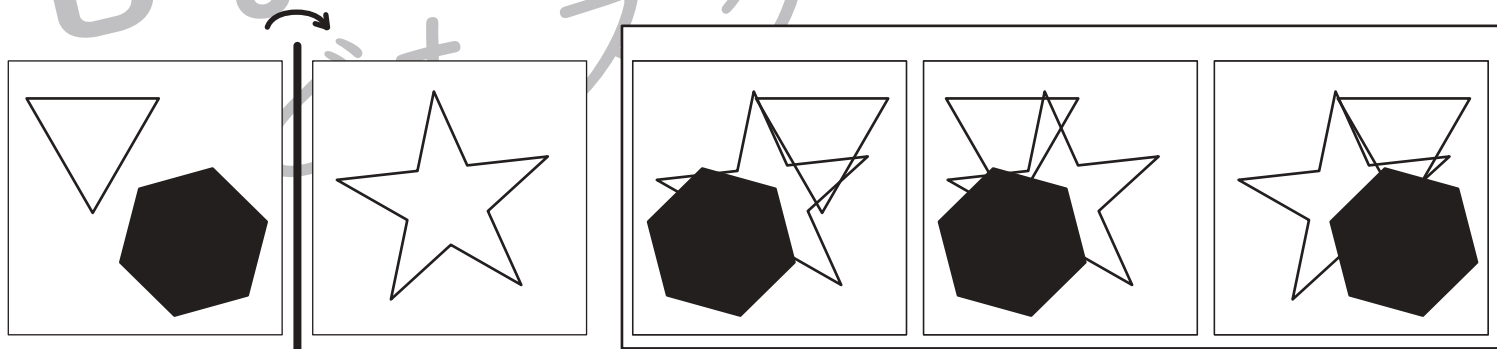

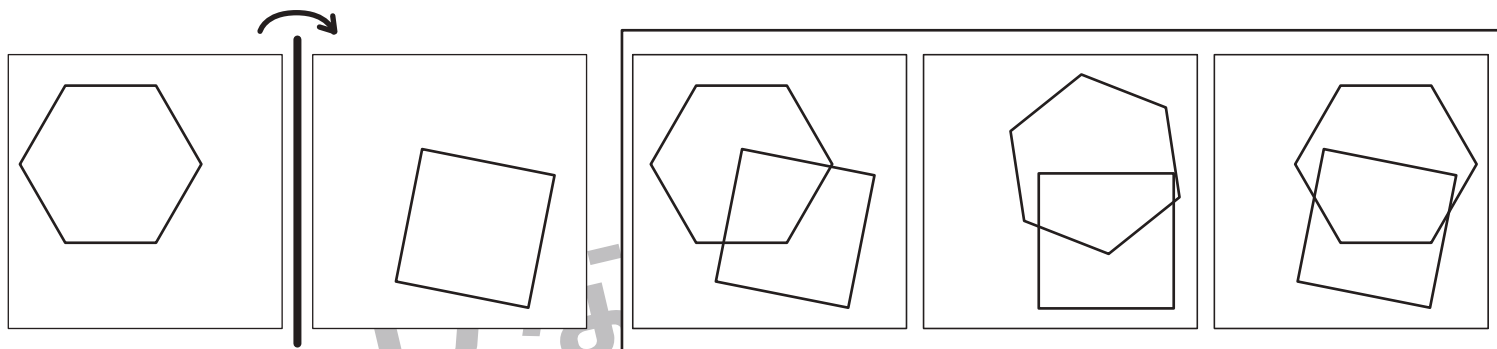


おうちで、やろう。

Study at home. 小学校受験の家庭学習教材

図形：折り重ね 27

左の四角を太い線で矢印の方向に折ってぴったり重ね合わせた時の見え方を考えて○をつけます。



※1. このプリントは、しながわ・目黒こどもスクールのウェブサイトでダウンロードができます。無断複写・引用はご遠慮ください。
 ※2. このプリントを活用したオンライン授業のスケジュールは、しながわ・目黒こどもスクールのウェブサイトでご確認ください。

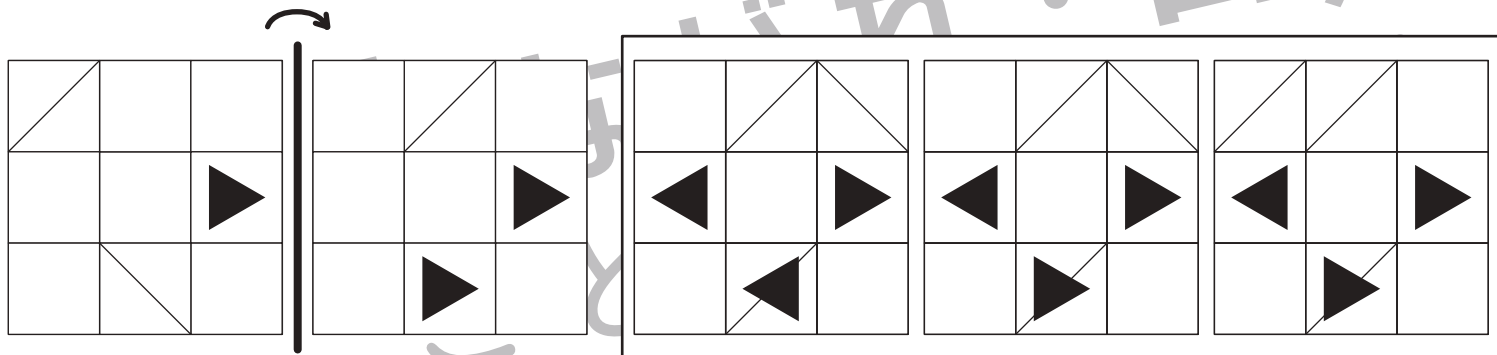
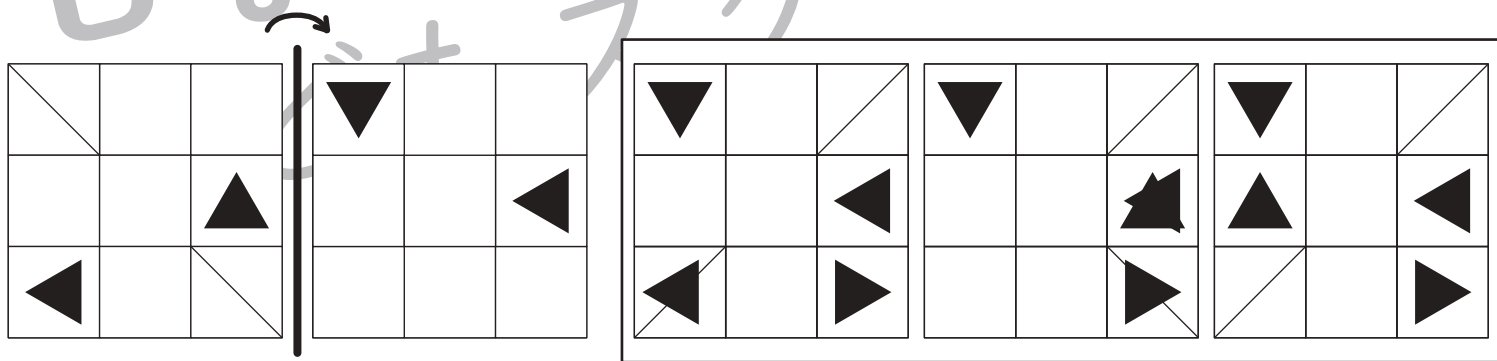
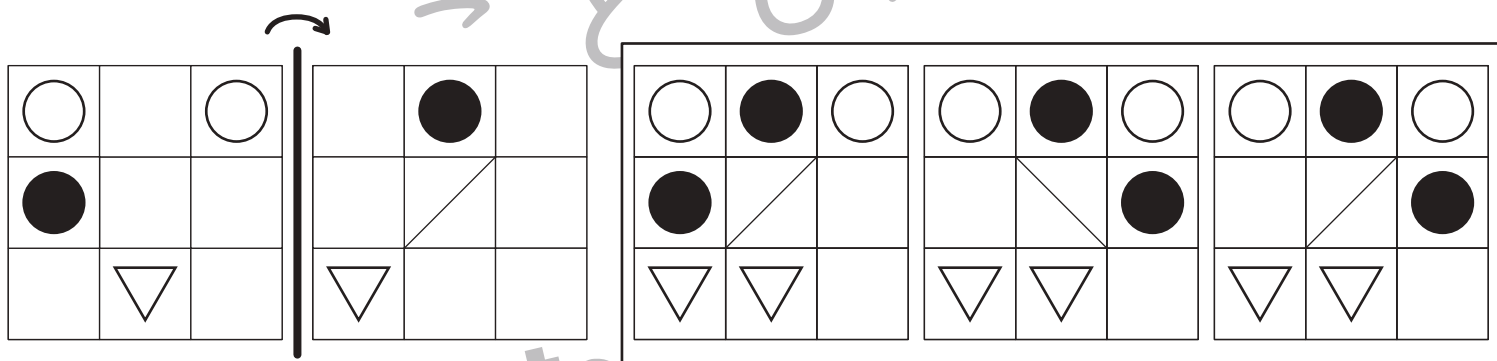
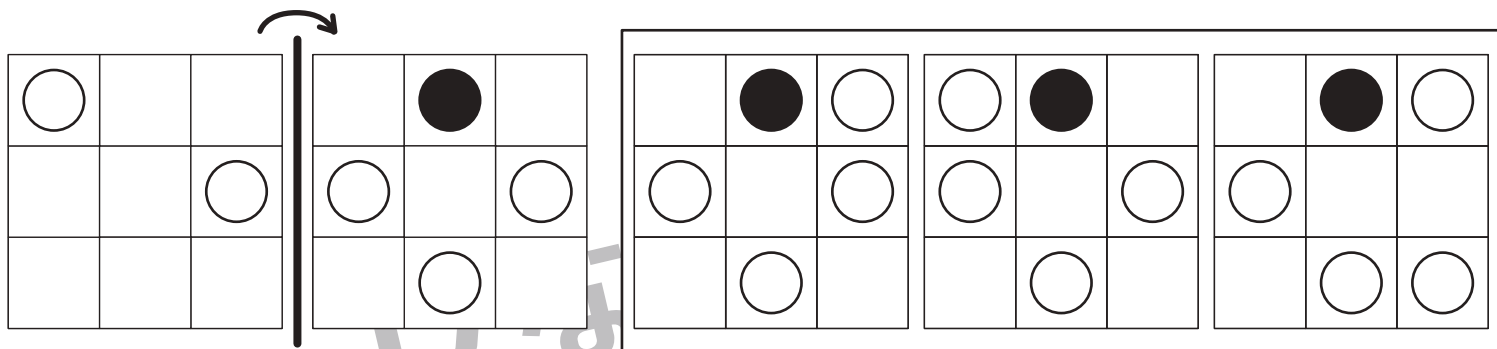


おうちで、やろう。

Study at home. 小学校受験の家庭学習教材

図形：折り重ね 28

左の四角を太い線で矢印の方向に折ってぴったり重ね合わせた時の見え方を考えて○をつけます。



※1. このプリントは、しながわ・目黒こどもスクールのウェブサイトでダウンロードができます。無断複写・引用はご遠慮ください。
 ※2. このプリントを活用したオンライン授業のスケジュールは、しながわ・目黒こどもスクールのウェブサイトでご確認ください。


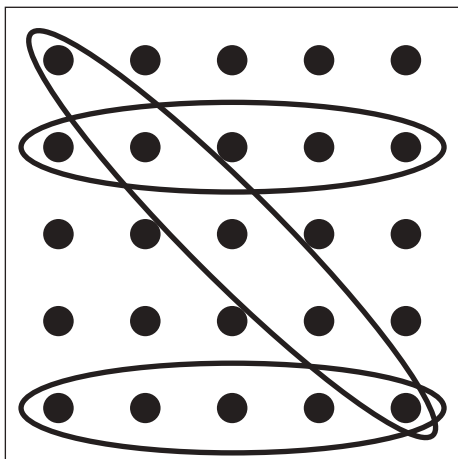

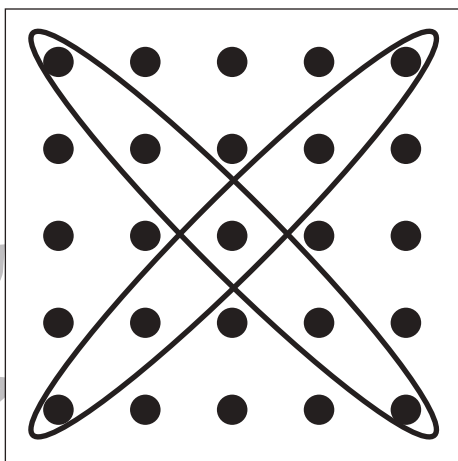

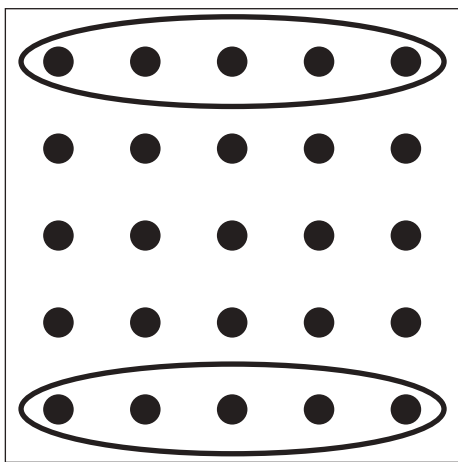


おうちで、やろう。

Study at home. 小学校受験の家庭学習教材

図形：点図形 23

左の点図形を同じように右にかきます。点にぶつからないように丁寧に書きましょう。(※この問題には解答がありません)



※1. このプリントは、しながわ・目黒こどもスクールのウェブサイトでダウンロードができます。無断複写・引用はご遠慮ください。
※2. このプリントを活用したオンライン授業のスケジュールは、しながわ・目黒こどもスクールのウェブサイトでご確認ください。

