



おうちで、やろう。

Study at home. 小学校受験の家庭学習教材

指示の聞き取り 28

それぞれの設問に答えましょう。指示は一度ですべて読み上げます。しっかり聞いて取り組みましょう。

- ①○と□の間にとんがりが左向きの三角を青のクーピーでかきます。
- ②左の形を黄色、右の形を緑色のクーピーで塗ります。
- ③左下の四角形を濃く、右上の四角を薄く鉛筆で塗ります。

①

青

②

黄色

緑

③

濃く

薄く

※1. このプリントは、しながわ・目黒こどもスクールのウェブサイトからダウンロードできます。無断複写・引用はご遠慮ください。

※2. このプリントを活用したオンライン授業のスケジュールは、しながわ・目黒こどもスクールのウェブサイトでご確認ください。

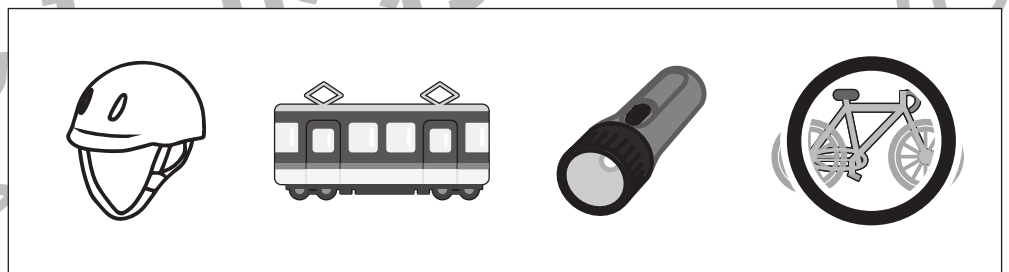






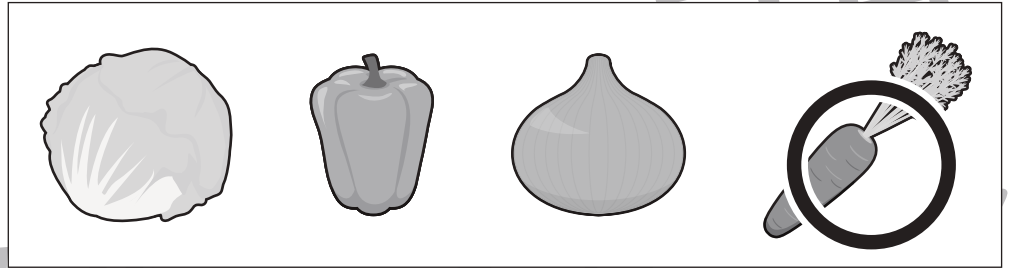



おうちで、やろう。

Study at home. 小学校受験の家庭学習教材

言語：数え方7

左の四角の中と同じ数え方をするものを右の四角の中から選んで○をつけます。



※1. このプリントは、しながわ・目黒こどもスクールのウェブサイトでダウンロードができます。無断複写・引用はご遠慮ください。
※2. このプリントを活用したオンライン授業のスケジュールは、しながわ・目黒こどもスクールのウェブサイトでご確認ください。



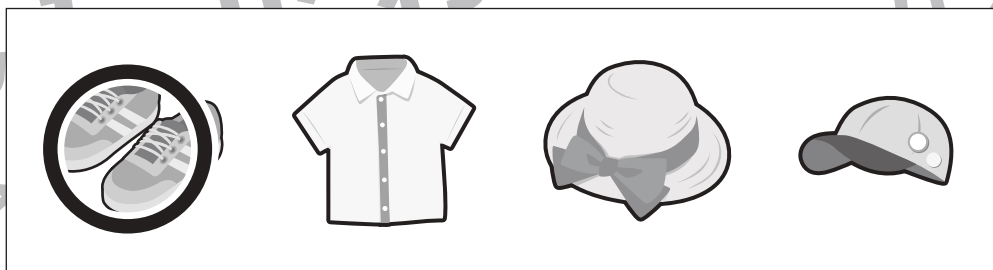
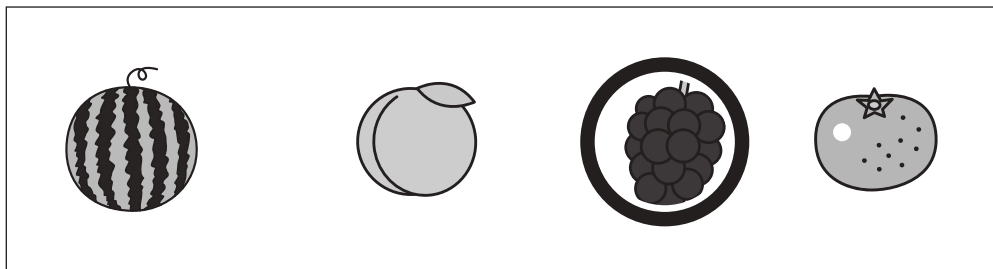
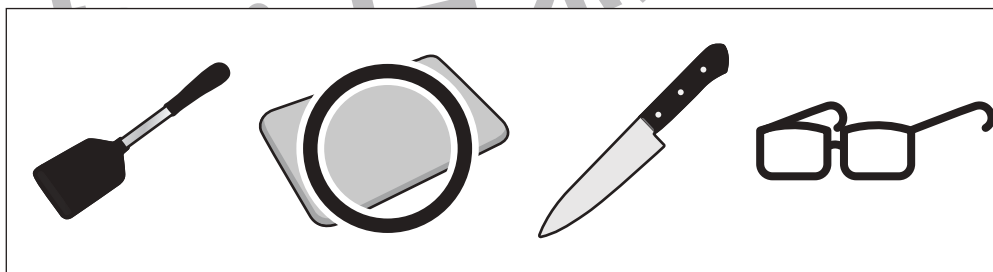
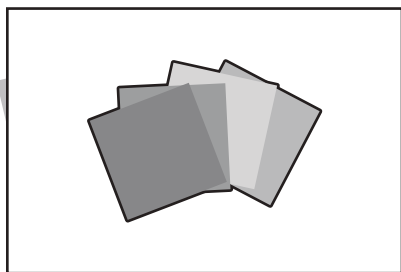






おうちで、やろう。

Study at home. 小学校受験の家庭学習教材

言語：数え方 8

左の四角の中と同じ数え方をするものを右の中から見つけて○をつけます。



※1. このプリントは、しながわ・目黒こどもスクールのウェブサイトでダウンロードができます。無断複写・引用はご遠慮ください。
※2. このプリントを活用したオンライン授業のスケジュールは、しながわ・目黒こどもスクールのウェブサイトでご確認ください。





おうちで、やろう。













Study at home. 小学校受験の家庭学習教材




推理：ブラックボックス 15



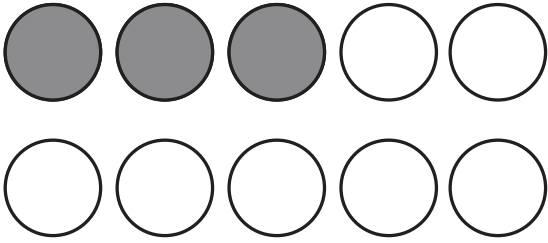
上の太い四角の中が約束です。




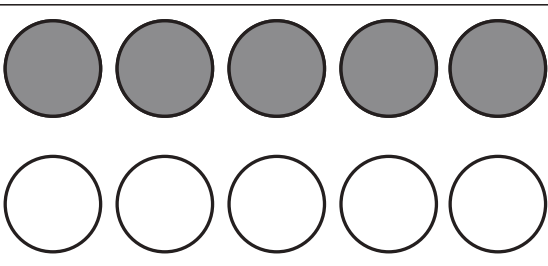
それぞれの箱に果物を入れると数が変わって出てきます。




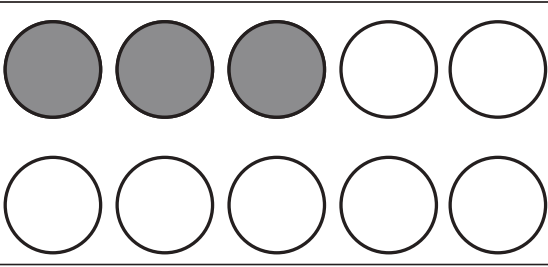
どんな約束があるかを考えて、箱から出てきた数だけ右の四角の中の○を塗ります。

	→		→	
	→		→	
	→		→	
	→		→	

	→		→	
---	---	---	---	---

	→		→	
---	---	---	---	--

	→		→		→	
--	---	---	---	---	---	--

	→		→		→	
--	---	---	---	---	---	--

※1. このプリントは、しながわ・目黒こどもスクールのウェブサイトダウンロードができます。無断複写・引用はご遠慮ください。

※2. このプリントを活用したオンライン授業のスケジュールは、しながわ・目黒こどもスクールのウェブサイトでご確認ください。















おうちで、やろう。





Study at home. 小学校受験の家庭学習教材





推理：ブラックボックス 16






上の太い四角の中が約束です。
それぞれの箱に果物を入れると数が変わって出てきます。
どんな約束があるかを考えて、箱から出てきた数だけ右の四角の中の○を塗ります。

 →  → 	 →  → 
 →  → 	 →  → 

 →  →  → 

 →  →  → 

 →  →  → 
--

 →  →  →  → 

※1. このプリントは、しながわ・目黒こどもスクールのウェブサイトでダウンロードができます。無断複写・引用はご遠慮ください。
※2. このプリントを活用したオンライン授業のスケジュールは、しながわ・目黒こどもスクールのウェブサイトでご確認ください。

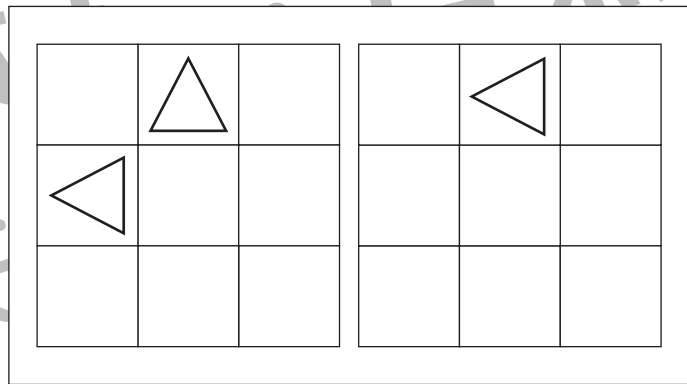
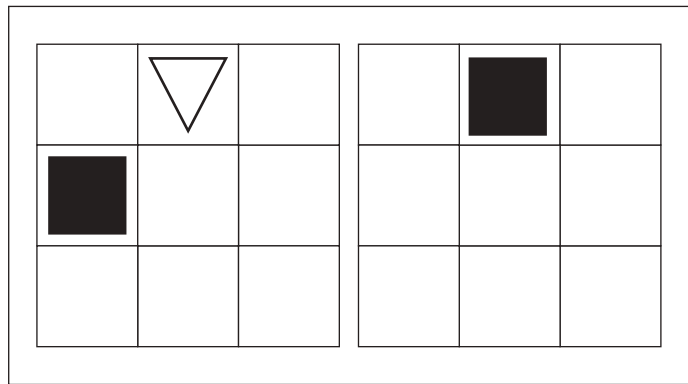
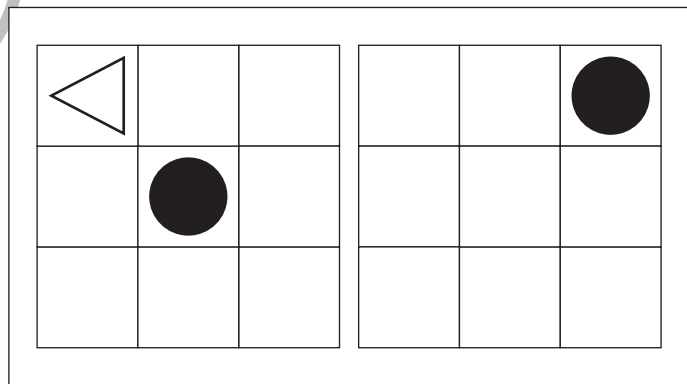
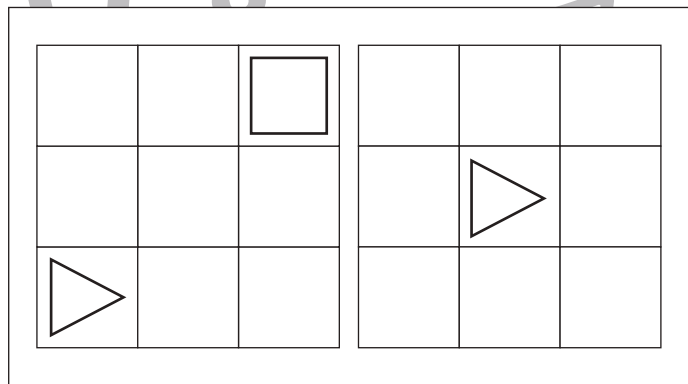
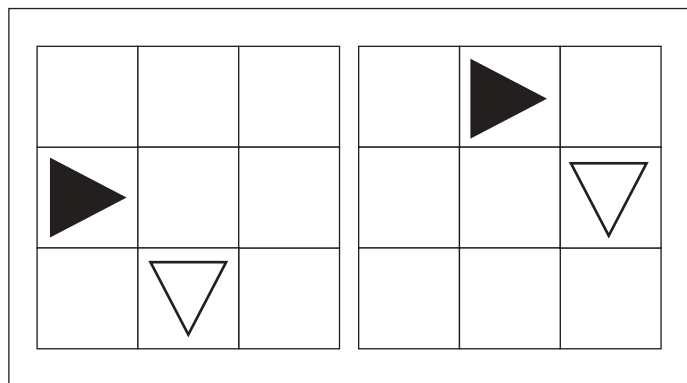
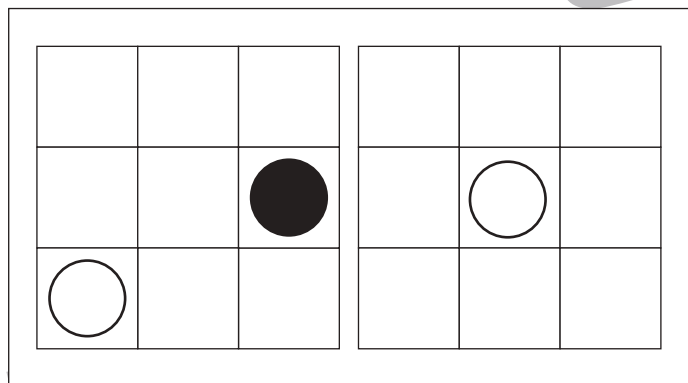
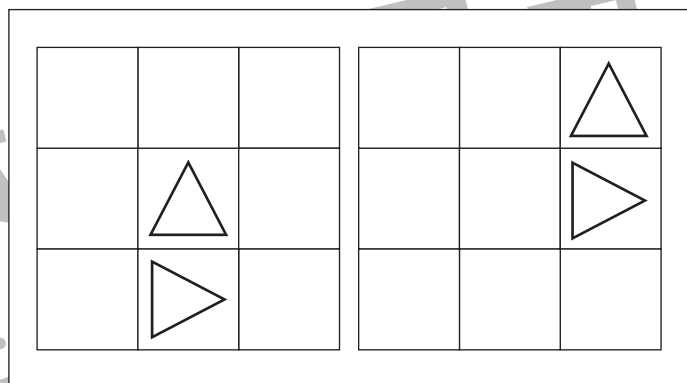
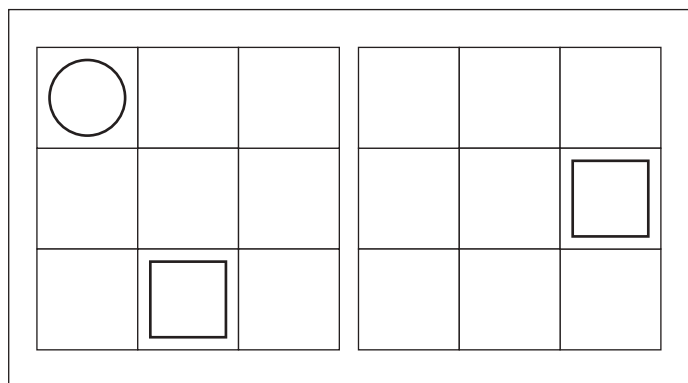


おうちで、やろう。

Study at home. 小学校受験の家庭学習教材

図形：移動 23

左の四角がお手本です。このお手本の形をすべて右に 1 マス、上に 1 マス動かします。
動かした後のそれぞれの場所を考えて、右の四角の中にそれぞれの形をかきます。
ただし、移動したあとマスからはみ出す記号は書きません。



※ 1. このプリントは、しながわ・目黒こどもスクールのウェブサイトでダウンロードができます。無断複写・引用はご遠慮ください。
※ 2. このプリントを活用したオンライン授業のスケジュールは、しながわ・目黒こどもスクールのウェブサイトでご確認ください。

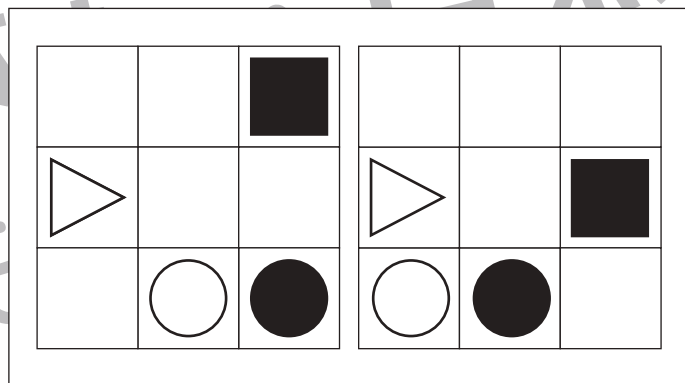
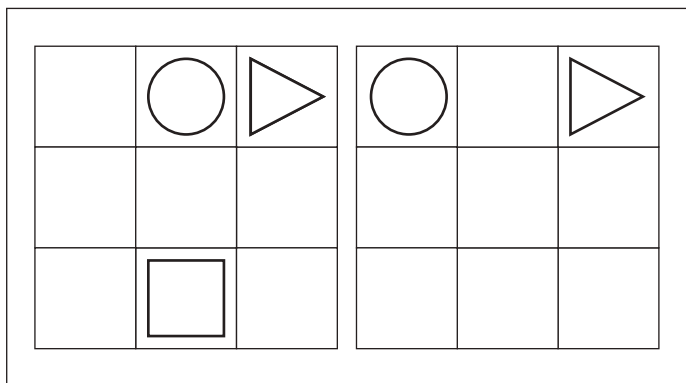
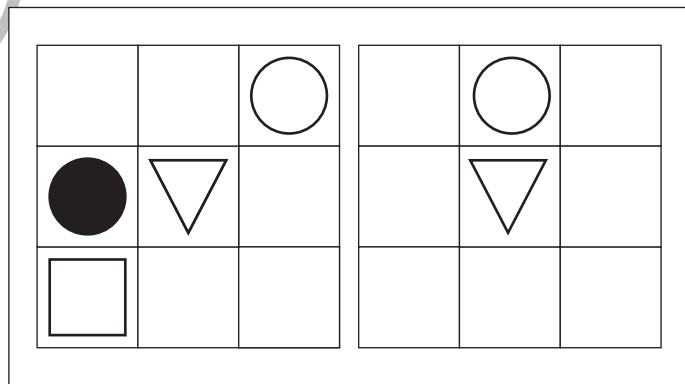
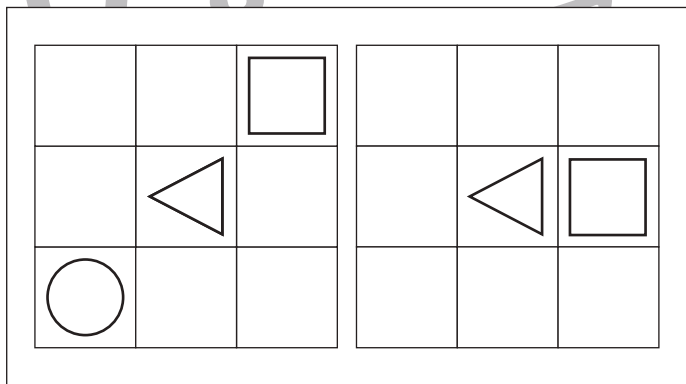
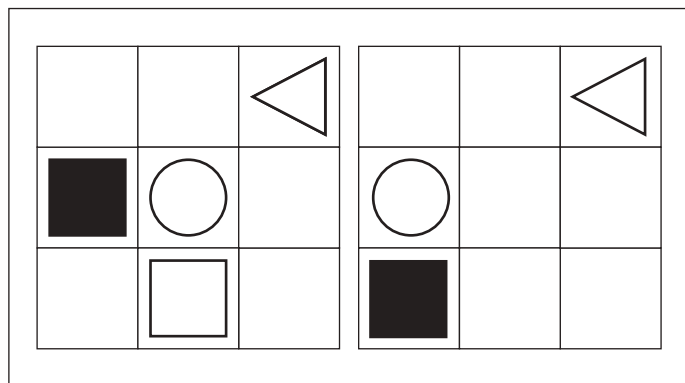
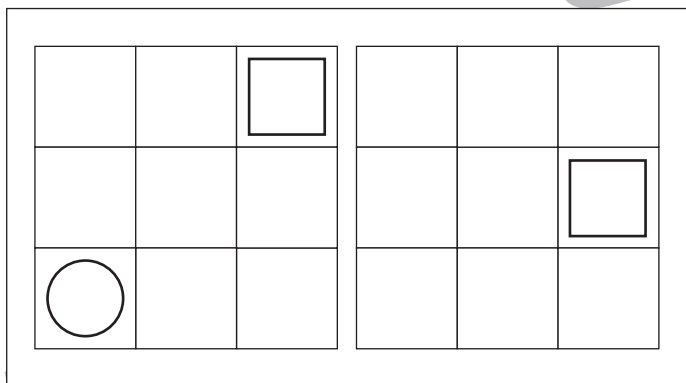
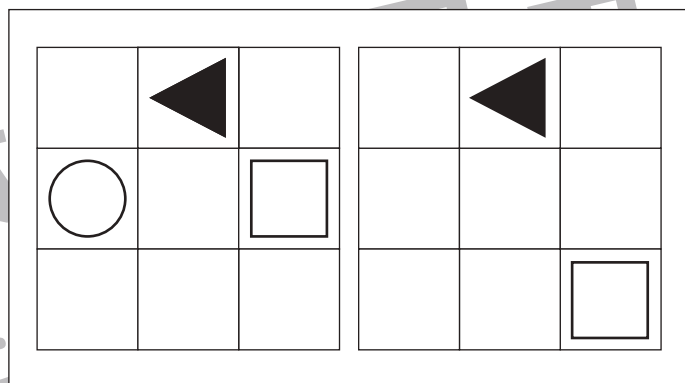



おうちで、やろう。

Study at home. 小学校受験の家庭学習教材

図形：移動 24

左の四角がお手本です。このお手本の○と●を左に1マス、□と■を下に1マス動かしてその他の形は動かしません。
このとき、四角の中にある記号をすべて右の四角に書きます。
ただし、移動したあとマスからはみ出す記号は書きません。



※1. このプリントは、しながわ・目黒こどもスクールのウェブサイトでダウンロードができます。無断複写・引用はご遠慮ください。
※2. このプリントを活用したオンライン授業のスケジュールは、しながわ・目黒こどもスクールのウェブサイトでご確認ください。




おうちで、やろう。


Study at home. 小学校受験の家庭学習教材

数量：隠れた数6


それぞれの四角の中のマスには同じ動物がいます。灰色で隠れている場所にいる動物の数を考えて、その数だけ下の太い四角の中に○をかきます。




$$\bigcirc \times 4$$



$$\bigcirc \times 4$$



$$\bigcirc \times 3$$



$$\bigcirc \times 5$$

※1. このプリントは、しながわ・目黒こどもスクールのウェブサイトからダウンロードできます。無断複写・引用はご遠慮ください。
 ※2. このプリントを活用したオンライン授業のスケジュールは、しながわ・目黒こどもスクールのウェブサイトでご確認ください。




おうちで、やろう。


Study at home. 小学校受験の家庭学習教材

数量：隠れた数7

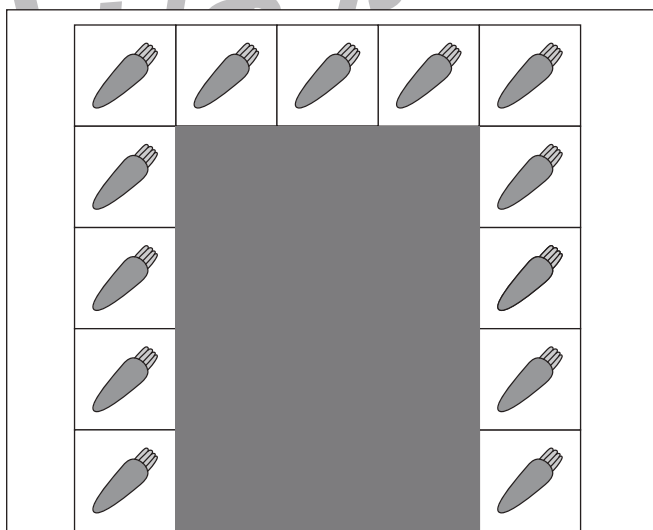
それぞれの四角の中のマスには同じ野菜があります。灰色で隠れている場所にある野菜の数を考えて、その数だけ下の太い四角の中に○をかきます。




○×9



○×11



○×12



○×13

※1. このプリントは、しながわ・目黒こどもスクールのウェブサイトでダウンロードができます。無断複写・引用はご遠慮ください。
 ※2. このプリントを活用したオンライン授業のスケジュールは、しながわ・目黒こどもスクールのウェブサイトでご確認ください。

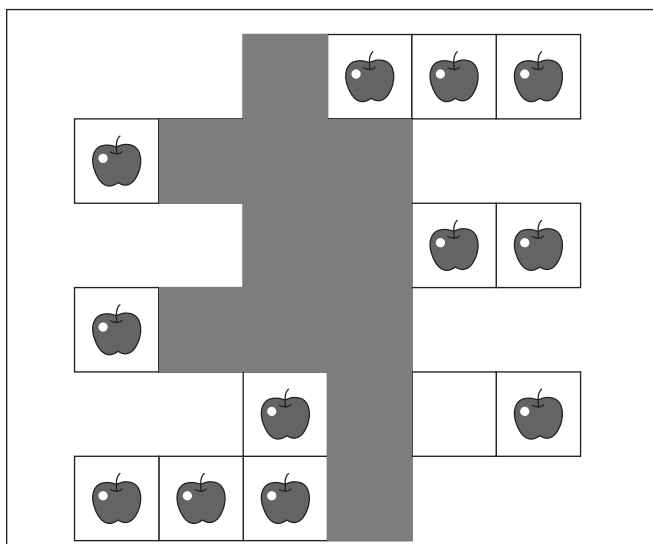


おうちで、やろう。

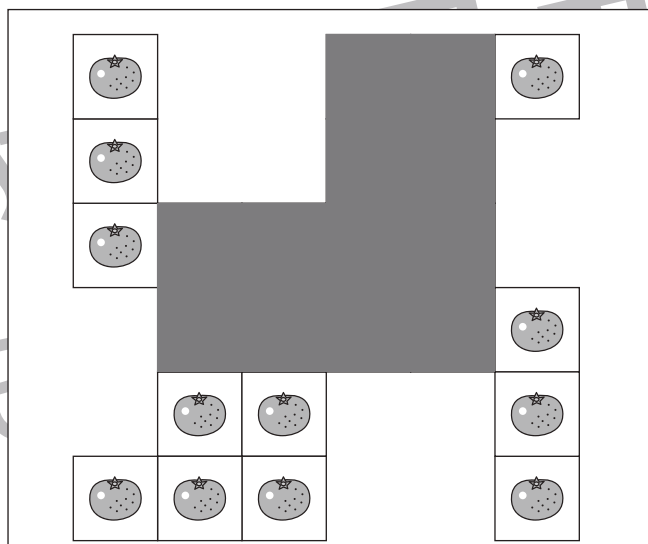
Study at home. 小学校受験の家庭学習教材

数量：隠れた数 8

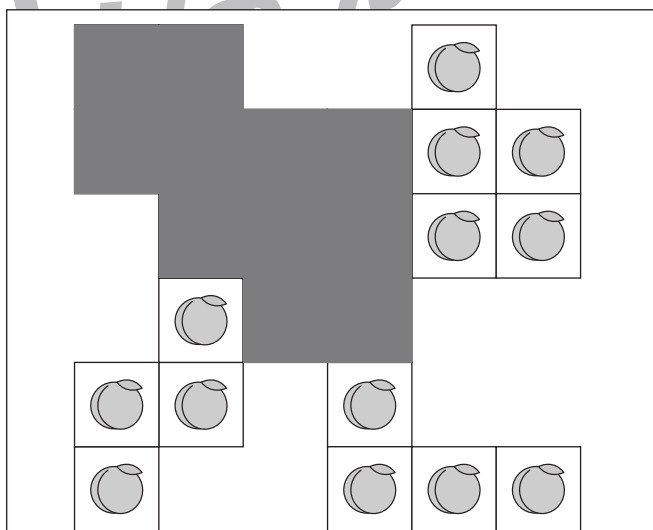
それぞれの四角の中のマスには同じ果物があります。灰色で隠れている場所にある果物の数を考えて、その数だけ下の太い四角の中に○をかきます。



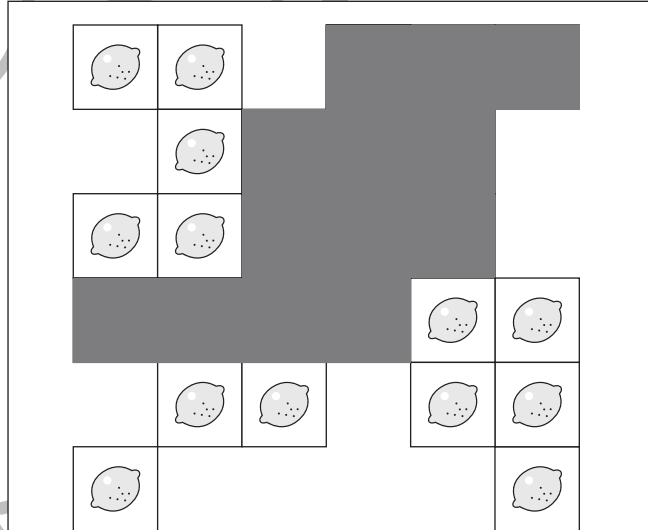
○×11



○×12



○×11



○×13

※1. このプリントは、しながわ・目黒こどもスクールのウェブサイトでダウンロードができます。無断複写・引用はご遠慮ください。
※2. このプリントを活用したオンライン授業のスケジュールは、しながわ・目黒こどもスクールのウェブサイトでご確認ください。