

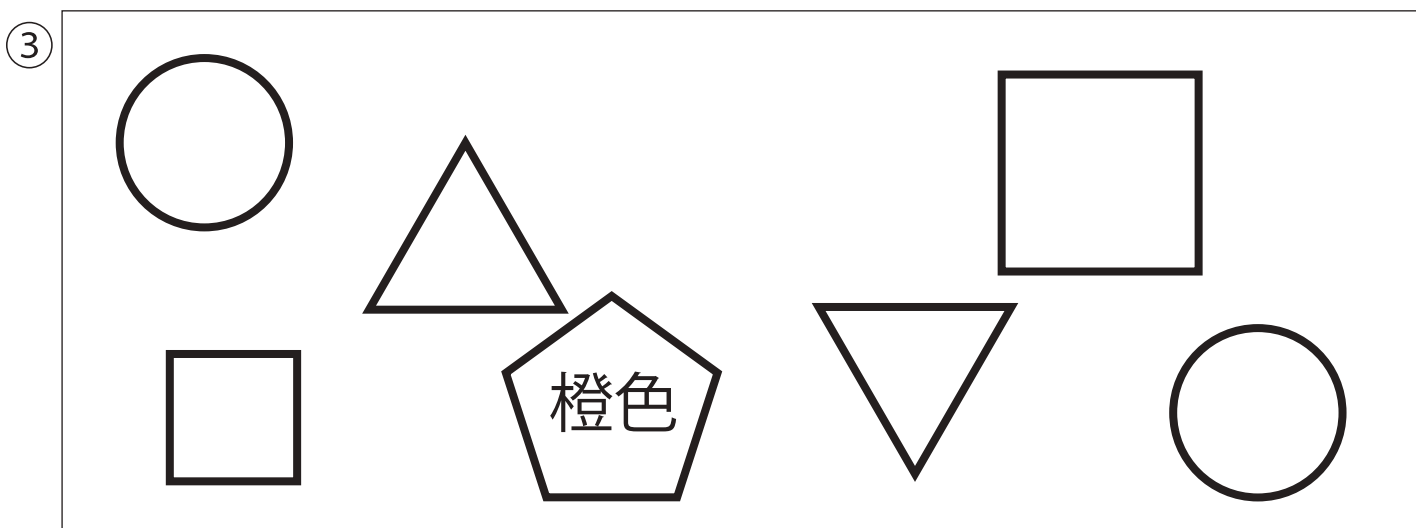
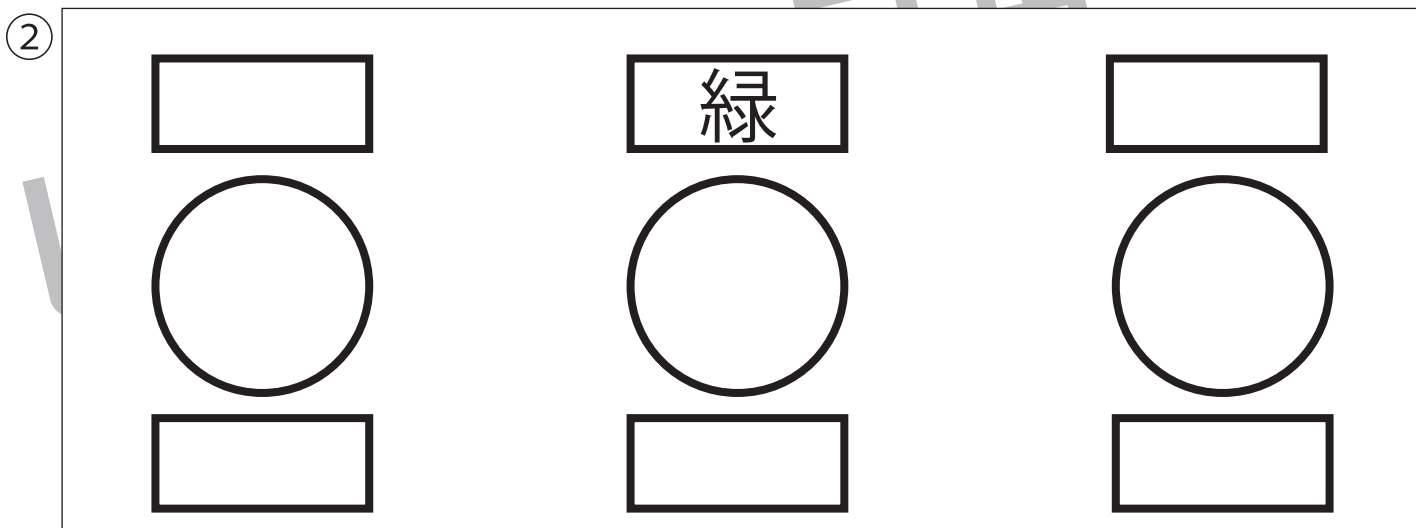
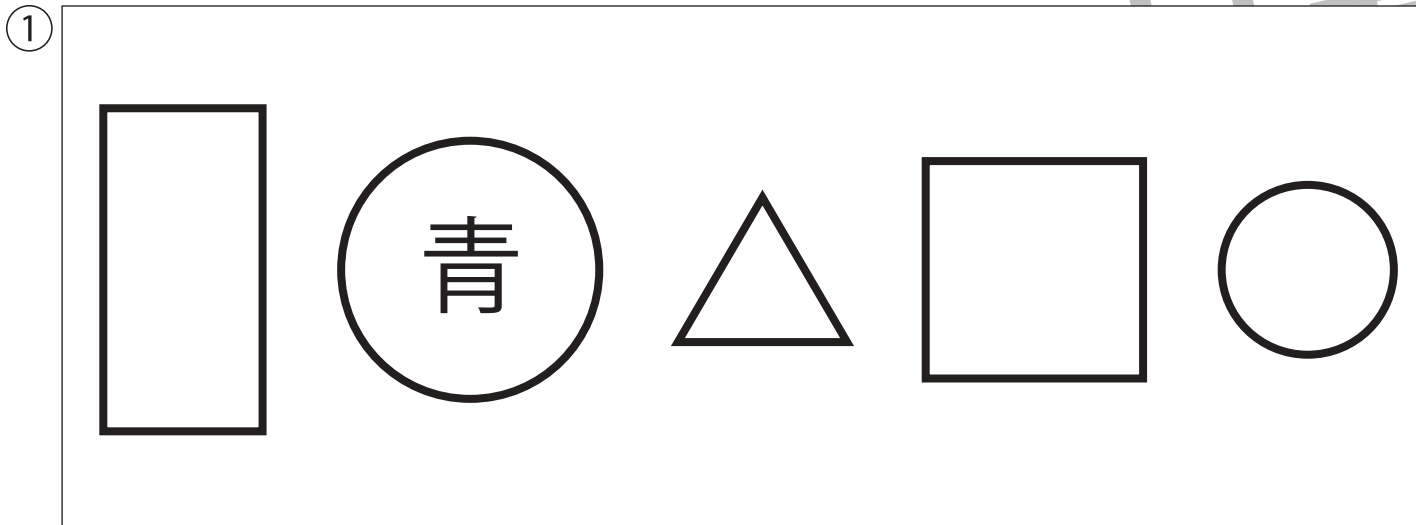


お話を聞いて、それぞれの図形を塗ります。

①左から二番目の図形を、青色のクーピーで塗ります。

②真ん中の〇の上にある長四角を、緑色のクーピーで塗ります。

③とんがりが上を向いている三角形の一番近くにある形を、橙色のクーピーで塗ります。



※1. このプリントは、しながわ・目黒こどもスクールのウェブサイトからダウンロードができます。無断複写・引用はご遠慮ください。

※2. このプリントを活用したオンライン授業のスケジュールは、しながわ・目黒こどもスクールのウェブサイトでご確認ください。






# おうちで、やろう。 年中児版

Study at home. 小学校受験の家庭学習教材

言語：しりとり 12

左から右までしりとりでつなげます。途中2つあるところはどちらを選ばよいかを考えて、正しい絵に○をつけましょう。



※1. このプリントは、しながわ・目黒こどもスクールのウェブサイトでダウンロードができます。無断複写・引用はご遠慮ください。  
 ※2. このプリントを活用したオンライン授業のスケジュールは、しながわ・目黒こどもスクールのウェブサイトでご確認ください。






# おうちで、やろう。 年中児版

Study at home. 小学校受験の家庭学習教材

常識：生物 5

四角の中で、卵で生まれてくる生き物に○を、赤ちゃんで生まれてくる生き物に△をつけます。



※1. このプリントは、しながわ・目黒こどもスクールのウェブサイトでダウンロードができます。無断複写・引用はご遠慮ください。

※2. このプリントを活用したオンライン授業のスケジュールは、しながわ・目黒こどもスクールのウェブサイトでご確認ください。






# おうちで、やろう。 年中児版

Study at home. 小学校受験の家庭学習教材

## 常識：生物 6

左がこどもの姿、右が大人になった姿です。同じ生き物の点と点を線でつなぎます。

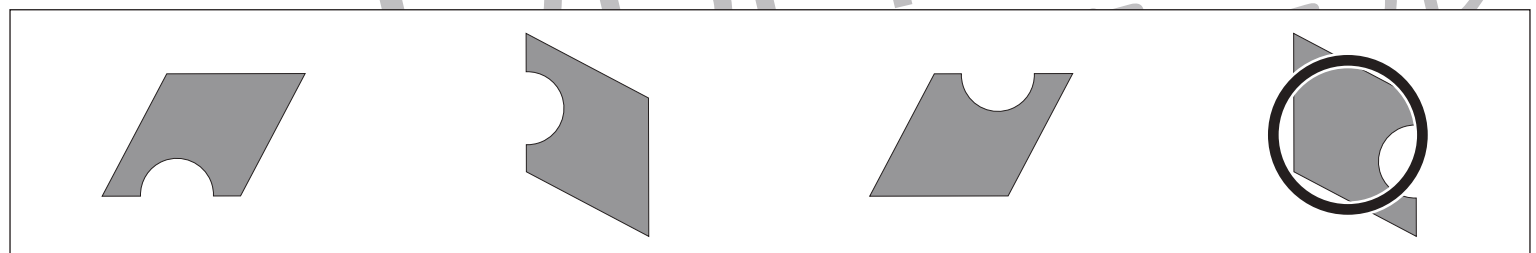
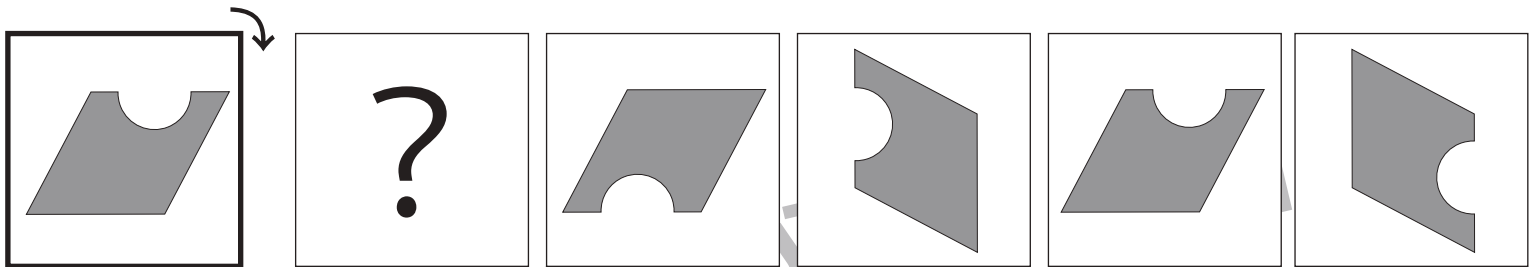
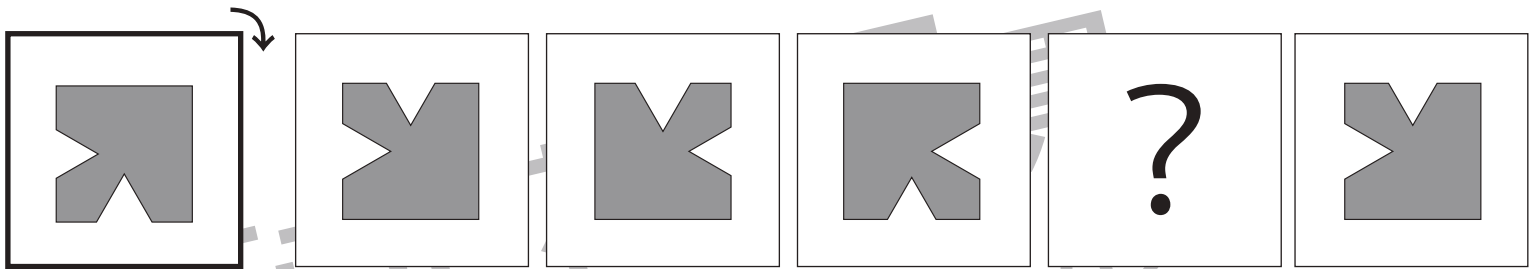
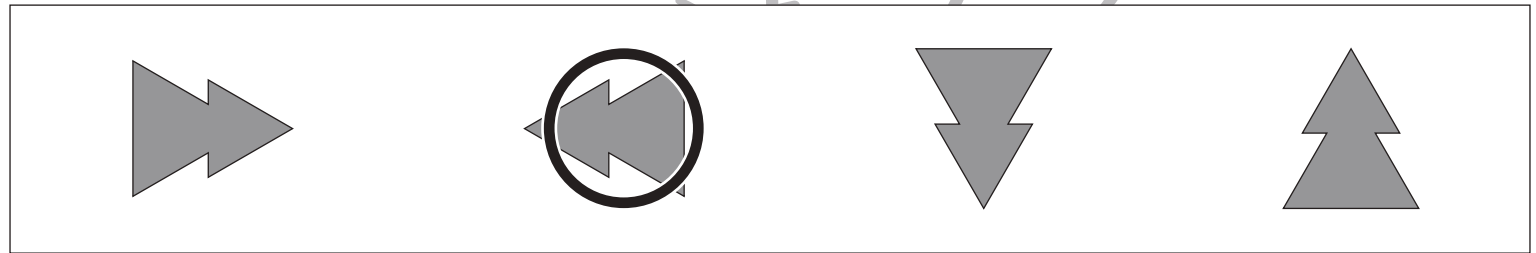
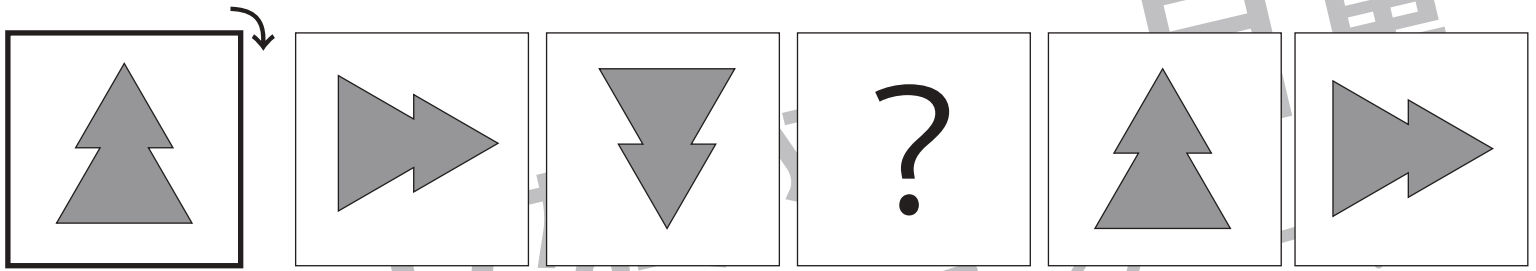


※1. このプリントは、しながわ・目黒こどもスクールのウェブサイトからダウンロードできます。無断複写・引用はご遠慮ください。

※2. このプリントを活用したオンライン授業のスケジュールは、しながわ・目黒こどもスクールのウェブサイトでご確認ください。



太い四角の中の図形が矢印の方向に一回ずつ倒れます。？の絵の見え方を考えて、下の四角の中の図形に○をつけます。



※1. このプリントは、しながわ・目黒こどもスクールのウェブサイトでダウンロードができます。無断複写・引用はご遠慮ください。  
 ※2. このプリントを活用したオンライン授業のスケジュールは、しながわ・目黒こどもスクールのウェブサイトでご確認ください。












# おうちで、やろう。 年中児版



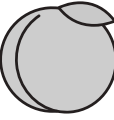
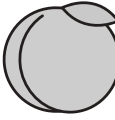
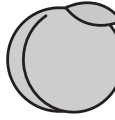
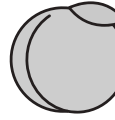






Study at home. 小学校受験の家庭学習教材

数量：差 1



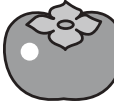


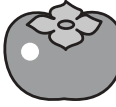


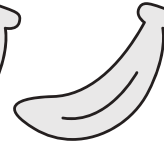

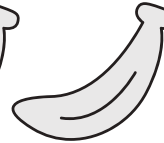
太い四角の中が約束です。約束の通りに果物を組み合わせるとき、下にかいてある果物はいくつ足りないですか。足りない数だけ下の果物のとなりに○をかきます。

 	      
--	--

	 × 1
---	---

 	         
---	--

	 × 2
---	---

 	        
--	--

	 × 1
---	---

※1. このプリントは、しながわ・目黒こどもスクールのウェブサイトでダウンロードができます。無断複写・引用はご遠慮ください。  
 ※2. このプリントを活用したオンライン授業のスケジュールは、しながわ・目黒こどもスクールのウェブサイトでご確認ください。
















# おうちで、やろう。 年中児版














Study at home. 小学校受験の家庭学習教材

数量：差2















太い四角の中が約束です。約束の通りに食べ物を組み合わせたとき、下にかいてある食べ物はいくつ足りないですか。足りない数だけ下の食べ物のとりに○をかきます。

 	          
--	--

	 ×  1
---	---

 	          
---	---

	 ×  1
---	---

 	           
--	--

	 ×  2
---	---

※1. このプリントは、しながわ・目黒こどもスクールのウェブサイトからダウンロードできます。無断複写・引用はご遠慮ください。

※2. このプリントを活用したオンライン授業のスケジュールは、しながわ・目黒こどもスクールのウェブサイトでご確認ください。




# おうちで、よろう。 年中児版


Study at home. 小学校受験の家庭学習教材

数量：差3

太い四角の中が約束です。約束の通りに花を組み合わせたとき、下にかいてある花はいくつ足りないですか。足りない数だけ下の花のとなりに○をかきます。




○×1




○×2




○×3

※1. このプリントは、しながわ・目黒こどもスクールのウェブサイトでダウンロードができます。無断複写・引用はご遠慮ください。  
 ※2. このプリントを活用したオンライン授業のスケジュールは、しながわ・目黒こどもスクールのウェブサイトでご確認ください。