

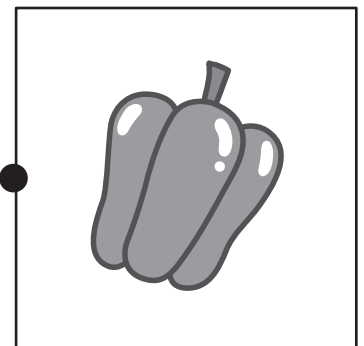

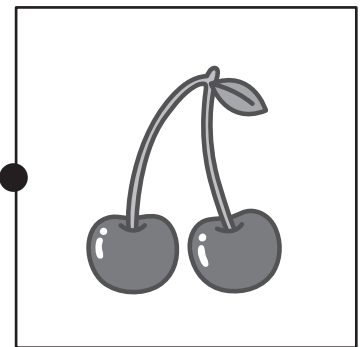
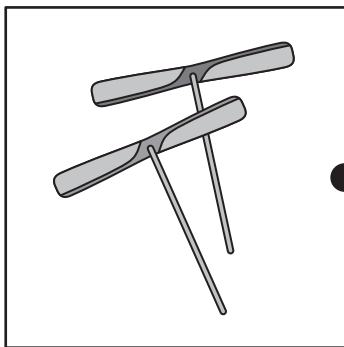
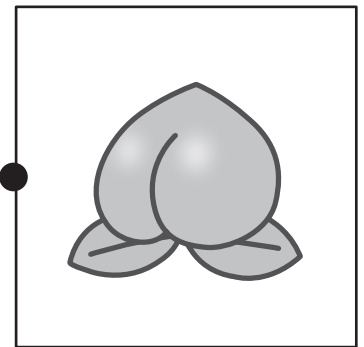


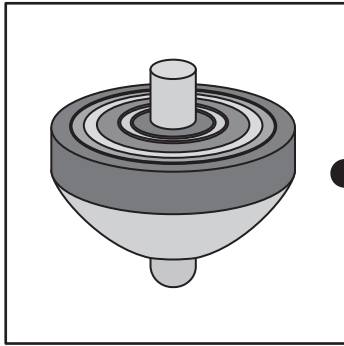


おうちで、やろう。 年中児版

Study at home. 小学校受験の家庭学習教材

言語：音の数 11

左と右の絵の音の数が同じものを探して、点と点を線で結びます。



※1. このプリントは、しながわ・目黒こどもスクールのウェブサイトでダウンロードができます。無断複写・引用はご遠慮ください。

※2. このプリントを活用したオンライン授業のスケジュールは、しながわ・目黒こどもスクールのウェブサイトでご確認ください。



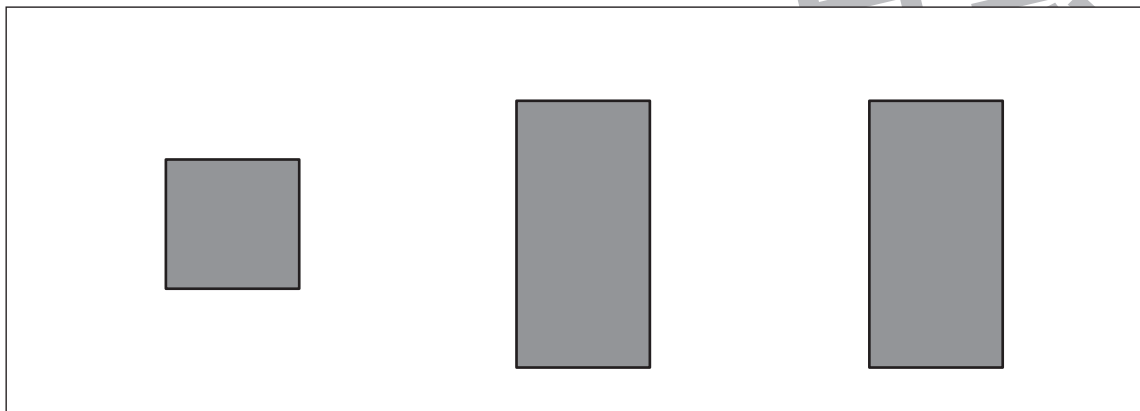

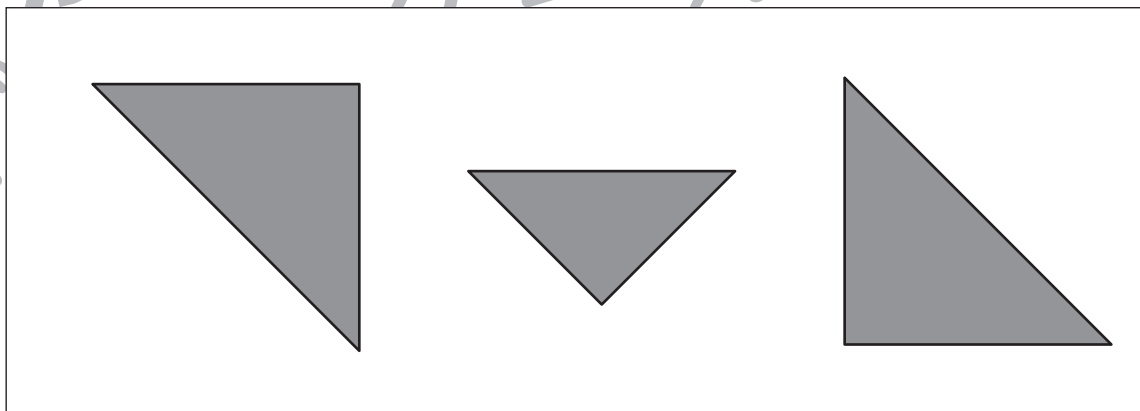

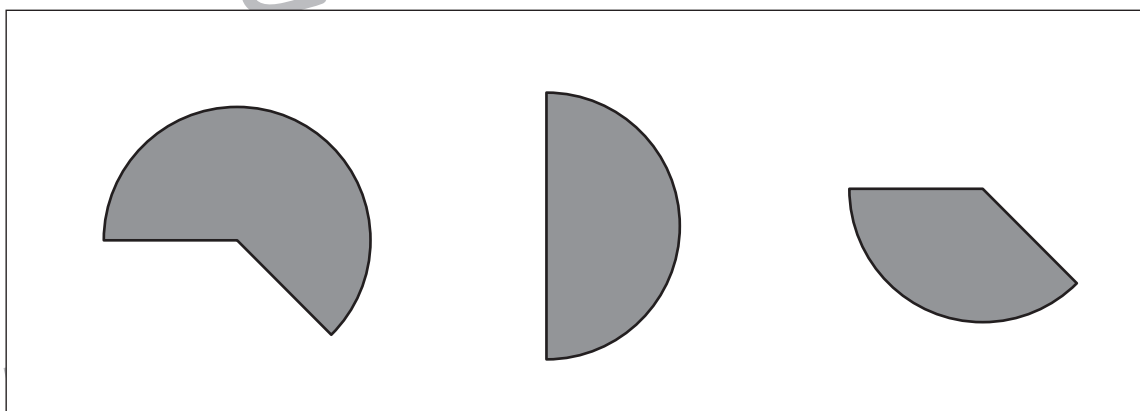

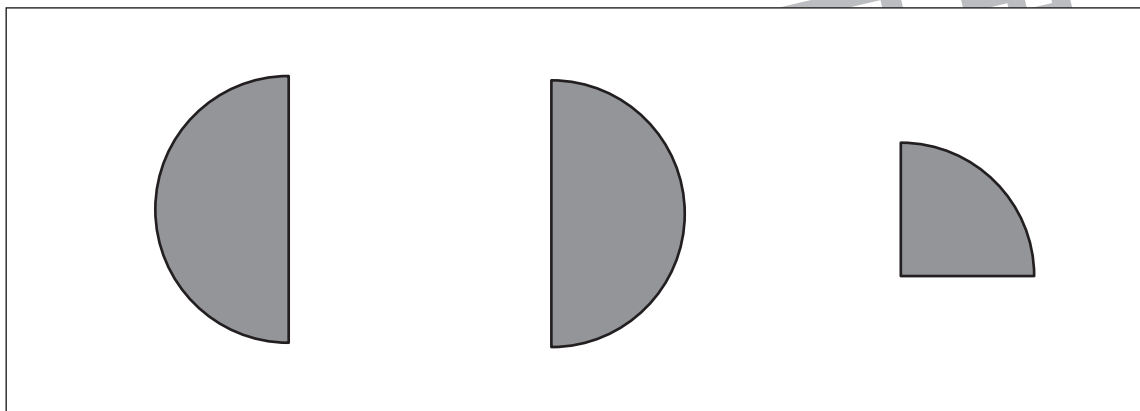



おうちで、やろう。 年中児版

Study at home. 小学校受験の家庭学習教材

図形：構成 10

右の四角の中の形を2つ使って、左の形を作ります。このとき、使わない形に×をつけます。

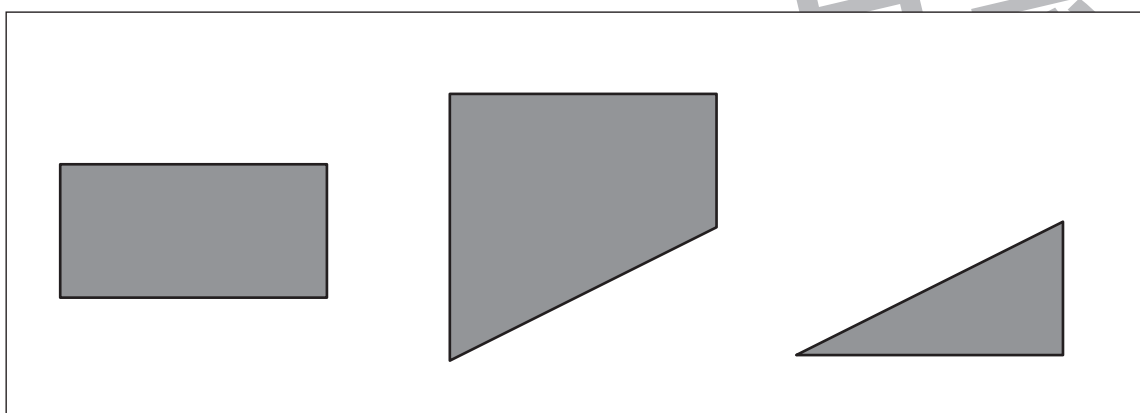

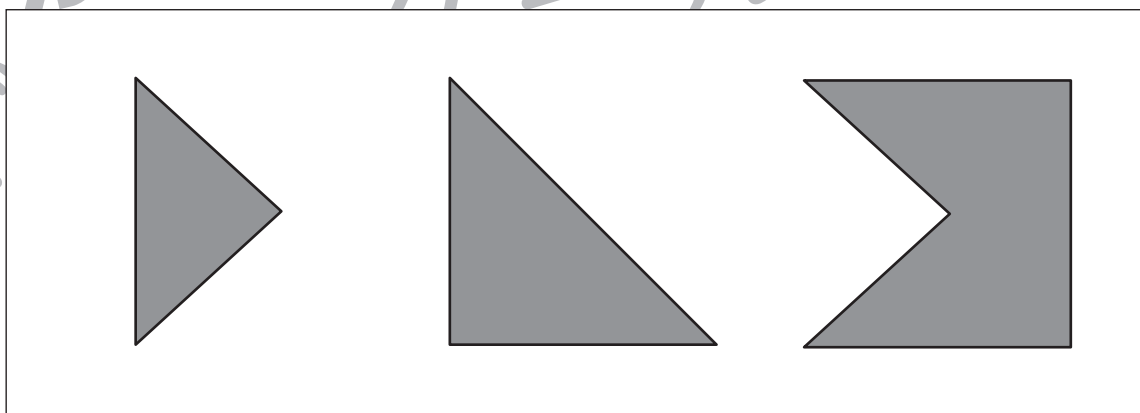

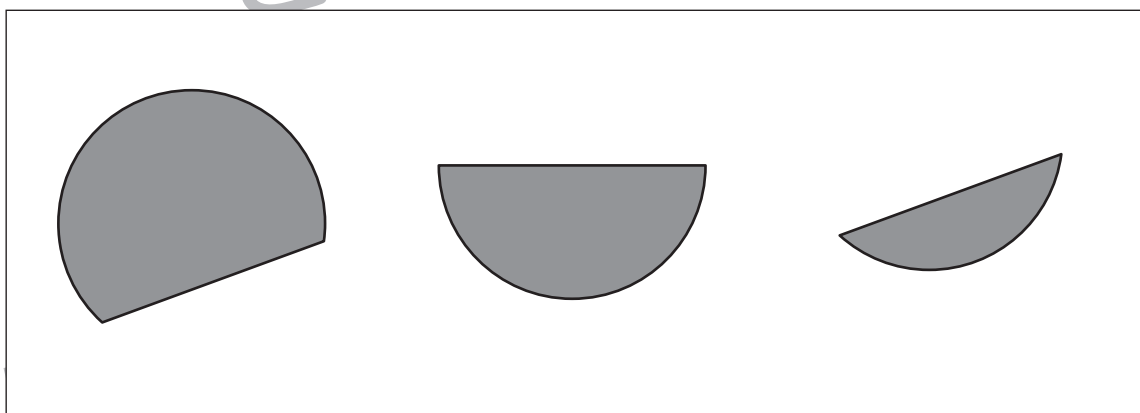

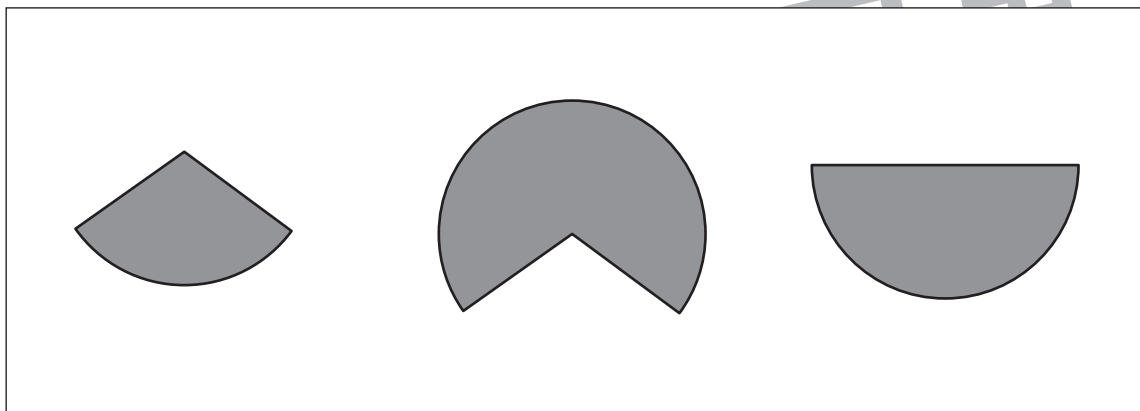



※1. このプリントは、しながわ・目黒こどもスクールのウェブサイトでダウンロードができます。無断複写・引用はご遠慮ください。
※2. このプリントを活用したオンライン授業のスケジュールは、しながわ・目黒こどもスクールのウェブサイトでご確認ください。






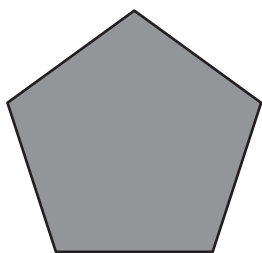
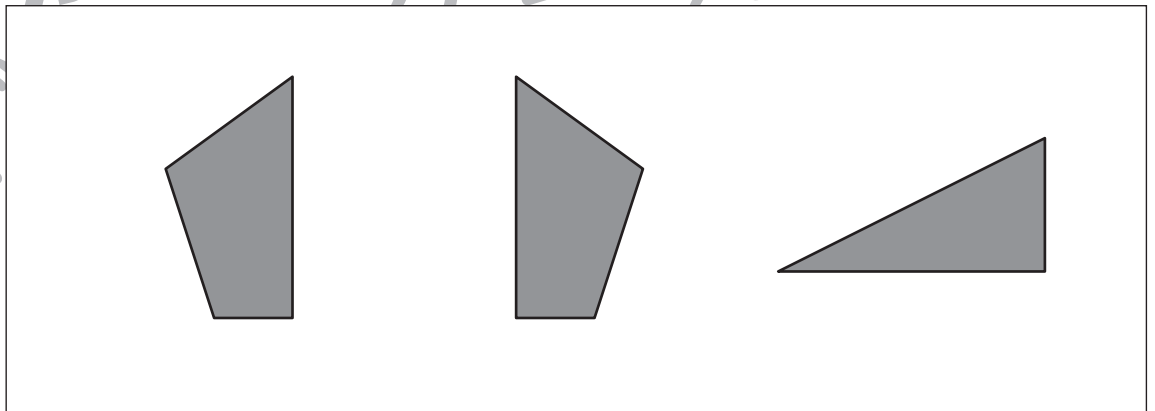
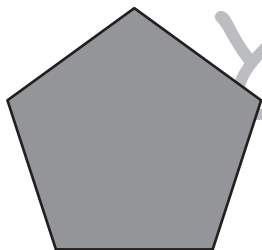
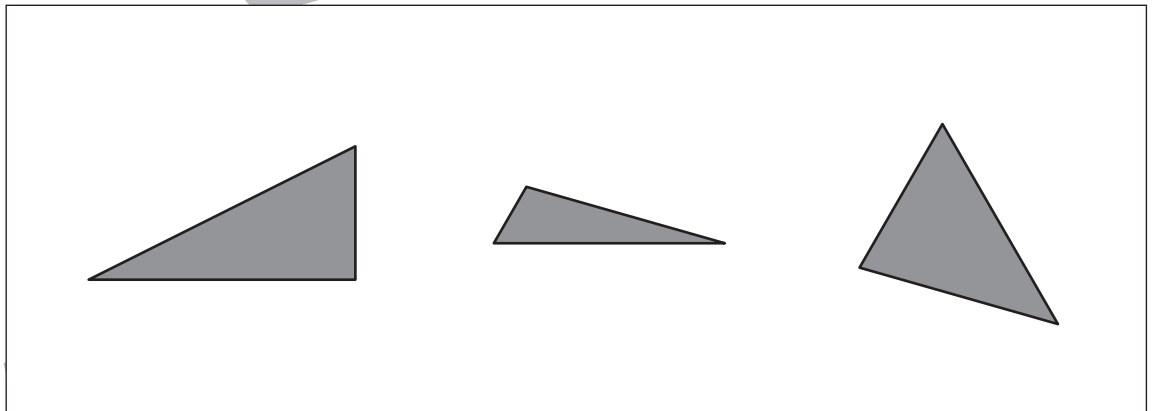
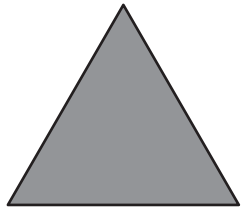
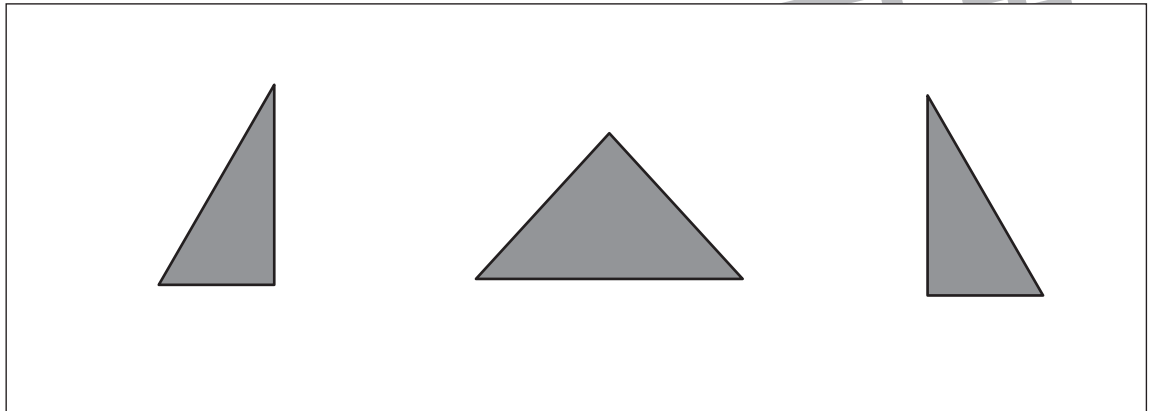
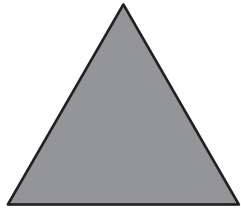
右の四角の中の形を2つ使って、左の形を作ります。このとき、使わない形に×をつけます。



※1. このプリントは、しながわ・目黒こどもスクールのウェブサイトでダウンロードができます。無断複写・引用はご遠慮ください。
※2. このプリントを活用したオンライン授業のスケジュールは、しながわ・目黒こどもスクールのウェブサイトでご確認ください。



右の四角の中の形を2つ使って、左の形を作ります。このとき、使わない形に×をつけます。



※1. このプリントは、しながわ・目黒こどもスクールのウェブサイトからダウンロードできます。無断複写・引用はご遠慮ください。
※2. このプリントを活用したオンライン授業のスケジュールは、しながわ・目黒こどもスクールのウェブサイトでご確認ください。



おうちで、やろう。年中児版

Study at home. 小学校受験の家庭学習教材

数量：計数 17

上の四角の中にある果物の中で、いちばん多い果物の数だけ、下の四角のかごの横に○をかきます。

A large rectangular box containing various fruits: 3 pears, 3 oranges, and 3 bunches of grapes. Below the box is a smaller rectangular box containing a basket icon.

A large rectangular box containing various fruits: 6 strawberries, 2 bananas, and 1 watermelon. Below the box is a smaller rectangular box containing a basket icon.

※1. このプリントは、しながわ・目黒こどもスクールのウェブサイトでダウンロードができます。無断複写・引用はご遠慮ください。
※2. このプリントを活用したオンライン授業のスケジュールは、しながわ・目黒こどもスクールのウェブサイトでご確認ください。





おうちで、やろう。年中児版

Study at home. 小学校受験の家庭学習教材

数量：計数 18





上の四角の中にはいろいろな野菜があります。いちばん多い果物の数だけ下のかごの横に、いちばん少ない果物の数だけ下のお皿の横に、それぞれ○をかきます。




※1. このプリントは、しながわ・目黒こどもスクールのウェブサイトでダウンロードができます。無断複写・引用はご遠慮ください。
※2. このプリントを活用したオンライン授業のスケジュールは、しながわ・目黒こどもスクールのウェブサイトでご確認ください。



四角の中の絵が全部しりとりでつながるように、線でつなぎましょう。

<p>①</p> 	<p>②</p> 
<p>③</p> 	<p>④</p> 

※1. このプリントは、しながわ・目黒こどもスクールのウェブサイトでダウンロードができます。無断複写・引用はご遠慮ください。

※2. このプリントを活用したオンライン授業のスケジュールは、しながわ・目黒こどもスクールのウェブサイトでご確認ください。



おうちで、やろう。年中児版

Study at home. 小学校受験の家庭学習教材

巧緻性：運筆 3

- ①かたつむりの殻の白い部分にある点から点を、茶色のクーピーで線に沿ってつなぎます。
 - ②かえるの目の点線をなぞります。
 - ③傘の中をはみ出さないように好きな色のクーピーで塗ります。
- ※この問題に解答はありません。



※1. このプリントは、しながわ・目黒こどもスクールのウェブサイトでダウンロードができます。無断複写・引用はご遠慮ください。
※2. このプリントを活用したオンライン授業のスケジュールは、しながわ・目黒こどもスクールのウェブサイトでご確認ください。