




おうちで、やろう。

Study at home. 小学校受験の家庭学習教材

指示の聞き取り 30

それぞれの設問に答えましょう。指示は一度ですべて読み上げます。しっかり聞いて取り組みましょう。

- ①右から5番目のてるてる坊主に○をつけます。
- ②長靴を履いているカエルに○をつけます。
- ③髪を二つ結びにして、傘をさしている女の子の左手に○をつけます。



※1. このプリントは、しながわ・目黒こどもスクールのウェブサイトでダウンロードができます。無断複写・引用はご遠慮ください。
 ※2. このプリントを活用したオンライン授業のスケジュールは、しながわ・目黒こどもスクールのウェブサイトでご確認ください。

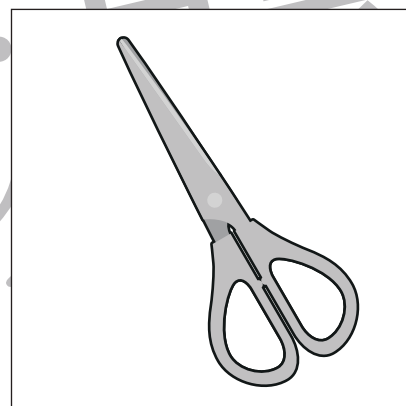



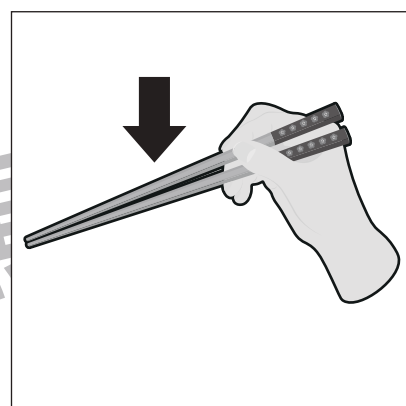


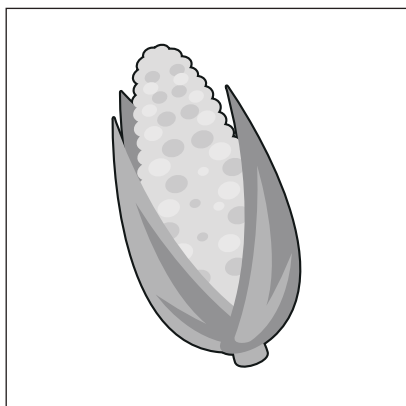


おうちで、やろう。

Study at home. 小学校受験の家庭学習教材

言語：音の数 33

左と右の四角の中の絵で、音の数が同じものを線でつなぎます。



※1. このプリントは、しながわ・目黒こどもスクールのウェブサイトでダウンロードができます。無断複写・引用はご遠慮ください。
※2. このプリントを活用したオンライン授業のスケジュールは、しながわ・目黒こどもスクールのウェブサイトでご確認ください。



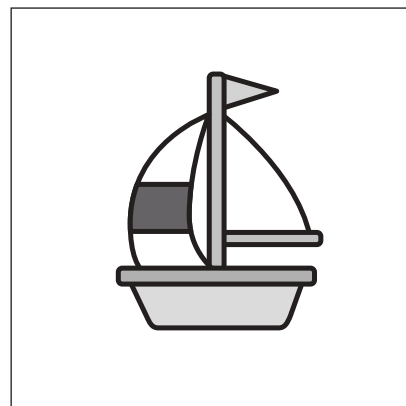
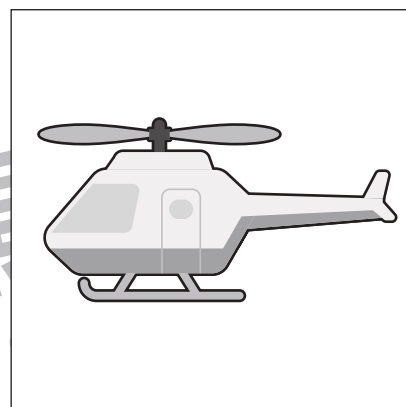



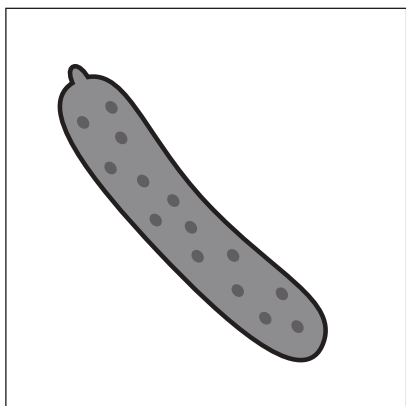


おうちで、やろう。

Study at home. 小学校受験の家庭学習教材

言語：音の数 34

四角の中にある絵の音の数を数え、音の数が同じものを線でつなぎます。



※1. このプリントは、しながわ・目黒こどもスクールのウェブサイトでダウンロードができます。無断複写・引用はご遠慮ください。
※2. このプリントを活用したオンライン授業のスケジュールは、しながわ・目黒こどもスクールのウェブサイトでご確認ください。




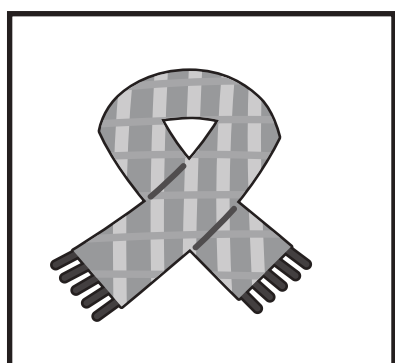

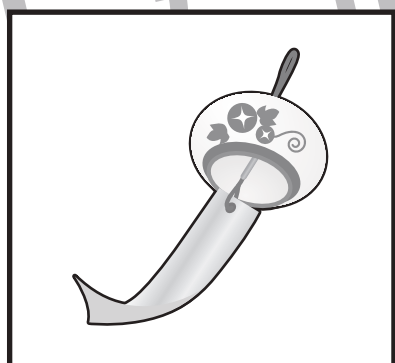



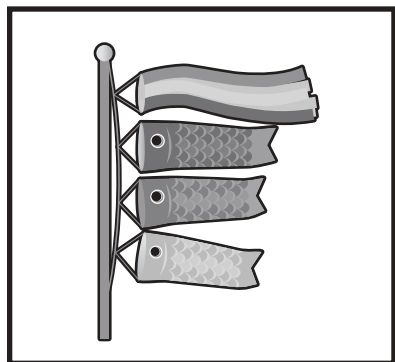


おうちで、やろう。

Study at home. 小学校受験の家庭学習教材

常識：季節 16

太い四角の中の絵と同じ季節のものを、右の四角の中から選び○をつけます。



※1. このプリントは、しながわ・目黒こどもスクールのウェブサイトでダウンロードができます。無断複写・引用はご遠慮ください。
※2. このプリントを活用したオンライン授業のスケジュールは、しながわ・目黒こどもスクールのウェブサイトでご確認ください。







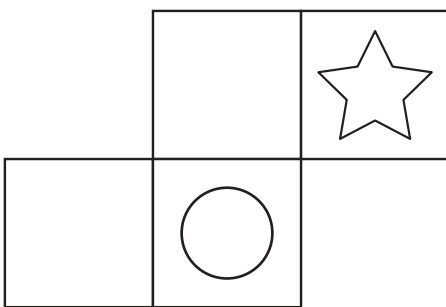


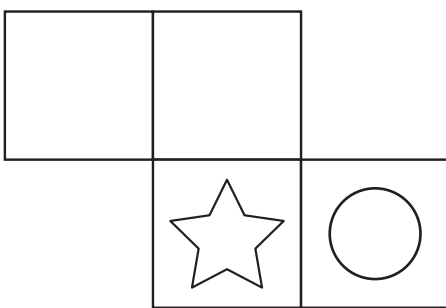


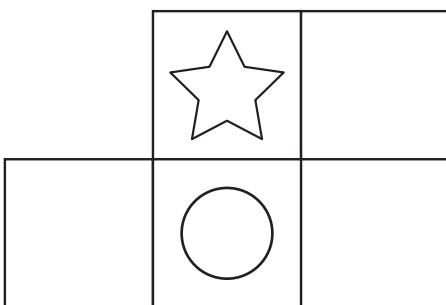


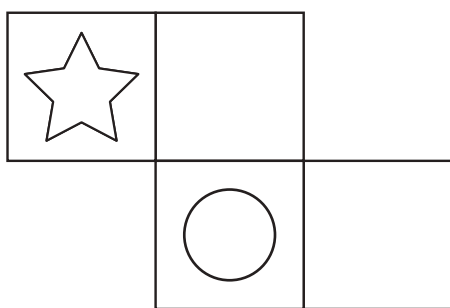



おうちで、よろう。

Study at home. 小学校受験の家庭学習教材

図形：重ね 26

左の太い四角に、真ん中の形を星がぴったり重なるように重ねます。太い四角からはみ出してしまうマスは消える約束です。このとき、太い四角の中で○同士が重なるマスを考えて右の四角の中のマスを塗ります。



※1. このプリントは、しながわ・目黒こどもスクールのウェブサイトでダウンロードができます。無断複写・引用はご遠慮ください。
※2. このプリントを活用したオンライン授業のスケジュールは、しながわ・目黒こどもスクールのウェブサイトでご確認ください。




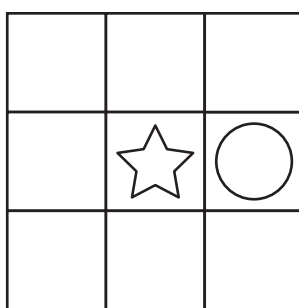
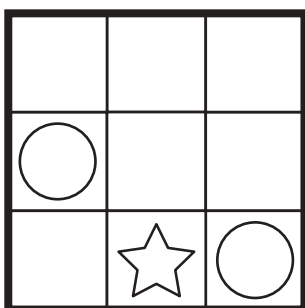
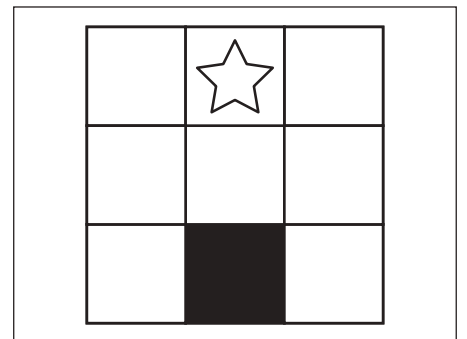
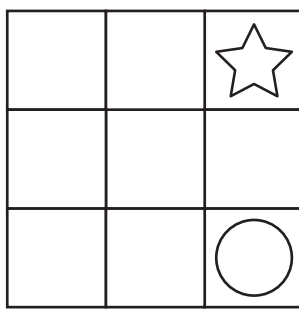


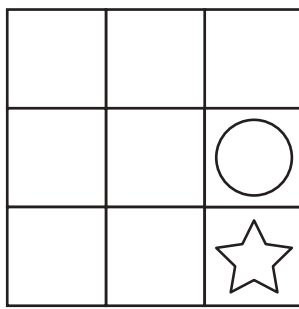
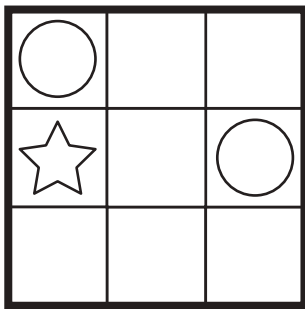

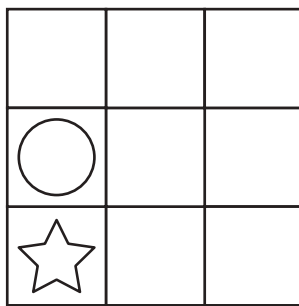
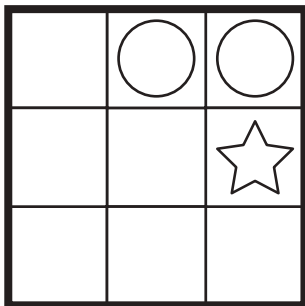

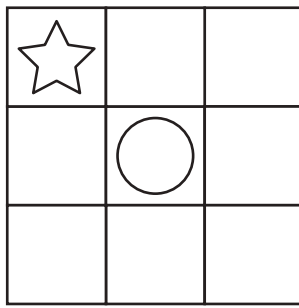



おうちで、やろう。

Study at home. 小学校受験の家庭学習教材

図形：重ね 27

左の太い四角に、真ん中の形を星がぴったり重なるように重ねます。太い四角からはみ出してしまうマスは消える約束です。このとき、太い四角の中で○同士が重なるマスを考えて右の四角の中のマスを塗ります。



※1. このプリントは、しながわ・目黒こどもスクールのウェブサイトでダウンロードができます。無断複写・引用はご遠慮ください。

※2. このプリントを活用したオンライン授業のスケジュールは、しながわ・目黒こどもスクールのウェブサイトでご確認ください。




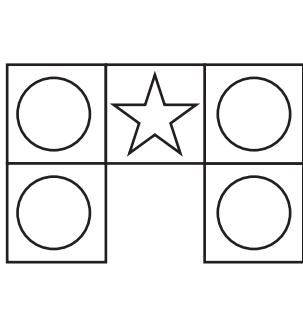
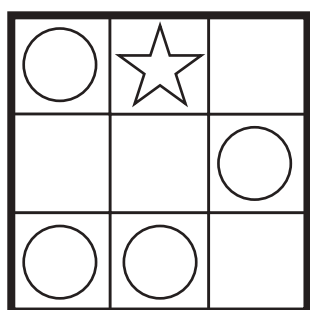

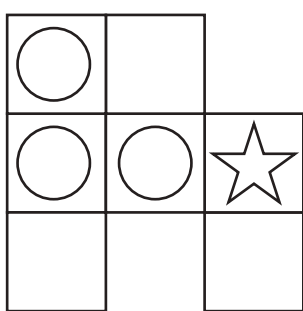
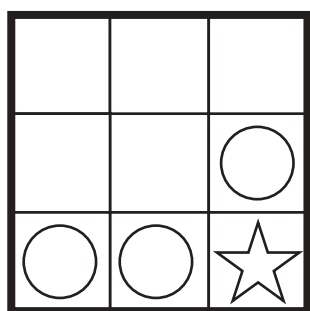

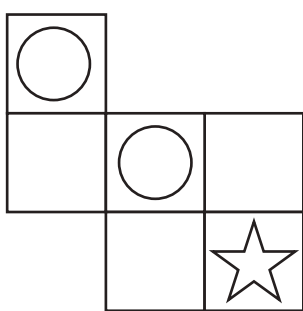
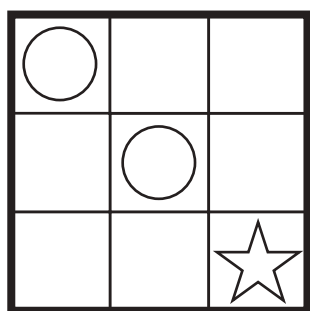

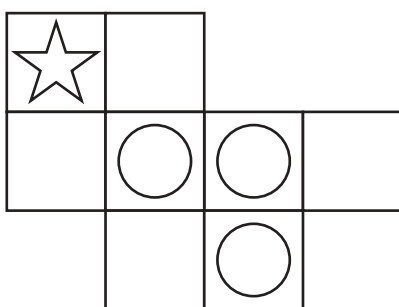
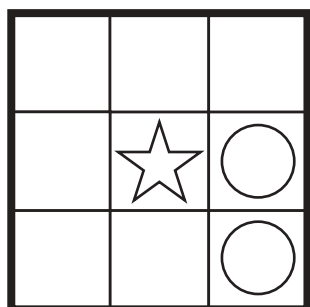

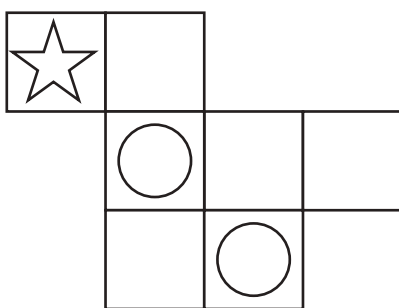
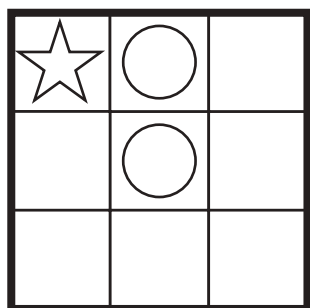


おうちで、やろう。

Study at home. 小学校受験の家庭学習教材

図形：重ね 28

左の太い四角に、真ん中の形を星がぴったり重なるように重ねます。太い四角からはみ出してしまうマスは消える約束です。このとき、太い四角の中で○同士が重なるマスを考えて右の四角の中のマスを塗ります。



※1. このプリントは、しながわ・目黒こどもスクールのウェブサイトでダウンロードができます。無断複写・引用はご遠慮ください。

※2. このプリントを活用したオンライン授業のスケジュールは、しながわ・目黒こどもスクールのウェブサイトでご確認ください。



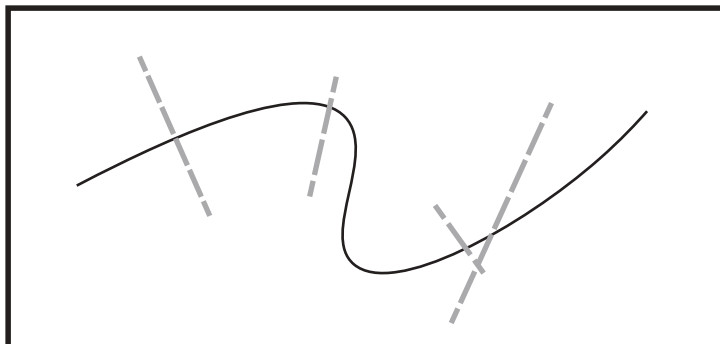


おうちで、やろう。

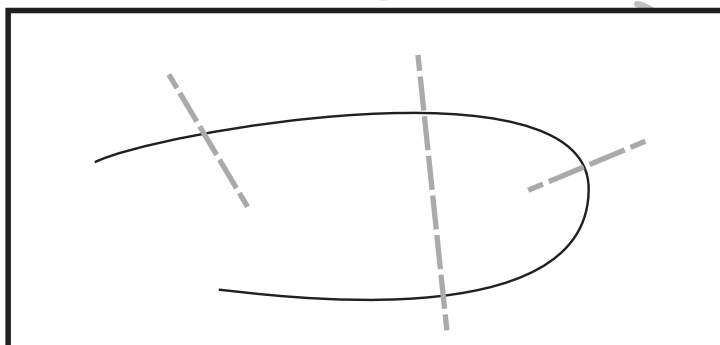
Study at home. 小学校受験の家庭学習教材

推理：ひも6

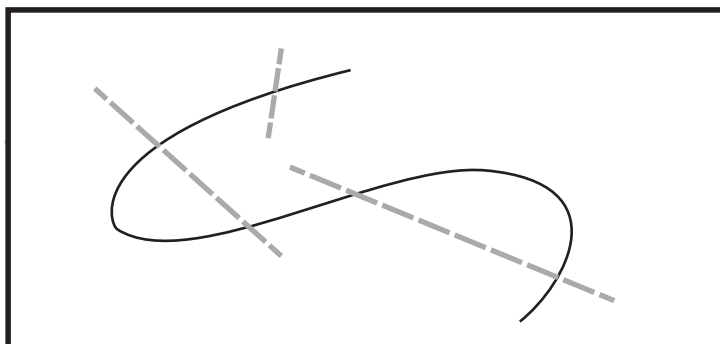
太い四角の中のひもを点線のところで切ると、ひもは何本になりますか。その数だけ、右の四角の中に○をかきます。



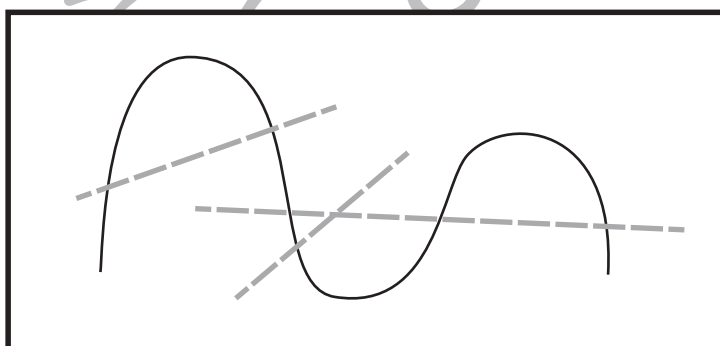
○×5



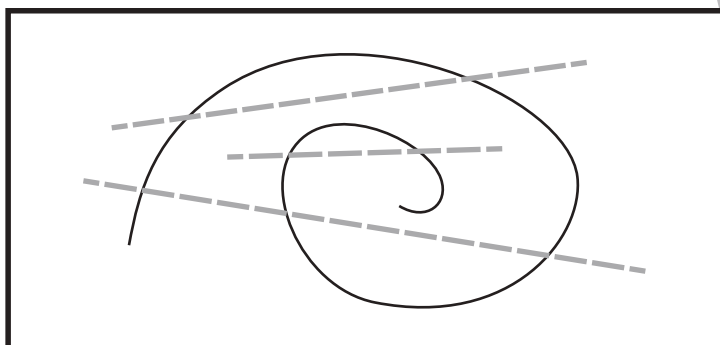
○×5



○×6



○×7



○×8

※1. このプリントは、しながわ・目黒こどもスクールのウェブサイトからダウンロードできます。無断複写・引用はご遠慮ください。
※2. このプリントを活用したオンライン授業のスケジュールは、しながわ・目黒こどもスクールのウェブサイトでご確認ください。



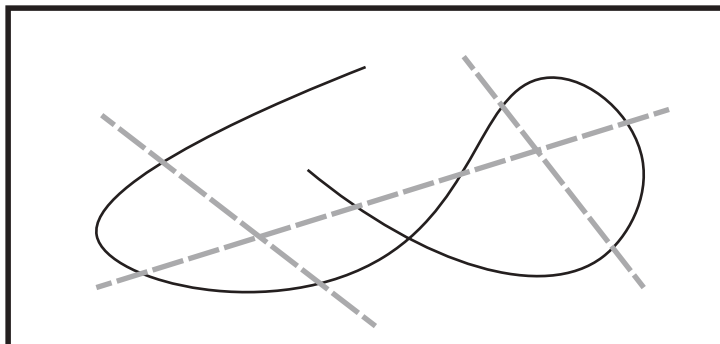


おうちで、やろう。

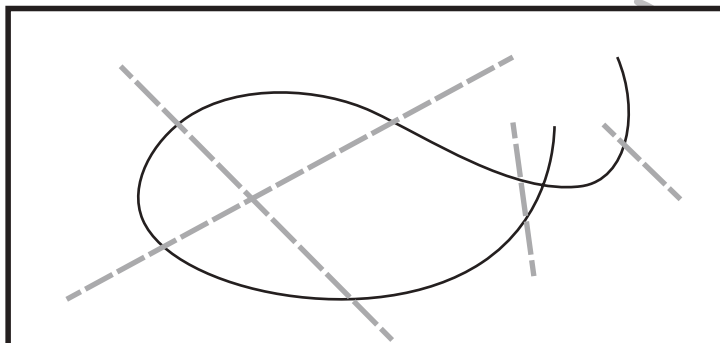
Study at home. 小学校受験の家庭学習教材

推理：ひも7

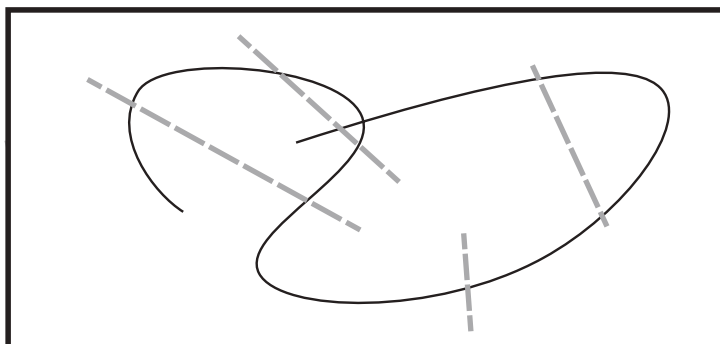
太い四角の中のひもを点線のところで切ると、ひもは何本になりますか。その数だけ、右の四角の中に○をかきます。



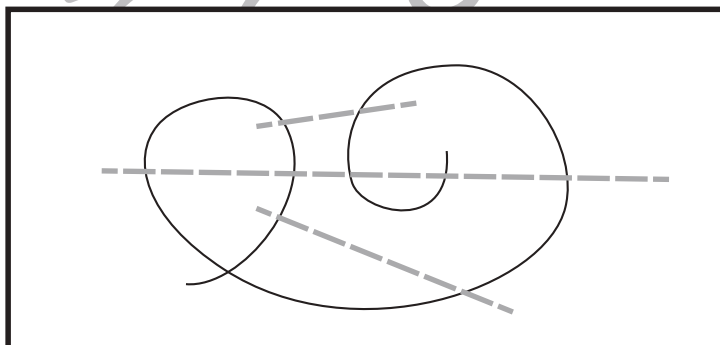
○×9



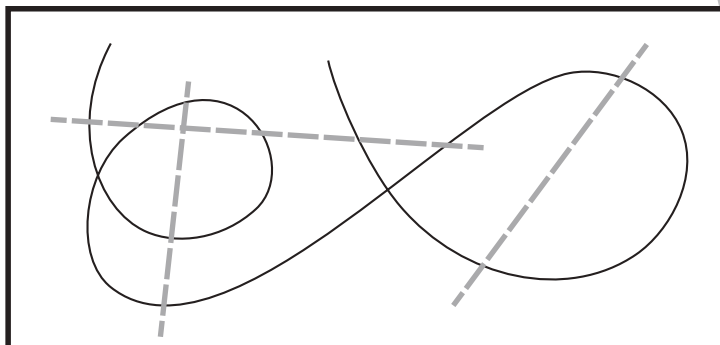
○×8



○×9



○×10



○×11

※1. このプリントは、しながわ・目黒こどもスクールのウェブサイトでダウンロードができます。無断複写・引用はご遠慮ください。

※2. このプリントを活用したオンライン授業のスケジュールは、しながわ・目黒こどもスクールのウェブサイトでご確認ください。