





おうちで、やろう。

Study at home. 小学校受験の家庭学習教材

記憶：絵の記憶 23 記憶用紙

別紙『記憶 - 絵の記憶 23』を行う際に使用します。記憶用紙は点線で折って(切って)、①、②、③の問題の際にそれぞれ 20 秒間ずつ記憶させてください。記憶する際は問題用紙は裏返しにします。記憶後①、②、③それぞれの問題に答えましょう。

- ①見た絵の中にあつた果物に○をつけます。
- ②見た絵の洋服と同じ柄の箱に○をつけます。
- ③見た絵の中にあつた夏の花に○をつけます。



※ 1. このプリントは、しながわ・目黒こどもスクールのウェブサイトでダウンロードができます。無断複写・引用はご遠慮ください。

※ 2. このプリントを活用したオンライン授業のスケジュールは、しながわ・目黒こどもスクールのウェブサイトでご確認ください。





おうちで、やろう。

Study at home. 小学校受験の家庭学習教材

記憶：絵の記憶 23

別紙『記憶 - 絵の記憶 23 記憶用紙』を使用します。記憶用紙の形を見た後に①、②、③の問題に取り組みましょう。

- ①見た絵の中にあつた果物に○をつけます。
- ②見た絵の洋服と同じ柄の箱に○をつけます。
- ③見た絵の中にあつた夏の花に○をつけます。



※1. このプリントは、しながわ・目黒こどもスクールのウェブサイトからダウンロードできます。無断複写・引用はご遠慮ください。

※2. このプリントを活用したオンライン授業のスケジュールは、しながわ・目黒こどもスクールのウェブサイトでご確認ください。




おうちで、やろう。









Study at home. 小学校受験の家庭学習教材

太い四角の中がお手本です。

絵の下にある○は、その絵の音の数を表しています。お手本の●と同じ音を探して、○を塗ります。



○ ○ ○ ●



※1. このプリントは、しながわ・目黒こどもスクールのウェブサイトでダウンロードができます。無断複写・引用はご遠慮ください。

※2. このプリントを活用したオンライン授業のスケジュールは、しながわ・目黒こどもスクールのウェブサイトでご確認ください。




おうちで、やろう。


Study at home. 小学校受験の家庭学習教材

太い四角の中がお手本です。


絵の下にある○は、その絵の音の数を表しています。お手本の●と同じ音を探して、○を塗ります。




○○○●




○○○○○○○




○○○○○



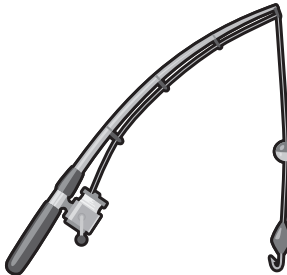
○○○○○




○○○




○●○




○○○○○



○○○○○



○○○○○



○○○○○○○○○

※1. このプリントは、しながわ・目黒こどもスクールのウェブサイトでダウンロードができます。無断複写・引用はご遠慮ください。

※2. このプリントを活用したオンライン授業のスケジュールは、しながわ・目黒こどもスクールのウェブサイトでご確認ください。



おうちで、やろう。

Study at home. 小学校受験の家庭学習教材

図形：広さ1

横に並んだ3つの四角の中で灰色の部分の広さが同じもの2つに○をつけます。

目黒

--	--	--

--	--	--

--	--	--

※1. このプリントは、しながわ・目黒こどもスクールのウェブサイトでダウンロードができます。無断複写・引用はご遠慮ください。
 ※2. このプリントを活用したオンライン授業のスケジュールは、しながわ・目黒こどもスクールのウェブサイトでご確認ください。



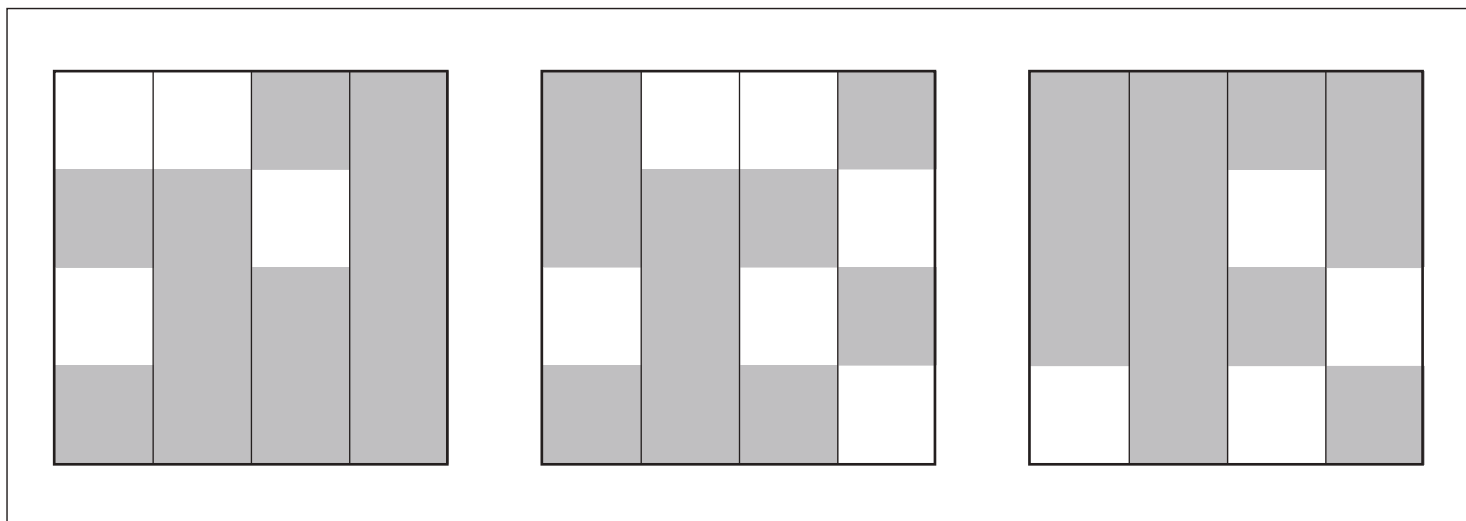
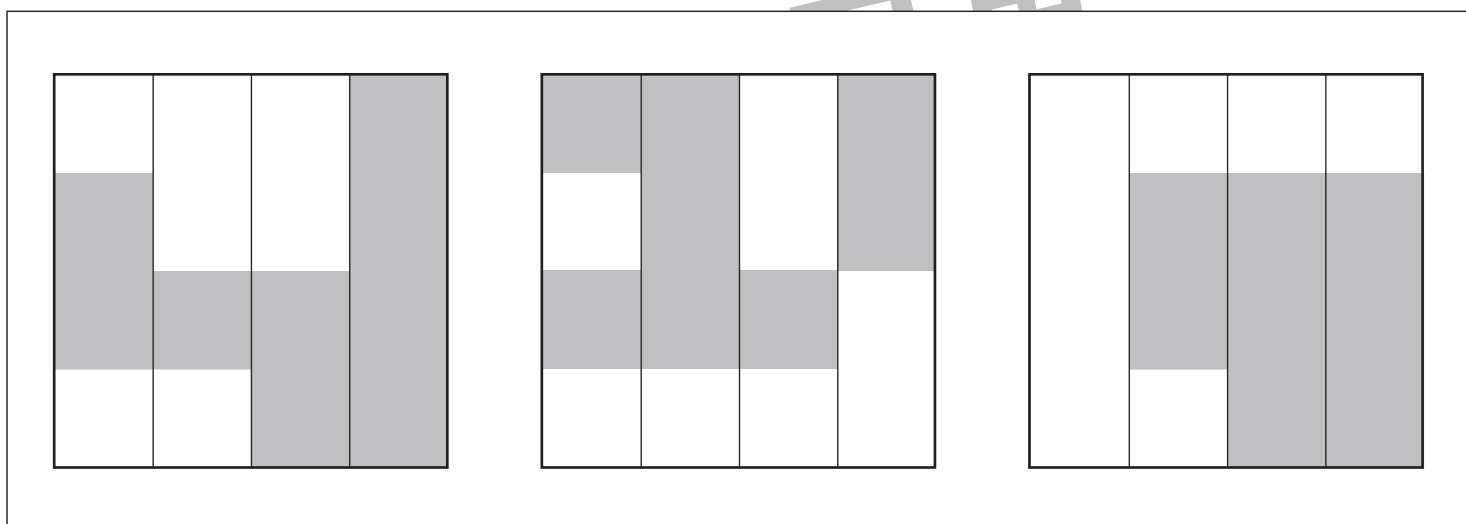
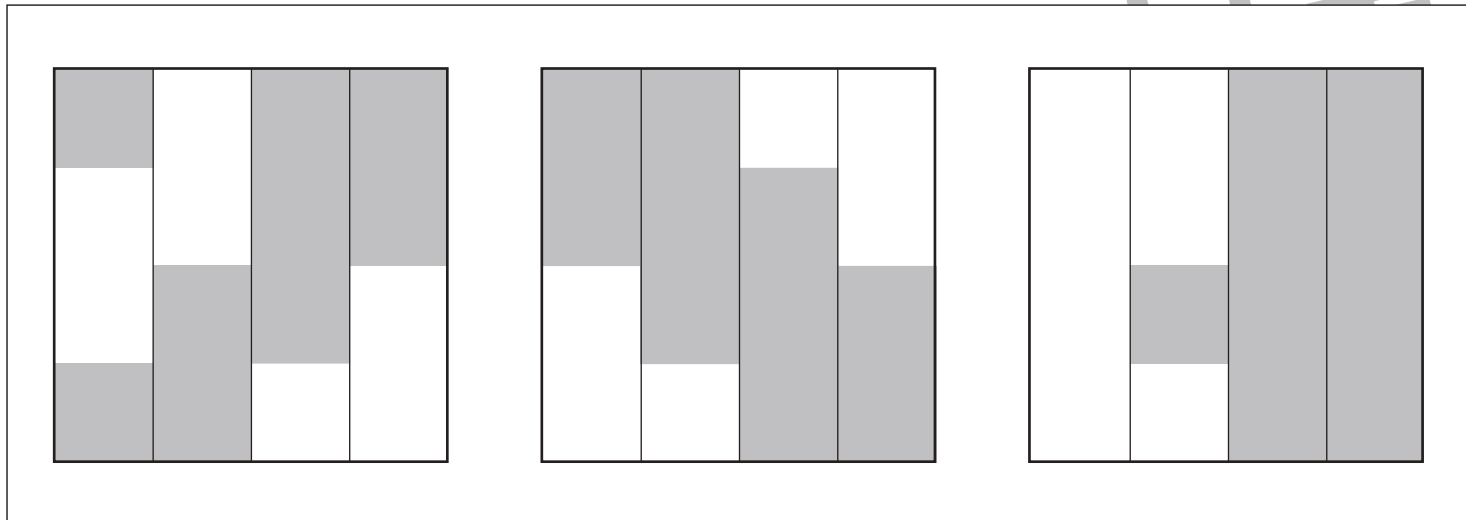
おうちで、やろう。

Study at home. 小学校受験の家庭学習教材

図形：広さ2

横に並んだ3つの四角の中で灰色の部分の広さが同じもの2つに○をつけます。

目黒



※1. このプリントは、しながわ・目黒こどもスクールのウェブサイトからダウンロードできます。無断複写・引用はご遠慮ください。
 ※2. このプリントを活用したオンライン授業のスケジュールは、しながわ・目黒こどもスクールのウェブサイトでご確認ください。






おうちで、やろう。

Study at home. 小学校受験の家庭学習教材

図形：広さ3

横に並んだ3つの四角の中で灰色の部分の広さが同じもの2つに○をつけます。



※1. このプリントは、しながわ・目黒こどもスクールのウェブサイトでダウンロードができます。無断複写・引用はご遠慮ください。
 ※2. このプリントを活用したオンライン授業のスケジュールは、しながわ・目黒こどもスクールのウェブサイトでご確認ください。



おうちで、やろう。

Study at home. 小学校受験の家庭学習教材

推理：ブラックボックス 20

上の太い四角の中が約束です。それぞれの箱の中にみかんを入れると数が変わって出てきます。
空いている四角の中のみかんの数を考えて、その数だけ四角の中に○をかきます。

	→		→		→		→	
	→		→		→		→	

	→		→		→		→	
--	---	--	---	--	---	--	---	--

	→		→		→		→	
--	---	--	---	--	---	--	---	--

	→		→		→		→	
--	---	--	---	--	---	--	---	--

※1. このプリントは、しながわ・目黒こどもスクールのウェブサイトでダウンロードができます。無断複写・引用はご遠慮ください。
 ※2. このプリントを活用したオンライン授業のスケジュールは、しながわ・目黒こどもスクールのウェブサイトでご確認ください。



おうちで、やろう。

Study at home. 小学校受験の家庭学習教材

推理：ブラックボックス 21

上の太い四角の中が約束です。それぞれの箱の中にみかんを入れると数が変わって出てきます。
どちらの箱を通ったかを考えて、当てはまるものに○をつけます。

	→		→		→		→	
	→		→		→		→	

	→		→		→		→	
--	---	--	---	--	---	--	---	--

	→		→		→	
--	---	--	---	--	---	--

	→		→		→	
--	---	--	---	--	---	--

※1. このプリントは、しながわ・目黒こどもスクールのウェブサイトからダウンロードできます。無断複写・引用はご遠慮ください。
 ※2. このプリントを活用したオンライン授業のスケジュールは、しながわ・目黒こどもスクールのウェブサイトでご確認ください。



おうちで、やろう。

Study at home. 小学校受験の家庭学習教材

推理：ブラックボックス 22

上の太い四角の中が約束です。それぞれの箱の中にみかんを入れると数が変わって出てきます。
はじめにいくつのみかんがあったかを考えて、その数だけ左の四角の中に○をかきます。

	→		→		→		→	
	→		→		→		→	

	→		→		→		→	
--	---	--	---	--	---	--	---	--

	→		→		→	
--	---	--	---	--	---	--

	→		→		→	
--	---	--	---	--	---	--

※1. このプリントは、しながわ・目黒こどもスクールのウェブサイトでダウンロードができます。無断複写・引用はご遠慮ください。
 ※2. このプリントを活用したオンライン授業のスケジュールは、しながわ・目黒こどもスクールのウェブサイトでご確認ください。

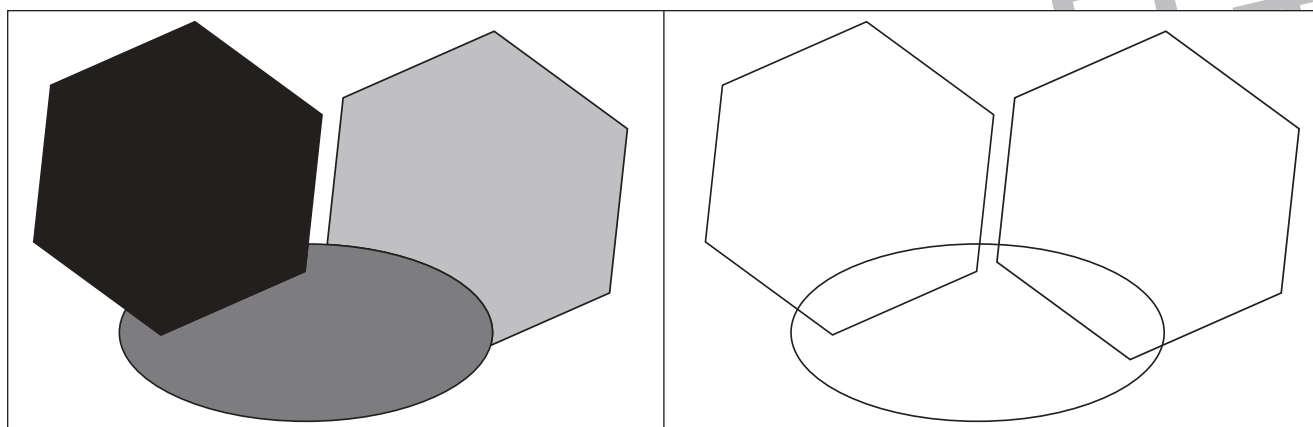


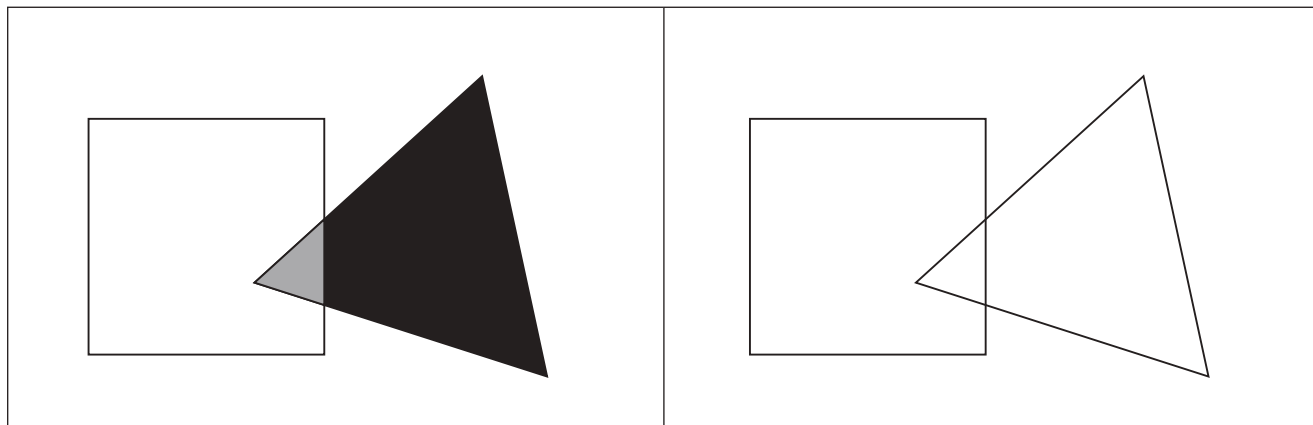


おうちで、やろう。

Study at home. 小学校受験の家庭学習教材

運筆：濃淡 10

左のお手本と同じ濃さになるように右の形を鉛筆で塗ります。
※この問題に解答はありません。



※1. このプリントは、しながわ・目黒こどもスクールのウェブサイトからダウンロードできます。無断複写・引用はご遠慮ください。
※2. このプリントを活用したオンライン授業のスケジュールは、しながわ・目黒こどもスクールのウェブサイトでご確認ください。