




おうちで、やろう。

Study at home. 小学校受験の家庭学習教材

記憶：絵の記憶 23

別紙『記憶 - 絵の記憶 23 記憶用紙』を使用します。記憶用紙の形を見た後に①、②、③の問題に取り組みましょう。

- ①見た絵の中にあつた果物に○をつけます。
- ②見た絵の洋服と同じ柄の箱に○をつけます。
- ③見た絵の中にあつた夏の花に○をつけます。



※1. このプリントは、しながわ・目黒こどもスクールのウェブサイトからダウンロードができます。無断複写・引用はご遠慮ください。

※2. このプリントを活用したオンライン授業のスケジュールは、しながわ・目黒こどもスクールのウェブサイトでご確認ください。




おうちで、やろう。

Study at home. 小学校受験の家庭学習教材

太い四角の中がお手本です。


絵の下にある○は、その絵の音の数を表しています。お手本の●と同じ音を探して、○を塗ります。




○ ○ ○ ●




● ○




○ ● ○




● ○ ○




○ ● ○




○ ○ ●




○ ● ○




● ○ ○




● ○ ○



○ ○ ○ ● ○



○ ○ ●



○ ● ○ ○

※1. このプリントは、しながわ・目黒こどもスクールのウェブサイトでダウンロードができます。無断複写・引用はご遠慮ください。

※2. このプリントを活用したオンライン授業のスケジュールは、しながわ・目黒こどもスクールのウェブサイトでご確認ください。




おうちで、やろう。


Study at home. 小学校受験の家庭学習教材

太い四角の中がお手本です。


絵の下にある○は、その絵の音の数を表しています。お手本の●と同じ音を探して、○を塗ります。




○ ○ ○ ●




○ ○ ○ ● ○ ○




○ ○ ○ ● ○



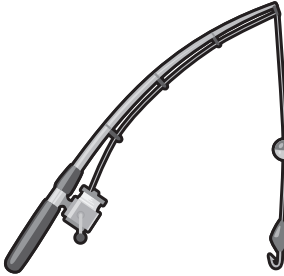
○ ● ○ ● ○




○ ● ○




○ ● ○




● ○ ○ ○



○ ● ● ○



● ○ ○ ○



○ ○ ○ ○ ○ ● ○ ○

※1. このプリントは、しながわ・目黒こどもスクールのウェブサイトでダウンロードができます。無断複写・引用はご遠慮ください。

※2. このプリントを活用したオンライン授業のスケジュールは、しながわ・目黒こどもスクールのウェブサイトでご確認ください。




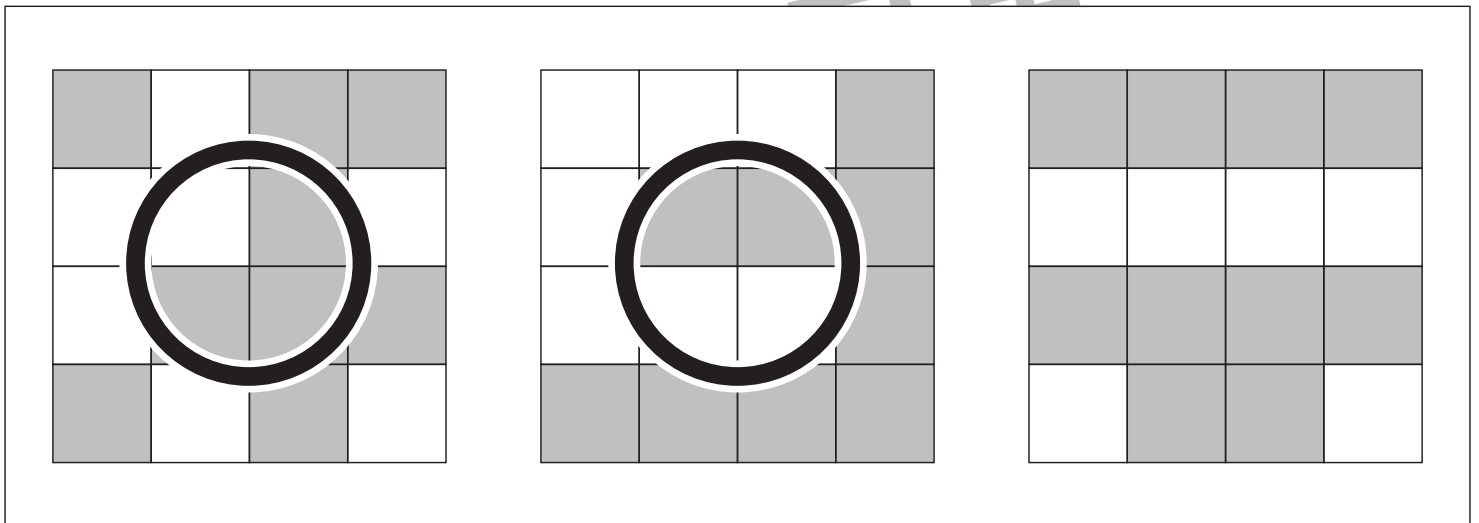

おうちで、やろう。

Study at home. 小学校受験の家庭学習教材

図形：広さ1

横に並んだ3つの四角の中で灰色の部分の広さが同じもの2つに○をつけます。

目黒



※1. このプリントは、しながわ・目黒こどもスクールのウェブサイトでダウンロードができます。無断複写・引用はご遠慮ください。
 ※2. このプリントを活用したオンライン授業のスケジュールは、しながわ・目黒こどもスクールのウェブサイトでご確認ください。



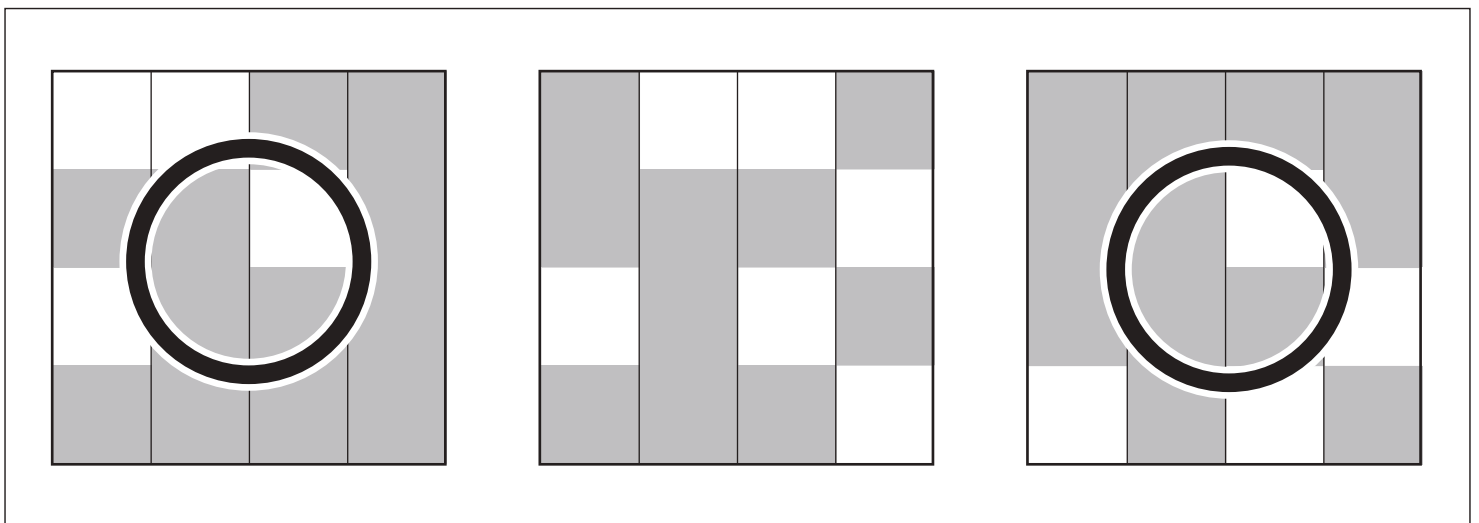
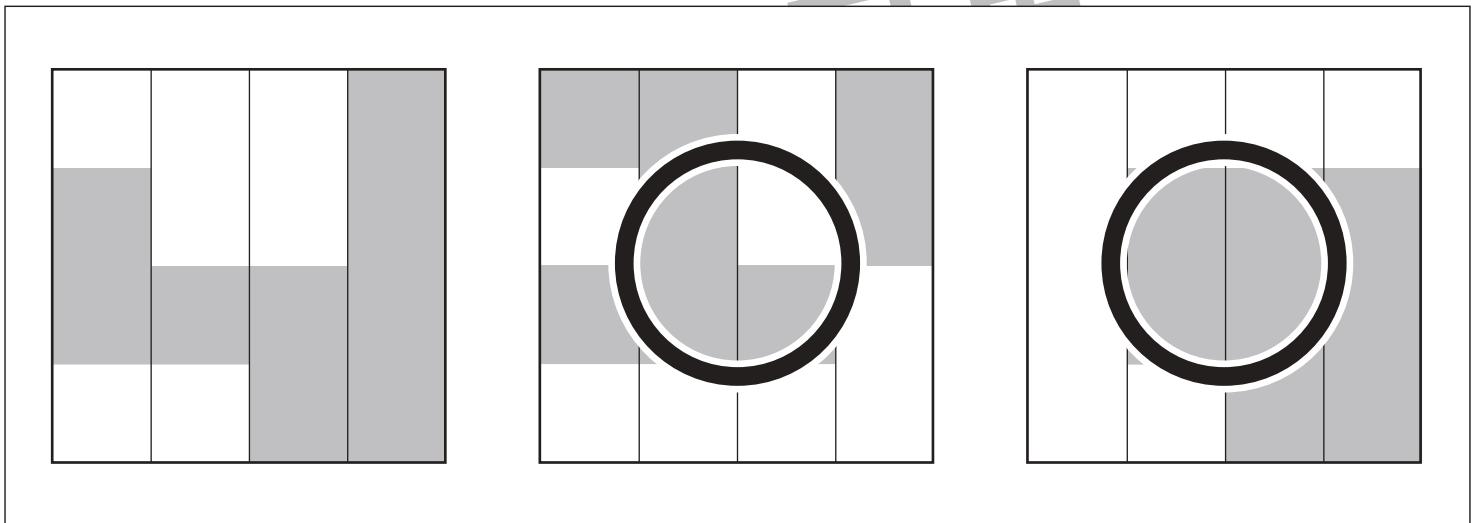
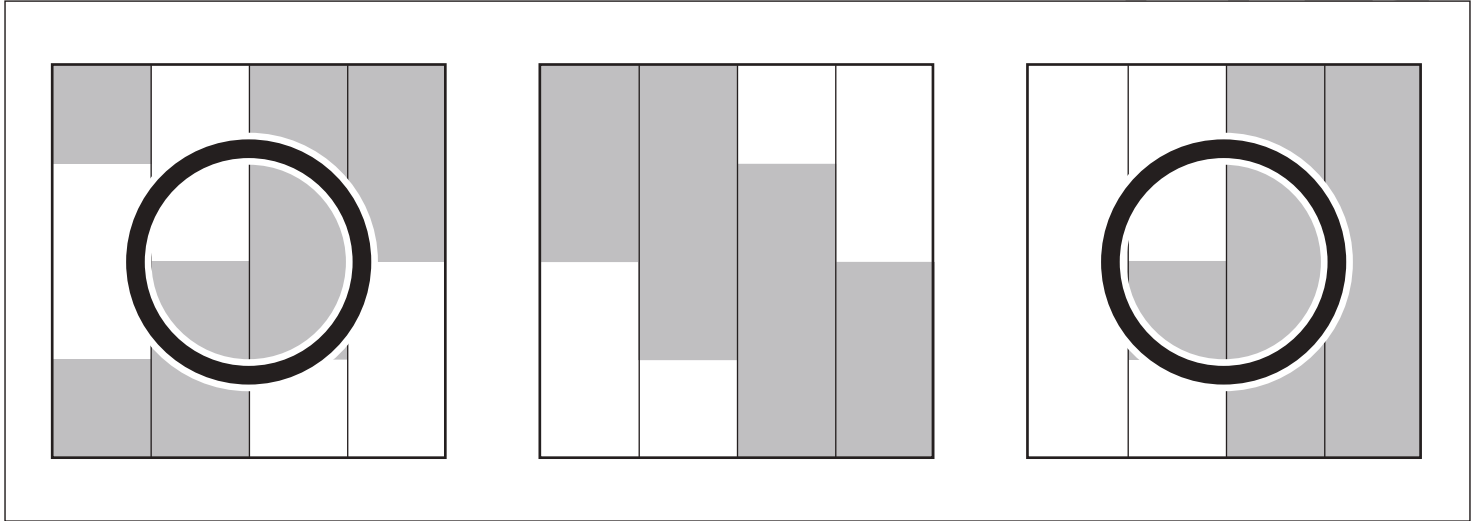
おうちで、やろう。

Study at home. 小学校受験の家庭学習教材

図形：広さ2

横に並んだ3つの四角の中で灰色の部分の広さが同じもの2つに○をつけます。

目黒



※1. このプリントは、しながわ・目黒こどもスクールのウェブサイトからダウンロードできます。無断複写・引用はご遠慮ください。
 ※2. このプリントを活用したオンライン授業のスケジュールは、しながわ・目黒こどもスクールのウェブサイトでご確認ください。






おうちで、やろう。

Study at home. 小学校受験の家庭学習教材

図形：広さ3

横に並んだ3つの四角の中で灰色の部分の広さが同じもの2つに○をつけます。



※1. このプリントは、しながわ・目黒こどもスクールのウェブサイトからダウンロードできます。無断複写・引用はご遠慮ください。
 ※2. このプリントを活用したオンライン授業のスケジュールは、しながわ・目黒こどもスクールのウェブサイトでご確認ください。

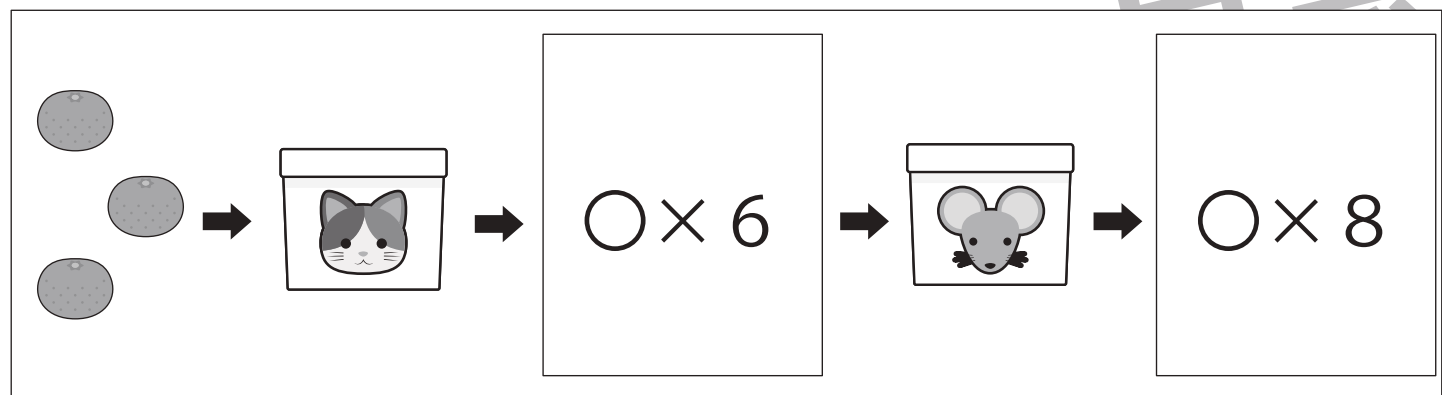
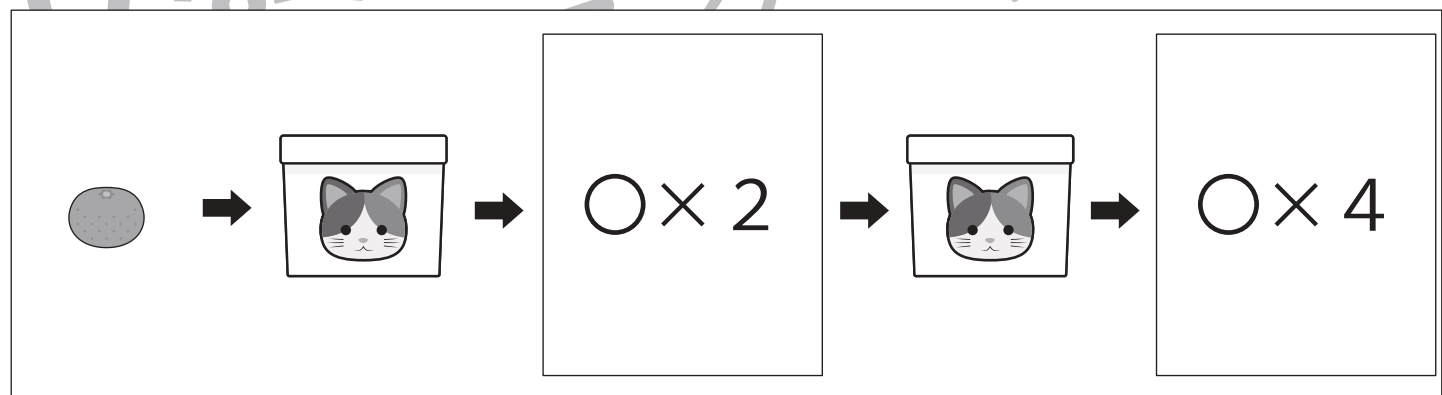
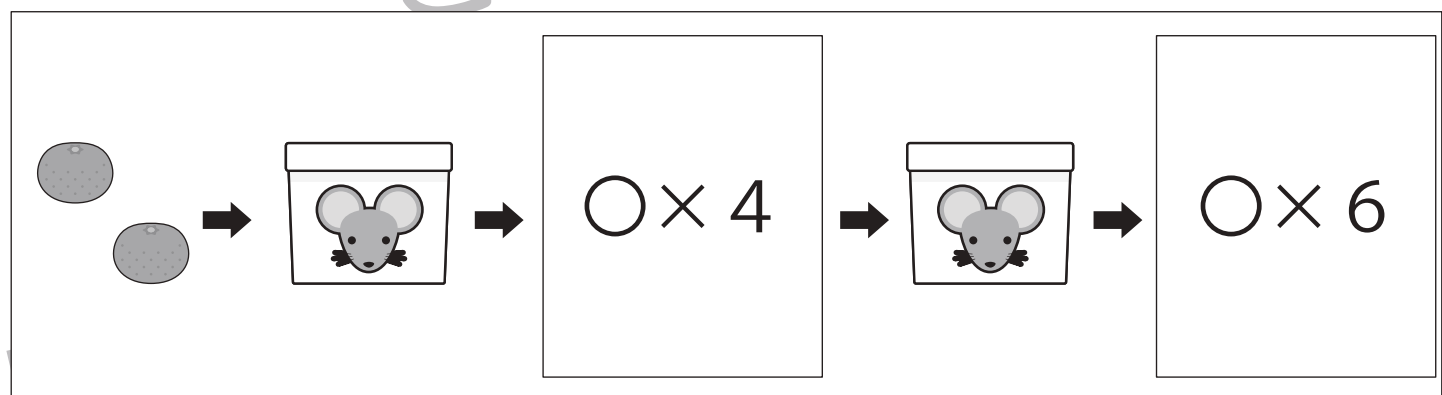
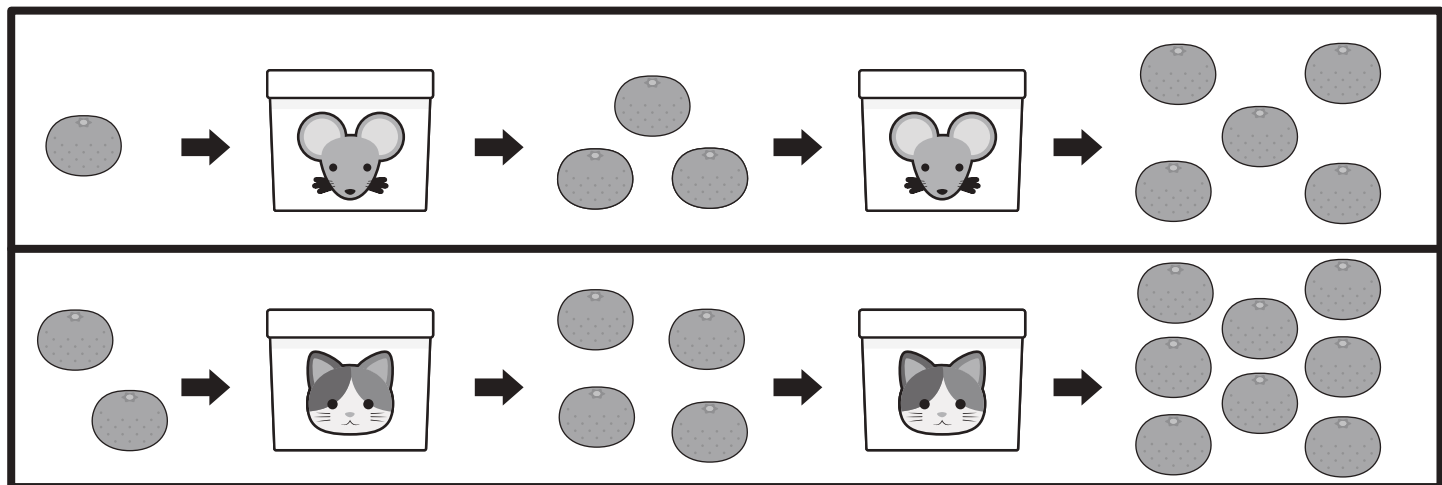


おうちで、やろう。

Study at home. 小学校受験の家庭学習教材

推理：ブラックボックス 20

上の太い四角の中が約束です。それぞれの箱の中にみかんを入れると数が変わって出てきます。
空いている四角の中のみかんの数を考えて、その数だけ四角の中に○をかきます。



※1. このプリントは、しながわ・目黒こどもスクールのウェブサイトでダウンロードができます。無断複写・引用はご遠慮ください。
 ※2. このプリントを活用したオンライン授業のスケジュールは、しながわ・目黒こどもスクールのウェブサイトでご確認ください。



おうちで、やろう。

Study at home. 小学校受験の家庭学習教材

推理：ブラックボックス 21

上の太い四角の中が約束です。それぞれの箱の中にみかんを入れると数が変わって出てきます。
どちらの箱を通ったかを考えて、当てはまるものに○をつけます。

	→		→		→		→	
	→		→		→		→	

	→		→		→		→	
--	---	--	---	--	---	--	---	--

	→		→		→	
--	---	--	---	--	---	--

	→		→		→	
--	---	--	---	--	---	--

※1. このプリントは、しながわ・目黒こどもスクールのウェブサイトでダウンロードができます。無断複写・引用はご遠慮ください。
 ※2. このプリントを活用したオンライン授業のスケジュールは、しながわ・目黒こどもスクールのウェブサイトでご確認ください。



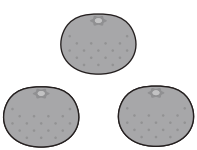

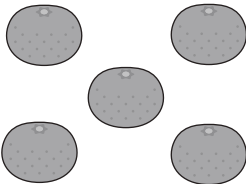
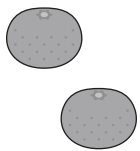
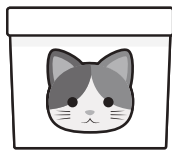
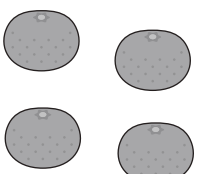

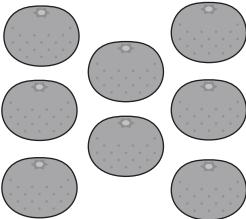



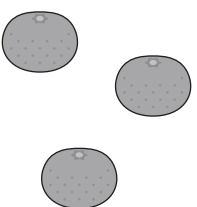

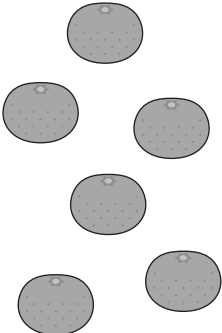
おうちで、やろう。



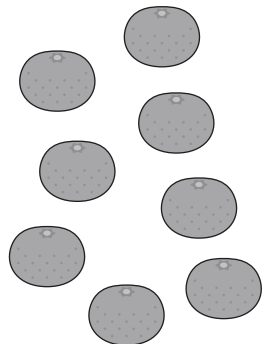
Study at home. 小学校受験の家庭学習教材


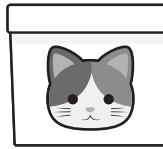
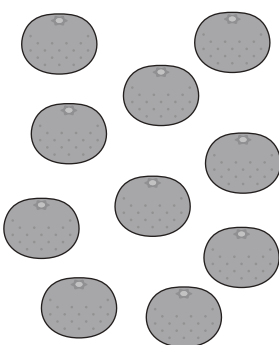
推理：ブラックボックス 22

上の太い四角の中が約束です。それぞれの箱の中にみかんを入れると数が変わって出てきます。
はじめにいくつのみかんがあったかを考えて、その数だけ左の四角の中に○をかきます。

	→		→		→		→	
	→		→		→		→	

$\bigcirc \times 1$	→		→		→		→	
---------------------	---	--	---	--	---	--	---	--

$\bigcirc \times 3$	→		→		→	
---------------------	---	---	---	--	---	---

$\bigcirc \times 3$	→		→		→	
---------------------	---	---	---	--	---	---

※1. このプリントは、しながわ・目黒こどもスクールのウェブサイトでダウンロードができます。無断複写・引用はご遠慮ください。
※2. このプリントを活用したオンライン授業のスケジュールは、しながわ・目黒こどもスクールのウェブサイトでご確認ください。