



おうちで、やろう。 年中児版

Study at home. 小学校受験の家庭学習教材

記憶：絵の記憶8

(記憶用紙)




別紙『記憶 - 絵の記憶8』を行う際に使用します。記憶用紙は点線で折って(切って)、①、②の問題の際にそれぞれ20秒間ずつ記憶させてください。記憶する際は問題用紙は裏返しにします。記憶後①、②それぞれの問題に答えましょう。

①の絵を覚え、お手本にいなかった動物に○をつけます。

②の絵を覚え、お手本と同じ順番の絵に○をつけます。




目黒

①



しながわ・目黒こどもスクール

②



※1. このプリントは、しながわ・目黒こどもスクールのウェブサイトでダウンロードができます。無断複写・引用はご遠慮ください。

※2. このプリントを活用したオンライン授業のスケジュールは、しながわ・目黒こどもスクールのウェブサイトでご確認ください。





おうちで、やろう。 年中児版

Study at home. 小学校受験の家庭学習教材

記憶：絵の記憶 8

(問題用紙)

別紙『記憶 - 絵の記憶 8 記憶用紙』を使用します。記憶用紙の絵を見た後に①、②の問題に取り組みましょう。

※このプリントの解答は記憶用紙で確認してください。

①


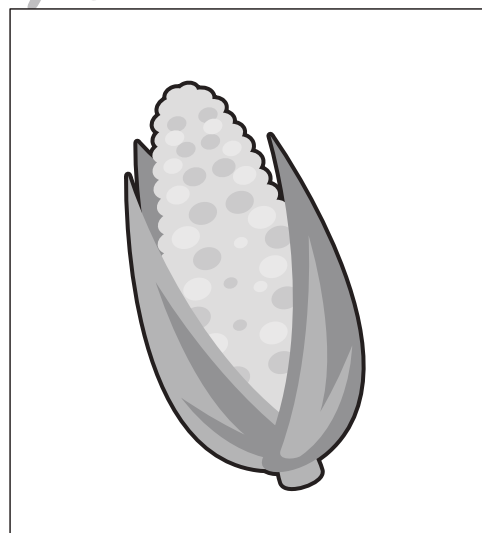







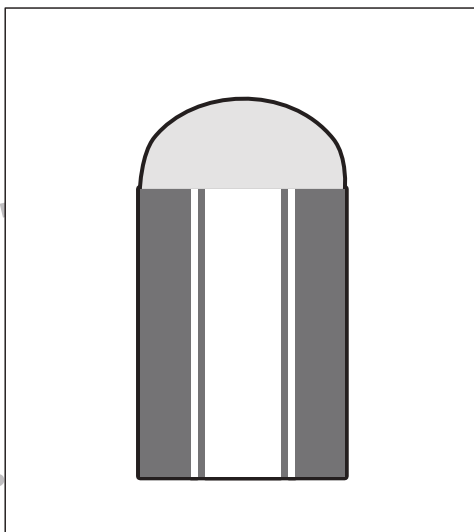


②

※1. このプリントは、しながわ・目黒こどもスクールのウェブサイトでダウンロードができます。無断複写・引用はご遠慮ください。

※2. このプリントを活用したオンライン授業のスケジュールは、しながわ・目黒こどもスクールのウェブサイトでご確認ください。



それぞれの名前の音の数だけ四角の下の○を塗ります。



※1. このプリントは、しながわ・目黒こどもスクールのウェブサイトでダウンロードができます。無断複写・引用はご遠慮ください。
※2. このプリントを活用したオンライン授業のスケジュールは、しながわ・目黒こどもスクールのウェブサイトでご確認ください。



おうちで、やろう。 年中児版

Study at home. 小学校受験の家庭学習教材

図形：移動1

丸で囲んである点から、上の四角の中の矢印の方向へ進み点と点を線で結びます。そして最後についた点を○で囲みます。矢印は左から順番に見ていきます。

→ ↓ → ↓

↑ ↑ ← ↑

← ↑ ↖ ↖

↘ ↓ ↘ →

※1. このプリントは、しながわ・目黒こどもスクールのウェブサイトでダウンロードができます。無断複写・引用はご遠慮ください。
※2. このプリントを活用したオンライン授業のスケジュールは、しながわ・目黒こどもスクールのウェブサイトでご確認ください。



丸で囲んである点から、上の四角の中の矢印の方向へ進み点と点を線で結びます。そして最後についた点を○で囲みます。矢印は左から順番に見ていきます。

↑ ← ← ↓ ←

↗ ↑ ↖ ← ↓

↓ ↙ → → ↗

↗ ↑ → ↗ ↓

※ 1. このプリントは、しながわ・目黒こどもスクールのウェブサイトでダウンロードができます。無断複写・引用はご遠慮ください。
※ 2. このプリントを活用したオンライン授業のスケジュールは、しながわ・目黒こどもスクールのウェブサイトでご確認ください。

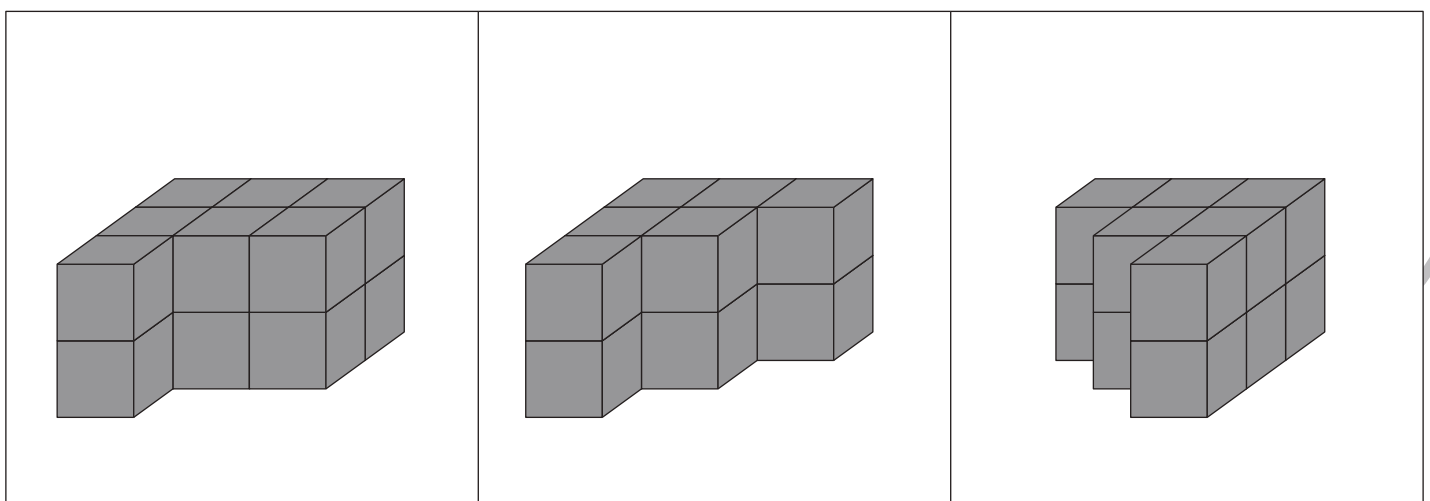
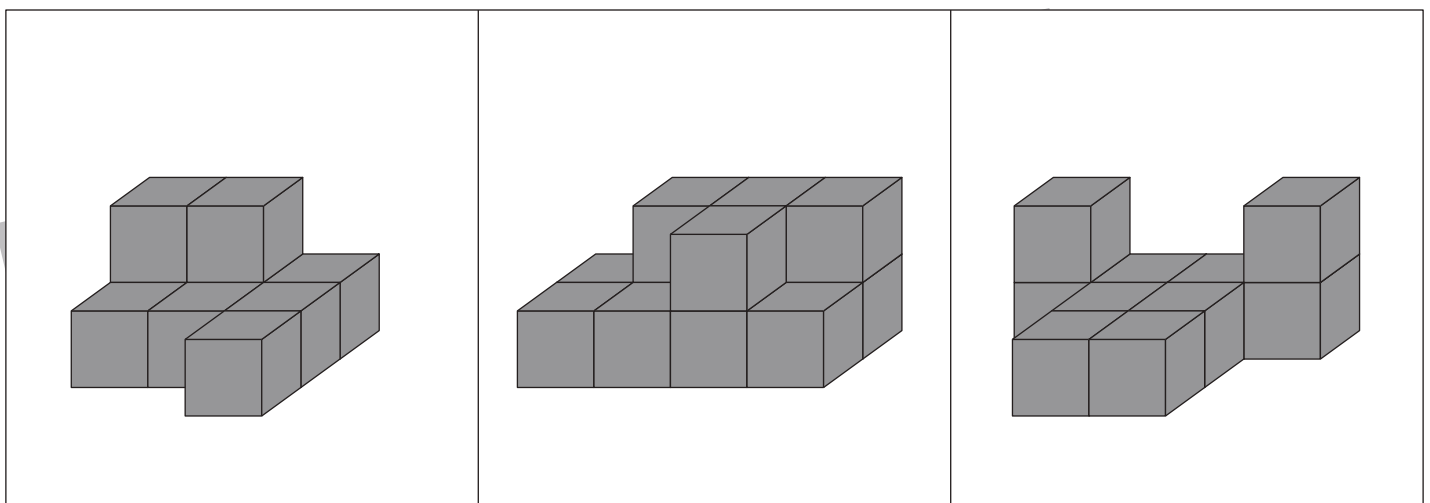
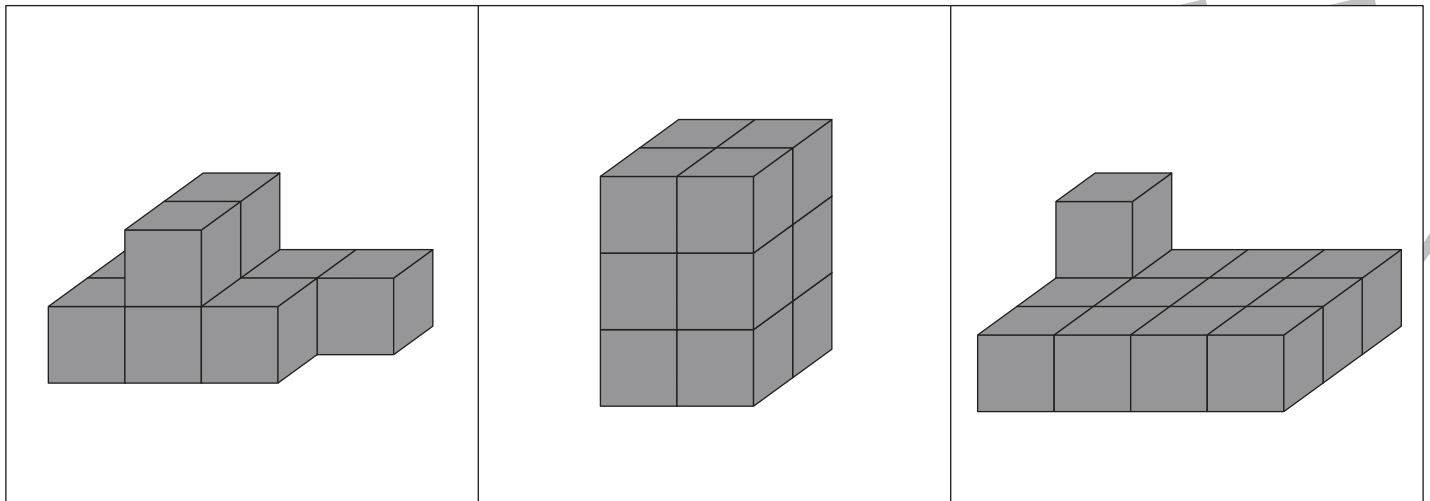


おうちで、やろう。 年中児版

Study at home. 小学校受験の家庭学習教材

数量：積み木の数 7

横に並んだ3つの四角の中で、積み木の数がいちばん多いものに○をつけます。



※1. このプリントは、しながわ・目黒こどもスクールのウェブサイトからダウンロードできます。無断複写・引用はご遠慮ください。
※2. このプリントを活用したオンライン授業のスケジュールは、しながわ・目黒こどもスクールのウェブサイトでご確認ください。

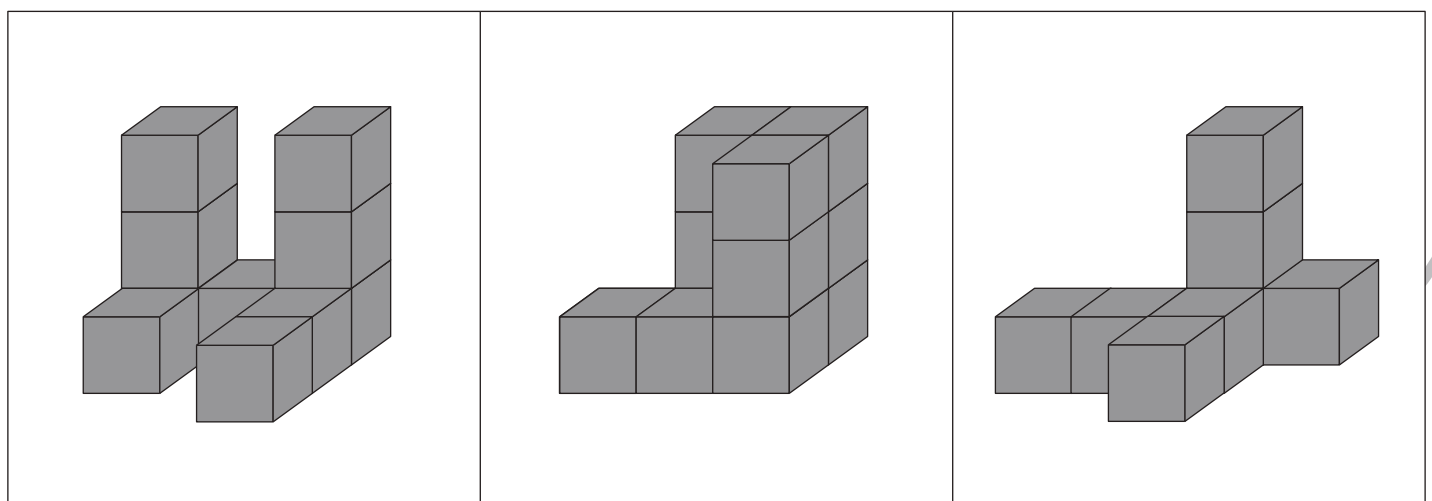
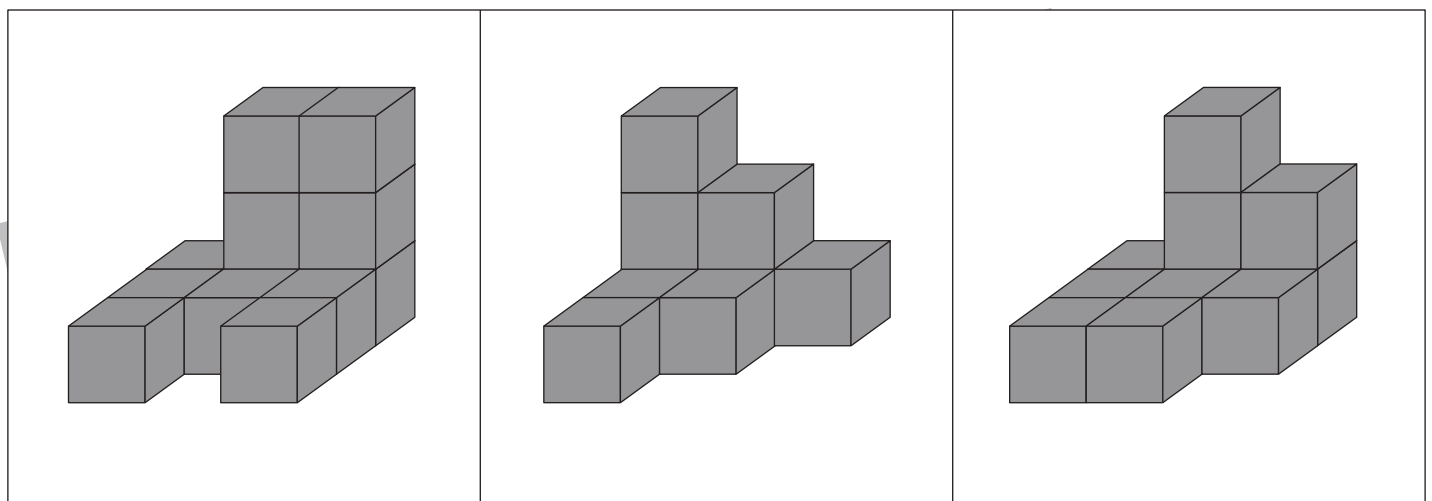
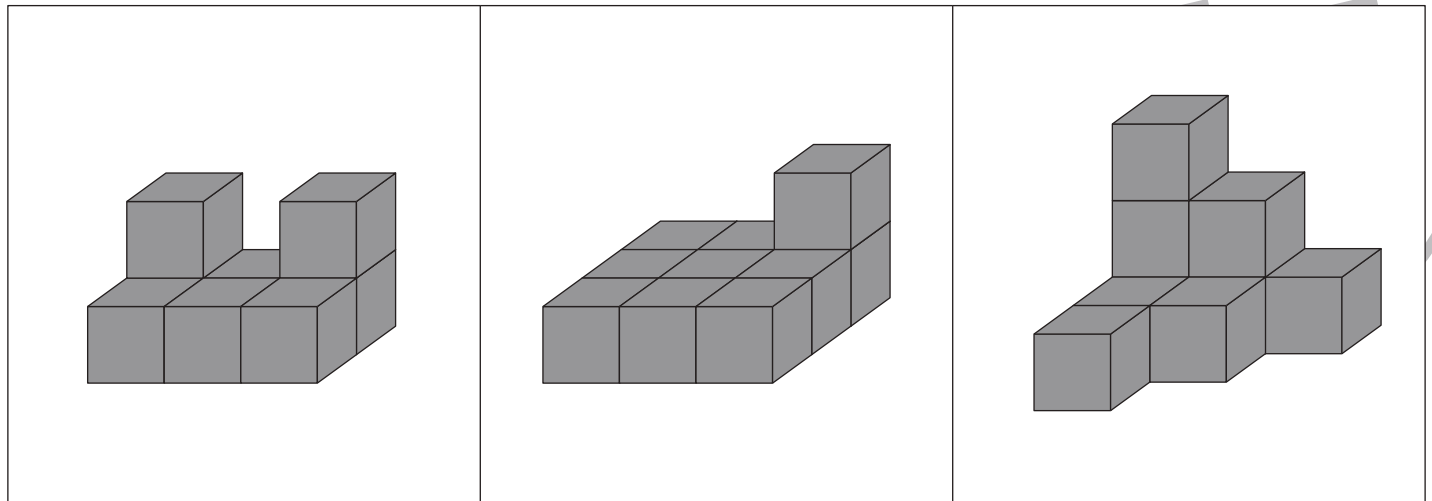


おうちで、やろう。 年中児版

Study at home. 小学校受験の家庭学習教材

数量：積み木の数 8

横に並んだ3つの四角の中で、積み木の数がいちばん多いものに○をつけます。



※1. このプリントは、しながわ・目黒こどもスクールのウェブサイトでダウンロードができます。無断複写・引用はご遠慮ください。
※2. このプリントを活用したオンライン授業のスケジュールは、しながわ・目黒こどもスクールのウェブサイトでご確認ください。








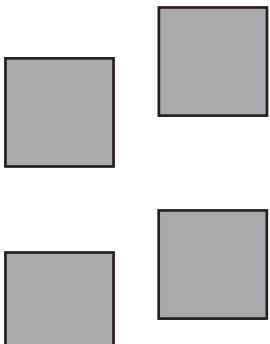










おうちで、よろう。 年中児版

Study at home. 小学校受験の家庭学習教材

数量：同数 13

左の太い四角にある絵の数と同じ数のものを、右の四角の中から選んで○をつけます。

※1. このプリントは、しながわ・目黒こどもスクールのウェブサイトからダウンロードができます。無断複写・引用はご遠慮ください。

※2. このプリントを活用したオンライン授業のスケジュールは、しながわ・目黒こどもスクールのウェブサイトでご確認ください。



左の太い四角の中の絵を数えます。2つの絵の数が同じものを、右の四角から選んで○をつけます。

※1. このプリントは、しながわ・目黒こどもスクールのウェブサイトからダウンロードができます。無断複写・引用はご遠慮ください。

※2. このプリントを活用したオンライン授業のスケジュールは、しながわ・目黒こどもスクールのウェブサイトでご確認ください。