



# おうちで、やろう。

Study at home. 小学校受験の家庭学習教材

## 指示の聞き取り 35

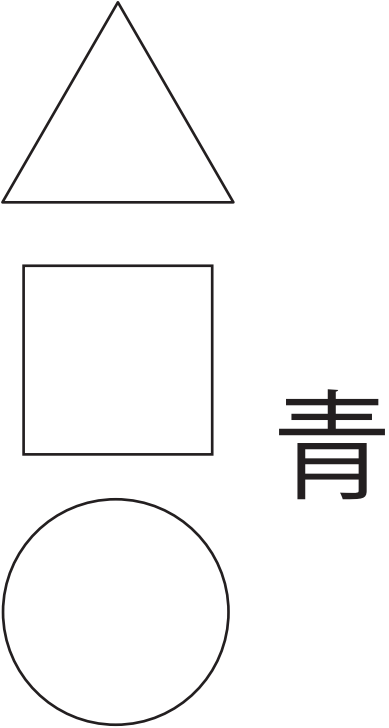
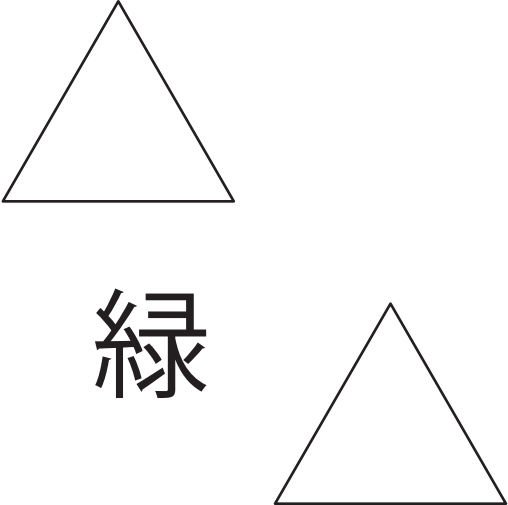

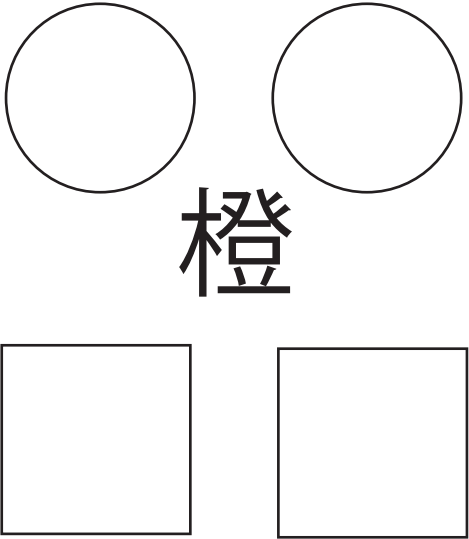
下の四角には部屋が4つあります。①～④の指示通りにそれぞれの部屋に記号をかきます。

①左下の部屋の問題です。その部屋に、赤のクーピーで○をかきます。

②右上の部屋の問題です。その部屋に、緑のクーピーで△を2つかきます。

③右下の部屋の問題です。その部屋に、オレンジのクーピーで○と□を2つずつかきます。

④左上の部屋の問題です。その部屋に、青のクーピーで、縦に並べて上から△、□、○になるようにかきます。

※1. このプリントは、しながわ・目黒こどもスクールのウェブサイトでダウンロードができます。無断複写・引用はご遠慮ください。

※2. このプリントを活用したオンライン授業のスケジュールは、しながわ・目黒こどもスクールのウェブサイトでご確認ください。



# おうちで、やろう。

Study at home. 小学校受験の家庭学習教材

常識：おしごと1

お話をしている人が何のお仕事をしているかを考えます。正しいと思う絵に○をつけましょう。

- ①. 私は、お家に荷物を届ける配達のお仕事をしています。今日も段ボール箱がいっぱい、頑張るぞ。さて、私はどんな姿でしょう。
- ②. 私は、工事現場で働く人たちが安全に作業ができるようにお手伝いをするお仕事をしています。さて、私はどんな姿でしょう。
- ③. 私は、薬局という場所でお仕事をしています。患者さんにお薬の正しい飲み方を説明したりします。さて、私はどんな姿でしょう。
- ④. 私は、警察署という場所でお仕事をしています。町の安全を守ることに誇りをもっています。さて、私はどんな姿でしょう。

①



②



③



④



※ 1. このプリントは、しながわ・目黒こどもスクールのウェブサイトでダウンロードができます。無断複写・引用はご遠慮ください。

※ 2. このプリントを活用したオンライン授業のスケジュールは、しながわ・目黒こどもスクールのウェブサイトでご確認ください。



# おうちで、やろう。

Study at home. 小学校受験の家庭学習教材

## 常識：おしごと2


お話をしている人が何のお仕事をしているかを考えます。正しいと思う絵に○をつけましょう。

- ①. 私は、火事の現場で消火をおこなったり、救急車でけが人を病院に運ぶお仕事をしています。さて、私はどんな姿でしょう。
- ②. 私は、お寺でお墓を守ったり、葬式に呼ばれたりします。私をお坊さんと呼ぶ人もいます。さて、私はどんな姿でしょう。
- ③. 私は、甘いスイーツを作るのが得意なパティシエというお仕事をしています。さて、私はどんな姿でしょう。
- ④. 私は、森の木を切ったり、その木を整えたり、新しく木を植えたりするお仕事をしています。さて、私はどんな姿でしょう。

①



②



③



④



※ 1. このプリントは、しながわ・目黒こどもスクールのウェブサイトでダウンロードができます。無断複写・引用はご遠慮ください。  
 ※ 2. このプリントを活用したオンライン授業のスケジュールは、しながわ・目黒こどもスクールのウェブサイトでご確認ください。







# おうちで、やろう。

Study at home. 小学校受験の家庭学習教材

図形：オセロ6

四角の中の●と●で挟まれた○を（たて・よこ・ななめ）すべて塗ります。自分で塗った●で挟まれた箇所は塗らないようにします。



※1. このプリントは、しながわ・目黒こどもスクールのウェブサイトでダウンロードができます。無断複写・引用はご遠慮ください。  
 ※2. このプリントを活用したオンライン授業のスケジュールは、しながわ・目黒こどもスクールのウェブサイトでご確認ください。







# おうちで、やろう。

Study at home. 小学校受験の家庭学習教材

図形：オセロ 7

四角の中の●と●で挟まれた○を（たて・よこ・ななめ）すべて塗ります。自分で塗った●で挟まれた箇所は塗らないようにします。



※1. このプリントは、しながわ・目黒こどもスクールのウェブサイトでダウンロードができます。無断複写・引用はご遠慮ください。  
 ※2. このプリントを活用したオンライン授業のスケジュールは、しながわ・目黒こどもスクールのウェブサイトでご確認ください。



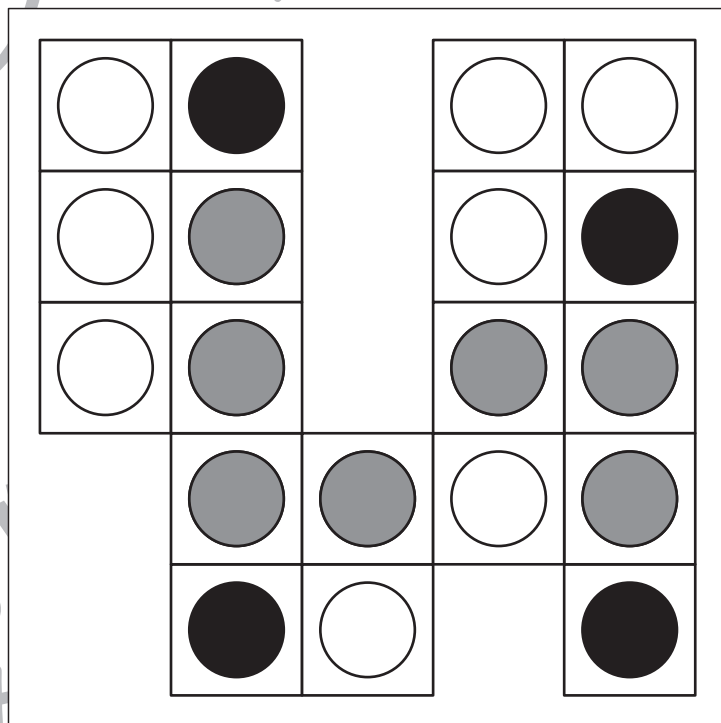
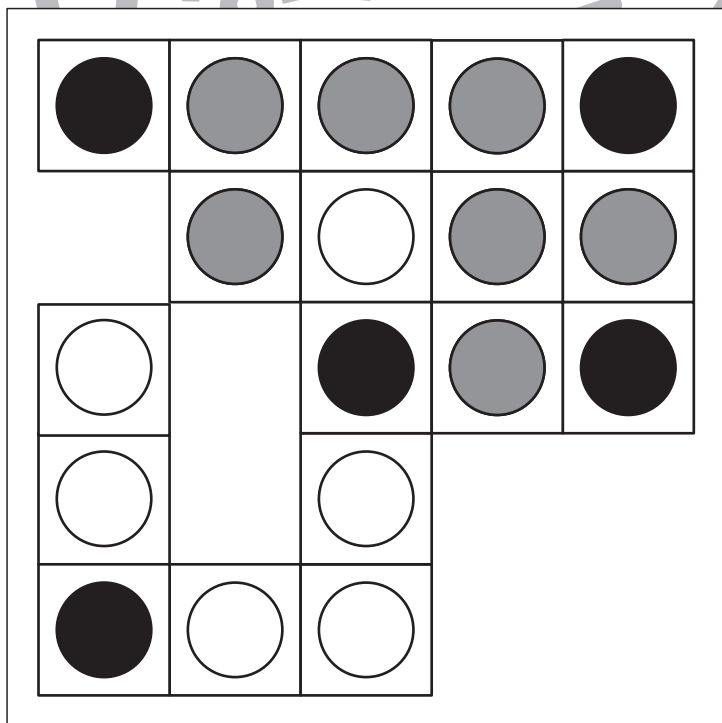
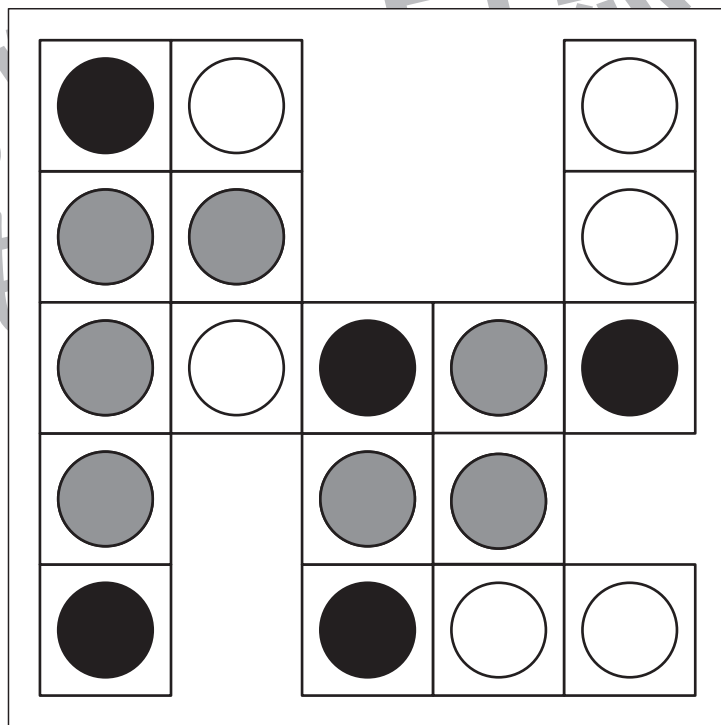
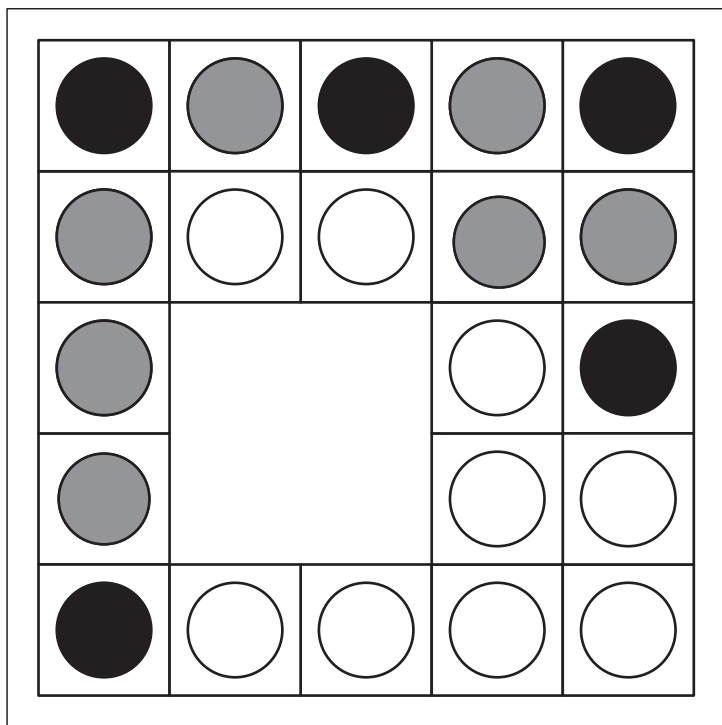


# おうちで、やろう。

Study at home. 小学校受験の家庭学習教材

図形：オセロ8

四角の中の●と●で挟まれた○を（たて・よこ・ななめ）すべて塗ります。自分で塗った●で挟まれた箇所は塗らないようにします。



※1. このプリントは、しながわ・目黒こどもスクールのウェブサイトでダウンロードができます。無断複写・引用はご遠慮ください。  
 ※2. このプリントを活用したオンライン授業のスケジュールは、しながわ・目黒こどもスクールのウェブサイトでご確認ください。



# おうちで、やろう。

Study at home. 小学校受験の家庭学習教材

数量：広さ 18

四角の中の灰色のマスが一番広いものには○、二番目に広いものには×をつけます。

--	--	--	--

--	--	--	--

--	--	--	--

--	--	--	--

※1. このプリントは、しながわ・目黒こどもスクールのウェブサイトからダウンロードできます。無断複写・引用はご遠慮ください。  
 ※2. このプリントを活用したオンライン授業のスケジュールは、しながわ・目黒こどもスクールのウェブサイトでご確認ください。



# おうちで、やろう。

Study at home. 小学校受験の家庭学習教材

数量：広さ 19

四角の中の灰色のマスが一番広いものには○、二番目に広いものには×をつけます。

--	--	--	--

--	--	--	--

--	--	--	--

--	--	--	--

※1. このプリントは、しながわ・目黒こどもスクールのウェブサイトからダウンロードできます。無断複写・引用はご遠慮ください。  
 ※2. このプリントを活用したオンライン授業のスケジュールは、しながわ・目黒こどもスクールのウェブサイトでご確認ください。



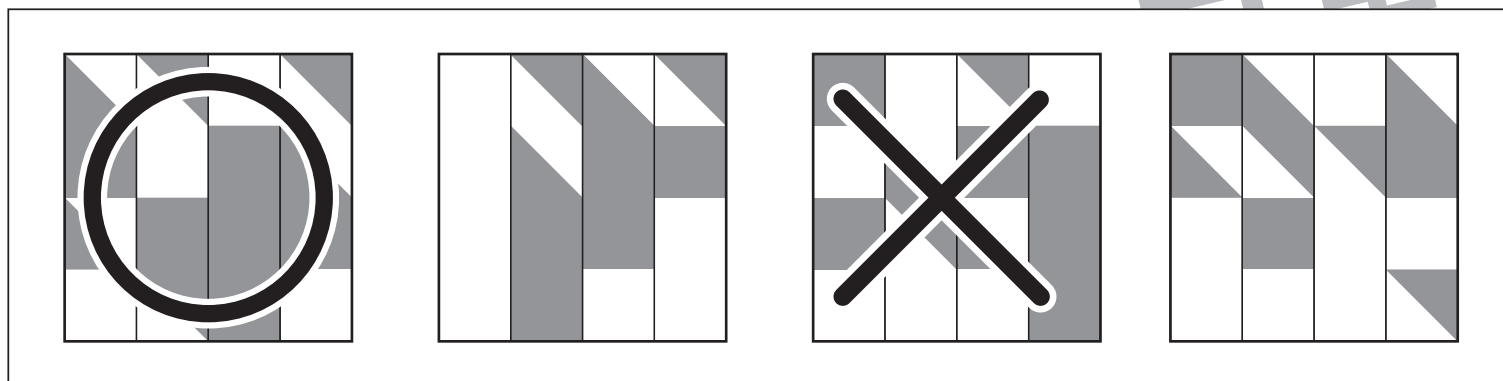
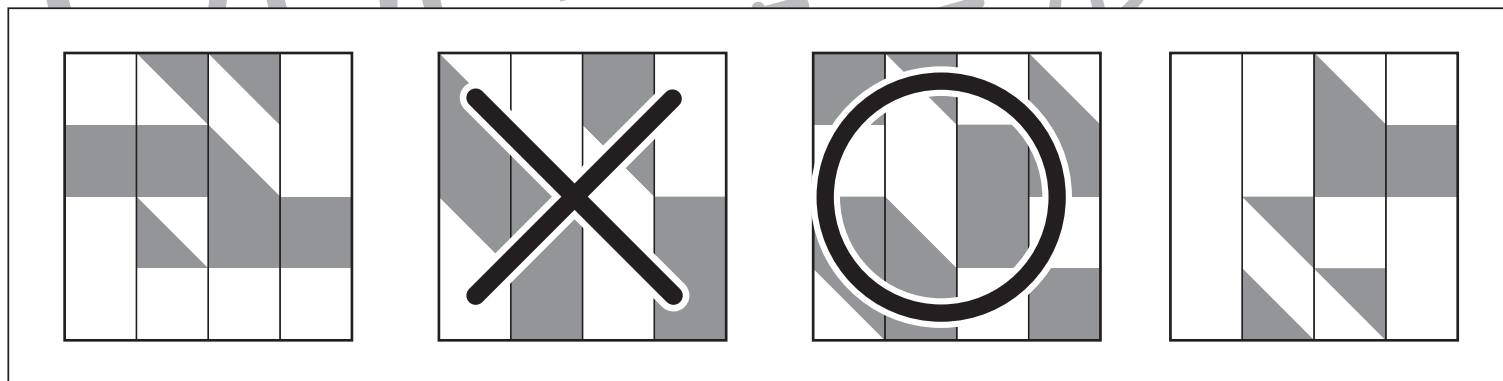
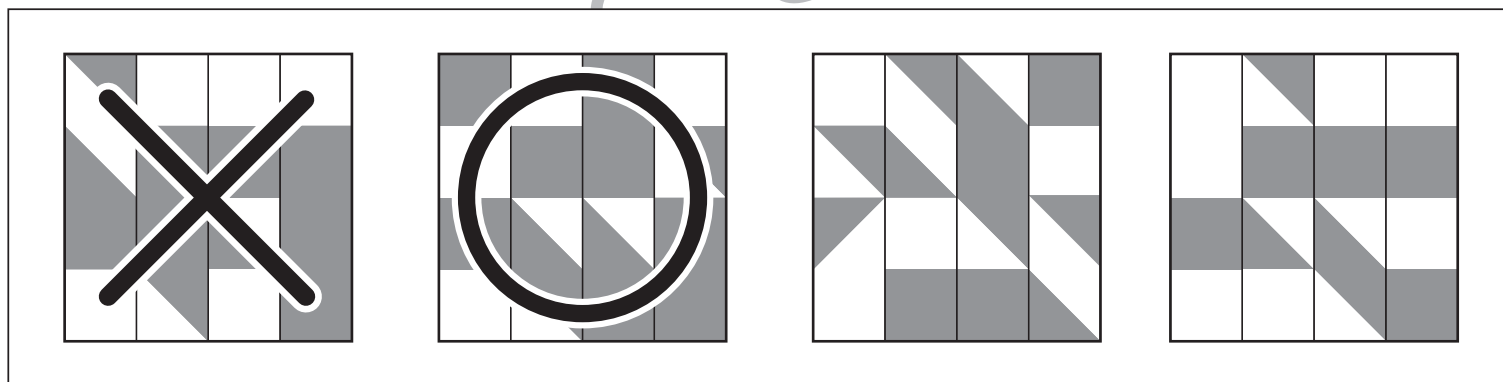
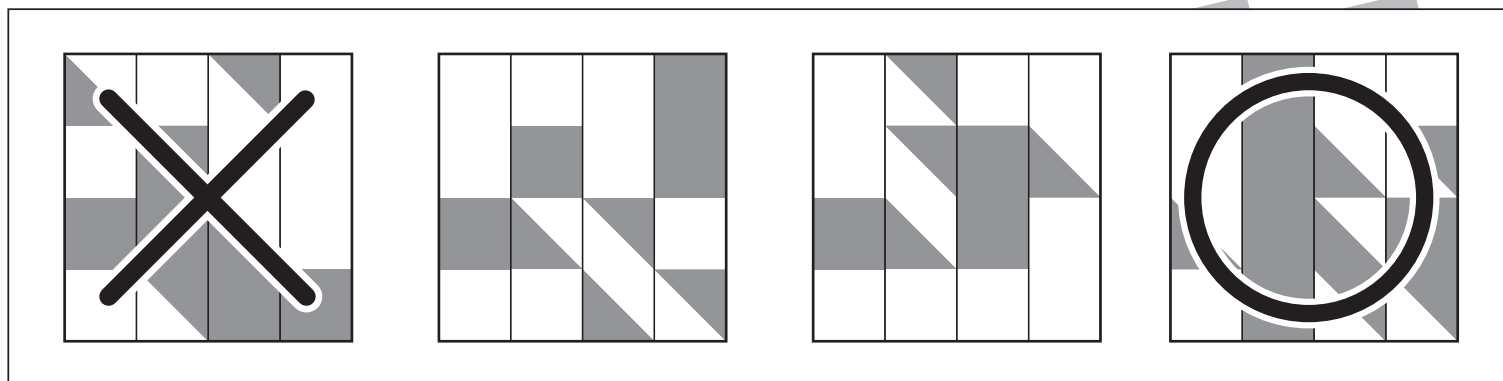


# おうちで、やろう。

Study at home. 小学校受験の家庭学習教材

数量：広さ 20

四角の中の灰色のマスが一番広いものには○、二番目に広いものには×をつけます。



※1. このプリントは、しながわ・目黒こどもスクールのウェブサイトからダウンロードできます。無断複写・引用はご遠慮ください。  
 ※2. このプリントを活用したオンライン授業のスケジュールは、しながわ・目黒こどもスクールのウェブサイトでご確認ください。



# おうちで、やろう。

Study at home. 小学校受験の家庭学習教材

処理：置き換え 1

上の太い四角の中が約束です。この約束通りに下のマスに記号をかきます。  
この問題はスピードを意識して取り組む練習をしてみましょう。(それぞれ1分30秒～2分)

→ ○	→ △	→ ⊙	→ ×	→ □
-----	-----	-----	-----	-----




	○		×		□	⊙	×	○		□	⊙		△	
	□	△		○			⊙	○		□		△	×	□
⊙				×	△			⊙	×		△			○

→ 1	→ 2	→ 3	→ 4	→ 5
-----	-----	-----	-----	-----




1			5	2		3		2		5		4	3	2
	1		3		5	1			4	2	3		5	
4		1		2	4		1	5		4			3	

※1. このプリントは、しながわ・目黒こどもスクールのウェブサイトでダウンロードができます。無断複写・引用はご遠慮ください。  
※2. このプリントを活用したオンライン授業のスケジュールは、しながわ・目黒こどもスクールのウェブサイトでご確認ください。