



指示を聞いて、それぞれの問題に答えます。

① 右から2番目のかき氷を赤色のクーピーで塗ります。

② 三角を緑色のクーピーで、四角を黄色のクーピーで塗ります。

③ 上の段の左から2番目の〇と、下の段の右端の〇を青のクーピーで塗ります。


①



②



③



※1. このプリントは、しながわ・目黒こどもスクールのウェブサイトからダウンロードができます。無断複写・引用はご遠慮ください。

※2. このプリントを活用したオンライン授業のスケジュールは、しながわ・目黒こどもスクールのウェブサイトでご確認ください。



おうちで、やろう。 年中児版

Study at home. 小学校受験の家庭学習教材

言語：音の数 14

太い四角の中の絵と同じ音の数の絵3つに○をつけます。

Illustration 1: A squid in a thick square frame.

Illustration 2: An octopus in a circle.

Illustration 3: A dolphin.

Illustration 4: A crab in a circle.

Illustration 5: A frog in a circle.

Illustration 6: A bear.

Illustration 7: A shark.

Illustration 1: A hedgehog in a thick square frame.

Illustration 2: A zebra.

Illustration 3: A rabbit in a circle.

Illustration 4: A lion.

Illustration 5: A cat in a circle.

Illustration 6: A fox.

Illustration 7: A stork in a circle.

Illustration 1: A tree in a thick square frame.

Illustration 2: A box of tissues in a circle.

Illustration 3: Two cherries.

Illustration 4: A watermelon in a circle.

Illustration 5: A carrot.

Illustration 6: A pineapple in a circle.

Illustration 7: An onigiri.

※1. このプリントは、しながわ・目黒こどもスクールのウェブサイトからダウンロードできます。無断複写・引用はご遠慮ください。
 ※2. このプリントを活用したオンライン授業のスケジュールは、しながわ・目黒こどもスクールのウェブサイトでご確認ください。


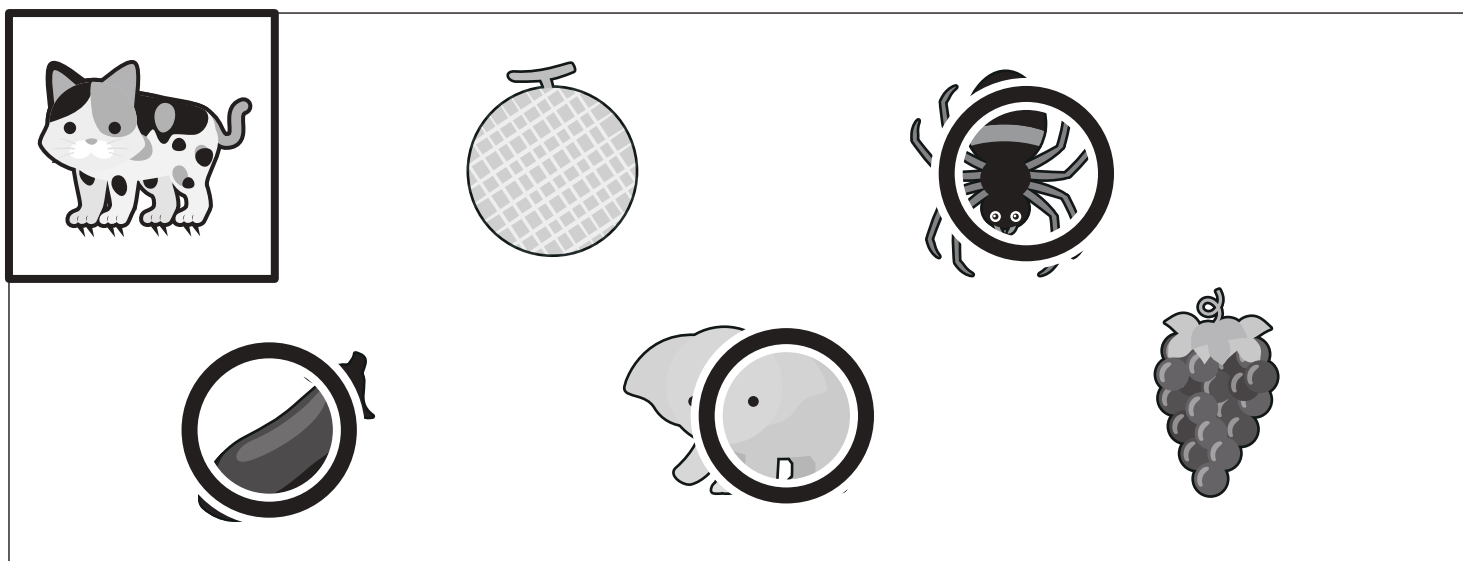



おうちで、やろう。 年中児版

Study at home. 小学校受験の家庭学習教材

言語：音の数 15

太い四角の中の絵と同じ音の数の絵3つに○をつけます。



※1. このプリントは、しながわ・目黒こどもスクールのウェブサイトからダウンロードできます。無断複写・引用はご遠慮ください。
 ※2. このプリントを活用したオンライン授業のスケジュールは、しながわ・目黒こどもスクールのウェブサイトでご確認ください。

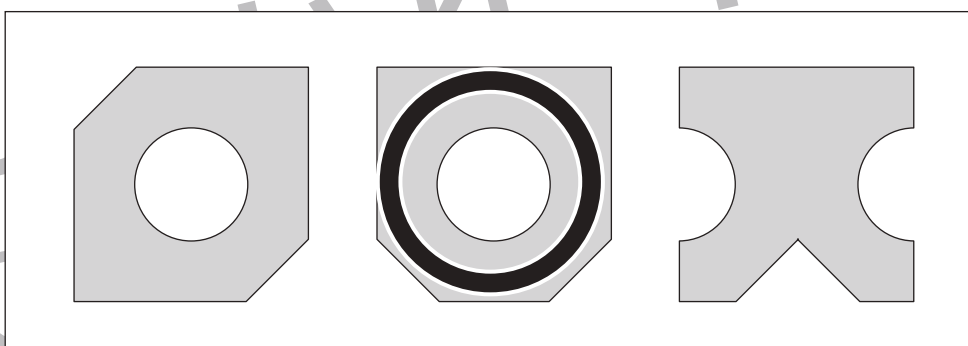
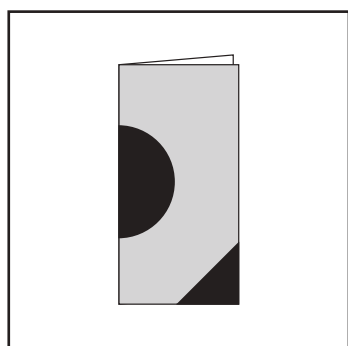



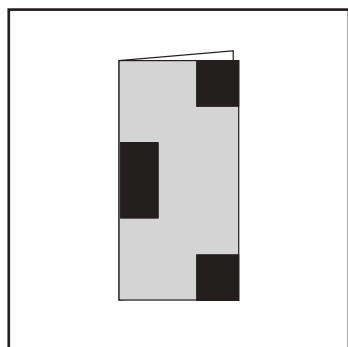
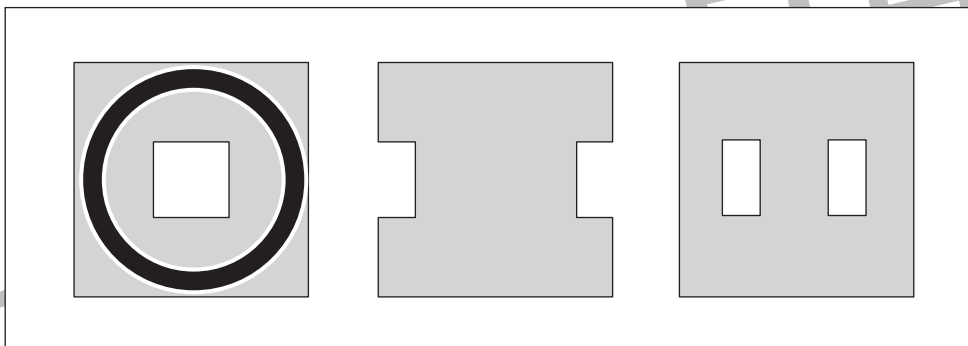
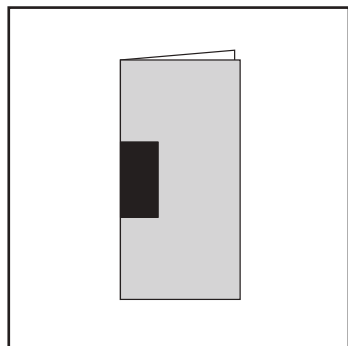


おうちで、やろう。 年中児版

Study at home. 小学校受験の家庭学習教材

図形：切り抜き 9

左の折り紙の黒い部分を切り抜いて開いたときの見え方を考えて、正しいものに○をつけます。



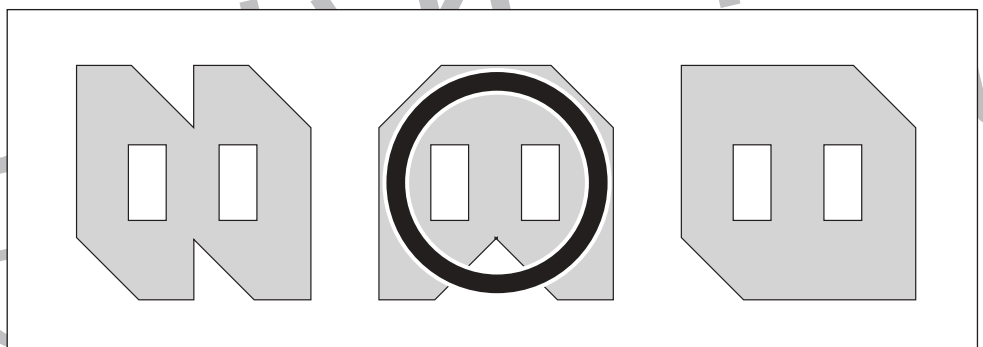
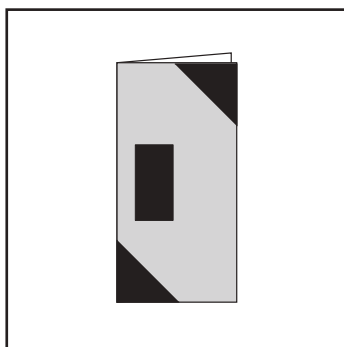
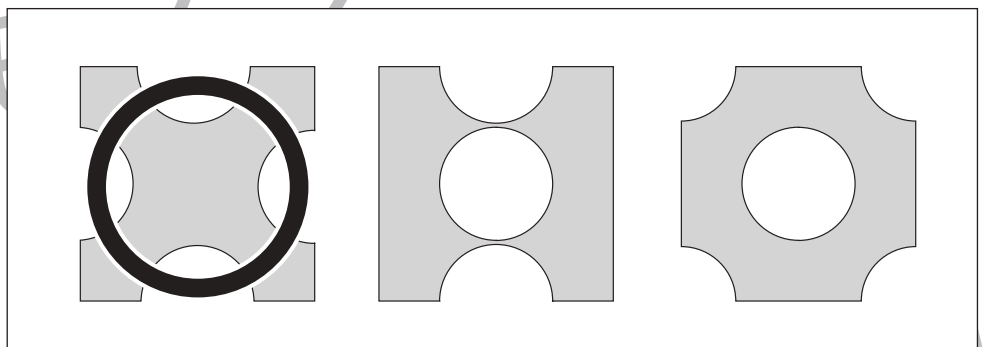
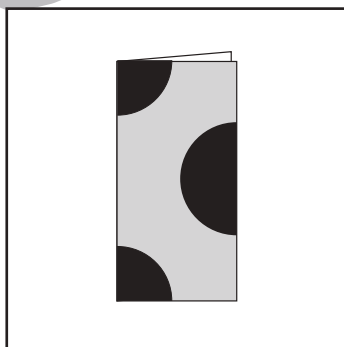
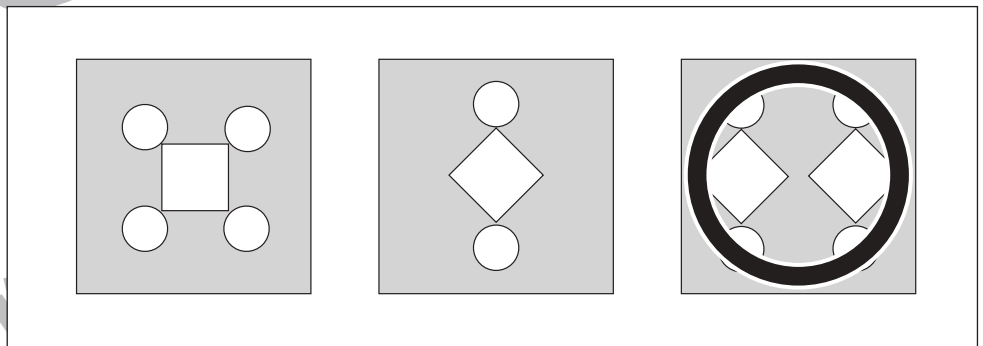
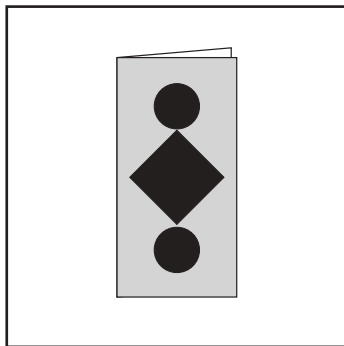
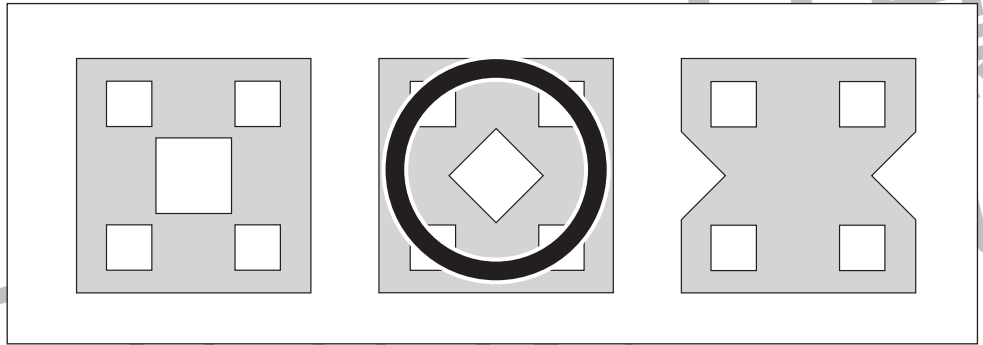
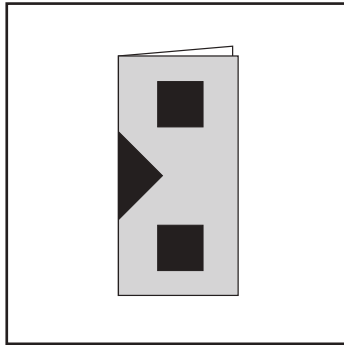
※1. このプリントは、しながわ・目黒こどもスクールのウェブサイトでダウンロードができます。無断複写・引用はご遠慮ください。

※2. このプリントを活用したオンライン授業のスケジュールは、しながわ・目黒こどもスクールのウェブサイトでご確認ください。





左の折り紙の黒い部分を切り抜いて開いたときの見え方を考えて、正しいものに○をつけます。



※1. このプリントは、しながわ・目黒こどもスクールのウェブサイトからダウンロードできます。無断複写・引用はご遠慮ください。
※2. このプリントを活用したオンライン授業のスケジュールは、しながわ・目黒こどもスクールのウェブサイトでご確認ください。



おうちで、やろう。 年中児版

Study at home. 小学校受験の家庭学習教材

数量：ちがう数 1

ライオンさんとぞうさんが持っている果物の数は、いくつ違いますか。
その数だけ、下の四角にある果物に1つずつ○をつけます。

※1. このプリントは、しながわ・目黒こどもスクールのウェブサイトでダウンロードができます。無断複写・引用はご遠慮ください。
※2. このプリントを活用したオンライン授業のスケジュールは、しながわ・目黒こどもスクールのウェブサイトでご確認ください。



おうちで、やろう。 年中児版

Study at home. 小学校受験の家庭学習教材




推理：順位付け8

①～③のお話を聞いて、問題に答えます。

① 一番小さいスイカに○をつけます。

② 二番目に背の高いひまわりに○をつけます。

③ ついているリボンが二番目に小さい帽子に○をつけます。



※1. このプリントは、しながわ・目黒こどもスクールのウェブサイトからダウンロードできます。無断複写・引用はご遠慮ください。

※2. このプリントを活用したオンライン授業のスケジュールは、しながわ・目黒こどもスクールのウェブサイトでご確認ください。