



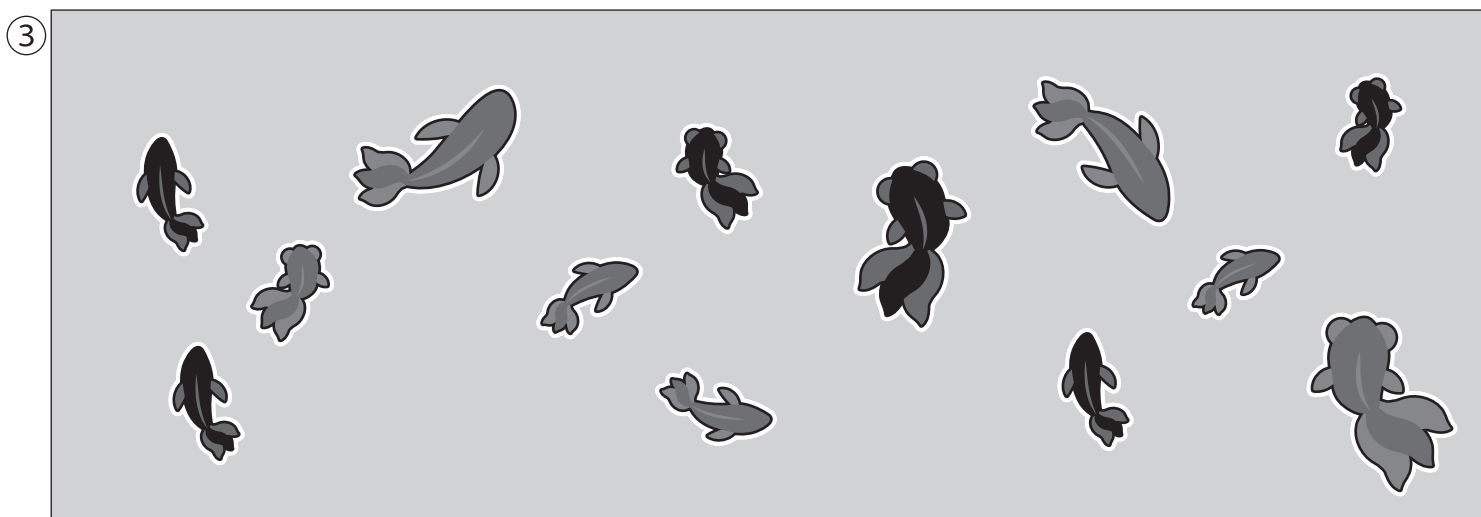


おうちで、やろう。

Study at home. 小学校受験の家庭学習教材

指示の聞き取り 40

お話を聞いて線をかいたり色を塗ったりします。

- ①右手を上にかけている人のズボンを、赤のクーピーで塗ります。
- ②上の段の右から四番目のヨーヨーの点線を青のクーピーでなぞります。
- ③左端にいる小さな金魚三匹をまとめて緑のクーピーで囲みます。



※1. このプリントは、しながわ・目黒こどもスクールのウェブサイトからダウンロードできます。無断複写・引用はご遠慮ください。
 ※2. このプリントを活用したオンライン授業のスケジュールは、しながわ・目黒こどもスクールのウェブサイトでご確認ください。








おうちで、やろう。

Study at home. 小学校受験の家庭学習教材

言語：音の数 37

左の四角と右の四角の音の数をあわせると7になるように、点を線でつなぎます。



※1. このプリントは、しながわ・目黒こどもスクールのウェブサイトでダウンロードができます。無断複写・引用はご遠慮ください。
※2. このプリントを活用したオンライン授業のスケジュールは、しながわ・目黒こどもスクールのウェブサイトでご確認ください。

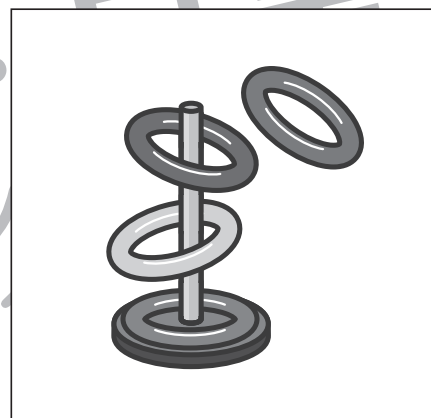

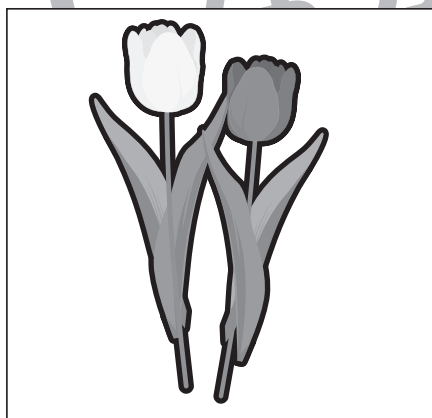





おうちで、やろう。

Study at home. 小学校受験の家庭学習教材

言語：音の数 38

左の四角と右の四角の音の数をあわせると8になるように、点を線でつなぎます。



※1. このプリントは、しながわ・目黒こどもスクールのウェブサイトでダウンロードができます。無断複写・引用はご遠慮ください。
※2. このプリントを活用したオンライン授業のスケジュールは、しながわ・目黒こどもスクールのウェブサイトでご確認ください。


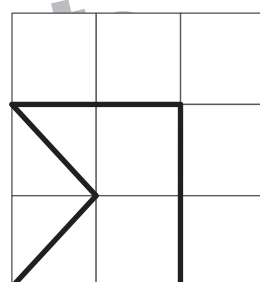



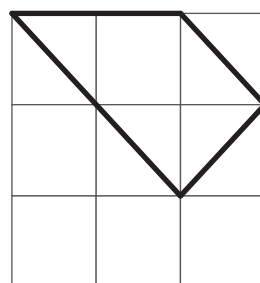

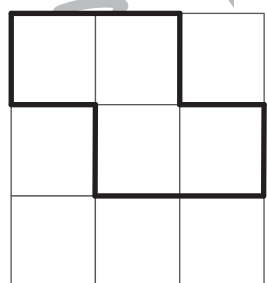
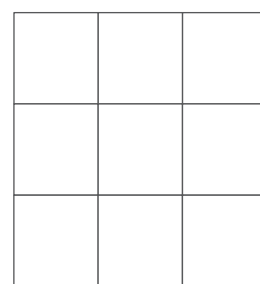
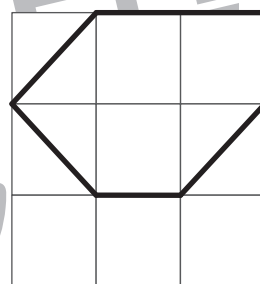



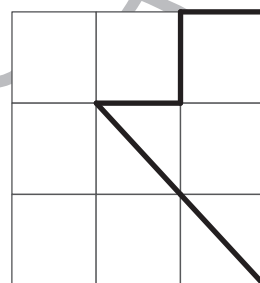

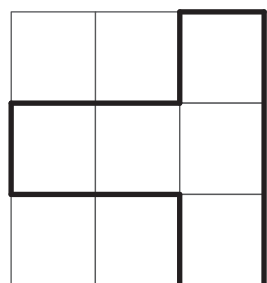

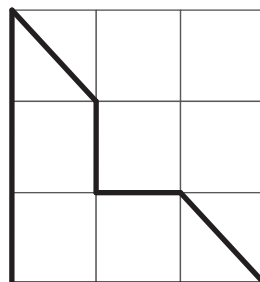

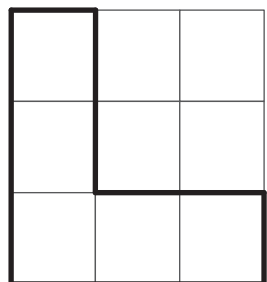


おうちで、よろう。

Study at home. 小学校受験の家庭学習教材

図形：鏡 25

左の形を黒い線の上に鏡を置いて見た時の見え方を考えて、右の四角にかきます。



※1. このプリントは、しながわ・目黒こどもスクールのウェブサイトでダウンロードができます。無断複写・引用はご遠慮ください。
※2. このプリントを活用したオンライン授業のスケジュールは、しながわ・目黒こどもスクールのウェブサイトでご確認ください。

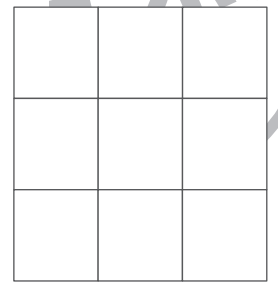
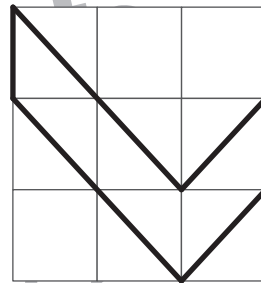

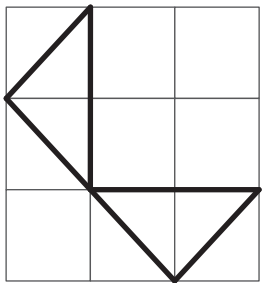
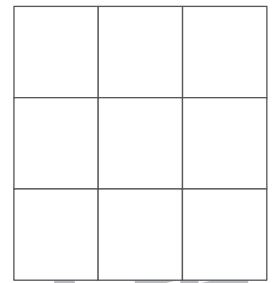
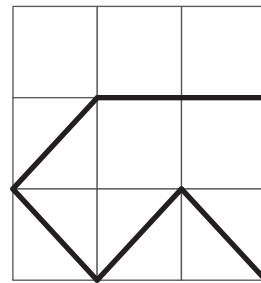

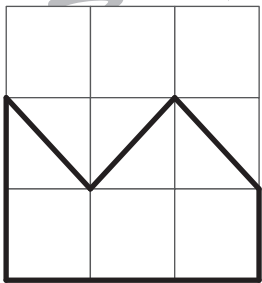
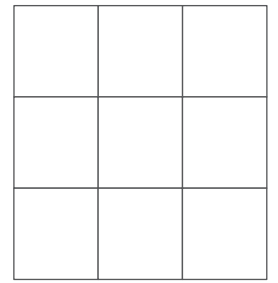


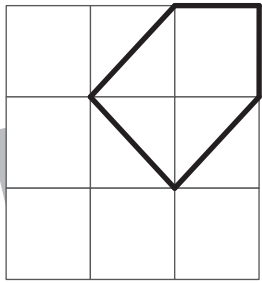
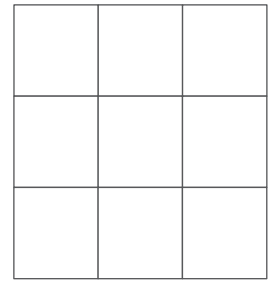
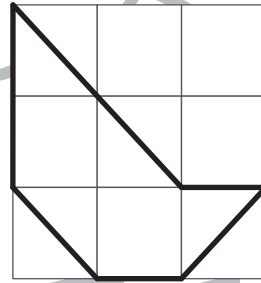

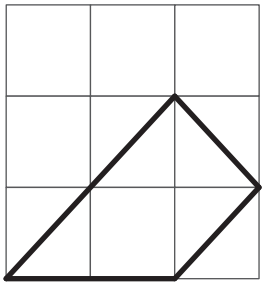
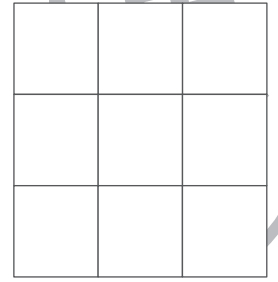
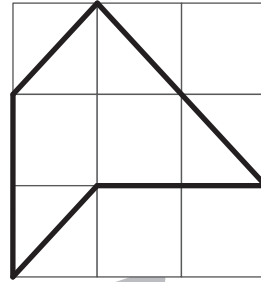

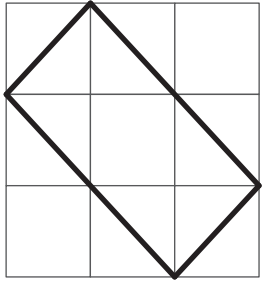


おうちで、よろう。

Study at home. 小学校受験の家庭学習教材

図形：鏡 26

左の形を黒い線の上に鏡を置いて見た時の見え方を考えて、右の四角にかきます。



※1. このプリントは、しながわ・目黒こどもスクールのウェブサイトでダウンロードができます。無断複写・引用はご遠慮ください。
※2. このプリントを活用したオンライン授業のスケジュールは、しながわ・目黒こどもスクールのウェブサイトでご確認ください。



おうちで、やろう。

Study at home. 小学校受験の家庭学習教材

数量：加減 24

一番左の四角の野菜が真ん中の四角の約束通りに数が増えたり減ったりします。○はその数だけ増え、●はその数だけ減る約束のとき、正しい野菜の数の四角を右から選んで○をつけます。

	<input type="radio"/> <input type="radio"/>				
	<input type="radio"/> <input type="radio"/> <input type="radio"/> <input checked="" type="radio"/>				
	<input type="radio"/> <input checked="" type="radio"/> <input checked="" type="radio"/>				
	<input type="radio"/> <input type="radio"/> <input checked="" type="radio"/> <input checked="" type="radio"/>				
	<input type="radio"/> <input type="radio"/> <input checked="" type="radio"/> <input type="radio"/> <input checked="" type="radio"/>				

※1. このプリントは、しながわ・目黒こどもスクールのウェブサイトからダウンロードできます。無断複写・引用はご遠慮ください。

※2. このプリントを活用したオンライン授業のスケジュールは、しながわ・目黒こどもスクールのウェブサイトでご確認ください。



おうちで、やろう。

Study at home. 小学校受験の家庭学習教材

数量：加減 25

一番左の四角の食べ物が真ん中の四角の約束通りに数が増えたり減ったりします。○はその数だけ増え、●はその数だけ減る約束のとき、正しい食べ物の数の四角を右から選んで○をつけます。

	<input type="radio"/> <input checked="" type="radio"/> <input type="radio"/> <input checked="" type="radio"/>				
	<input type="radio"/> <input checked="" type="radio"/> <input checked="" type="radio"/> <input type="radio"/> <input type="radio"/>				
	<input type="radio"/> <input checked="" type="radio"/> <input checked="" type="radio"/> <input checked="" type="radio"/> <input type="radio"/>				
	<input type="radio"/> <input checked="" type="radio"/> <input checked="" type="radio"/> <input type="radio"/> <input type="radio"/> <input checked="" type="radio"/>				
	<input type="radio"/> <input checked="" type="radio"/> <input checked="" type="radio"/> <input type="radio"/> <input type="radio"/> <input type="radio"/>				

※1. このプリントは、しながわ・目黒こどもスクールのウェブサイトでダウンロードができます。無断複写・引用はご遠慮ください。

※2. このプリントを活用したオンライン授業のスケジュールは、しながわ・目黒こどもスクールのウェブサイトでご確認ください。



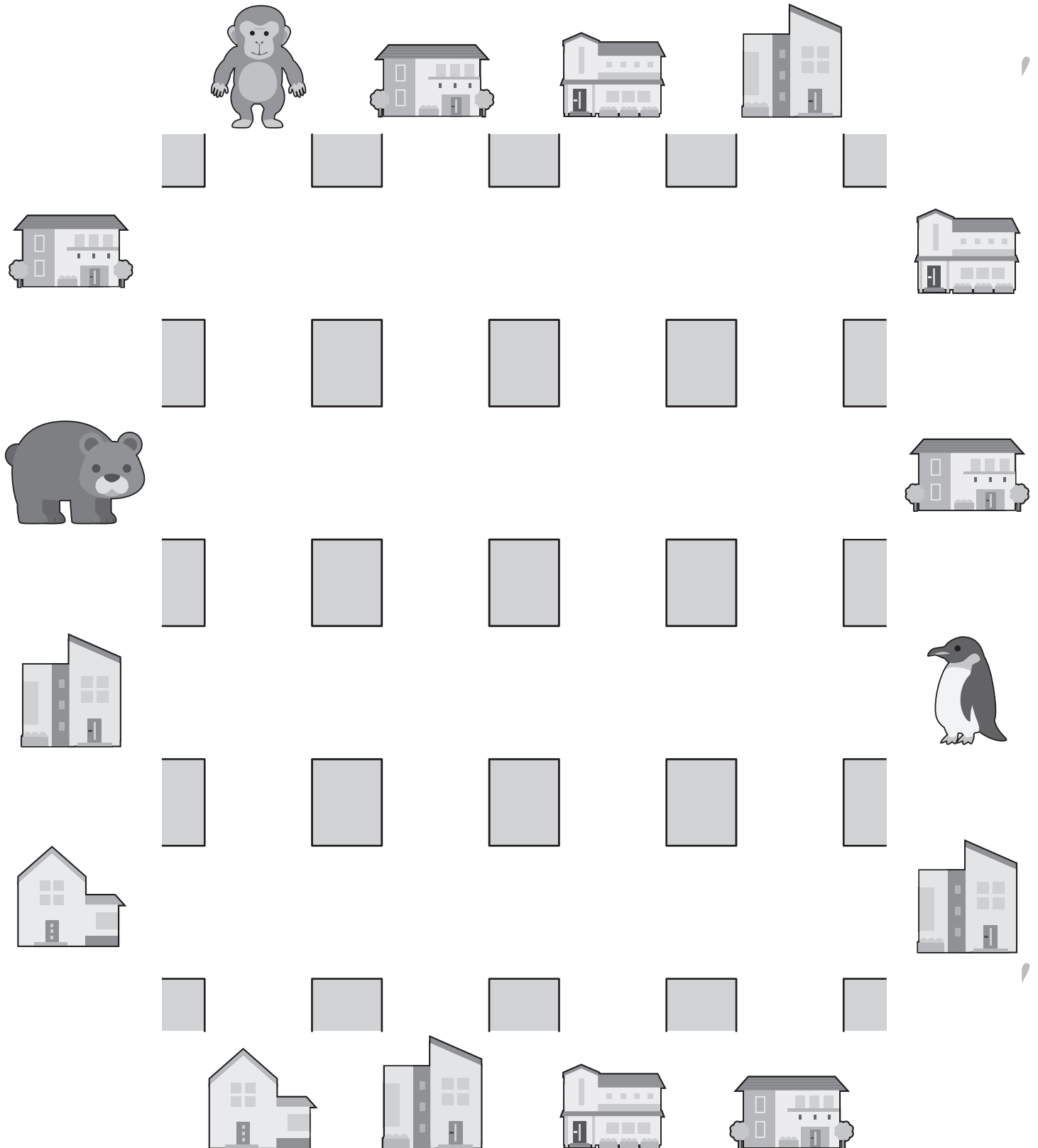
おうちで、やろう。

Study at home. 小学校受験の家庭学習教材

推理：地図の移動 6

動物たちが家に向かって進みます。着いた家にそれぞれ印をつけます。

- ①ペンギンさんはまっすぐ進み、3つ目の交差点を右に曲がります。次に2つ目の交差点を左に曲がってそのまま進んだところにある家に入りました。その家に○をつけます。
- ②クマくんは初めの交差点を右に曲がり、2つ目の交差点を左に曲がります。最後に2つ目の交差点を右に曲がったところにある家に入りました。その家に×をつけます。
- ③サルくんは2つ目の交差点を左に曲がり、すぐに右に曲がります。少し進んで2つ目の交差点を左に曲がり、最後に2つ目の交差点を右に曲がったところにある家に入りました。その家に△をつけます。



※1. このプリントは、しながわ・目黒こどもスクールのウェブサイトでダウンロードができます。無断複写・引用はご遠慮ください。
 ※2. このプリントを活用したオンライン授業のスケジュールは、しながわ・目黒こどもスクールのウェブサイトでご確認ください。




おうちで、やろう。

Study at home. 小学校受験の家庭学習教材

推理：地図の移動 7

動物たちが家に向かって進みます。着いた家にそれぞれ印をつけます。

- ①ライオンくんはまっすぐ進み、2つ目の交差点を右に曲がります。曲がってすぐの交差点を左に曲がって、最後に2つ目の交差点を右に曲がったところにある家に入りました。その家に○をつけます。
- ②ねずみくんはまっすぐ進んで2つ目の交差点を左に曲がり、曲がってすぐの交差点を右に曲がります。次に2つ目の交差点を左に曲がり、そのまま進んだところにある家に入りました。その家に△をつけます。
- ③うさぎさんはまっすぐ進んで4つ目の交差点を左に曲がり、もぐらさんに会いました。もぐらさんに会ったあと、うさぎさんはその交差点を左に曲がり、2つ目の交差点を右に曲がってそのまま進んだ家に入りました。その家に□をつけます。



※1. このプリントは、しながわ・目黒こどもスクールのウェブサイトでダウンロードができます。無断複写・引用はご遠慮ください。

※2. このプリントを活用したオンライン授業のスケジュールは、しながわ・目黒こどもスクールのウェブサイトでご確認ください。



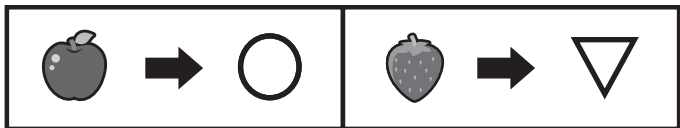
おうちで、やろう。





























Study at home. 小学校受験の家庭学習教材

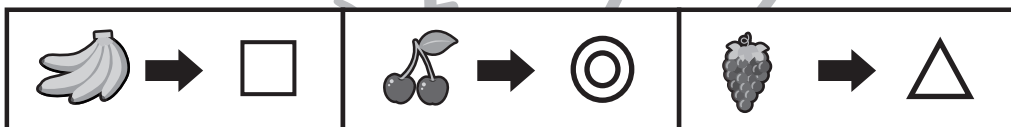
処理能力：置き換え 8





























上の太い四角の中が約束です。この約束通りに上のマスの果物を形に変えて下のマスに描きます。

※このプリントに解答はありません。





※1. このプリントは、しながわ・目黒こどもスクールのウェブサイトダウンロードができます。無断複写・引用はご遠慮ください。

※2. このプリントを活用したオンライン授業のスケジュールは、しながわ・目黒こどもスクールのウェブサイトでご確認ください。