



指示を聞いて、それぞれの問題に答えます。

- ①真ん中の形の上半分を橙色のクーピーで塗ります。
- ②左から二番目にある☆を青のクーピーでなぞります。
- ③上から三番目の一番右にあるマスに、桃色のクーピーで△を書きます。

①

②

③

			△ 桃色

※1. このプリントは、しながわ・目黒こどもスクールのウェブサイトでダウンロードができます。無断複写・引用はご遠慮ください。

※2. このプリントを活用したオンライン授業のスケジュールは、しながわ・目黒こどもスクールのウェブサイトでご確認ください。




# おうちで、やろう。 年中児版

Study at home. 小学校受験の家庭学習教材

処理能力：抹消 4

上の太い四角の中の絵がお手本です。下のマスの中からお手本の絵をみつけて斜め線（/）をつけていきます。お手本を見つけるときは、一番上の段の左からはじめて、右端まで見ます。1段目ができたら2段目の左から右へ進み、次に3段目の左から右と順番に印をつけていきます。



目黒  
クール


※1. このプリントは、しながわ・目黒こどもスクールのウェブサイトでダウンロードができます。無断複写・引用はご遠慮ください。

※2. このプリントを活用したオンライン授業のスケジュールは、しながわ・目黒こどもスクールのウェブサイトでご確認ください。

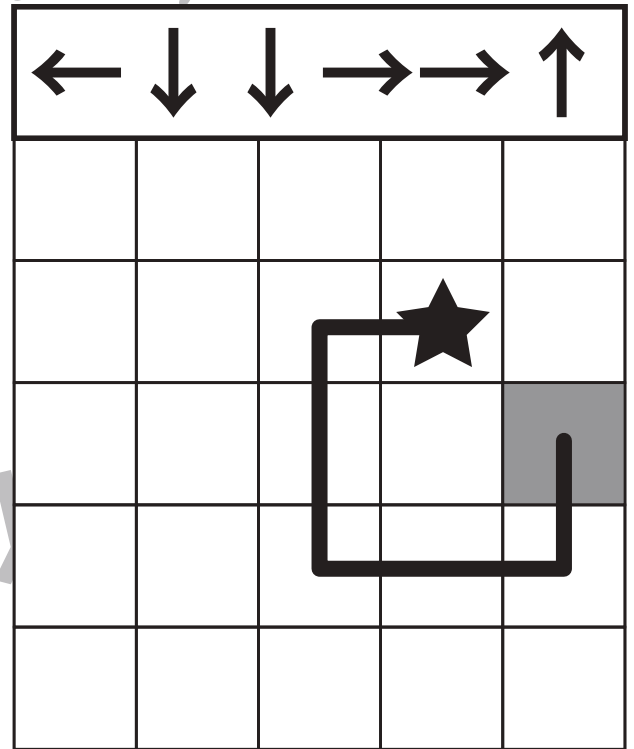
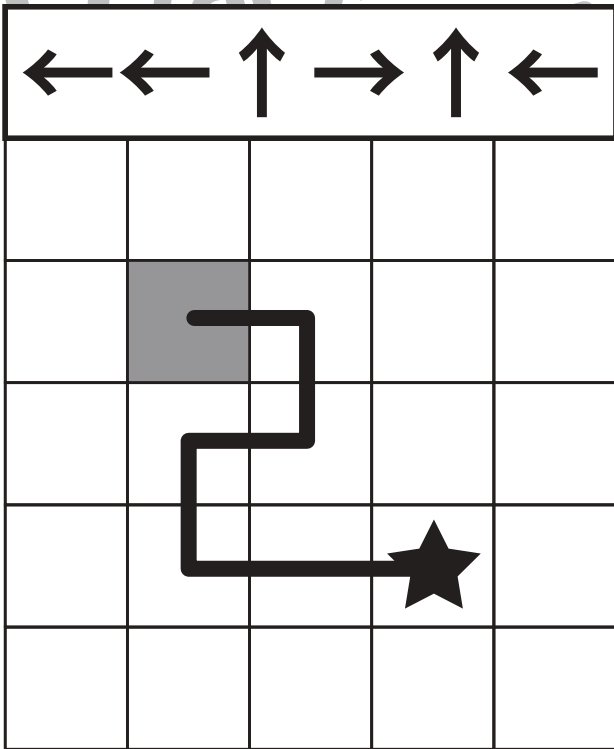
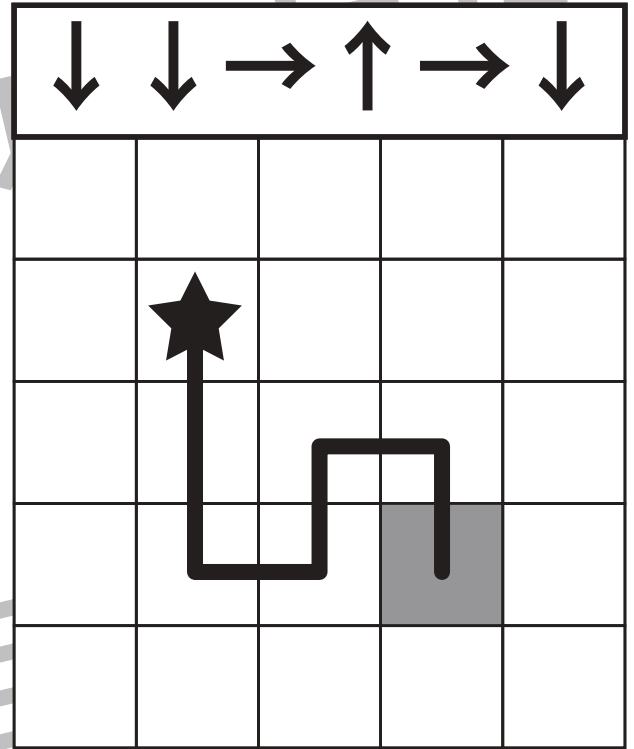
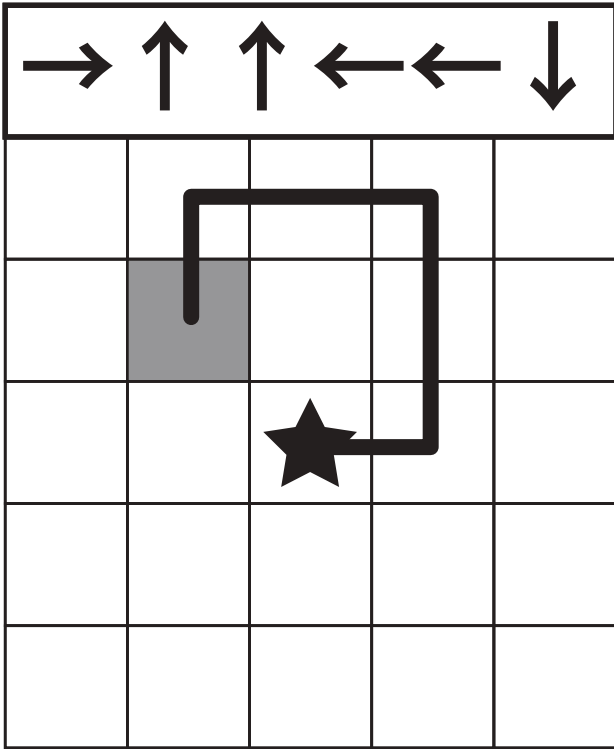


# おうちで、やろう。 年中児版

Study at home. 小学校受験の家庭学習教材

図形：移動5

上の太い四角の中の矢印が進む約束です。星が矢印を左から順番に1マスずつ進んだとき、最後についたマスを塗ります。



※1. このプリントは、しながわ・目黒こどもスクールのウェブサイトでダウンロードができます。無断複写・引用はご遠慮ください。  
 ※2. このプリントを活用したオンライン授業のスケジュールは、しながわ・目黒こどもスクールのウェブサイトでご確認ください。



# おうちで、よろう。年中児版

Study at home. 小学校受験の家庭学習教材

## 図形：移動6

上の太い四角の中の矢印が進む約束です。星が矢印を左から順番に1マスずつ進んだとき、最後についたマス塗ります。

→ ↖ → ↑ → ↘				

↑ ↑ ↘ ↘ ↑ →				

→ ↑ ↘ ↑ → ↗				

↓ ↗ → ↖ → ↓				

※1. このプリントは、しながわ・目黒こどもスクールのウェブサイトからダウンロードができます。無断複写・引用はご遠慮ください。  
 ※2. このプリントを活用したオンライン授業のスケジュールは、しながわ・目黒こどもスクールのウェブサイトでご確認ください。



太い四角の中のお手本の形を作るのに使わないパズルを右の四角から選んで × をつけます。

--	--

--	--

--	--

--	--

※1. このプリントは、しながわ・目黒こどもスクールのウェブサイトからダウンロードできます。無断複写・引用はご遠慮ください。  
 ※2. このプリントを活用したオンライン授業のスケジュールは、しながわ・目黒こどもスクールのウェブサイトでご確認ください。



# おうちで、やろう。年中児版

Study at home. 小学校受験の家庭学習教材

数量：加減 20

- ①ウサギさんは飴を5つ持っていました。3つ食べると残りはいくつになりますか。その数だけ○をかきます。
- ②ゾウくんはお母さんから飴を3つ、お父さんから飴を2つもらいました。飴は合わせていくつですか。その数だけ○をかきます。
- ③サルくんはクッキーを10枚作りました。お友だちのパンダくんに4枚あげました。残りは何枚ですか。その数だけ○をかきます。
- ④キリンさんの家の庭の花壇のヒマワリが今日3本咲きました。次の日になるとさらに3本咲きました。合わせて何本咲いていますか。その数だけ○をかきます。

①

$$\bigcirc \times 2$$

②

$$\bigcirc \times 5$$

③

$$\bigcirc \times 6$$

④

$$\bigcirc \times 6$$








# おうちで、やろう。年中児版

Study at home. 小学校受験の家庭学習教材

推理：水量2

それぞれの四角の中のコップには水が入っています。  
4つのコップの中で水の量が二番目に多いコップに○をつけます。



※1. このプリントは、しながわ・目黒こどもスクールのウェブサイトからダウンロードができます。無断複写・引用はご遠慮ください。  
※2. このプリントを活用したオンライン授業のスケジュールは、しながわ・目黒こどもスクールのウェブサイトでご確認ください。








# おうちで、やろう。 年中児版

Study at home. 小学校受験の家庭学習教材

推理：水量3

それぞれの四角の中のコップには水が入っています。  
4つのコップの中で水の量が二番目に少ないコップに○をつけます。



※1. このプリントは、しながわ・目黒こどもスクールのウェブサイトでダウンロードができます。無断複写・引用はご遠慮ください。  
※2. このプリントを活用したオンライン授業のスケジュールは、しながわ・目黒こどもスクールのウェブサイトでご確認ください。

