





指示を聞いて、それぞれの問題に答えます。

- ① 髪の毛をおだんごにしている女の子の隣りで舌をペロッと出しているお友だちに○をつけます。
- ② 大きな太鼓を叩いている男の子の帽子を赤色で塗ります。
- ③ 赤チーム対白チームで競争をしています。この勝負に勝ったのは白チームです。勝ったチームの一番前で走っているお友だちに○をつけます。


①



②



③



※1. このプリントは、しながわ・目黒こどもスクールのウェブサイトからダウンロードができます。無断複写・引用はご遠慮ください。

※2. このプリントを活用したオンライン授業のスケジュールは、しながわ・目黒こどもスクールのウェブサイトでご確認ください。





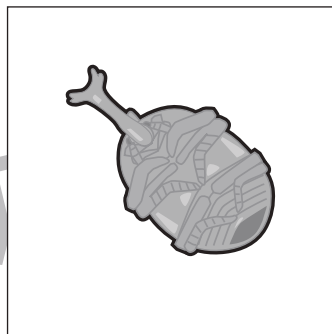


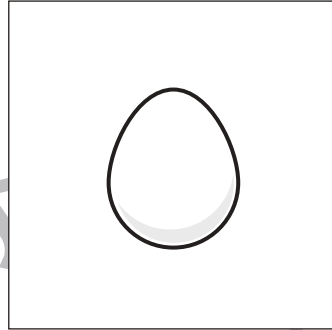




# おうちで、やろう。年中児版

Study at home. 小学校受験の家庭学習教材

常識：生物 9

上・真ん中・下の四角を生き物の正しい成長の順番になるように線でつなぎます。



※1. このプリントは、しながわ・目黒こどもスクールのウェブサイトでダウンロードができます。無断複写・引用はご遠慮ください。  
※2. このプリントを活用したオンライン授業のスケジュールは、しながわ・目黒こどもスクールのウェブサイトでご確認ください。





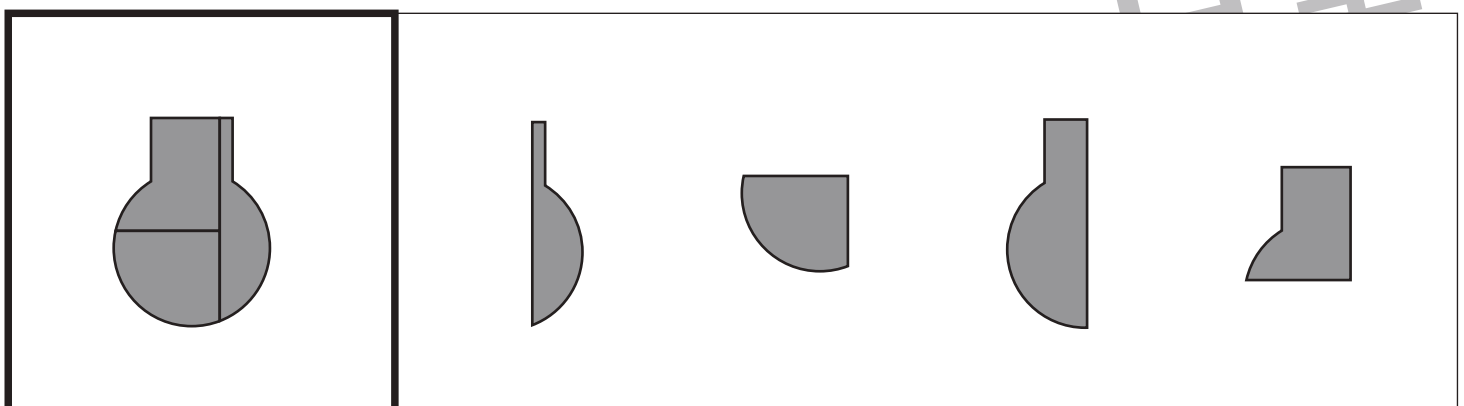
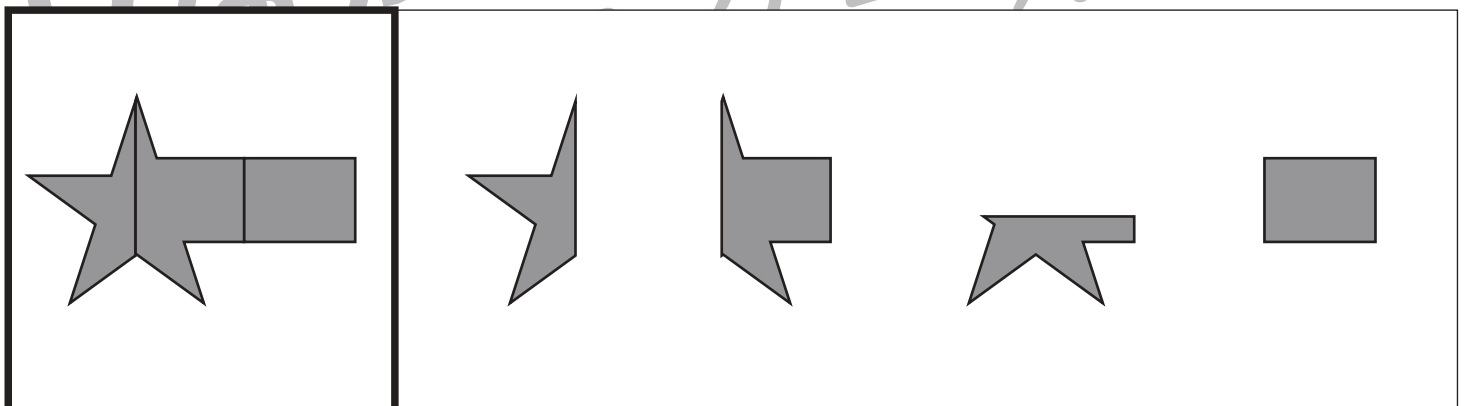
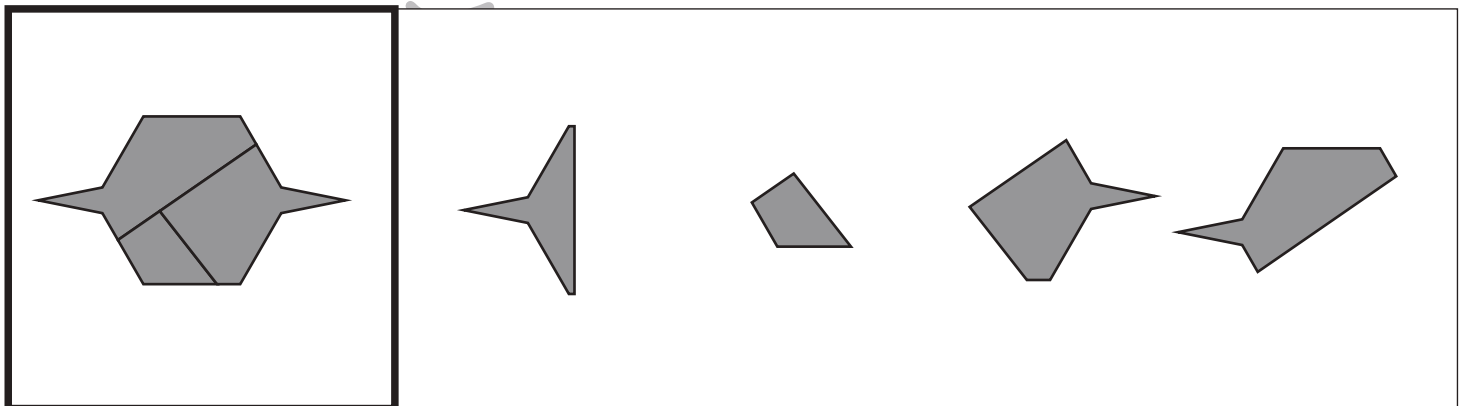
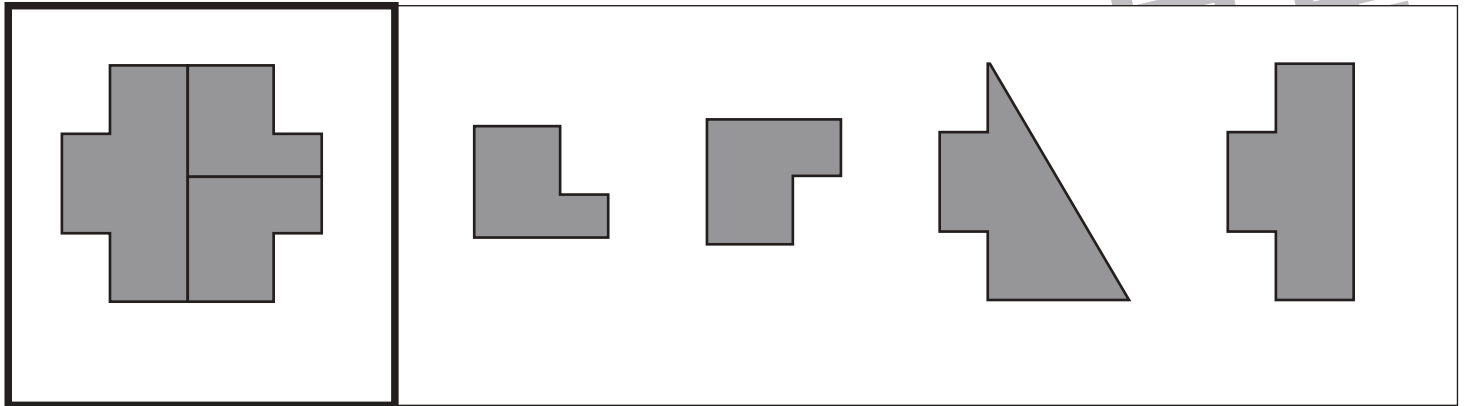
太い四角の中のお手本の形を作るのに使わないパズルを右の四角から選んで × をつけます。


※1. このプリントは、しながわ・目黒こどもスクールのウェブサイトでダウンロードができます。無断複写・引用はご遠慮ください。

※2. このプリントを活用したオンライン授業のスケジュールは、しながわ・目黒こどもスクールのウェブサイトでご確認ください。



太い四角の中のお手本の形を作るのに使わないパズルを右の四角から選んで × をつけます。



※1. このプリントは、しながわ・目黒こどもスクールのウェブサイトでダウンロードができます。無断複写・引用はご遠慮ください。  
 ※2. このプリントを活用したオンライン授業のスケジュールは、しながわ・目黒こどもスクールのウェブサイトでご確認ください。




# おうちで、やろう。 年中児版

Study at home. 小学校受験の家庭学習教材


推理：順位付け9

- ①～③のお話を聞いて、問題に答えます。
- ①二番目に小さいリンゴに×をつけます。
- ②一番長い鉛筆に×をつけます。
- ③三番目に背の高い花に×をつけます。


①



②



③



※1. このプリントは、しながわ・目黒こどもスクールのウェブサイトダウンロードができます。無断複写・引用はご遠慮ください。  
※2. このプリントを活用したオンライン授業のスケジュールは、しながわ・目黒こどもスクールのウェブサイトでご確認ください。






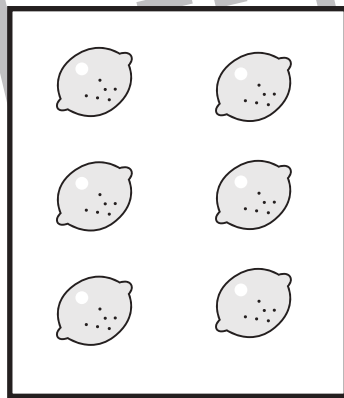
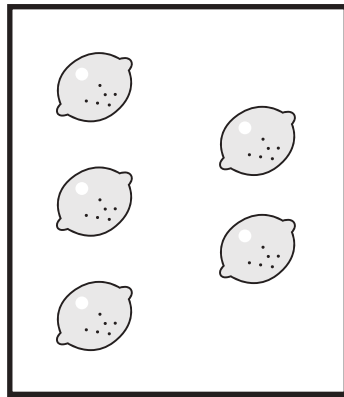

# おうちで、やろう。 年中児版

Study at home. 小学校受験の家庭学習教材

数量：加減 21

上の太い四角がお約束です。

太い四角の中の果物を、その隣の四角の中の動物がお約束の分だけもらいます。このとき残っている果物はいくつになりますか。その数だけ右の四角に○をかきます。



※1. このプリントは、しながわ・目黒こどもスクールのウェブサイトでダウンロードができます。無断複写・引用はご遠慮ください。

※2. このプリントを活用したオンライン授業のスケジュールは、しながわ・目黒こどもスクールのウェブサイトでご確認ください。











# おうちで、やろう。 年中児版

Study at home. 小学校受験の家庭学習教材

数量：加減 22

上の太い四角がお約束です。

太い四角の中の果物を、その隣の四角の中の動物がお約束の分だけもらいます。このとき残っている果物はそれぞれいくつになりますか。その数だけ右の四角に○をかきます。



※1. このプリントは、しながわ・目黒こどもスクールのウェブサイトでダウンロードができます。無断複写・引用はご遠慮ください。

※2. このプリントを活用したオンライン授業のスケジュールは、しながわ・目黒こどもスクールのウェブサイトでご確認ください。


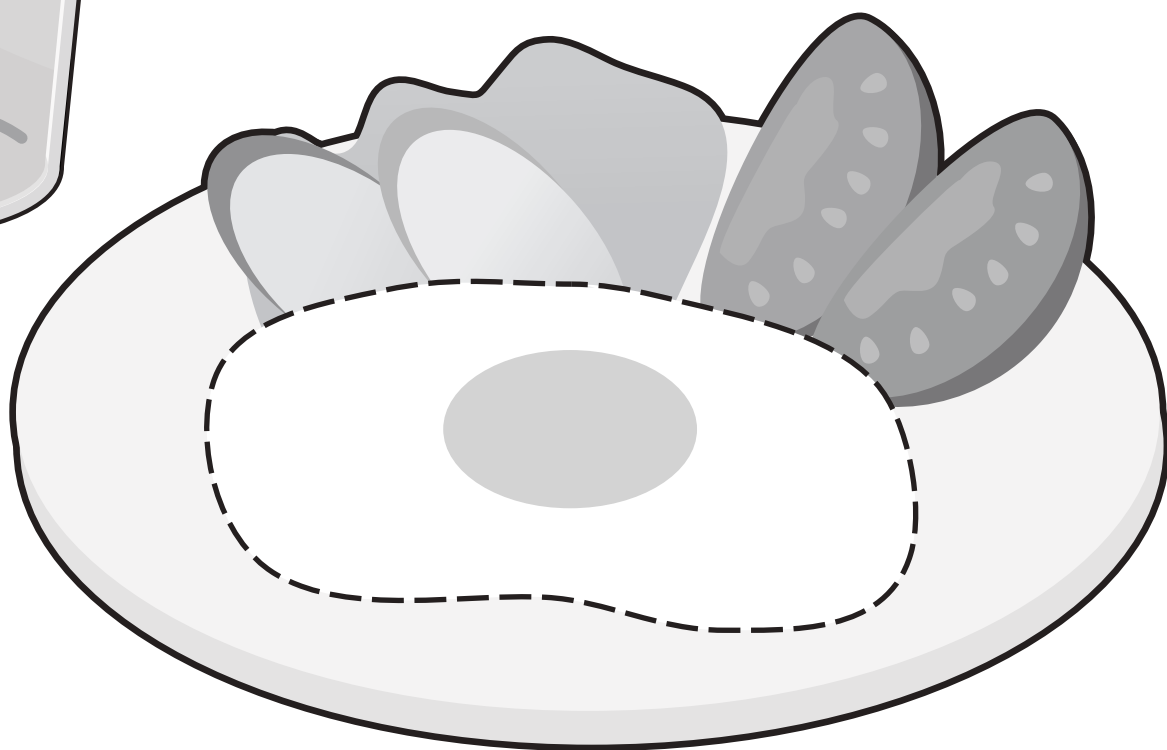


# おうちで、やろう。 年中児版

Study at home. 小学校受験の家庭学習教材

巧緻性：運筆5

- ①目玉焼きの点線を青のクーピーでなぞります。
  - ②コップの太い線の中を水色のクーピーで塗ります。
  - ③フォークの●から○まで鉛筆で線を描きます。
- ※この問題に解答はありません。



※1. このプリントは、しながわ・目黒こどもスクールのウェブサイトでダウンロードができます。無断複写・引用はご遠慮ください。  
※2. このプリントを活用したオンライン授業のスケジュールは、しながわ・目黒こどもスクールのウェブサイトでご確認ください。