

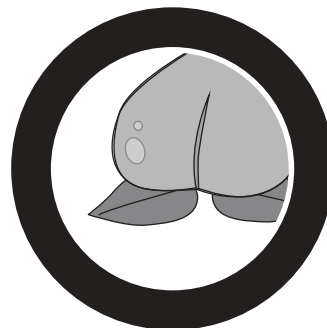






# おうちで、やろう。 年中児版

Study at home. 小学校受験の家庭学習教材

## 言語：音の数 23

左の丸の中の絵とはじめの音が同じの絵に○、四角の中の絵と終わりの音が同じ絵に×をつけましょう。



※1. このプリントは、しながわ・目黒こどもスクールのウェブサイトでダウンロードができます。無断複写・引用はご遠慮ください。  
※2. このプリントを活用したオンライン授業のスケジュールは、しながわ・目黒こどもスクールのウェブサイトでご確認ください。


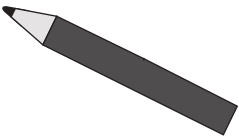
















# おうちで、やろう。 年中児版









Study at home. 小学校受験の家庭学習教材

## 言語：音の理解 16

太い四角の中にある絵の3つ目の音を考えます。  
下の大きな四角から、その音ではじまる絵を選んでそれぞれの形をつけます。

※1. このプリントは、しながわ・目黒こどもスクールのウェブサイトでダウンロードができます。無断複写・引用はご遠慮ください。  
※2. このプリントを活用したオンライン授業のスケジュールは、しながわ・目黒こどもスクールのウェブサイトでご確認ください。













# おうちで、やろう。 年中児版

Study at home. 小学校受験の家庭学習教材

図形：同図形 13

太い四角の中の絵と同じ絵をすべて見つけて○をつけます。



※1. このプリントは、しながわ・目黒こどもスクールのウェブサイトでダウンロードができます。無断複写・引用はご遠慮ください。  
※2. このプリントを活用したオンライン授業のスケジュールは、しながわ・目黒こどもスクールのウェブサイトでご確認ください。















# おうちで、やろう。 年中児版

Study at home. 小学校受験の家庭学習教材

## 図形：同図形 14

太い四角の中の絵と同じ絵をすべて見つけて○をつけます。



※1. このプリントは、しながわ・目黒こどもスクールのウェブサイトからダウンロードができます。無断複写・引用はご遠慮ください。

※2. このプリントを活用したオンライン授業のスケジュールは、しながわ・目黒こどもスクールのウェブサイトでご確認ください。





# おうちで、やろう。 年中児版

Study at home. 小学校受験の家庭学習教材

推理：系列完成 17

絵がある順番通りに並んでいます。空いているマスに入る形を考えてその形をかきます。

△	/	+	○
\	×	□	/
+	○	□	\
△	/	△	△
\	×	+	+
+	○	□	○
△	/	□	/
\	×	△	\
+	○	+	△
△	/	□	+
\	×	□	○

※1. このプリントは、しながわ・目黒こどもスクールのウェブサイトでダウンロードができます。無断複写・引用はご遠慮ください。  
 ※2. このプリントを活用したオンライン授業のスケジュールは、しながわ・目黒こどもスクールのウェブサイトでご確認ください。



# おうちで、やろう。 年中児版

Study at home. 小学校受験の家庭学習教材

数量：ちがう数2

ニワトリとヒヨコが持っている果物の数は、いくつ違いますか。その数だけ、下の四角にある果物に1つずつ〇をつけます。




※1. このプリントは、しながわ・目黒こどもスクールのウェブサイトでダウンロードができます。無断複写・引用はご遠慮ください。  
 ※2. このプリントを活用したオンライン授業のスケジュールは、しながわ・目黒こどもスクールのウェブサイトでご確認ください。

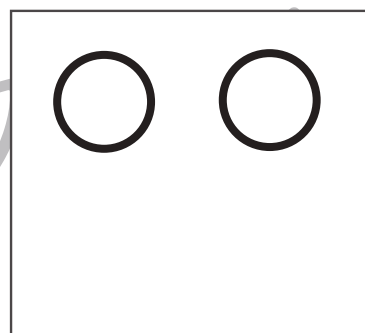

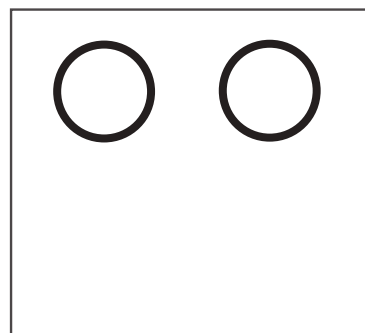




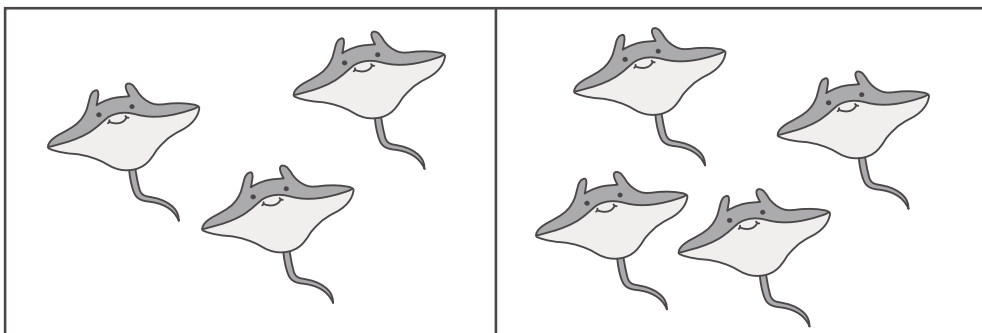


# おうちで、やろう。 年中児版

Study at home. 小学校受験の家庭学習教材

数量：ちがう数 3

左にある二つの四角の中にある生き物の数がいくつ違うかを考えてその数だけ右の四角に○をかきます。



※1. このプリントは、しながわ・目黒こどもスクールのウェブサイトでダウンロードができます。無断複写・引用はご遠慮ください。  
※2. このプリントを活用したオンライン授業のスケジュールは、しながわ・目黒こどもスクールのウェブサイトでご確認ください。