



おうちで、やろう。

Study at home. 小学校受験の家庭学習教材

言語：おわりの音 7

おわりの音が同じものの点と点を線で結びます。

しながわ・目黒
こどもスクール

※1. このプリントは、しながわ・目黒こどもスクールのウェブサイトでダウンロードができます。無断複写・引用はご遠慮ください。

※2. このプリントを活用したオンライン授業のスケジュールは、しながわ・目黒こどもスクールのウェブサイトでご確認ください。

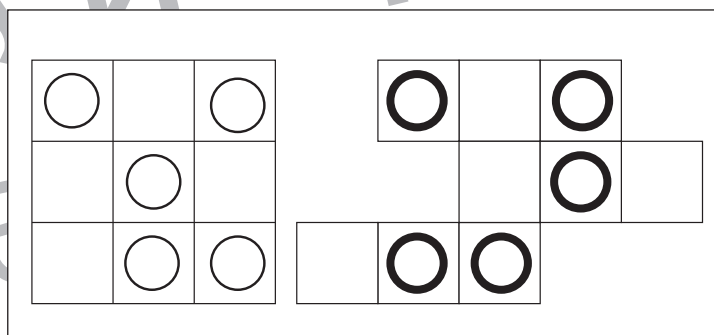
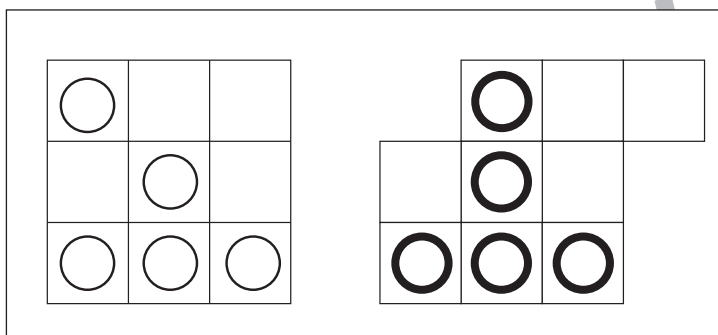
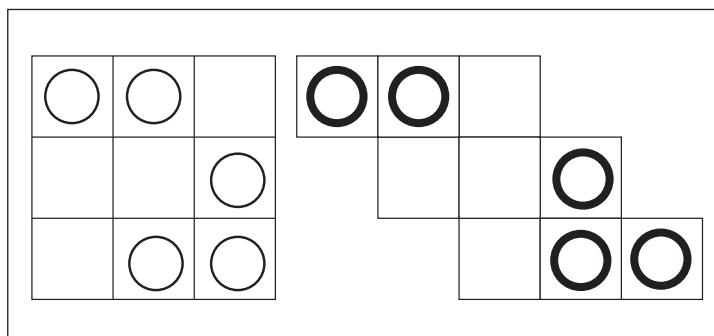
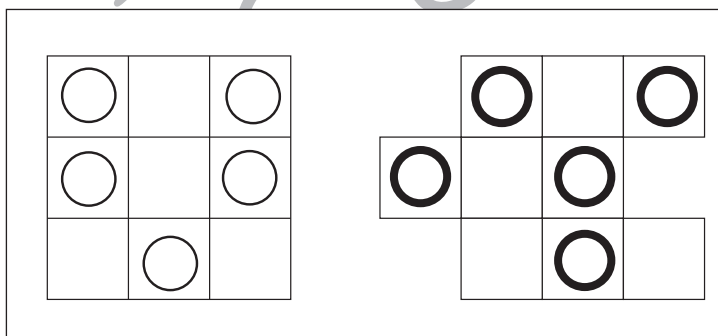
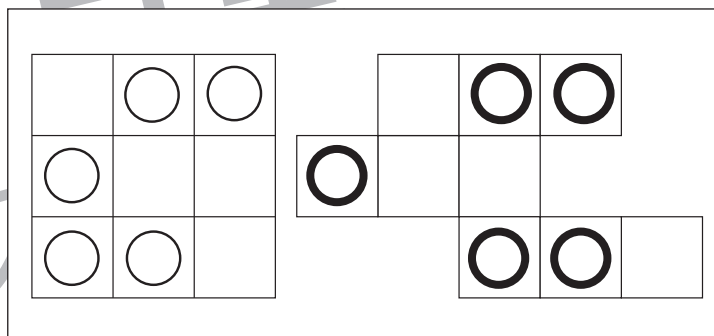
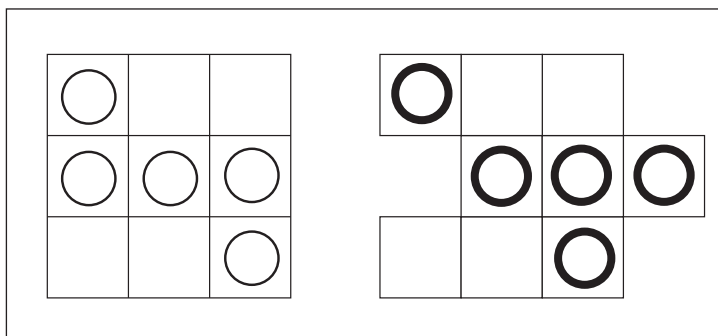
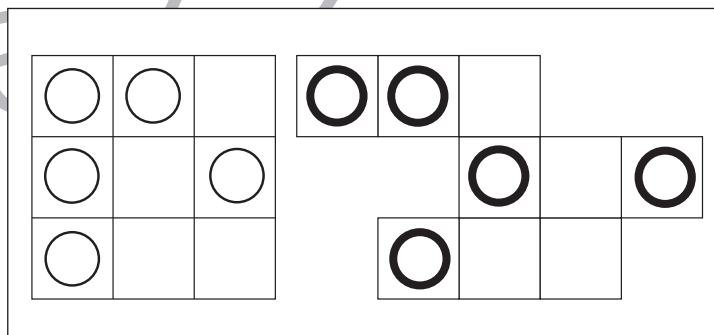
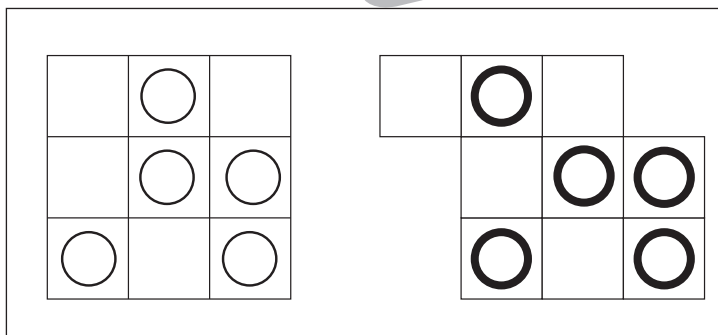
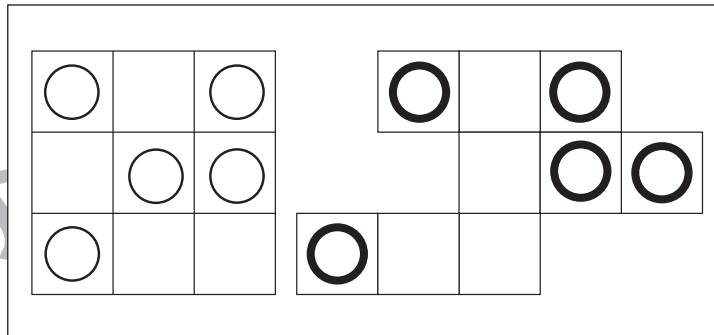
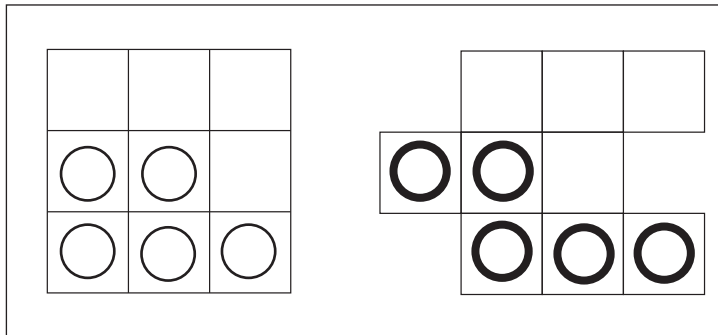


おうちで、やろう。

Study at home. 小学校受験の家庭学習教材

図形：移動 23

左の四角がお手本です。このお手本の○を右の四角の同じ場所にかきます。
ただし、右の四角はマスがずれています。どのマスにかけばよいのかを考えましょう。



※1. このプリントは、しながわ・目黒こどもスクールのウェブサイトでダウンロードができます。無断複写・引用はご遠慮ください。
※2. このプリントを活用したオンライン授業のスケジュールは、しながわ・目黒こどもスクールのウェブサイトでご確認ください。



おうちで、やろう。

Study at home. 小学校受験の家庭学習教材

図形：折り重ね 16

真ん中の太い線で矢印の方向へ折り重ねたときの見え方を考えて、右の四角に記号をかきうつします。

The puzzles are arranged in two columns of eight. Each puzzle shows a 3x6 grid with a vertical fold line in the center. To the right of the fold line is a 3x3 grid where the user must draw the symbols from the left side of the 3x6 grid after it is folded. The symbols are black circles and white circles.

※1. このプリントは、しながわ・目黒こどもスクールのウェブサイトでダウンロードができます。無断複写・引用はご遠慮ください。

※2. このプリントを活用したオンライン授業のスケジュールは、しながわ・目黒こどもスクールのウェブサイトでご確認ください。



おうちで、やろう。

Study at home. 小学校受験の家庭学習教材

数量：サイコロ5

サイコロは表の目と裏の目の数を合わせると7になります。それぞれの四角の中の2つのサイコロの目が表のとき、裏の目を合わせるといくつになりますか。その数だけ下の四角に○をかきます。

○×6

○×9

○×6

○×9

○×3

○×9

※1. このプリントは、しながわ・目黒こどもスクールのウェブサイトでダウンロードができます。無断複写・引用はご遠慮ください。
 ※2. このプリントを活用したオンライン授業のスケジュールは、しながわ・目黒こどもスクールのウェブサイトでご確認ください。



おうちで、やろう。

Study at home. 小学校受験の家庭学習教材

数量：すごろく 4

クマさんとウサギさんがすごろくで遊びます。★からスタートして左から順番にサイコロの目の数だけ進むとき、クマさんが着くマスに○、ウサギさんが着くマスに△を描きます。

		→		→		→	
		→		→		→	

--	--	--	--	--	--	--	--

--	--	--	--	--	--	--	--

		→		→		→		→	
		→		→		→		→	

--	--	--	--	--	--	--	--

--	--	--	--	--	--	--	--

※1. このプリントは、しながわ・目黒こどもスクールのウェブサイトでダウンロードができます。無断複写・引用はご遠慮ください。
 ※2. このプリントを活用したオンライン授業のスケジュールは、しながわ・目黒こどもスクールのウェブサイトでご確認ください。