





おうちで、やろう。

Study at home. 小学校受験の家庭学習教材

指示の聞き取り5

それぞれの設問に答えましょう。指示は1度ですべて読み上げます。しっかり聞いて取り組みましょう。

- ①ウサギの1つ左のマスに青のクーピーで○をかきます。
- ②パンダの4つ上のマスに緑のクーピーで○をかきます。
- ③ネズミの3つ下のマスに橙色のクーピーで○をかきます。
- ④ネコの2つ右のマスに黄色のクーピーで四角の中を塗ります。

※1. このプリントは、しながわ・目黒こどもスクールのウェブサイトでダウンロードができます。無断複写・引用はご遠慮ください。
 ※2. このプリントを活用したオンライン授業のスケジュールは、しながわ・目黒こどもスクールのウェブサイトでご確認ください。

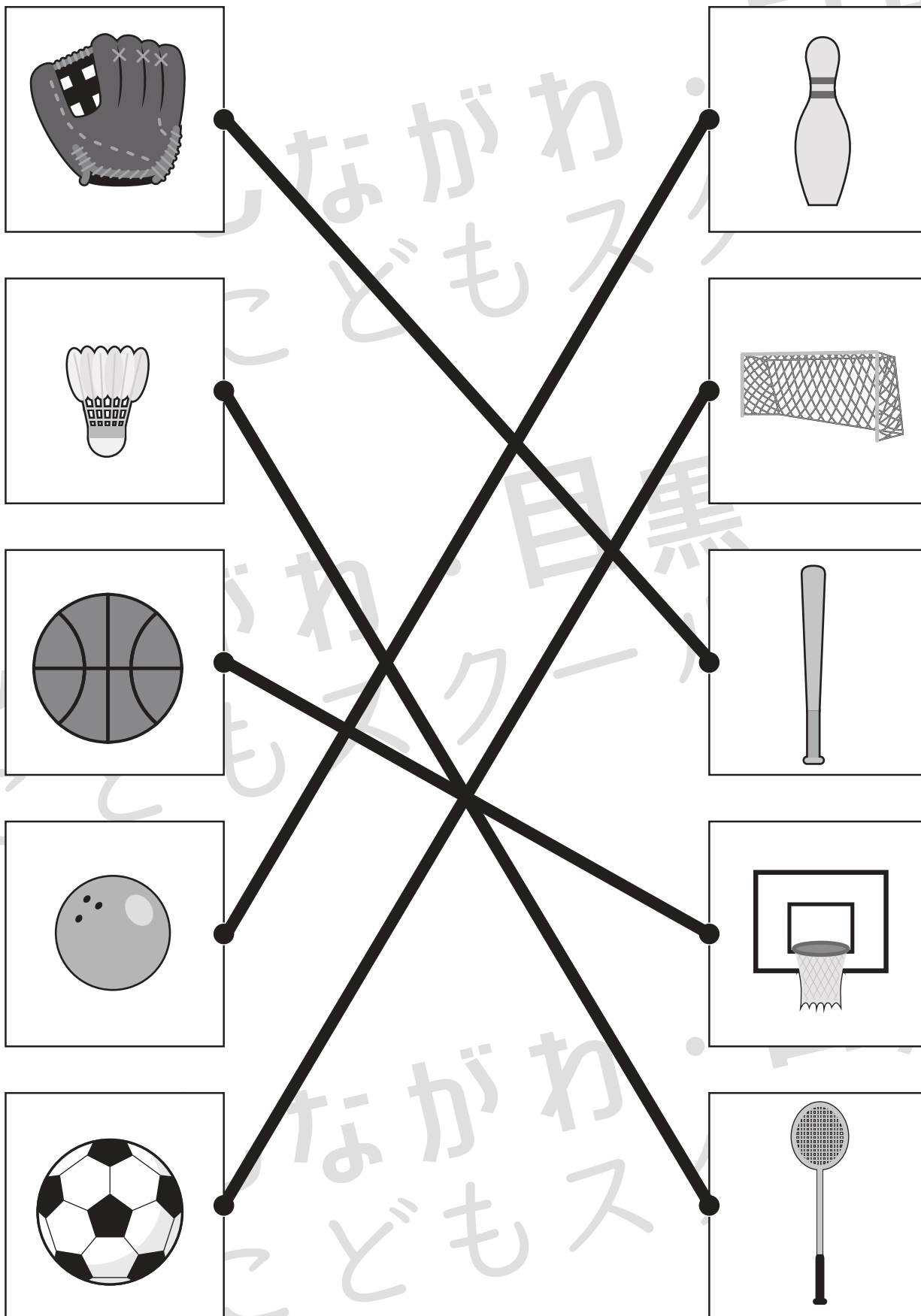


おうちで、やろう。

Study at home. 小学校受験の家庭学習教材

常識：スポーツ1

左側の絵のスポーツで使う道具を右側の絵の中から選んで線で結びます。



※1. このプリントは、しながわ・目黒こどもスクールのウェブサイトでダウンロードができます。無断複写・引用はご遠慮ください。

※2. このプリントを活用したオンライン授業のスケジュールは、しながわ・目黒こどもスクールのウェブサイトでご確認ください。




おうちで、やろう。

Study at home. 小学校受験の家庭学習教材

常識：スポーツ2

- ①ボールを使わないスポーツの道具に○をつけます。
- ②水泳をするときに使わない道具に○をつけます。
- ③防具をつけておこなうスポーツの道具に○をつけます。
- ④雪がないとできないスポーツの道具に○をつけます。

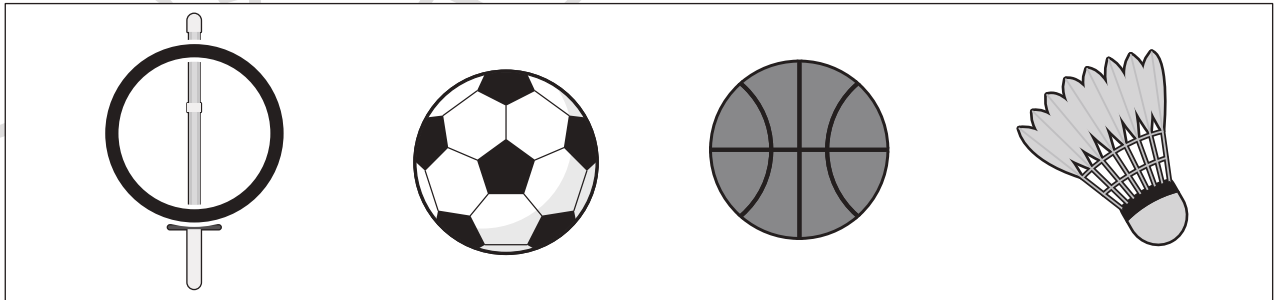
①



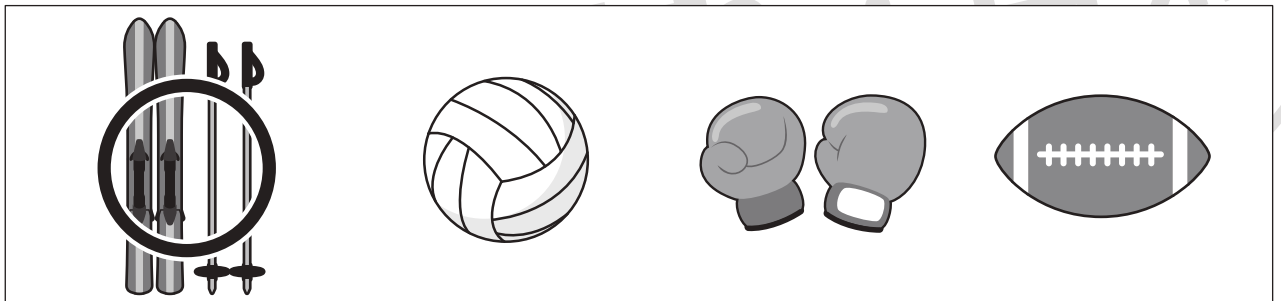
②



③



④





おうちで、やろう。

Study at home. 小学校受験の家庭学習教材

図形：切り抜き1

左の四角の中の折り紙を半分に折って、黒い部分を切り抜いた後の見え方を考えて、右の中から選んで○をつけます。



おうちで、やろう。

Study at home. 小学校受験の家庭学習教材

図形：切り抜き2

左の四角の中の折り紙を半分に折って、黒い部分を切り抜いた後の見え方を考えて、右の中から選んで○をつけます。



おうちで、やろう。

Study at home. 小学校受験の家庭学習教材

図形：折り重ね7

左の透明な板を真ん中の太い線で折り重ねたあとの見え方を考えて、正しいものを右の4つの中から選んで○をつけます。

※1. このプリントは、しながわ・目黒こどもスクールのウェブサイトでダウンロードができます。無断複写・引用はご遠慮ください。

※2. このプリントを活用したオンライン授業のスケジュールは、しながわ・目黒こどもスクールのウェブサイトでご確認ください。



おうちで、やろう。

Study at home. 小学校受験の家庭学習教材

図形：折り重ね 8

左の透明な板を真ん中の太い線で折り重ねたあとの見え方を考えて、正しいものを右の4つの中から選んで○をつけます。

※1. このプリントは、しながわ・目黒こどもスクールのウェブサイトでダウンロードができます。無断複写・引用はご遠慮ください。

※2. このプリントを活用したオンライン授業のスケジュールは、しながわ・目黒こどもスクールのウェブサイトでご確認ください。

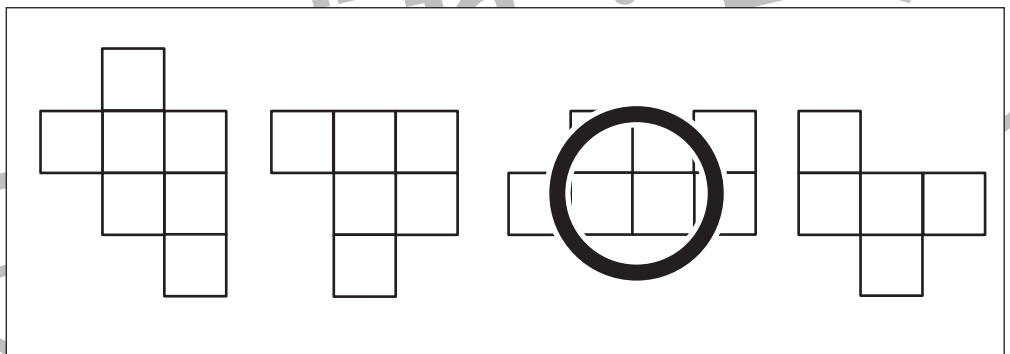

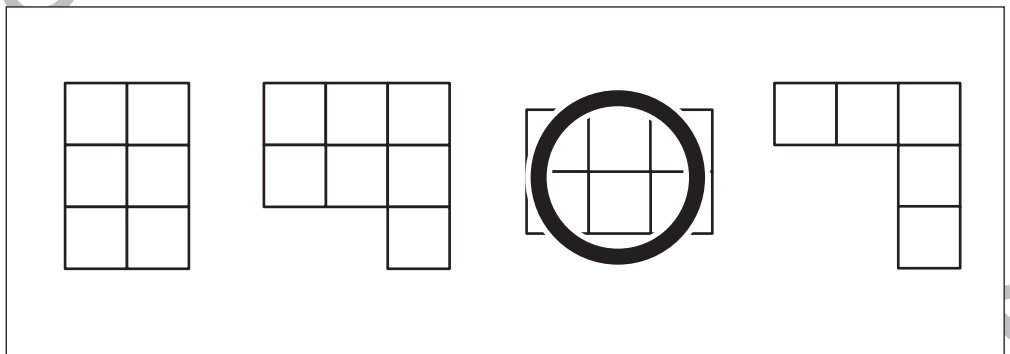

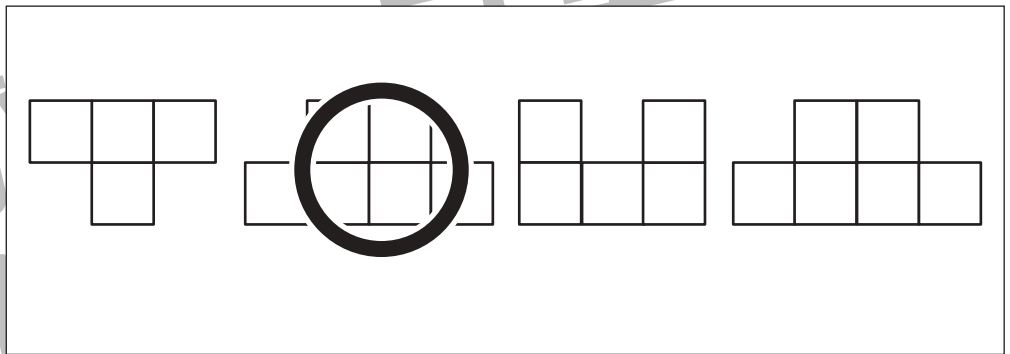

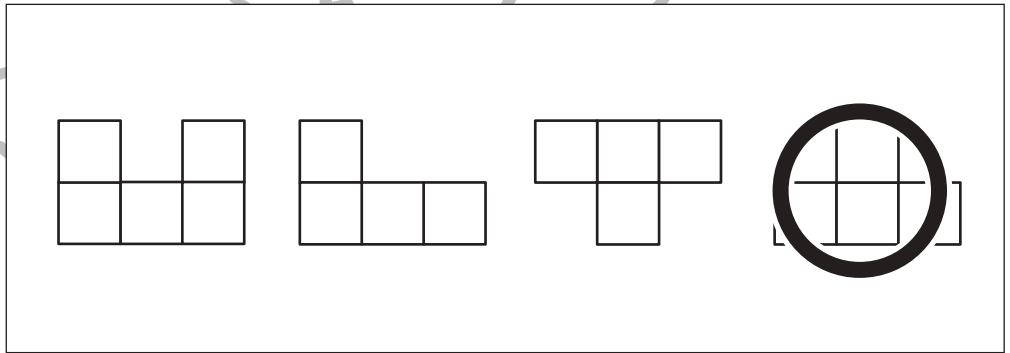

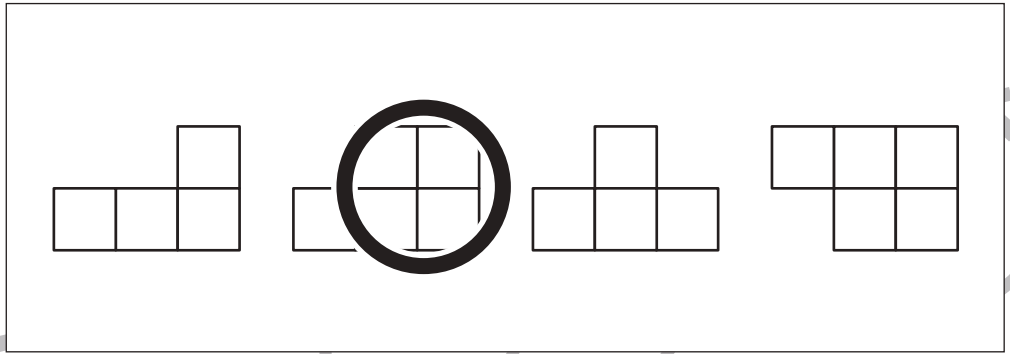



おうちで、やろう。

Study at home. 小学校受験の家庭学習教材

推理：四方観察 3

左の太い四角の中の積み木がお手本です。このお手本を男の子が前から見たときの見え方を考えます。正しいものを右の4つの中から選んで○をつけます。



※1. このプリントは、しながわ・目黒こどもスクールのウェブサイトでダウンロードができます。無断複写・引用はご遠慮ください。
※2. このプリントを活用したオンライン授業のスケジュールは、しながわ・目黒こどもスクールのウェブサイトでご確認ください。