



おうちで、やろう。

Study at home. 小学校受験の家庭学習教材

図形：重ね 39

上にある3つの四角をぴったり重ねた時の見え方を考えて、矢印の下の四角に線を描きましょう。

+	+	+	+
+	+	+	+
↓	↓	↓	↓

※1. このプリントは、しながわ・目黒こどもスクールのウェブサイトでダウンロードができます。無断複写・引用はご遠慮ください。
 ※2. このプリントを活用したオンライン授業のスケジュールは、しながわ・目黒こどもスクールのウェブサイトでご確認ください。



おうちで、やろう。

Study at home. 小学校受験の家庭学習教材

図形：重ね 40

上にある3つの四角をぴったり重ねた時の見え方を考えて、矢印の下の四角に線を描きましょう。

+	+	+	+
+	+	+	+
↓	↓	↓	↓

※1. このプリントは、しながわ・目黒こどもスクールのウェブサイトでダウンロードができます。無断複写・引用はご遠慮ください。
 ※2. このプリントを活用したオンライン授業のスケジュールは、しながわ・目黒こどもスクールのウェブサイトでご確認ください。

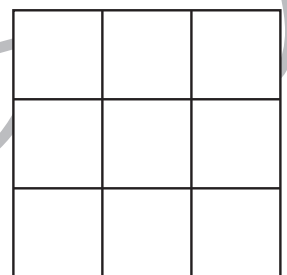

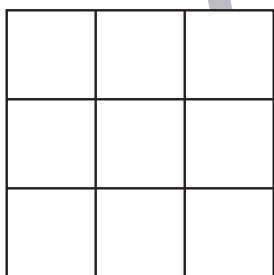



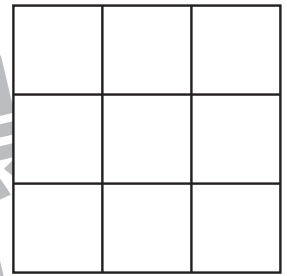
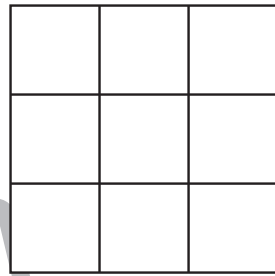
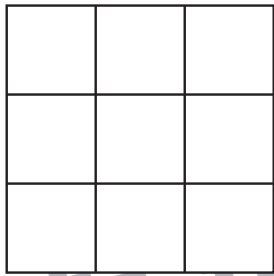





おうちで、やろう。

Study at home. 小学校受験の家庭学習教材

図形：折り重ね 48

真ん中の太い線で折り重ねたときの見え方を考えます。
このとき黒のマスに隠れないで見えている○の場所を考えて下の四角に○をかきます。



※1. このプリントは、しながわ・目黒こどもスクールのウェブサイトでダウンロードができます。無断複製・引用はご遠慮ください。
※2. このプリントを活用したオンライン授業のスケジュールは、しながわ・目黒こどもスクールのウェブサイトでご確認ください。



おうちで、やろう。

Study at home. 小学校受験の家庭学習教材

図形：折り重ね 49

真ん中の太い線で折り重ねたときの見え方を考えます。
このとき黒のマスの隠れないで見えている○の場所を考えて下の四角に○をかきます。

The puzzle consists of three 3x3 grids. Each grid is divided into a top 3x3 section containing circles and a bottom 3x3 section containing black squares. A thick horizontal line is drawn between the top and bottom sections, indicating a fold. Below each grid is a blank 3x3 grid where the user should mark the positions of circles that remain visible after the top section is folded down.

※1. このプリントは、しながわ・目黒こどもスクールのウェブサイトでダウンロードができます。無断複写・引用はご遠慮ください。
 ※2. このプリントを活用したオンライン授業のスケジュールは、しながわ・目黒こどもスクールのウェブサイトでご確認ください。

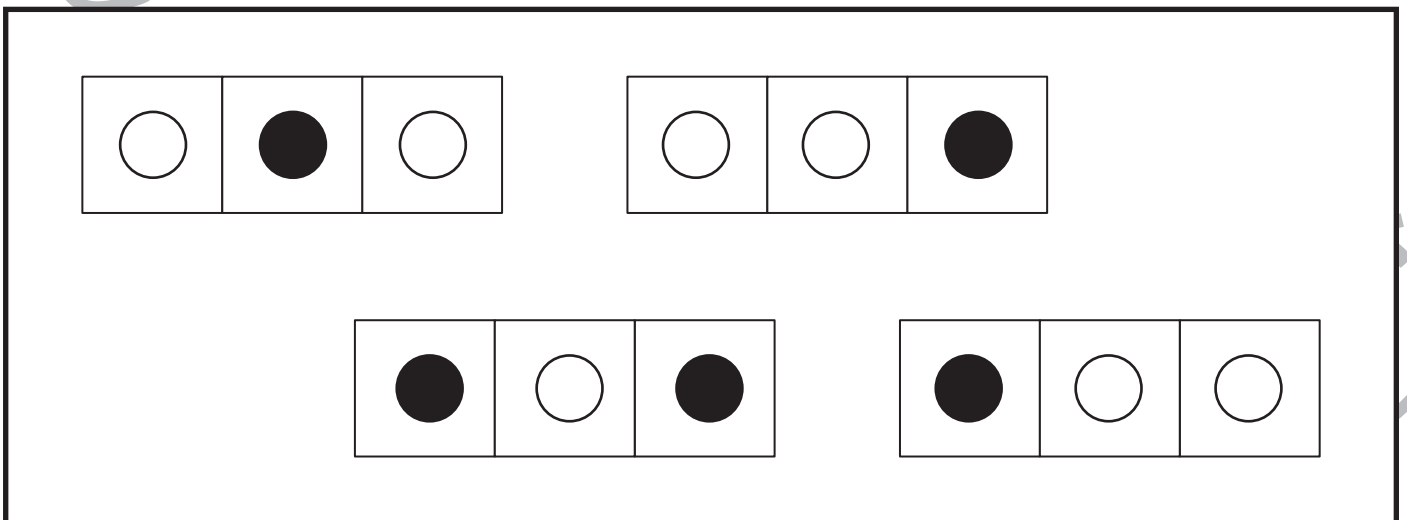
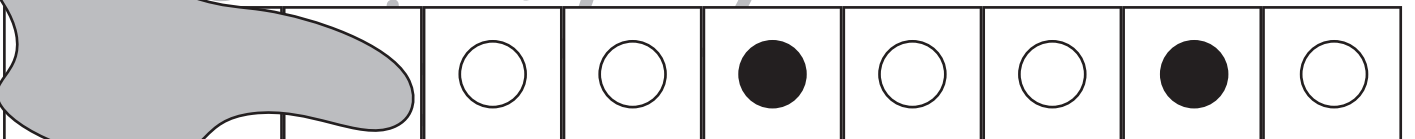
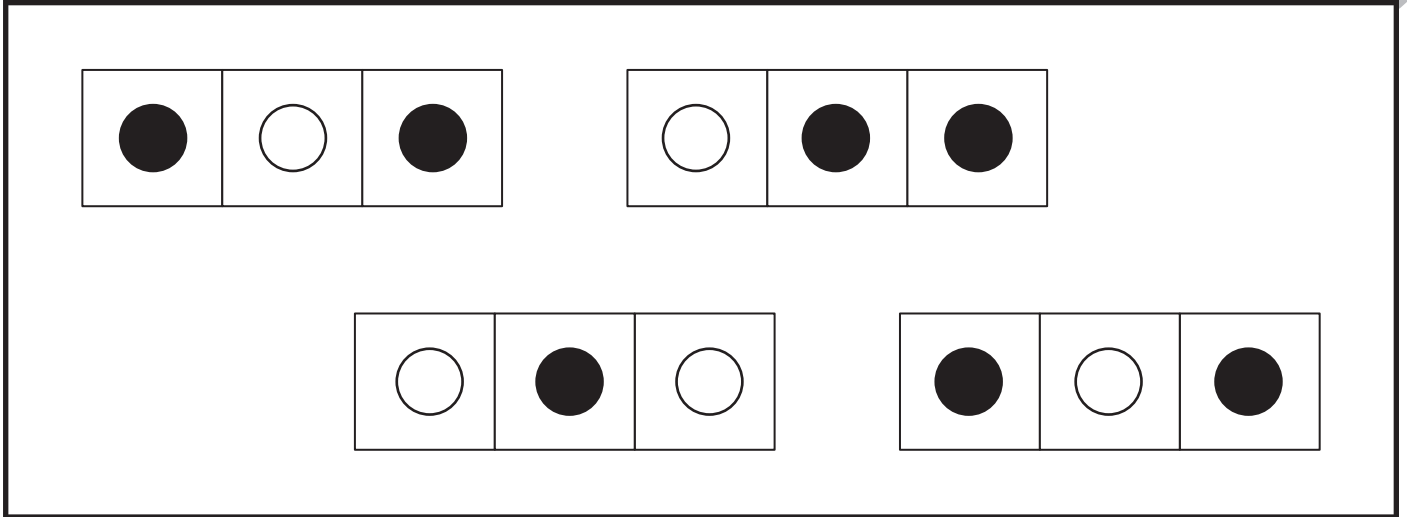


おうちで、やろう。

Study at home. 小学校受験の家庭学習教材

推理：系列完成 25

形がある順番に並んでいます。上からジュースをこぼしてしまい、一部が見えなくなってしまいました。見えなくなってしまったところにあてはまるものを下の太い四角の中から探して、○をつけます。



※1. このプリントは、しながわ・目黒こどもスクールのウェブサイトでダウンロードができます。無断複写・引用はご遠慮ください。
 ※2. このプリントを活用したオンライン授業のスケジュールは、しながわ・目黒こどもスクールのウェブサイトでご確認ください。

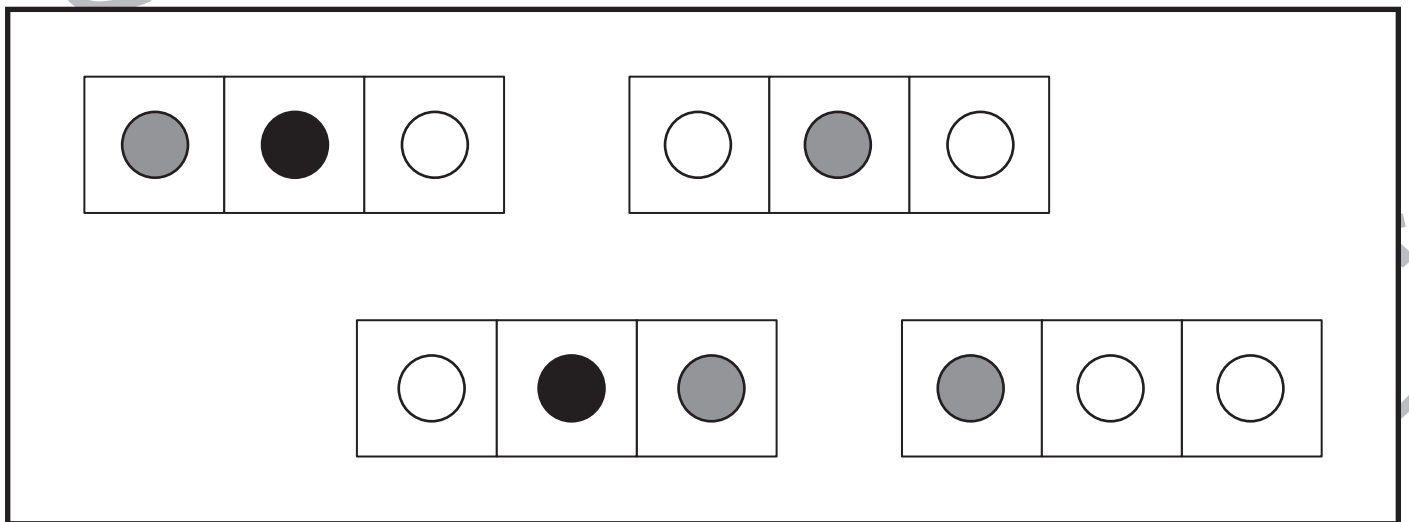
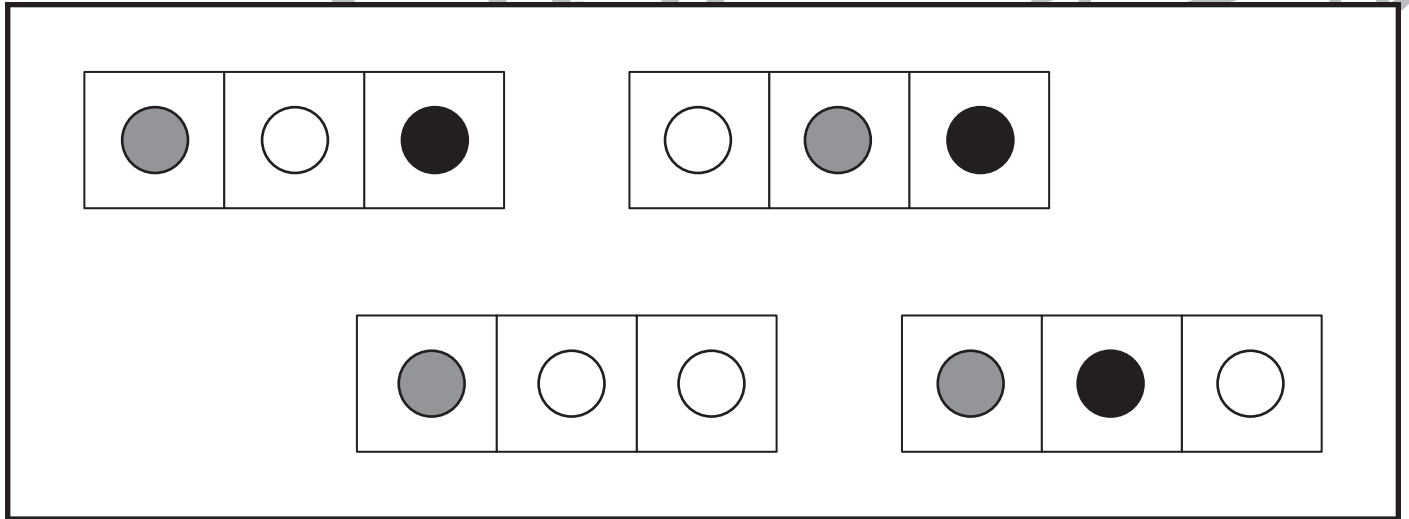
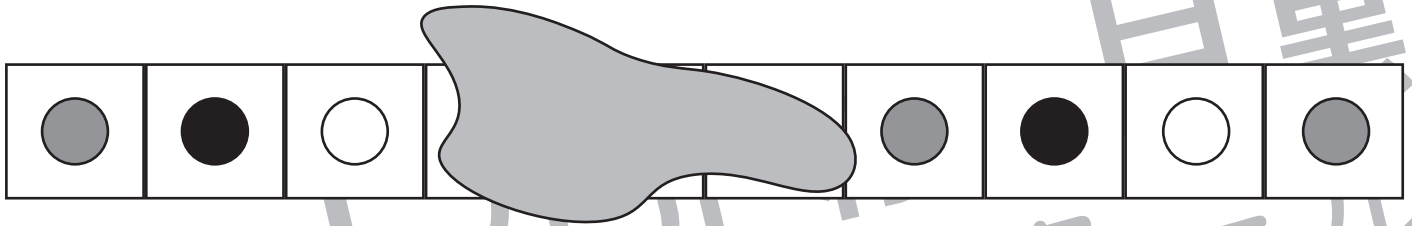


おうちで、やろう。

Study at home. 小学校受験の家庭学習教材

推理：系列完成 26

形がある順番に並んでいます。上からジュースをこぼしてしまい、一部が見えなくなってしまいました。見えなくなってしまったところにあてはまるものを下の太い四角の中から探して、○をつけます。



※1. このプリントは、しながわ・目黒こどもスクールのウェブサイトでダウンロードができます。無断複製・引用はご遠慮ください。
 ※2. このプリントを活用したオンライン授業のスケジュールは、しながわ・目黒こどもスクールのウェブサイトでご確認ください。





おうちで、やろう。

Study at home. 小学校受験の家庭学習教材

運筆：模写 27

左のお手本と同じ顔を右の四角に描きます。大きさや形に気を付けて描きましょう
※クーピー、鉛筆、水性ペンなどいろいろな筆記具で描いてみましょう。
※この問題に解答はありません。











おうちで、やろう。

Study at home. 小学校受験の家庭学習教材

運筆：模写 28

左のお手本と同じ顔を右の四角に描きます。大きさや形に気を付けて描きましょう
※クーピー、鉛筆、水性ペンなどいろいろな筆記具で描いてみましょう。
※この問題に解答はありません。



※1. このプリントは、しながわ・目黒こどもスクールのウェブサイトでダウンロードができます。無断複写・引用はご遠慮ください。
※2. このプリントを活用したオンライン授業のスケジュールは、しながわ・目黒こどもスクールのウェブサイトでご確認ください。