




おうちで、やろう。 年中児版

Study at home. 小学校受験の家庭学習教材

処理能力：抹消1

上の太い四角の中の絵がお手本です。下のマスの中からお手本の絵をみつけて斜め線（/）をつけていきます。お手本を見つけるときは、一番上の段の左からはじめて、右端まで見ます。1段目ができたら2段目の左から右へ進み、次に3段目の左から右と順番に印をつけていきます。



※1. このプリントは、しながわ・目黒こどもスクールのウェブサイトでダウンロードができます。無断複写・引用はご遠慮ください。

※2. このプリントを活用したオンライン授業のスケジュールは、しながわ・目黒こどもスクールのウェブサイトでご確認ください。




おうちで、やろう。 年中児版

Study at home. 小学校受験の家庭学習教材

処理能力：抹消2

上の太い四角の中の絵がお手本です。下のマスの中からお手本の絵をみつけて斜め線（/）をつけていきます。お手本を見つけるときは、一番上の段の左からはじめて、右端まで見ます。1段目ができたら2段目の左から右へ進み、次に3段目の左から右と順番に印をつけていきます。



※1. このプリントは、しながわ・目黒こどもスクールのウェブサイトでダウンロードができます。無断複写・引用はご遠慮ください。

※2. このプリントを活用したオンライン授業のスケジュールは、しながわ・目黒こどもスクールのウェブサイトでご確認ください。




おうちで、やろう。年中児版

Study at home. 小学校受験の家庭学習教材

常識：気持ち1

- ①下の絵の中から、「うれしい顔」だと思うものに○をつけましょう。
②下の絵の中から、「おこっている顔」だと思うものに◎をつけましょう。



※1. このプリントは、しながわ・目黒こどもスクールのウェブサイトでダウンロードができます。無断複写・引用はご遠慮ください。
※2. このプリントを活用したオンライン授業のスケジュールは、しながわ・目黒こどもスクールのウェブサイトでご確認ください。








おうちで、やろう。年中児版

Study at home. 小学校受験の家庭学習教材

常識：気持ち2

- ①下の絵の中から、「かなしそうな顔」だと思うものに△をつけましょう。
②下の絵の中から、「おどろいている顔」だと思うものに口をつけましょう。





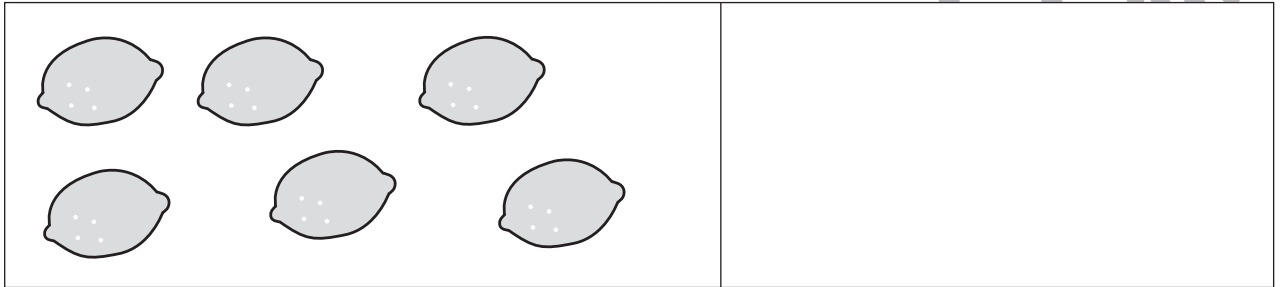
おうちで、やろう。 年中児版

Study at home. 小学校受験の家庭学習教材

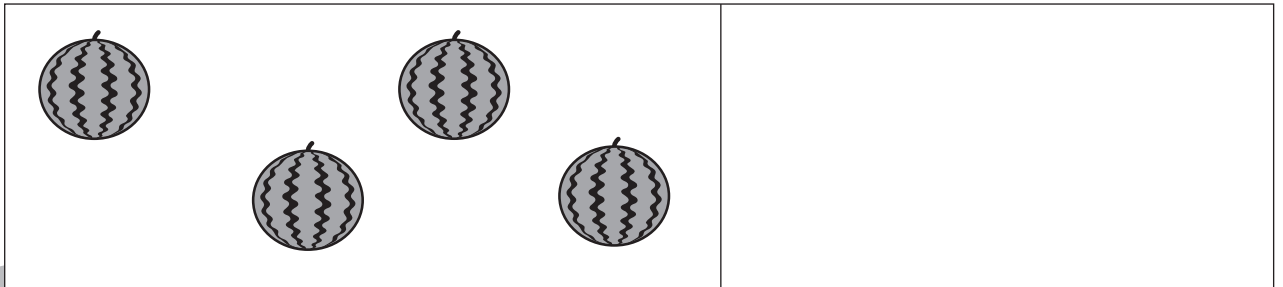

数量：加減3

下の①～④の問題に答えます。



- ①ライオンさんが6つあったレモンを2つ食べました。レモンは残りいくつになりますか。
その数だけ、右の四角の中に○をかきます。




- ②机の上にスイカが4つありました。ゴリラさんが1つ食べました。
スイカは残りいくつになりますか。その数だけ、右の四角の中に○をかきます。



- ③朝、かごの中を覗くとモモが5つ入っていました。イヌさんが3つ食べましたが、ゴリラさんがかごの中にももを2つ入れました。
かごの中のモモは合わせていくつになりますか。その数だけ、右の四角の中に○をかきます。



- ④キツネさんが持っている袋の中にリンゴが6つあります。キツネさんはイヌさんに2つ、ライオンさんに2つあげました。
キツネさんが持っているリンゴは残りいくつになりますか。その数だけ、右の四角の中に○をかきます。





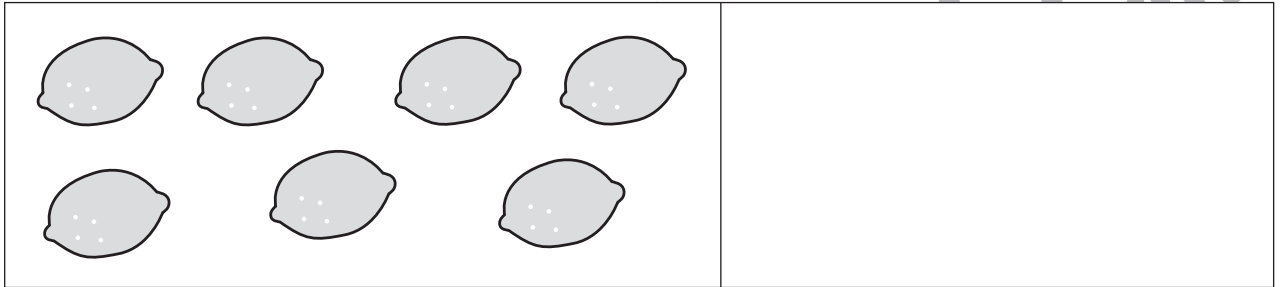
おうちで、やろう。 年中児版

Study at home. 小学校受験の家庭学習教材

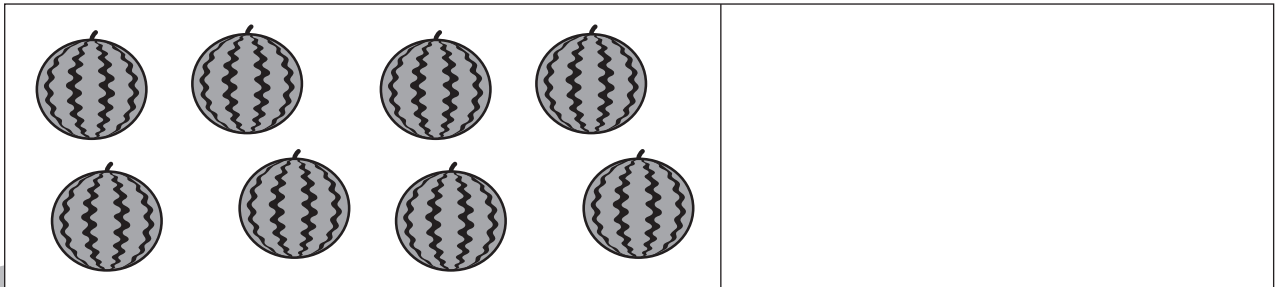

数量：加減4

下の①～④の問題に答えます。

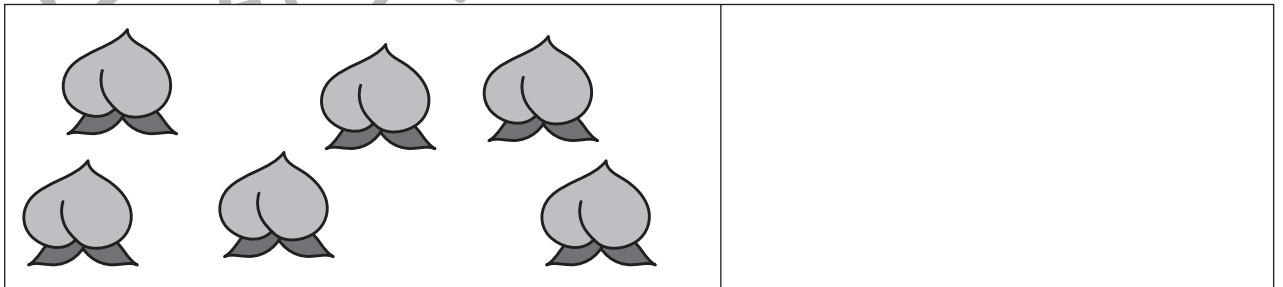

- ①ライオンさんが7つあったレモンを1つ食べようと思いましたが、4つ食べてしまいました。レモンは残りいくつになりますか。その数だけ、右の四角の中に○をかきます。





- ②机の上にスイカが8つありました。ゴリラさんが朝1つ、昼2つ、食べました。スイカは残りいくつになりますか。その数だけ、右の四角の中に○をかきます。



- ③朝、かごの中を覗くとモモが6つ入っていました。イヌさんが3つ、キツネさんが2つ食べました。かごの中のモモは合わせていくつになりますか。その数だけ、右の四角の中に○をかきます。



- ④キツネさんが持っている袋の中にリンゴが9つあります。キツネさんはイヌさんに3つ、ライオンさんに4つあげました。キツネさんが持っているリンゴは残りいくつになりますか。その数だけ、右の四角の中に○をかきます。







おうちで、やろう。年中児版

Study at home. 小学校受験の家庭学習教材

巧緻性：運筆1

下の四角の中の点線を、好きな色のクーピーで、はみ出ないようになぞって絵を完成させましょう。
※この問題に解答はありません。



※1. このプリントは、しながわ・目黒こどもスクールのウェブサイトからダウンロードできます。無断複写・引用はご遠慮ください。
※2. このプリントを活用したオンライン授業のスケジュールは、しながわ・目黒こどもスクールのウェブサイトでご確認ください。






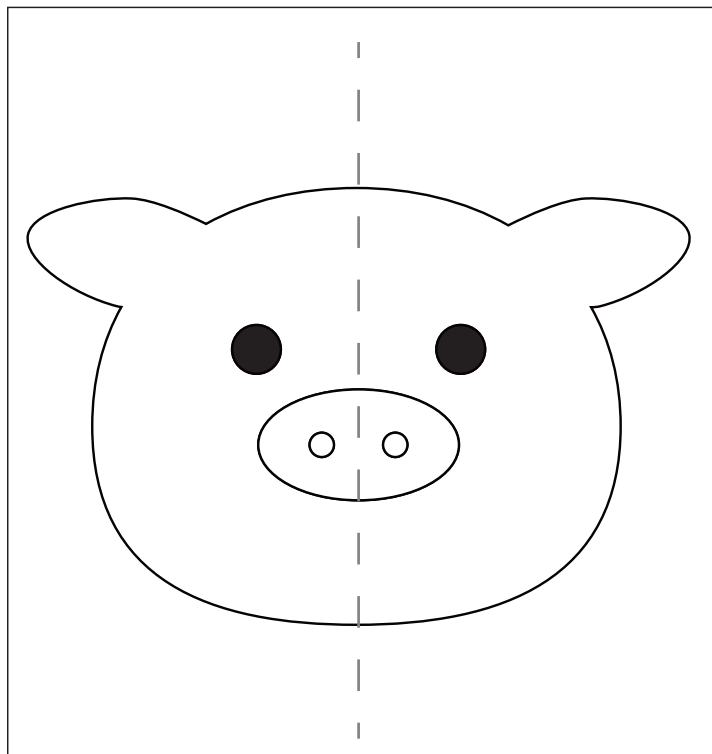


おうちで、やろう。 年中児版

Study at home. 小学校受験の家庭学習教材

運筆：模写1

左の四角のお手本通りに右の四角の絵を完成させましょう。
※この問題に解答はありません。



※1. このプリントは、しながわ・目黒こどもスクールのウェブサイトからダウンロードできます。無断複写・引用はご遠慮ください。
※2. このプリントを活用したオンライン授業のスケジュールは、しながわ・目黒こどもスクールのウェブサイトでご確認ください。

