




おうちで、やろう。 年中児版

Study at home. 小学校受験の家庭学習教材

処理能力：抹消1

上の太い四角の中の絵がお手本です。下のマスの中からお手本の絵をみつけて斜め線（/）をつけていきます。お手本を見つけるときは、一番上の段の左からはじめて、右端まで見ます。1段目ができたら2段目の左から右へ進み、次に3段目の左から右と順番に印をつけていきます。



※1. このプリントは、しながわ・目黒こどもスクールのウェブサイトでダウンロードができます。無断複写・引用はご遠慮ください。

※2. このプリントを活用したオンライン授業のスケジュールは、しながわ・目黒こどもスクールのウェブサイトでご確認ください。




おうちで、やろう。 年中児版

Study at home. 小学校受験の家庭学習教材

処理能力：抹消2

上の太い四角の中の絵がお手本です。下のマスの中からお手本の絵をみつけて斜め線（/）をつけていきます。お手本を見つけるときは、一番上の段の左からはじめて、右端まで見ます。1段目ができたら2段目の左から右へ進み、次に3段目の左から右と順番に印をつけていきます。



※1. このプリントは、しながわ・目黒こどもスクールのウェブサイトでダウンロードができます。無断複写・引用はご遠慮ください。

※2. このプリントを活用したオンライン授業のスケジュールは、しながわ・目黒こどもスクールのウェブサイトでご確認ください。



おうちで、やろう。年中児版

Study at home. 小学校受験の家庭学習教材

常識：気持ち1

- ①下の絵の中から、「うれしい顔」だと思うものに○をつけましょう。
- ②下の絵の中から、「おこっている顔」だと思うものに◎をつけましょう。

正解は下に紹介した限りではありません。
なぜ選んだか理由を尋ねてみてください。



※1. このプリントは、しながわ・目黒こどもスクールのウェブサイトでダウンロードができます。無断複写・引用はご遠慮ください。
 ※2. このプリントを活用したオンライン授業のスケジュールは、しながわ・目黒こどもスクールのウェブサイトでご確認ください。






おうちで、やろう。年中児版

Study at home. 小学校受験の家庭学習教材

常識：気持ち2

- ①下の絵の中から、「かなしそうな顔」だと思うものに△をつけましょう。
- ②下の絵の中から、「おどろいている顔」だと思うものに□をつけましょう。

正解は下に紹介した限りではありません。
なぜ選んだか理由を尋ねてみてください。



※1. このプリントは、しながわ・目黒こどもスクールのウェブサイトでダウンロードができます。無断複写・引用はご遠慮ください。
 ※2. このプリントを活用したオンライン授業のスケジュールは、しながわ・目黒こどもスクールのウェブサイトでご確認ください。



おうちで、やろう。 年中児版

Study at home. 小学校受験の家庭学習教材

数量：加減3

下の①～④の問題に答えます。

- ①ライオンさんが6つあったレモンを2つ食べました。レモンは残りいくつになりますか。
その数だけ、右の四角の中に○をかきます。




	$\bigcirc \times 4$
--	---------------------

- ②机の上にスイカが4つありました。ゴリラさんが1つ食べました。
スイカは残りいくつになりますか。その数だけ、右の四角の中に○をかきます。




	$\bigcirc \times 3$
--	---------------------

- ③朝、かごの中を覗くとモモが5つ入っていました。イヌさんが3つ食べましたが、ゴリラさんがかごの中にモモを2つ入れました。
かごの中のモモは合わせていくつになりますか。その数だけ、右の四角の中に○をかきます。



	$\bigcirc \times 4$
--	---------------------

- ④キツネさんが持っている袋の中にリンゴが6つあります。キツネさんはイヌさんに2つ、ライオンさんに2つあげました。
キツネさんが持っているリンゴは残りいくつになりますか。その数だけ、右の四角の中に○をかきます。



	$\bigcirc \times 2$
--	---------------------




下の①～④の問題に答えます。

- ①ライオンさんが7つあったレモンを1つ食べようと思いましたが、4つ食べてしまいました。レモンは残りいくつになりますか。その数だけ、右の四角の中に○をかきます。




	$\bigcirc \times 3$
--	---------------------

- ②机の上にスイカが8つありました。ゴリラさんが朝1つ、昼2つ、食べました。スイカは残りいくつになりますか。その数だけ、右の四角の中に○をかきます。




	$\bigcirc \times 5$
--	---------------------

- ③朝、かごの中を覗くとモモが6つ入っていました。イヌさんが3つ、キツネさんが2つ食べました。かごの中のモモは合わせていくつになりますか。その数だけ、右の四角の中に○をかきます。



	$\bigcirc \times 1$
--	---------------------

- ④キツネさんが持っている袋の中にリンゴが9つあります。キツネさんはイヌさんに3つ、ライオンさんに4つあげました。キツネさんが持っているリンゴは残りいくつになりますか。その数だけ、右の四角の中に○をかきます。



	$\bigcirc \times 2$
--	---------------------